



おうちで、やろう。

Study at home. 小学校受験の家庭学習教材

指示の聞き取り 14

マンションに動物たちが住んでいます。指示は1度ですべて読み上げます。しっかり聞いて、問題に答えましょう。

- ①一番上の階の右から3番目の部屋に住んでいる動物に緑のクーピーで○をかきます。
- ②4階の左から2番目の部屋に住んでいる動物にオレンジ色のクーピーで○をかきます。
- ③3階の左から4番目の部屋に住んでいる動物に青のクーピーで△をかきます。
- ④一番下の階の右から2番目の部屋に住んでいる動物に桃色のクーピーで△をかきます。
- ⑤4階の右から2番目の部屋に住んでいる動物に茶色のクーピーで△をかきます。



※1. このプリントは、しながわ・目黒こどもスクールのウェブサイトでダウンロードができます。無断複写・引用はご遠慮ください。
 ※2. このプリントを活用したオンライン授業のスケジュールは、しながわ・目黒こどもスクールのウェブサイトでご確認ください。








おうちで、やろう。

Study at home. 小学校受験の家庭学習教材

言語：言葉 3

それぞれの問題の言葉に合う絵を選んで○を付けます。

①「ぴよんぴよん」という言葉に合う絵に○を付けます。 ②「はらはら」という言葉に合う絵に○を付けます。 ③「ゴーンゴーン」という言葉に合う絵に○を付けます。 ④「ふわふわ」という言葉に合う絵に○を付けます。 ⑤「ザーザー」という言葉に合う絵に○を付けます。



※1. このプリントは、しながわ・目黒こどもスクールのウェブサイトでダウンロードができます。無断複写・引用はご遠慮ください。

※2. このプリントを活用したオンライン授業のスケジュールは、しながわ・目黒こどもスクールのウェブサイトでご確認ください。


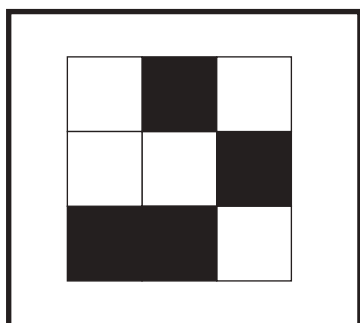
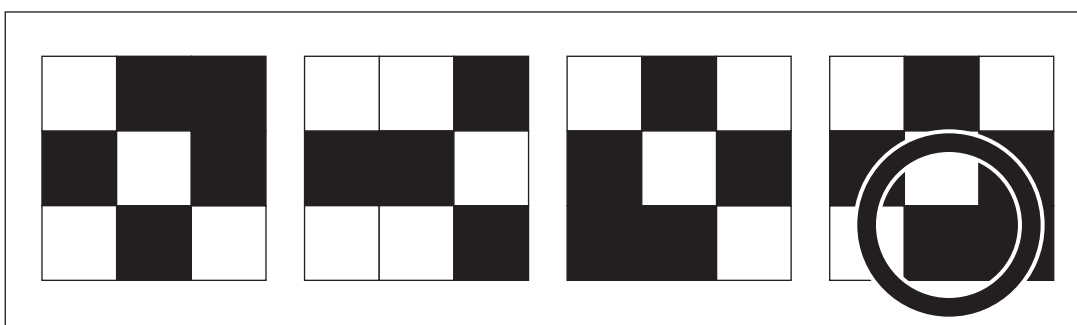

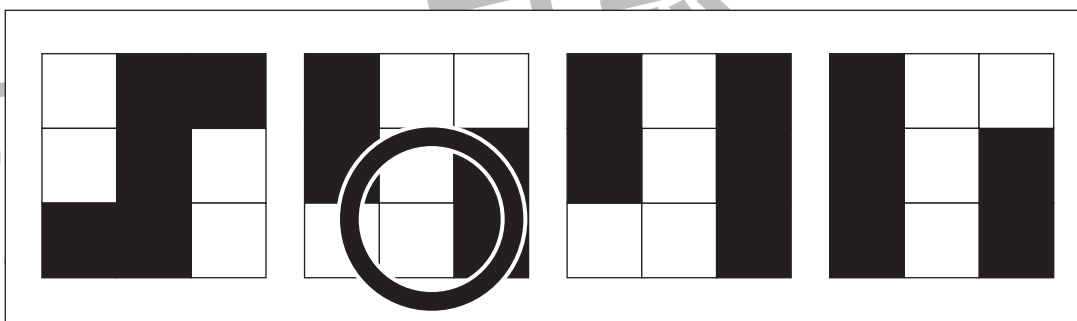
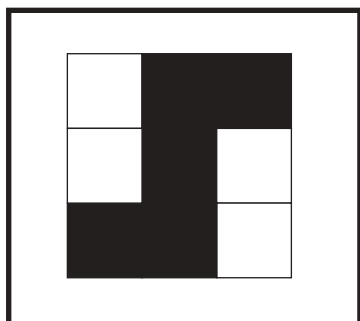
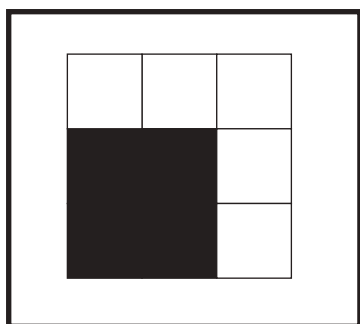
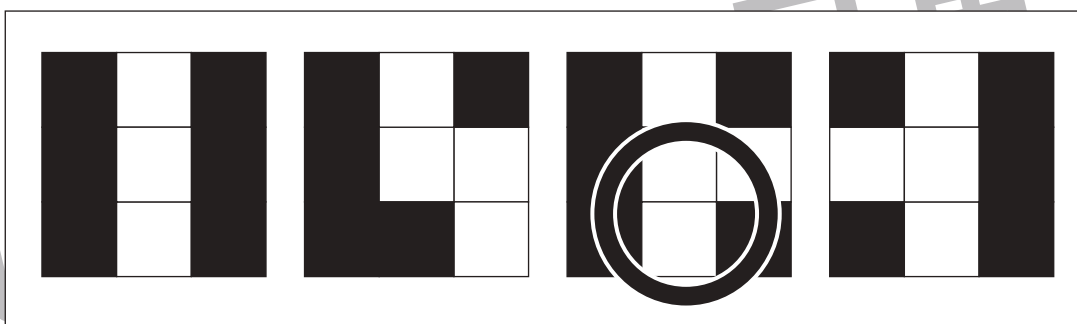



おうちで、やろう。

Study at home. 小学校受験の家庭学習教材

図形：置き換え8

左の四角の中がお手本の形です。このお手本の黒い四角を白い四角にかえます。白い四角は黒い四角にかえます。この約束で色をかえたとき、正しいものを右の4つの中から選んで○をつけます。



※1. このプリントは、しながわ・目黒こどもスクールのウェブサイトでダウンロードができます。無断複写・引用はご遠慮ください。

※2. このプリントを活用したオンライン授業のスケジュールは、しながわ・目黒こどもスクールのウェブサイトでご確認ください。

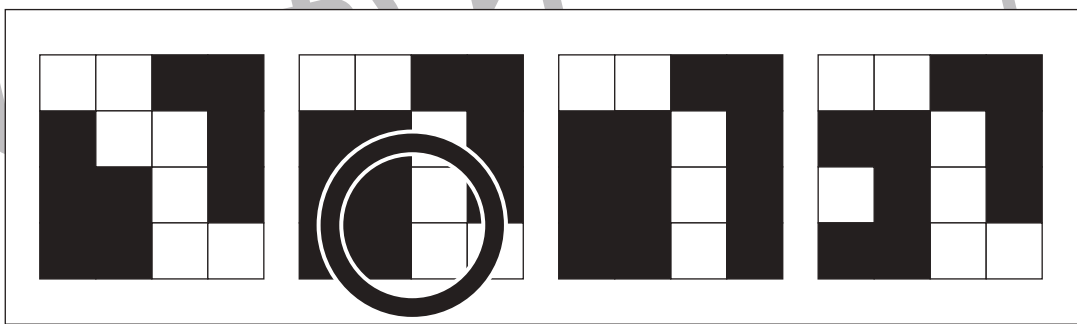
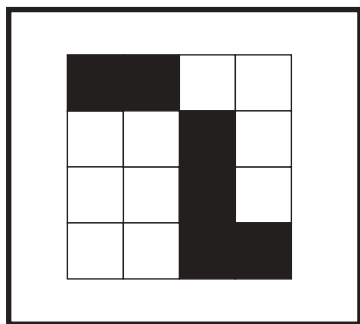
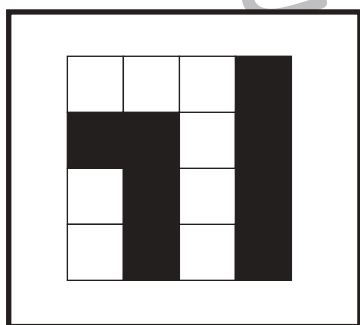
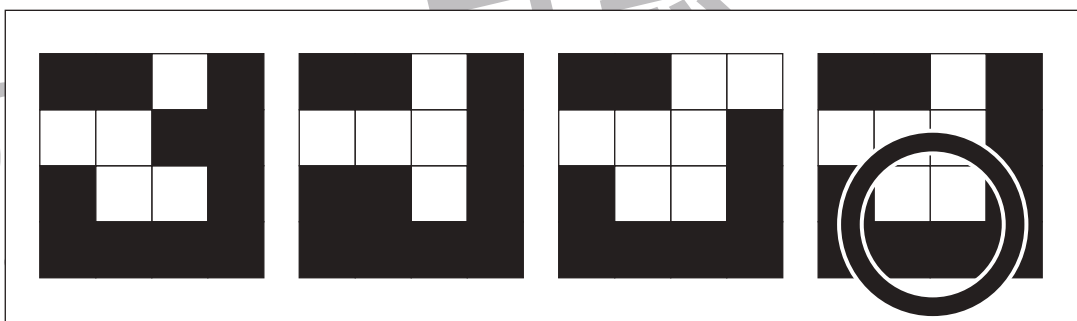
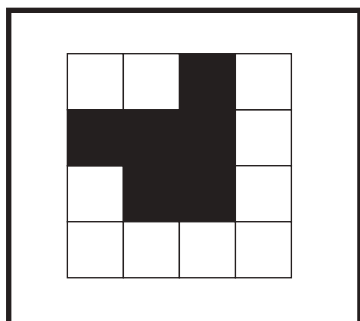
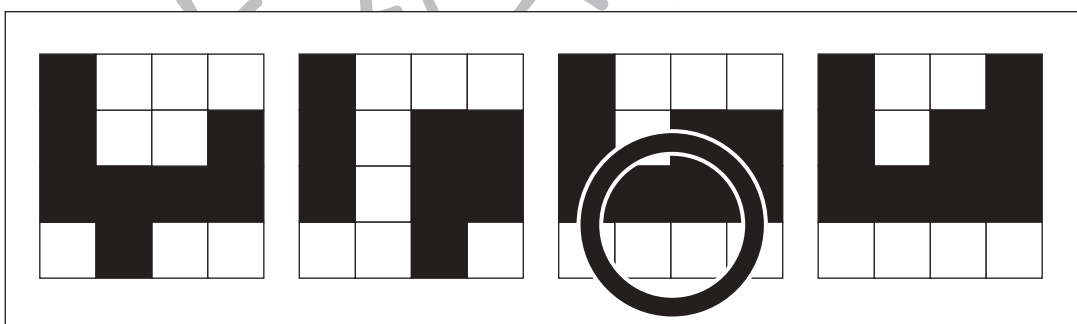


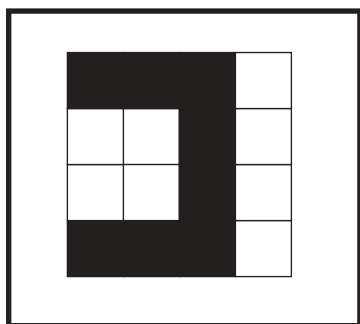


おうちで、やろう。

Study at home. 小学校受験の家庭学習教材

図形：置き換え9

左の四角の中がお手本の形です。このお手本の黒い四角を白い四角にかえます。白い四角は黒い四角にかえます。この約束で色をかえたとき、正しいものを右の4つの中から選んで○をつけます。



※1. このプリントは、しながわ・目黒こどもスクールのウェブサイトからダウンロードできます。無断複写・引用はご遠慮ください。

※2. このプリントを活用したオンライン授業のスケジュールは、しながわ・目黒こどもスクールのウェブサイトでご確認ください。



おうちで、やろう。

Study at home. 小学校受験の家庭学習教材

図形：置き換え 10

左の四角の中がお手本の形です。このお手本の黒い丸を白い丸にかえます。白い丸は黒い丸にかえます。この約束で色をかえたとき、正しいものを右の4つの中から選んで○をつけます。

Row 1: A 5x5 grid of circles. The original pattern is: Row 1: White, White, White, Black, White; Row 2: Black, Black, White, Black, White; Row 3: Black, White, White, Black, White; Row 4: Black, Black, Black, Black, White; Row 5: White, White, White, White, White. To the right are four options, each with a thick black circle around the correct answer (Option 2).

Row 2: A 5x5 grid of circles. The original pattern is: Row 1: White, White, Black, White, Black; Row 2: White, Black, White, Black, White; Row 3: White, White, Black, White, White; Row 4: White, Black, White, Black, White; Row 5: Black, White, White, White, Black. To the right are four options, each with a thick black circle around the correct answer (Option 3).

Row 3: A 5x5 grid of circles. The original pattern is: Row 1: White, Black, Black, White, White; Row 2: Black, White, Black, Black, Black; Row 3: White, White, Black, White, White; Row 4: White, White, Black, White, Black; Row 5: Black, Black, Black, White, White. To the right are four options, each with a thick black circle around the correct answer (Option 1).

Row 4: A 5x5 grid of circles. The original pattern is: Row 1: Black, White, Black, Black, White; Row 2: Black, White, White, Black, White; Row 3: White, Black, Black, White, Black; Row 4: White, White, White, White, White; Row 5: Black, White, Black, White, Black. To the right are four options, each with a thick black circle around the correct answer (Option 3).

Row 5: A 5x5 grid of circles. The original pattern is: Row 1: White, White, Black, White, White; Row 2: Black, Black, White, Black, White; Row 3: White, Black, Black, Black, Black; Row 4: White, White, White, Black, White; Row 5: Black, White, Black, Black, Black. To the right are four options, each with a thick black circle around the correct answer (Option 4).

※1. このプリントは、しながわ・目黒こどもスクールのウェブサイトからダウンロードできます。無断複写・引用はご遠慮ください。

※2. このプリントを活用したオンライン授業のスケジュールは、しながわ・目黒こどもスクールのウェブサイトでご確認ください。



おうちで、やろう。

Study at home. 小学校受験の家庭学習教材

推理：四方観察 15

上の四角の中の積み木を矢印の方向（上）から見ます。このとき、見える積み木はいくつですか。その数だけ下の四角に○をかきます。

↓

○	○	○	○
○			

↓

○	○	○	○
○			

↓

○	○	○	○

↓

○	○	○	○
○	○		

↓

○	○	○	○
○			

↓

○	○	○	○
○			

※1. このプリントは、しながわ・目黒こどもスクールのウェブサイトからダウンロードできます。無断複写・引用はご遠慮ください。

※2. このプリントを活用したオンライン授業のスケジュールは、しながわ・目黒こどもスクールのウェブサイトでご確認ください。



おうちで、やろう。

Study at home. 小学校受験の家庭学習教材

推理：四方観察 16

上の四角の中の積み木を矢印の方向（上）から見ます。このとき、見える積み木はいくつですか。その数だけ下の四角に○をかきます。

↓

○	○	○	○

↓

○	○	○	○

↓

○	○	○	○
○	○		

↓

○	○	○	○
○	○		

↓

○	○	○	○

↓

○	○	○	○
○	○		

※1. このプリントは、しながわ・目黒こどもスクールのウェブサイトでダウンロードができます。無断複写・引用はご遠慮ください。
 ※2. このプリントを活用したオンライン授業のスケジュールは、しながわ・目黒こどもスクールのウェブサイトでご確認ください。



おうちで、やろう。

Study at home. 小学校受験の家庭学習教材

推理：四方観察 17

上の四角の中の積み木を矢印の方向（左）から見ます。このとき、見える積み木はいくつですか。その数だけ下の四角に○をかきます。

→

○ ○ ○

→

○ ○ ○ ○

→

○ ○ ○ ○

→

○ ○ ○ ○

○

→

○ ○ ○ ○

→

○ ○ ○ ○

※1. このプリントは、しながわ・目黒こどもスクールのウェブサイトでダウンロードができます。無断複写・引用はご遠慮ください。
 ※2. このプリントを活用したオンライン授業のスケジュールは、しながわ・目黒こどもスクールのウェブサイトでご確認ください。



おうちで、やろう。

Study at home. 小学校受験の家庭学習教材

推理：四方観察 18

上の四角の中の積み木を矢印の方向（左）から見ます。このとき、見える積み木はいくつですか。その数だけ下の四角に○をかきます。

→

○	○	○	○

→

○	○	○	○
○	○		

→

○	○	○	○
○			

→

○	○	○	○
○	○		

→

○	○	○	○
○	○		

→

○	○	○	○
○			

※1. このプリントは、しながわ・目黒こどもスクールのウェブサイトからダウンロードできます。無断複写・引用はご遠慮ください。
 ※2. このプリントを活用したオンライン授業のスケジュールは、しながわ・目黒こどもスクールのウェブサイトでご確認ください。



おうちで、やろう。

Study at home. 小学校受験の家庭学習教材

処理：多少 4

横に並んだ5つの四角の中には、みかんとぶどうがあります。このうち、みかんの数が一番多いものに○をつけましょう。
この問題はスピードを意識して取り組む練習をしてみましょう。(1分30秒～2分)

4 	5 	3 	4 	3
5 	3 	4 	3 	1
2 	1 	6 	4 	5
6 	9 	9 	9 	10

※1. このプリントは、しながわ・目黒こどもスクールのウェブサイトでダウンロードができます。無断複写・引用はご遠慮ください。

※2. このプリントを活用したオンライン授業のスケジュールは、しながわ・目黒こどもスクールのウェブサイトでご確認ください。