



おうちで、やろう。

Study at home. 小学校受験の家庭学習教材

指示の聞き取り 15

マンションに動物たちが住んでいます。指示は1度ですべて読み上げます。しっかり聞いて、問題に答えましょう。

- ①一番上の階の左端の部屋に住んでいる動物に橙色のクーピーで○をかきます。
- ②2階の右から4番目の部屋に住んでいる動物に黒色のクーピーで○をかきます。
- ③4階の一番右の部屋に住んでいる動物に青のクーピーで△をかきます。
- ④1階の真ん中の部屋に住んでいる動物に緑色のクーピーで△をかきます。
- ⑤2階の右から2番目の部屋に住んでいる動物に鉛筆で◎をかきます。



※1. このプリントは、しながわ・目黒こどもスクールのウェブサイトでダウンロードができます。無断複写・引用はご遠慮ください。
 ※2. このプリントを活用したオンライン授業のスケジュールは、しながわ・目黒こどもスクールのウェブサイトでご確認ください。

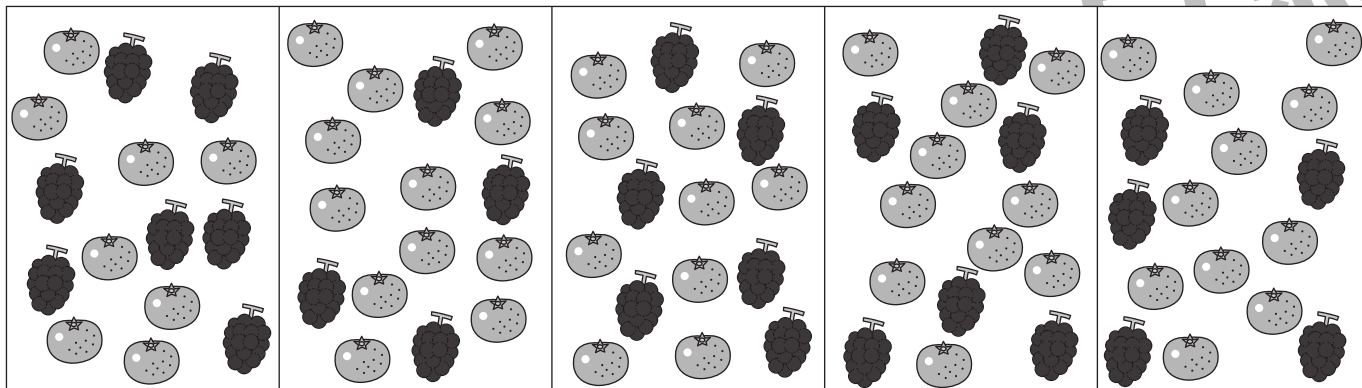
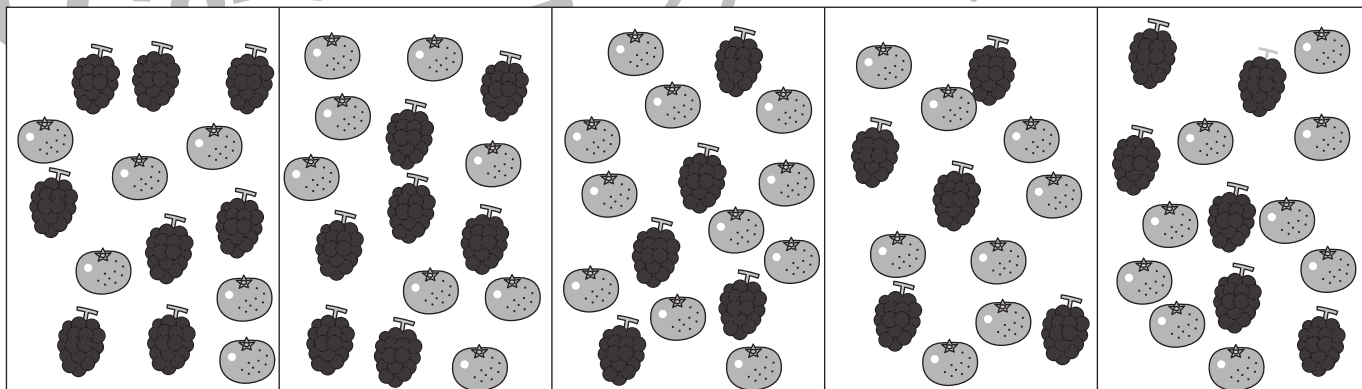
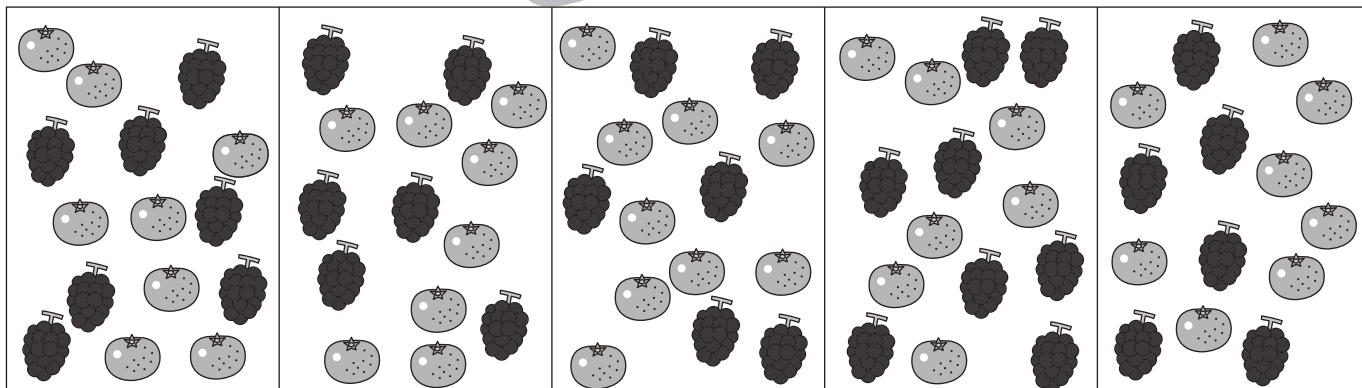
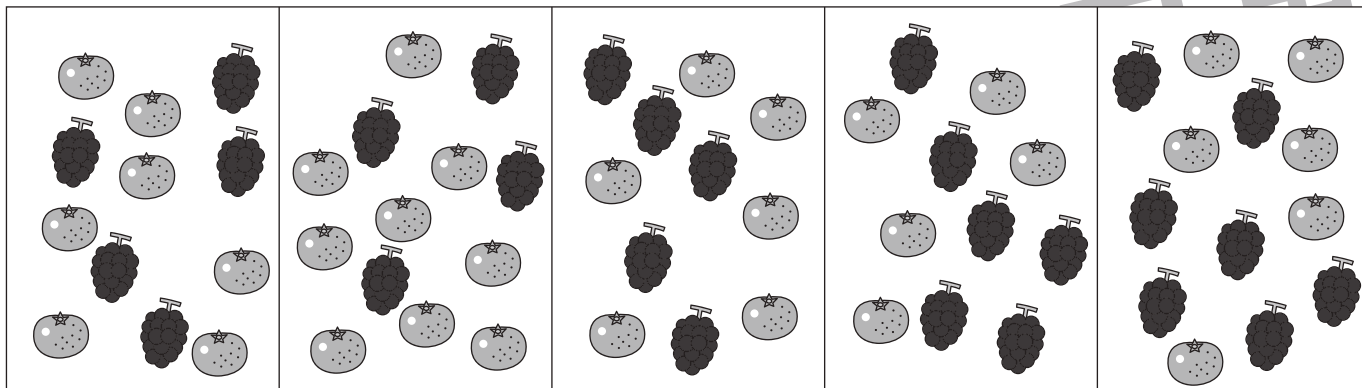


おうちで、やろう。

Study at home. 小学校受験の家庭学習教材

処理：多少5

横に並んだ5つの四角の中には、みかんとぶどうがあります。このうち、みかんの数が一番多いものに○をつけましょう。
この問題はスピードを意識して取り組む練習をしてみましょう。(1分30秒～2分)



※1. このプリントは、しながわ・目黒こどもスクールのウェブサイトでダウンロードができます。無断複写・引用はご遠慮ください。
 ※2. このプリントを活用したオンライン授業のスケジュールは、しながわ・目黒こどもスクールのウェブサイトでご確認ください。

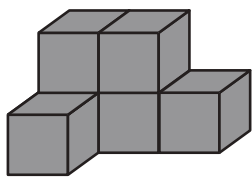



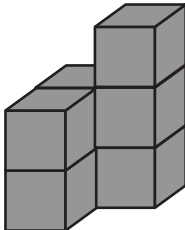

おうちで、やろう。

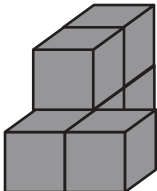

Study at home. 小学校受験の家庭学習教材

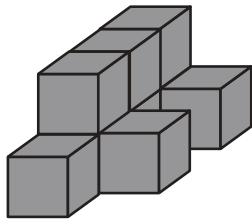

推理：四方観察 19

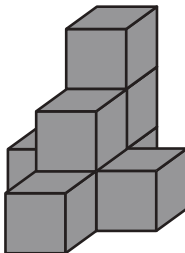

上の四角の中の積み木を矢印の方向（右）から見ます。このとき、見える積み木はいくつですか。その数だけ下の四角に○をかきます。

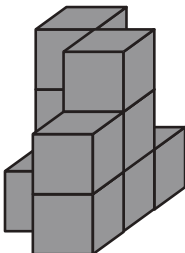




※1. このプリントは、しながわ・目黒こどもスクールのウェブサイトでダウンロードができます。無断複写・引用はご遠慮ください。
 ※2. このプリントを活用したオンライン授業のスケジュールは、しながわ・目黒こどもスクールのウェブサイトでご確認ください。



おうちで、やろう。

Study at home. 小学校受験の家庭学習教材

推理：四方観察 20

上の四角の中の積み木を矢印の方向（右）から見ます。このとき、見える積み木はいくつですか。その数だけ下の四角に○をかきます。

※1. このプリントは、しながわ・目黒こどもスクールのウェブサイトでダウンロードができます。無断複写・引用はご遠慮ください。
 ※2. このプリントを活用したオンライン授業のスケジュールは、しながわ・目黒こどもスクールのウェブサイトでご確認ください。



おうちで、やろう。

Study at home. 小学校受験の家庭学習教材

推理：四方観察 21

上の四角の中の積み木を矢印の方向（反対側）から見ます。このとき、見える積み木はいくつですか。その数だけ下の四角に○をかきます。

※1. このプリントは、しながわ・目黒こどもスクールのウェブサイトでダウンロードができます。無断複写・引用はご遠慮ください。
 ※2. このプリントを活用したオンライン授業のスケジュールは、しながわ・目黒こどもスクールのウェブサイトでご確認ください。



おうちで、やろう。

Study at home. 小学校受験の家庭学習教材

推理：四方観察 22

上の四角の中の積み木を矢印の方向（反対側）から見ます。このとき、見える積み木はいくつですか。その数だけ下の四角に○をかきます。

※1. このプリントは、しながわ・目黒こどもスクールのウェブサイトでダウンロードができます。無断複写・引用はご遠慮ください。
 ※2. このプリントを活用したオンライン授業のスケジュールは、しながわ・目黒こどもスクールのウェブサイトでご確認ください。



おうちで、やろう。

Study at home. 小学校受験の家庭学習教材

数量：サイコロ 10

左の太い四角の中の3つのサイコロの目を合わせると12になります。このとき、？マークのサイコロの目はいくつですか。
右の中から選び○をつけます。

--	--	--	--	--

--	--	--	--	--

--	--	--	--	--

--	--	--	--	--

--	--	--	--	--

※1. このプリントは、しながわ・目黒こどもスクールのウェブサイトからダウンロードできます。無断複写・引用はご遠慮ください。
 ※2. このプリントを活用したオンライン授業のスケジュールは、しながわ・目黒こどもスクールのウェブサイトでご確認ください。







おうちで、やろう。

Study at home. 小学校受験の家庭学習教材

□頭試問4

いろいろな動物の絵を見て下の質問に答えましょう。お子さまが答えたことは保護者の方が記入してください。
※この問題に解答はありません。



①上の中であなたが好きな動物に○をつけます。どうしてその動物を選びましたか。

②上の中で1番見てみたい動物に△をつけます。どうしてその動物を選びましたか。

③上の中で2番目に見てみたい動物に△をつけます。どうしてその動物を選びましたか。

④あなたは一番下の段の左端の動物をお家で飼うことになりました。どんな名前をつけますか。

※1. このプリントは、しながわ・目黒こどもスクールのウェブサイトでダウンロードができます。無断複写・引用はご遠慮ください。
※2. このプリントを活用したオンライン授業のスケジュールは、しながわ・目黒こどもスクールのウェブサイトでご確認ください。







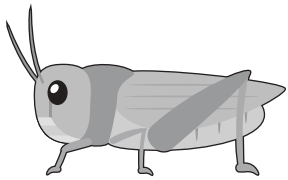

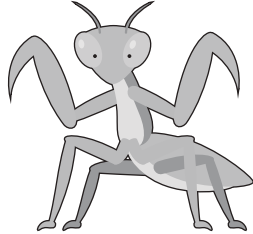


おうちで、やろう。

Study at home. 小学校受験の家庭学習教材

□頭試問5

いろいろな虫の絵を見て下の質問に答えましょう。お子さまが答えたことは保護者の方が記入してください。
※この問題に解答はありません。



①上の中であなたが見たことがある虫はどれですか。またその虫はどこで見ましたか。

②一番下の段の左端の虫は何ですか。また、どんな虫ですか。説明してみましょう。

③一番下の段の右から2番の虫の赤ちゃんはどこで育ちますか。

④この中で家で飼ってみたい虫はなんですか。理由も一緒にお話しましょう。虫が苦手なお友だちはどうして虫が嫌いですか。

※1. このプリントは、しながわ・目黒こどもスクールのウェブサイトでダウンロードができます。無断複写・引用はご遠慮ください。

※2. このプリントを活用したオンライン授業のスケジュールは、しながわ・目黒こどもスクールのウェブサイトでご確認ください。















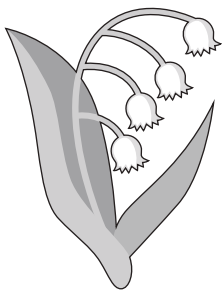
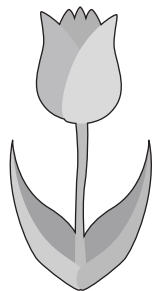
おうちで、やろう。

Study at home. 小学校受験の家庭学習教材

□頭試問6

いろいろな花の絵を見て下の質問に答えましょう。お子さまが答えたことは保護者の方が記入してください。

※この問題に解答はありません。



①上の中であなたが好きな花はどれですか。その理由もお話してください。

②上の中でお家の人にプレゼントしたい花はどれですか。誰に何のお花をあげたいのかお話してください。

③上の中でお友だちにプレゼンしたい花はどれですか。どうしてその花をあげたいのか理由もお話してください。

④この中でお家に飾りたい花はどれですか。3つ選びましょう。また、お家のどこに飾りたいですか。

※1. このプリントは、しながわ・目黒こどもスクールのウェブサイトでダウンロードができます。無断複写・引用はご遠慮ください。

※2. このプリントを活用したオンライン授業のスケジュールは、しながわ・目黒こどもスクールのウェブサイトでご確認ください。

