






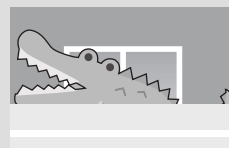










# おうちで、やろう。

Study at home. 小学校受験の家庭学習教材

## 指示の聞き取り 15

マンションに動物たちが住んでいます。指示は1度ですべて読み上げます。しっかり聞いて、問題に答えましょう。

- ①一番上の階の左端の部屋に住んでいる動物に橙色のクーピーで○をかきます。
- ②2階の右から4番目の部屋に住んでいる動物に黒色のクーピーで○をかきます。
- ③4階の一番右の部屋に住んでいる動物に青のクーピーで△をかきます。
- ④1階の真ん中の部屋に住んでいる動物に緑色のクーピーで△をかきます。
- ⑤2階の右から2番目の部屋に住んでいる動物に鉛筆で◎をかきます。



※1. このプリントは、しながわ・目黒こどもスクールのウェブサイトでダウンロードができます。無断複写・引用はご遠慮ください。  
 ※2. このプリントを活用したオンライン授業のスケジュールは、しながわ・目黒こどもスクールのウェブサイトでご確認ください。



# おうちで、やろう。

Study at home. 小学校受験の家庭学習教材

処理：多少5

横に並んだ5つの四角の中には、みかんとぶどうがあります。このうち、みかんの数が一番多いものに○をつけましょう。  
この問題はスピードを意識して取り組む練習をしてみましょう。(1分30秒~2分)

7 	9 	6 	5 	6 
-------	-------	-------	-------	-------

8 	8 	9 	7 	8 
-------	-------	-------	-------	-------

6 	8 	11 	8 	9 
-------	-------	--------	-------	-------

8 	12 	10 	10 	11 
-------	--------	--------	--------	--------

※1. このプリントは、しながわ・目黒こどもスクールのウェブサイトでダウンロードができます。無断複写・引用はご遠慮ください。  
※2. このプリントを活用したオンライン授業のスケジュールは、しながわ・目黒こどもスクールのウェブサイトでご確認ください。



# おうちで、やろう。

Study at home. 小学校受験の家庭学習教材

## 推理：四方観察 19

上の四角の中の積み木を矢印の方向（右）から見ます。このとき、見える積み木はいくつですか。その数だけ下の四角に○をかきます。

○	○	○	

○	○	○	○
○			

○	○	○	○
○			

○	○	○	○
○	○	○	

○	○	○	○
○	○		

○	○	○	○
○	○	○	○

※1. このプリントは、しながわ・目黒こどもスクールのウェブサイトでダウンロードができます。無断複写・引用はご遠慮ください。  
 ※2. このプリントを活用したオンライン授業のスケジュールは、しながわ・目黒こどもスクールのウェブサイトでご確認ください。



# おうちで、やろう。

Study at home. 小学校受験の家庭学習教材

## 推理：四方観察 20

上の四角の中の積み木を矢印の方向（右）から見ます。このとき、見える積み木はいくつですか。その数だけ下の四角に○をかきます。

○	○	○	○

○	○	○	○
○			

○	○	○	○
○	○		

○	○	○	○
○	○	○	○

○	○	○	○
○	○	○	

○	○	○	○
○	○	○	

※1. このプリントは、しながわ・目黒こどもスクールのウェブサイトでダウンロードができます。無断複写・引用はご遠慮ください。

※2. このプリントを活用したオンライン授業のスケジュールは、しながわ・目黒こどもスクールのウェブサイトでご確認ください。



# おうちで、やろう。

Study at home. 小学校受験の家庭学習教材

## 推理：四方観察 21

上の四角の中の積み木を矢印の方向（反対側）から見ます。このとき、見える積み木はいくつですか。その数だけ下の四角に○をかきます。

○	○	○	○
○	○		

○	○	○	○
○	○		

○	○	○	○
○	○	○	

○	○	○	○
○	○	○	○

○	○	○	○
○	○	○	

○	○	○	○
○	○	○	○

※1. このプリントは、しながわ・目黒こどもスクールのウェブサイトでダウンロードができます。無断複写・引用はご遠慮ください。

※2. このプリントを活用したオンライン授業のスケジュールは、しながわ・目黒こどもスクールのウェブサイトでご確認ください。



# おうちで、やろう。

Study at home. 小学校受験の家庭学習教材

## 推理：四方観察 22

上の四角の中の積み木を矢印の方向(反対側)から見ます。このとき、見える積み木はいくつですか。その数だけ下の四角に○をかきます。

○	○	○	○
○	○	○	○

○	○	○	○
○	○	○	

○	○	○	○
○	○	○	○

○	○	○	○
○	○	○	○

○	○	○	○
○	○	○	○

○	○	○	○
○	○	○	

※1. このプリントは、しながわ・目黒こどもスクールのウェブサイトでダウンロードができます。無断複写・引用はご遠慮ください。

※2. このプリントを活用したオンライン授業のスケジュールは、しながわ・目黒こどもスクールのウェブサイトでご確認ください。



# おうちで、やろう。

Study at home. 小学校受験の家庭学習教材

数量：サイコロ 10

左の太い四角の中の3つのサイコロの目を合わせると 12 になります。このとき、？マークのサイコロの目はいくつですか。  
右の中から選び○をつけます。

--	--	--	--	--

--	--	--	--	--

--	--	--	--	--

--	--	--	--	--

--	--	--	--	--

※1. このプリントは、しながわ・目黒こどもスクールのウェブサイトからダウンロードできます。無断複写・引用はご遠慮ください。  
 ※2. このプリントを活用したオンライン授業のスケジュールは、しながわ・目黒こどもスクールのウェブサイトでご確認ください。