



おうちで、やろう。

Study at home. 小学校受験の家庭学習教材

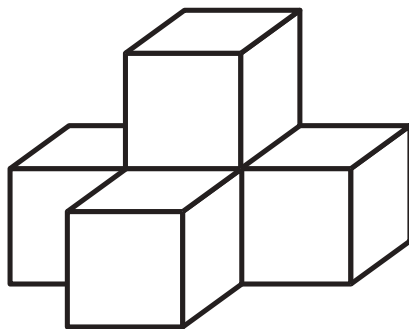
記憶：絵の記憶7 記憶用紙

別紙『記憶 - 絵の記憶7』を行う際に使用します。記憶用紙は点線で折って(切って)、①、②、③の問題の際にそれぞれ20秒間ずつ記憶させてください。記憶する際は問題用紙は裏返しにします。記憶後①、②、③それぞれの問題に答えましょう。

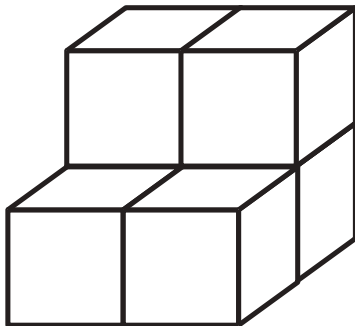
①: 覚えた積み木の数だけ○をかきます。 ②: 覚えた積み木と同じ数でできる積み木に○をつけます。 ③: 覚えた積み木の数を合わせた数だけ○をかきます。

※2022年4月7日(木)のオンライン授業では実施中に記憶する絵を画面で表示します。

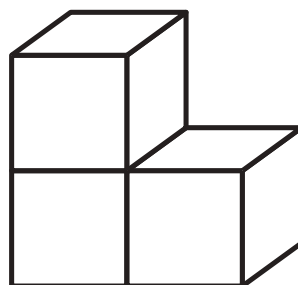
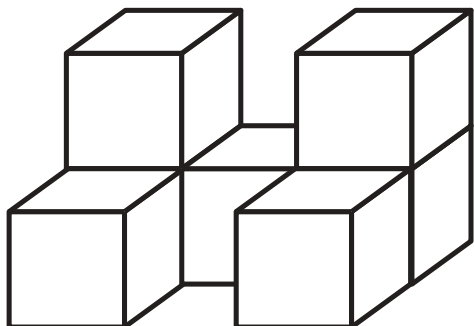
①



②



③



※1. このプリントは、しながわ・目黒こどもスクールのウェブサイトダウンロードができます。無断複写・引用はご遠慮ください。

※2. このプリントを活用したオンライン授業のスケジュールは、しながわ・目黒こどもスクールのウェブサイトでご確認ください。





おうちで、やろう。

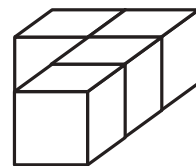
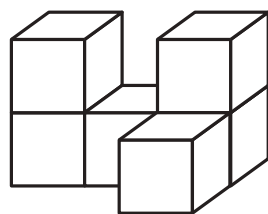
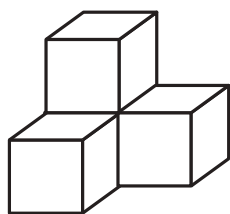
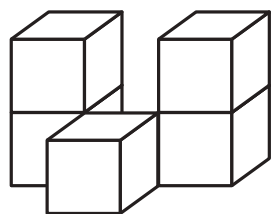
Study at home. 小学校受験の家庭学習教材

記憶：絵の記憶⑦

別紙『記憶 - 絵の記憶⑦記憶用紙』を使用します。記憶用紙の絵を見た後に①、②、③の問題に取り組みましょう。

①

②



③

※1. このプリントは、しながわ・目黒こどもスクールのウェブサイトでダウンロードができます。無断複写・引用はご遠慮ください。

※2. このプリントを活用したオンライン授業のスケジュールは、しながわ・目黒こどもスクールのウェブサイトでご確認ください。





おうちで、よろう。

Study at home. 小学校受験の家庭学習教材

図形：構成 17

左の2つの形を、右の四角の中にピッタリいれます。どのように入れればよいか考えて、右の四角の点線をなぞります。

| | |
|--|--|
| | |
|--|--|

| | |
|--|--|
| | |
|--|--|

| | |
|--|--|
| | |
|--|--|

| | |
|--|--|
| | |
|--|--|

※1. このプリントは、しながわ・目黒こどもスクールのウェブサイトでダウンロードができます。無断複写・引用はご遠慮ください。

※2. このプリントを活用したオンライン授業のスケジュールは、しながわ・目黒こどもスクールのウェブサイトでご確認ください。



おうちで、やろう。

Study at home. 小学校受験の家庭学習教材

図形：構成 18

左の2つの形を、右の四角の中にピッタリいれます。どのように入れればよいか考えて、右の四角の点線をなぞります。

| | |
|--|--|
| | |
|--|--|

| | |
|--|--|
| | |
|--|--|

| | |
|--|--|
| | |
|--|--|

| | |
|--|--|
| | |
|--|--|

※1. このプリントは、しながわ・目黒こどもスクールのウェブサイトでダウンロードができます。無断複写・引用はご遠慮ください。

※2. このプリントを活用したオンライン授業のスケジュールは、しながわ・目黒こどもスクールのウェブサイトでご確認ください。



おうちで、やろう。

Study at home. 小学校受験の家庭学習教材

図形：構成 19

左の2つの形を、右の四角の中にピッタリいれます。どのように入れればよいか考えて、右の四角の点線をなぞります。

| | |
|--|--|
| | |
|--|--|

| | |
|--|--|
| | |
|--|--|

| | |
|--|--|
| | |
|--|--|

| | |
|--|--|
| | |
|--|--|

※1. このプリントは、しながわ・目黒こどもスクールのウェブサイトでダウンロードができます。無断複写・引用はご遠慮ください。

※2. このプリントを活用したオンライン授業のスケジュールは、しながわ・目黒こどもスクールのウェブサイトでご確認ください。



おうちで、やろう。

Study at home. 小学校受験の家庭学習教材

推理：じゃんけん 12

サルとウサギがじゃんけんをして勝った方が上の太い四角の中の約束通りに階段を上ることができます。じゃんけんで勝ったときだけ、上の約束の手の右にある○の数だけ階段を上ります。2匹がじゃんけんをした様子は階段の上の四角の中にあります。左から順番に見ていったとき、ウサギが着いた場所には○、サルが着いた場所には△をかきます。

| | | |
|---|-----|-------|
| ○ | ○ ○ | ○ ○ ○ |
|---|-----|-------|

| | | | | | |
|--|--|--|--|--|--|
| | | | | | |
| | | | | | |

| | | | | | |
|--|--|--|--|--|--|
| | | | | | |
| | | | | | |

| | | | | | |
|--|--|--|--|--|--|
| | | | | | |
| | | | | | |

| | | | | | |
|--|--|--|--|--|--|
| | | | | | |
| | | | | | |

※1. このプリントは、しながわ・目黒こどもスクールのウェブサイトでダウンロードができます。無断複写・引用はご遠慮ください。

※2. このプリントを活用したオンライン授業のスケジュールは、しながわ・目黒こどもスクールのウェブサイトでご確認ください。



おうちで、やろう。

Study at home. 小学校受験の家庭学習教材

推理：じゃんけん 13

サルとウサギがじゃんけんをして勝った方が上の太い四角の中の約束通りに階段を上ることができます。じゃんけんで勝ったときだけ、上の約束の手の右にある○の数だけ階段を上ります。2匹がじゃんけんをした様子は階段の上の四角の中にあります。左から順番に見ていったとき、ウサギが着いた場所には○、サルが着いた場所には△をかきます。

| | | |
|-----|-------|---|
| ○ ○ | ○ ○ ○ | ○ |
|-----|-------|---|

| | | | | | |
|--|--|--|--|--|--|
| | | | | | |
| | | | | | |

| | | | | | |
|--|--|--|--|--|--|
| | | | | | |
| | | | | | |

| | | | | | |
|--|--|--|--|--|--|
| | | | | | |
| | | | | | |

| | | | | | |
|--|--|--|--|--|--|
| | | | | | |
| | | | | | |

※1. このプリントは、しながわ・目黒こどもスクールのウェブサイトでダウンロードができます。無断複写・引用はご遠慮ください。
 ※2. このプリントを活用したオンライン授業のスケジュールは、しながわ・目黒こどもスクールのウェブサイトでご確認ください。



おうちで、やろう。

Study at home. 小学校受験の家庭学習教材

推理：じゃんけん 14

サルとウサギがじゃんけんをして勝った方が上の太い四角の中の約束通りに階段を上ることができます。じゃんけんで勝ったときだけ、上の約束の手の右にある○の数だけ階段を上ります。2匹がじゃんけんをした様子は階段の上の四角の中にあります。左から順番に見ていったとき、ウサギが着いた場所には○、サルが着いた場所には△をかきます。

| | | | | | | | | |
|--|---|---|---|--|---|---|--|---|
| | ○ | ○ | ○ | | ○ | ○ | | ○ |
|--|---|---|---|--|---|---|--|---|

| | | | | | |
|--|--|--|--|--|--|
| | | | | | |
| | | | | | |

| | | | | | |
|--|--|--|--|--|--|
| | | | | | |
| | | | | | |

| | | | | | |
|--|--|--|--|--|--|
| | | | | | |
| | | | | | |

| | | | | | |
|--|--|--|--|--|--|
| | | | | | |
| | | | | | |

※1. このプリントは、しながわ・目黒こどもスクールのウェブサイトでダウンロードができます。無断複写・引用はご遠慮ください。

※2. このプリントを活用したオンライン授業のスケジュールは、しながわ・目黒こどもスクールのウェブサイトでご確認ください。




おうちで、やろう。

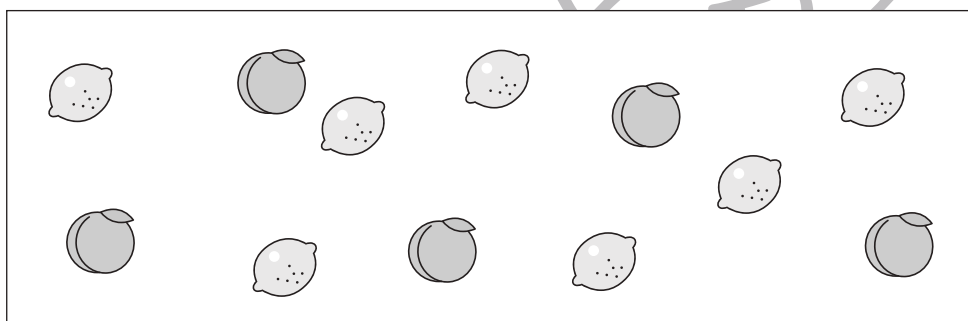
Study at home. 小学校受験の家庭学習教材

数量：同数 14

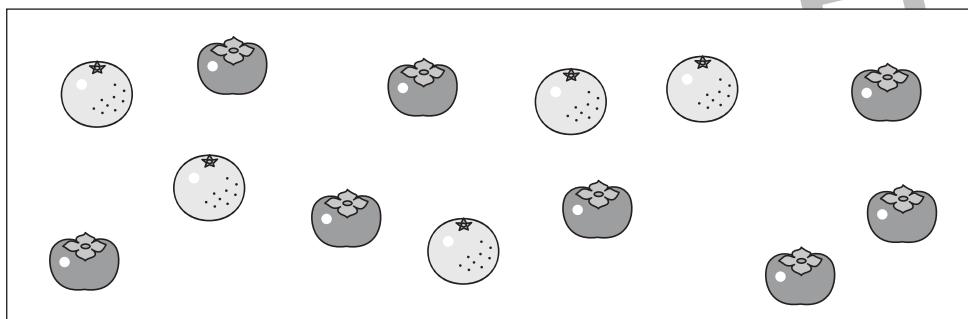
左の四角の中には 2 種類の果物がありますが、数が違います。この 2 つの果物の数を同じにするにはどちらの果物を増やせばよいですか。右の四角の増やす果物の四角にその数だけ〇をかきます。




| |
|--|
| |
| |




| |
|--|
| |
| |



| |
|--|
| |
| |



| |
|--|
| |
| |



| |
|--|
| |
| |

※ 1. このプリントは、しながわ・目黒こどもスクールのウェブサイトでダウンロードができます。無断複写・引用はご遠慮ください。

※ 2. このプリントを活用したオンライン授業のスケジュールは、しながわ・目黒こどもスクールのウェブサイトでご確認ください。

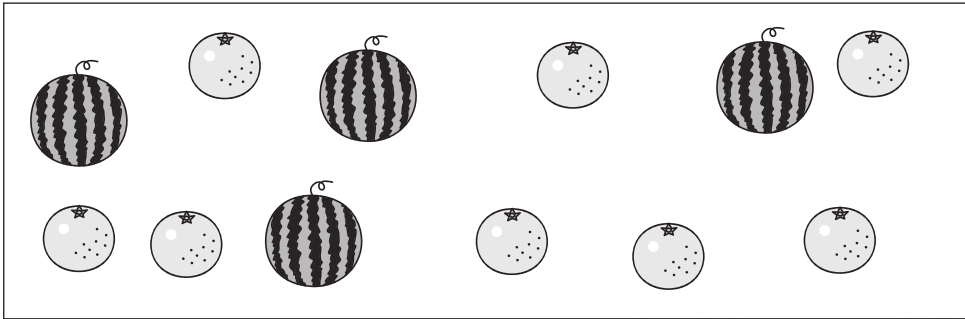


おうちで、やろう。

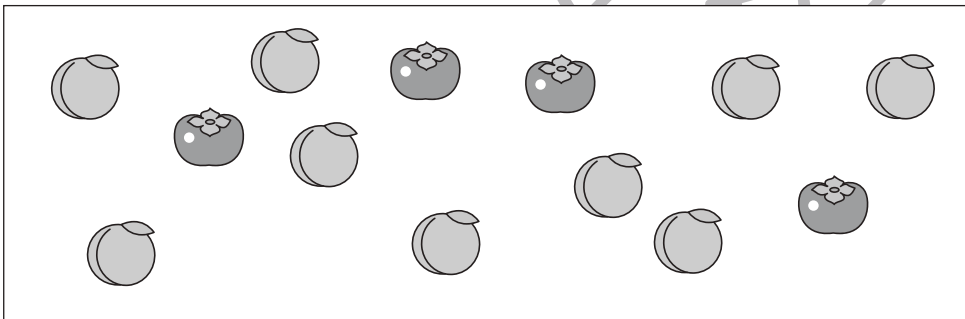
Study at home. 小学校受験の家庭学習教材

数量：同数 15

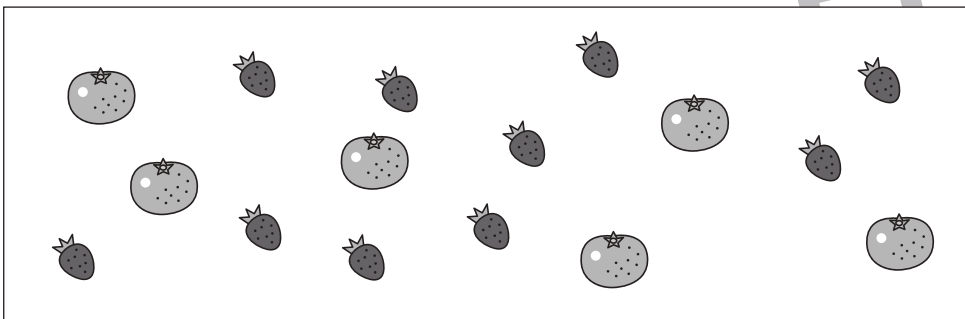
左の四角の中には2種類の果物がありますが、数が違います。この2つの果物の数を同じにするにはどちらの果物を増やせばよいですか。右の四角の増やす果物の四角にその数だけ〇をかきます。




| |
|--|
| |
| |



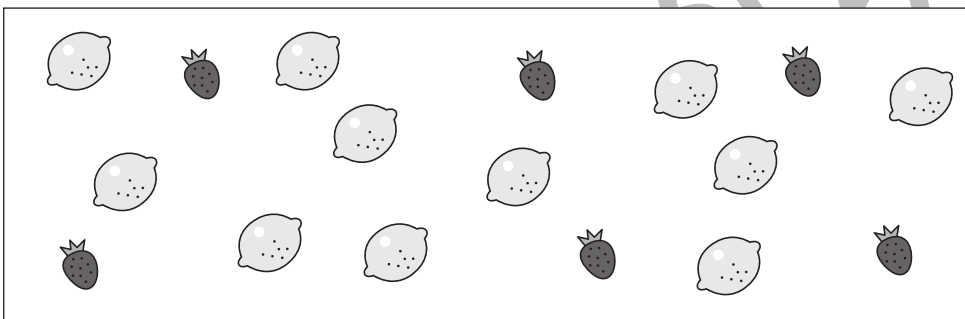
| |
|--|
| |
| |



| |
|--|
| |
| |



| |
|--|
| |
| |



| |
|--|
| |
| |

※1. このプリントは、しながわ・目黒こどもスクールのウェブサイトでダウンロードができます。無断複写・引用はご遠慮ください。
※2. このプリントを活用したオンライン授業のスケジュールは、しながわ・目黒こどもスクールのウェブサイトでご確認ください。




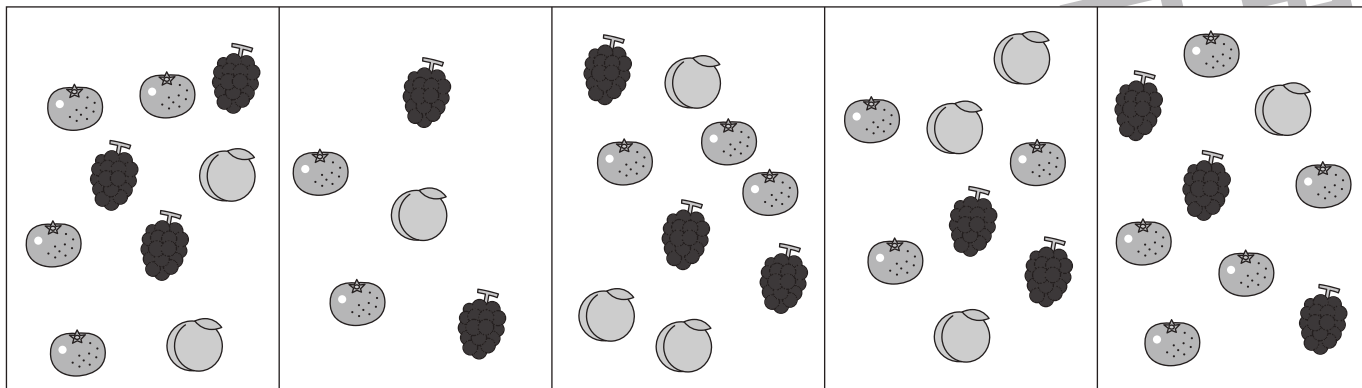


おうちで、やろう。

Study at home. 小学校受験の家庭学習教材

処理：多少6

横に並んだ5つの四角の中には、みかんとぶどうともがあります。このうち、みかんの数が一番多いものに○をつけましょう。
この問題はスピードを意識して取り組む練習をしてみましょう。(1分30秒～2分)



※1. このプリントは、しながわ・目黒こどもスクールのウェブサイトでダウンロードができます。無断複写・引用はご遠慮ください。

※2. このプリントを活用したオンライン授業のスケジュールは、しながわ・目黒こどもスクールのウェブサイトでご確認ください。