



※別紙問題プリントを用意し、1問ずつとりくみましょう。

11-①

クマくんはクッキーを8枚持っていました。お友だちのキツネくんに3枚あげました。残ったクッキーは何枚ですか。その数だけ○をかきます。

11-②

ウサギさんはドーナツを5個持っていました。お友だちのクマくんに1個、キツネくんに2個あげました。残ったドーナツの数だけ○をかきます。

11-③

イヌくんはアメを4個持っていました。お母さんが3個くれました。イヌくんが持っているアメの数だけ○をかきます。

11-④

パンダくんはチョコレートを3枚持っていました。お父さんが3枚、おばあちゃんが1枚くれました。パンダくんが持っているチョコレートの枚数だけ○をかきます。

12-①

あきこさんはクッキーを10枚作りました。お友だちのともきくんに5枚あげましたが、みきさんが3枚くれました。あきこさんが持っているクッキーは何枚になりましたか。その数だけ○をかきます。

12-②

幼稚園の園庭でお友だちが8人遊んでいます。あとから2人やってきましたが、3人がお部屋の中に戻ってしまいました。今、園庭で遊んでいる人は何人ですか。その数だけ○をかきます。

12-③

白鳥が池で7羽泳いでいます。しばらくすると3羽どこかへ飛んで行ってしまいました。またしばらくすると3羽池に戻ってきました。今、池で泳いでいる白鳥は何羽ですか。その数だけ○をかきます。

12-④

花壇のチューリップが5本咲きました。次の日になると新しいチューリップが4本咲きました。でも、昨日咲いていたチューリップが2本枯れてしまいました。今、咲いているチューリップは何本ですか。その数だけ○をかきます。

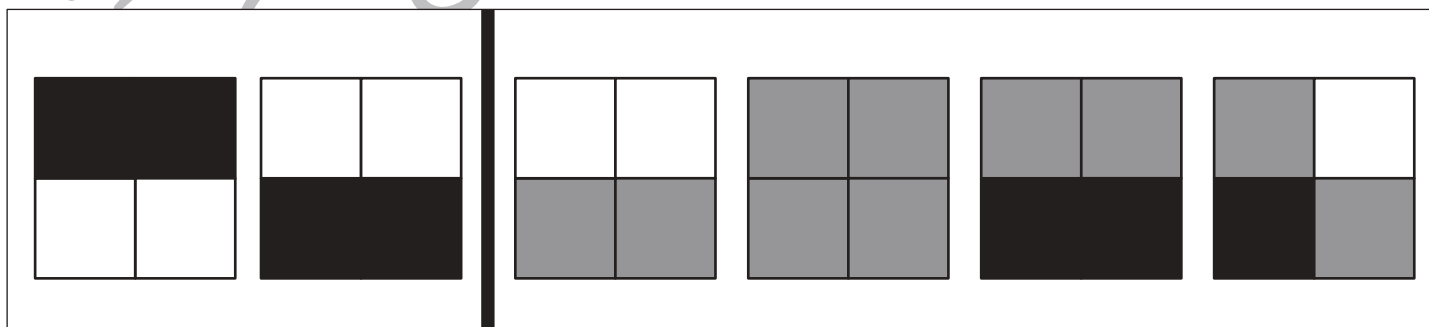
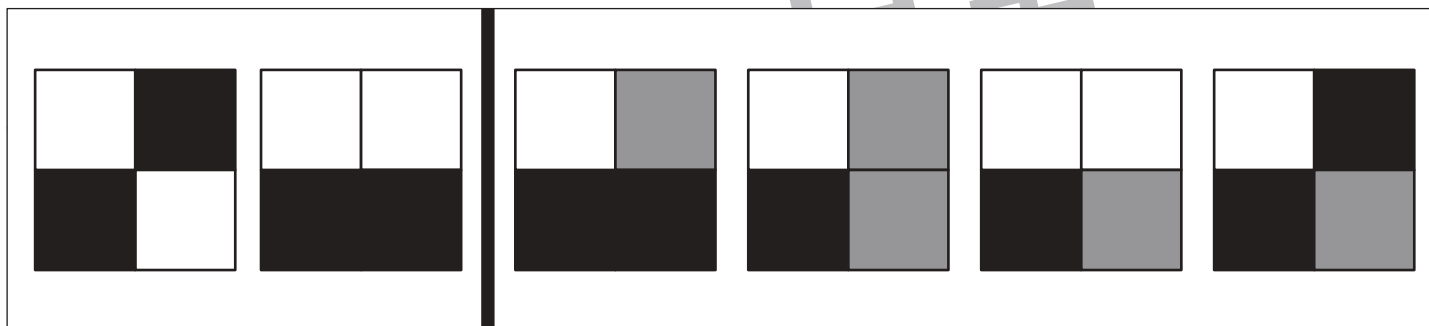
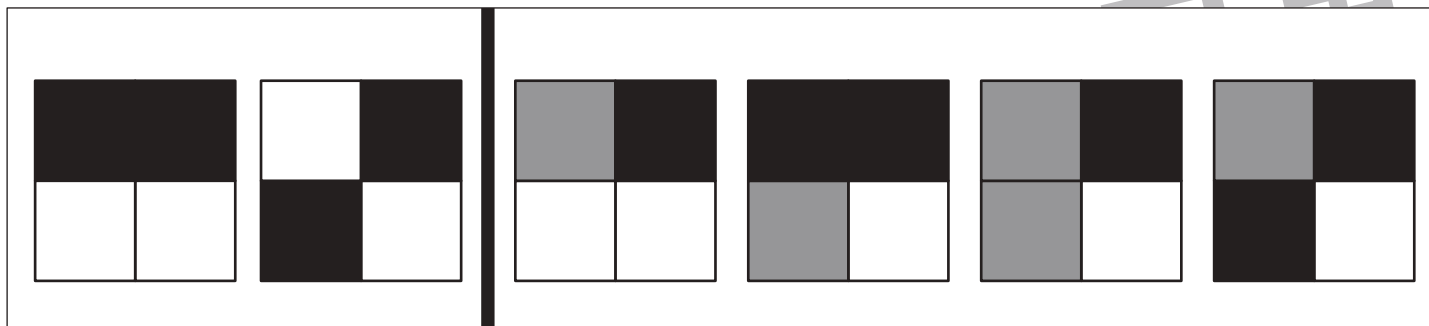


おうちで、やろう。

Study at home. 小学校受験の家庭学習教材

図形：重ね 24

左の2枚の四角を重ねます。白と白が重なると白になり、黒と黒が重なると黒になります。ただし、白と黒が重なると灰色になります。この約束で正しいものを右の4つの中から1つつけて○をつけます。



※1. このプリントは、しながわ・目黒こどもスクールのウェブサイトでダウンロードができます。無断複写・引用はご遠慮ください。
 ※2. このプリントを活用したオンライン授業のスケジュールは、しながわ・目黒こどもスクールのウェブサイトでご確認ください。

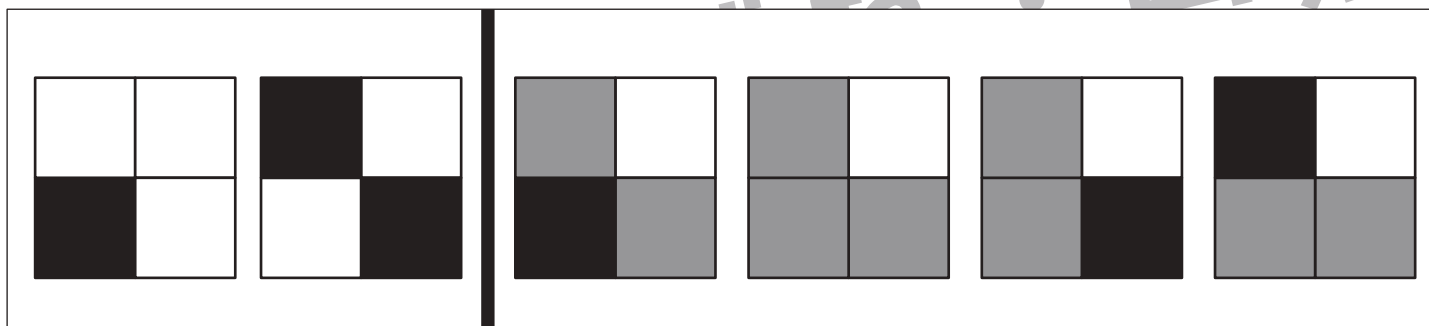
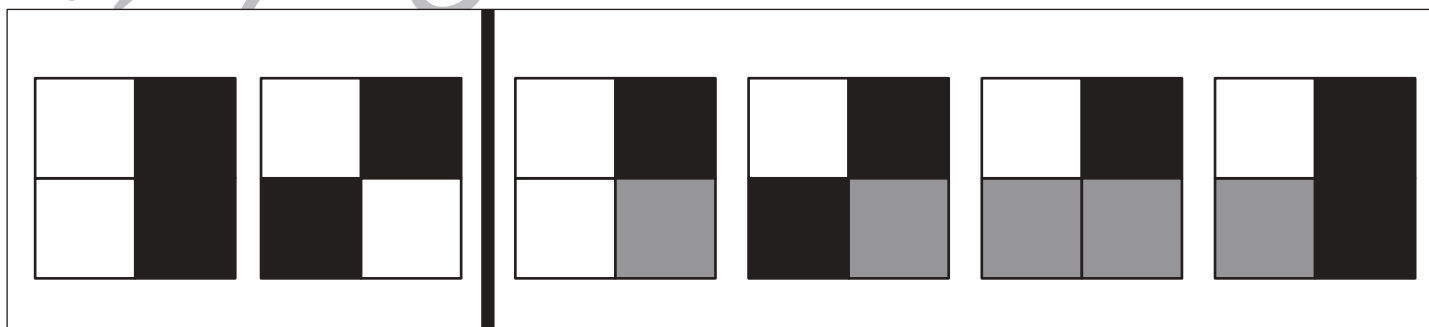

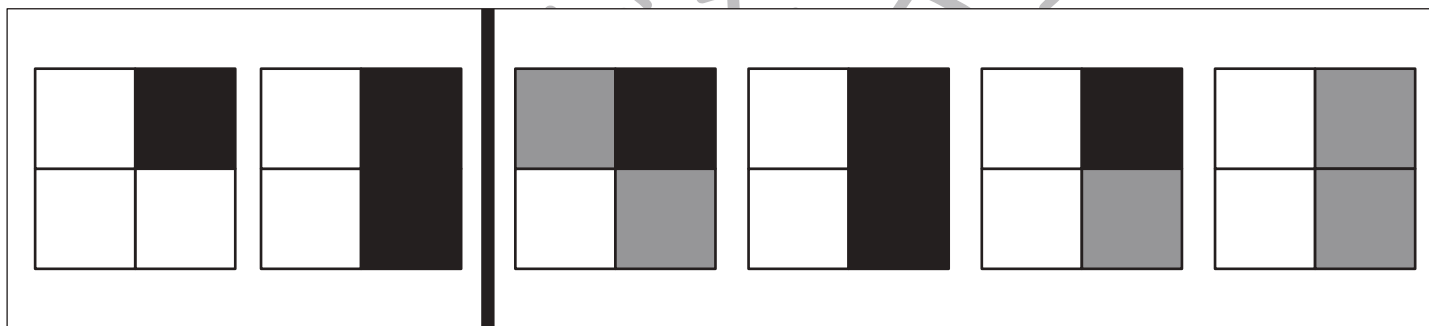
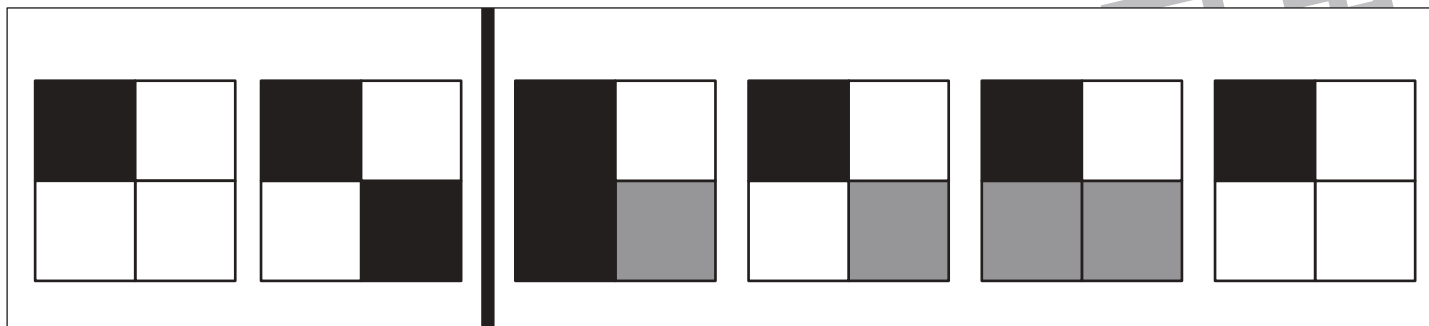


おうちで、やろう。

Study at home. 小学校受験の家庭学習教材

図形：重ね 25

左の2枚の四角を重ねます。白と白が重なると白になり、黒と黒が重なると黒になります。ただし、白と黒が重なると灰色になります。
この約束で正しいものを右の4つの中から1つ見つけて○をつけます。



※1. このプリントは、しながわ・目黒こどもスクールのウェブサイトでダウンロードができます。無断複写・引用はご遠慮ください。

※2. このプリントを活用したオンライン授業のスケジュールは、しながわ・目黒こどもスクールのウェブサイトでご確認ください。



おうちで、やろう。

Study at home. 小学校受験の家庭学習教材

図形：重ね 26

左の2枚の四角を重ねます。白と白が重なると白になり、黒と黒が重なると黒になります。ただし、白と黒が重なると灰色になります。この約束で正しいものを右の4つの中から1つ見つけて○をつけます。

※1. このプリントは、しながわ・目黒こどもスクールのウェブサイトでダウンロードができます。無断複写・引用はご遠慮ください。
※2. このプリントを活用したオンライン授業のスケジュールは、しながわ・目黒こどもスクールのウェブサイトでご確認ください。





おうちで、やろう。

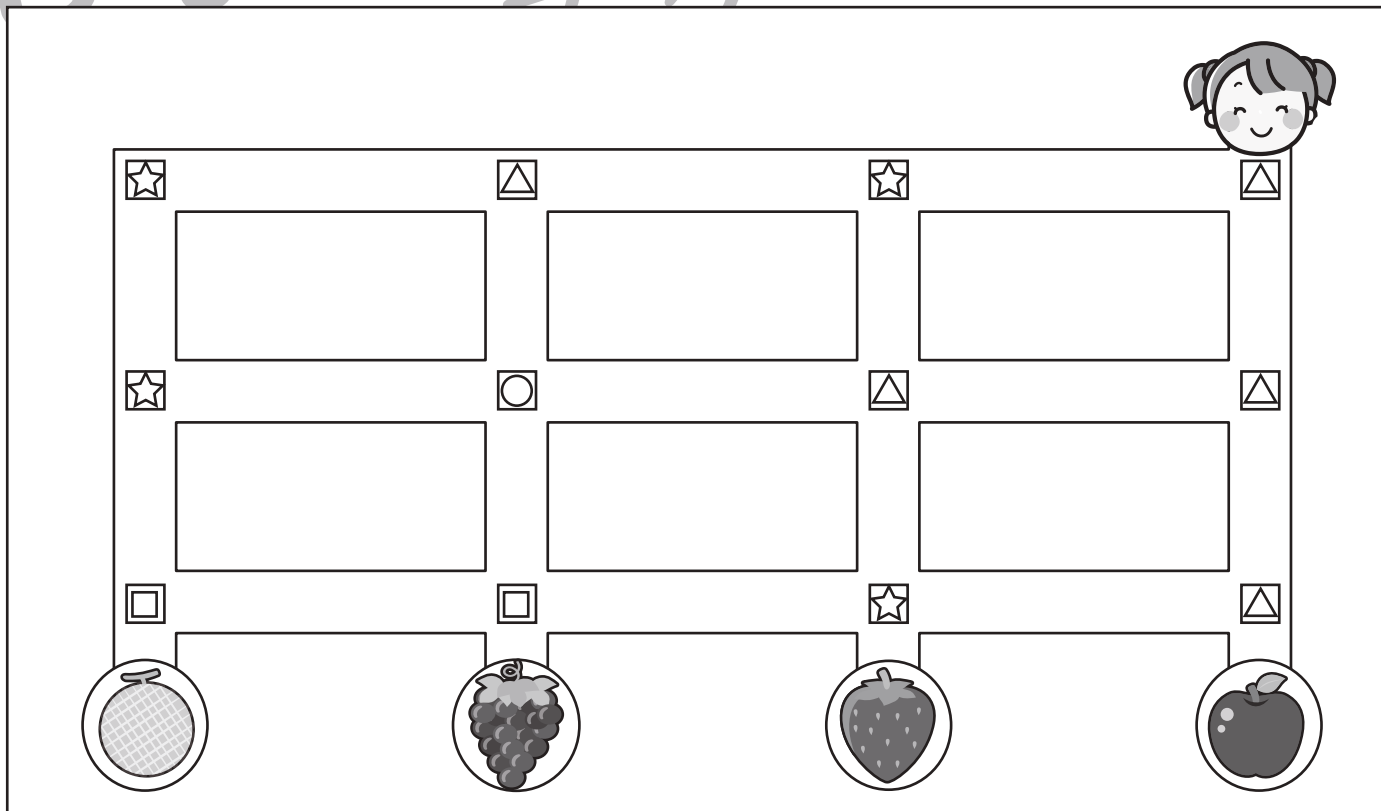
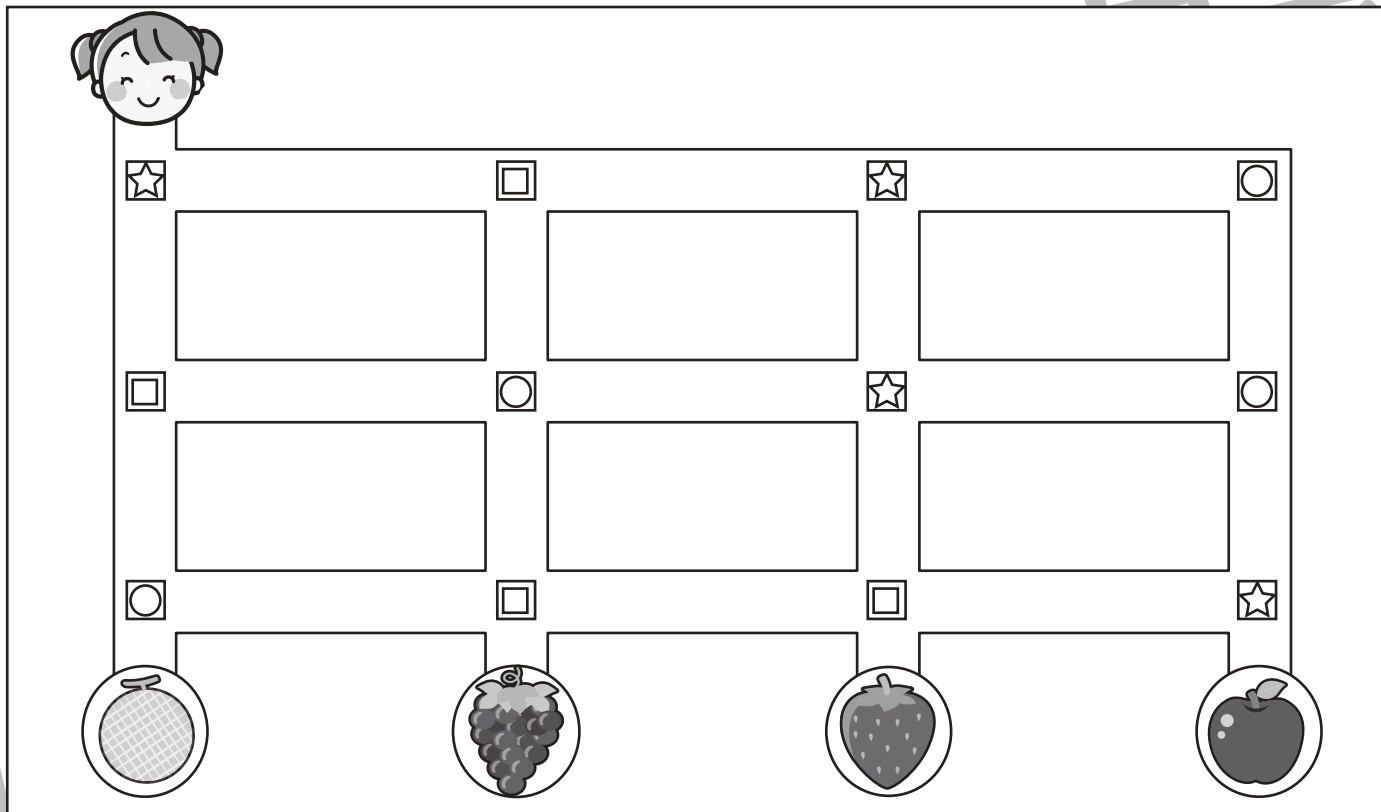
Study at home. 小学校受験の家庭学習教材

推理：条件推理 11

太い四角が約束です。それぞれの記号は曲がり角で矢印の方向へ進むという約束です。女の子が道を進み、曲がり角のところまできたら記号の約束通り進みます。女の子が進んだ道に線をかき、ついた果物に○をつけます。



①



※1. このプリントは、しながわ・目黒こどもスクールのウェブサイトでダウンロードができます。無断複写・引用はご遠慮ください。

※2. このプリントを活用したオンライン授業のスケジュールは、しながわ・目黒こどもスクールのウェブサイトでご確認ください。



おうちで、やろう。

Study at home. 小学校受験の家庭学習教材

推理：条件推理 12

太い四角が約束です。それぞれの記号は曲がり角で矢印の方向へ進むという約束です。女の子が道を進み、曲がり角のところまできたら記号の約束通り進みます。女の子が進んだ道に線をかき、ついた果物に○をつけます。



※1. このプリントは、しながわ・目黒こどもスクールのウェブサイトでダウンロードができます。無断複写・引用はご遠慮ください。
※2. このプリントを活用したオンライン授業のスケジュールは、しながわ・目黒こどもスクールのウェブサイトでご確認ください。



おうちで、やろう。

Study at home. 小学校受験の家庭学習教材

数量：加減 11

別紙「数量：加減 11・12（問題文）」を使用して①～④の問題に答えましょう。

①

②

③

④



おうちで、やろう。

Study at home. 小学校受験の家庭学習教材

数量：加減 12

別紙「数量：加減 11・12（問題文）」を使用して①～④の問題に答えましょう。

①

②

③

④

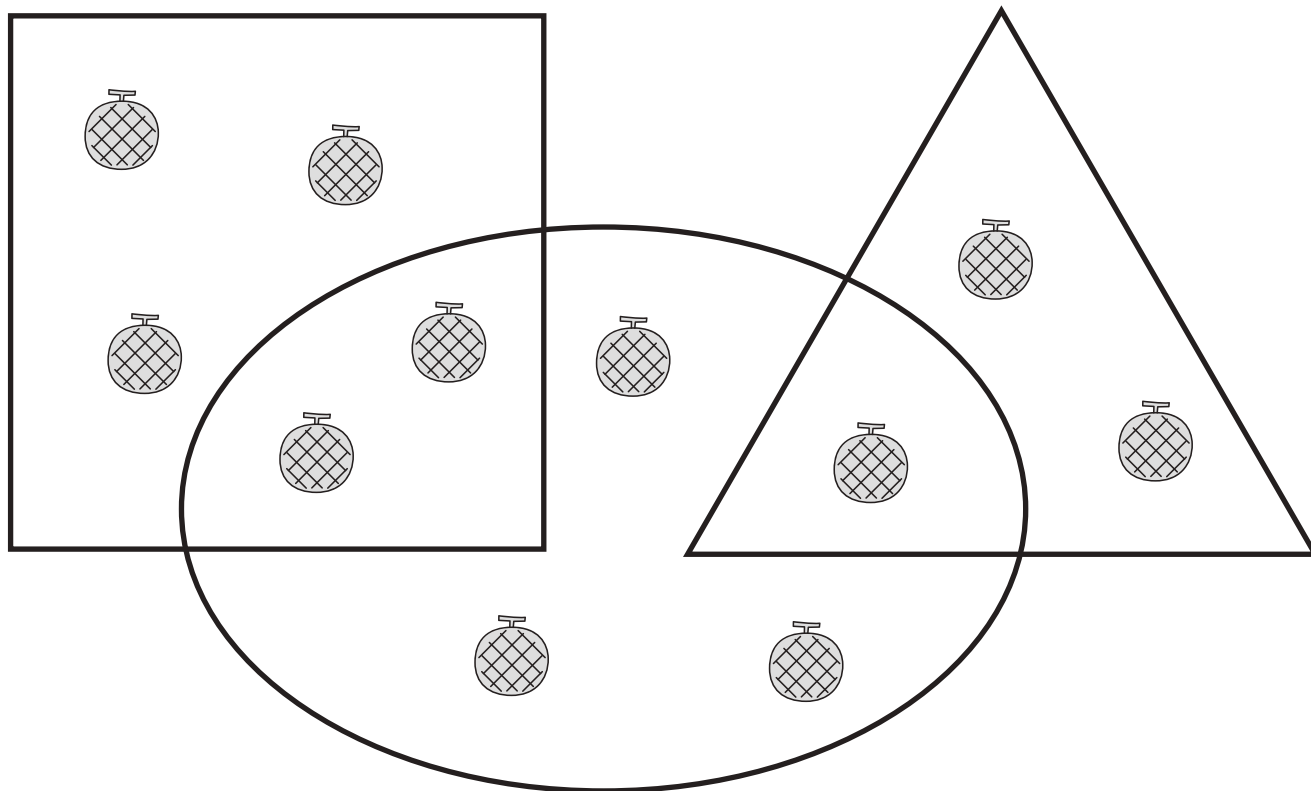


おうちで、やろう。

Study at home. 小学校受験の家庭学習教材

数量：計数 17

- ①丸の中にあるメロンの数だけ○をかきます。
- ②丸と四角が重なっている場所にあるメロンの数だけ○をかきます。
- ③丸と三角が重なっている場所にあるメロンの数だけ○をかきます。
- ④丸の中で四角も三角も重なっていない場所にあるメロンの数だけ○をかきます。



①	
②	
③	
④	

※1. このプリントは、しながわ・目黒こどもスクールのウェブサイトでダウンロードができます。無断複写・引用はご遠慮ください。
 ※2. このプリントを活用したオンライン授業のスケジュールは、しながわ・目黒こどもスクールのウェブサイトでご確認ください。

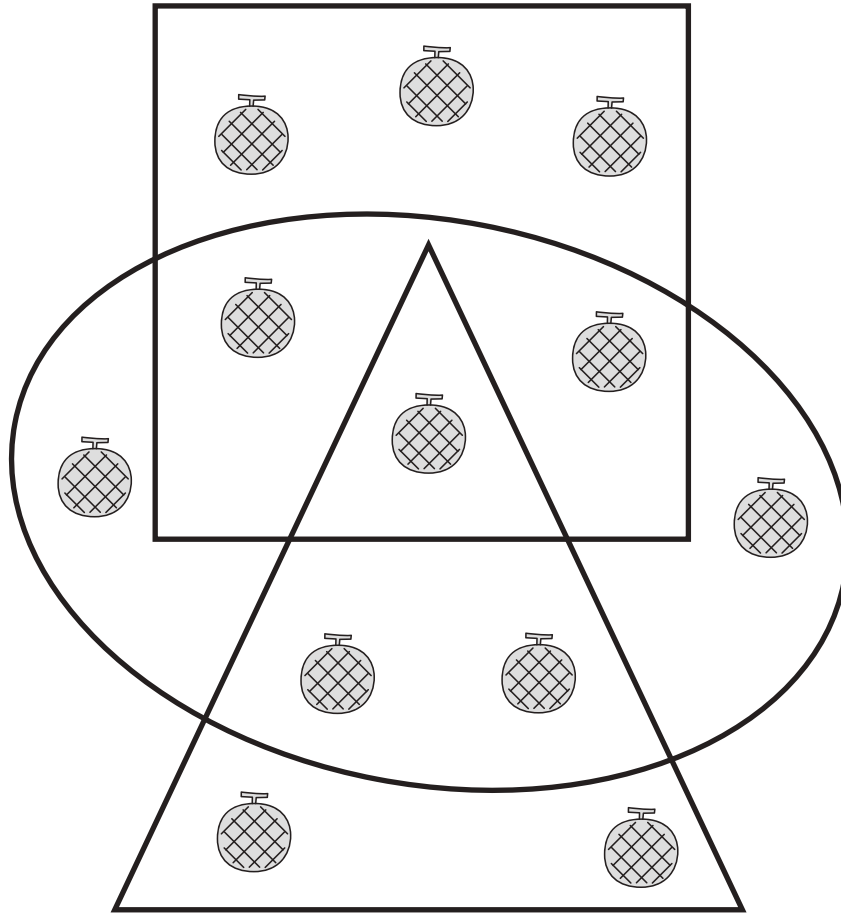


おうちで、やろう。

Study at home. 小学校受験の家庭学習教材

数量：計数 18

- ①丸と三角の中にあるメロンの数だけ○をかきます。
- ②丸と四角の中にあるメロンの数だけ○をかきます。
- ③丸と三角と四角の3つの形が重なっている場所にあるメロンの数だけ○をかきます。
- ④丸の中で三角が重なっていない場所にあるメロンの数だけ○をかきます。



①	
②	
③	
④	

※1. このプリントは、しながわ・目黒こどもスクールのウェブサイトからダウンロードできます。無断複写・引用はご遠慮ください。
 ※2. このプリントを活用したオンライン授業のスケジュールは、しながわ・目黒こどもスクールのウェブサイトでご確認ください。



おうちで、やろう。

Study at home. 小学校受験の家庭学習教材

図形：点図形 36

左のお手本と同じになるように右の四角に線をかきます。 ※このプリントに解答はありません。

※1. このプリントは、しながわ・目黒こどもスクールのウェブサイトでダウンロードができます。無断複写・引用はご遠慮ください。
 ※2. このプリントを活用したオンライン授業のスケジュールは、しながわ・目黒こどもスクールのウェブサイトでご確認ください。