

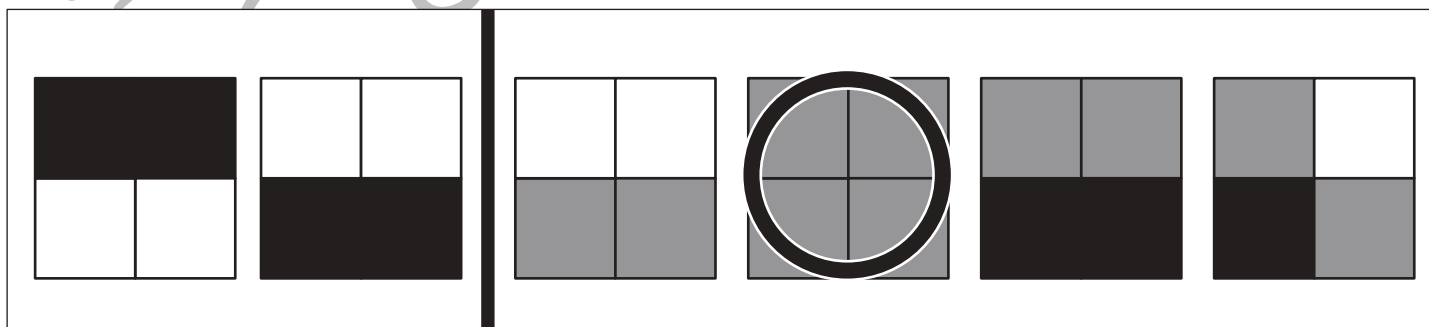
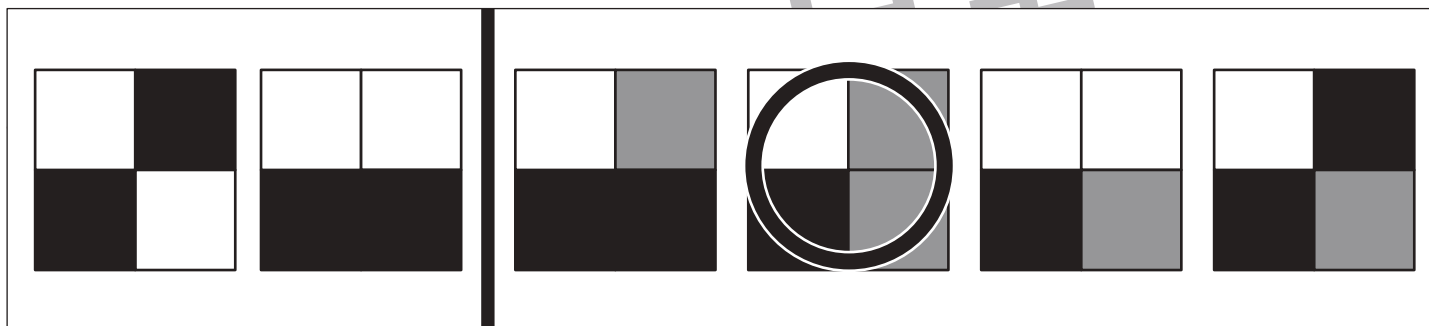
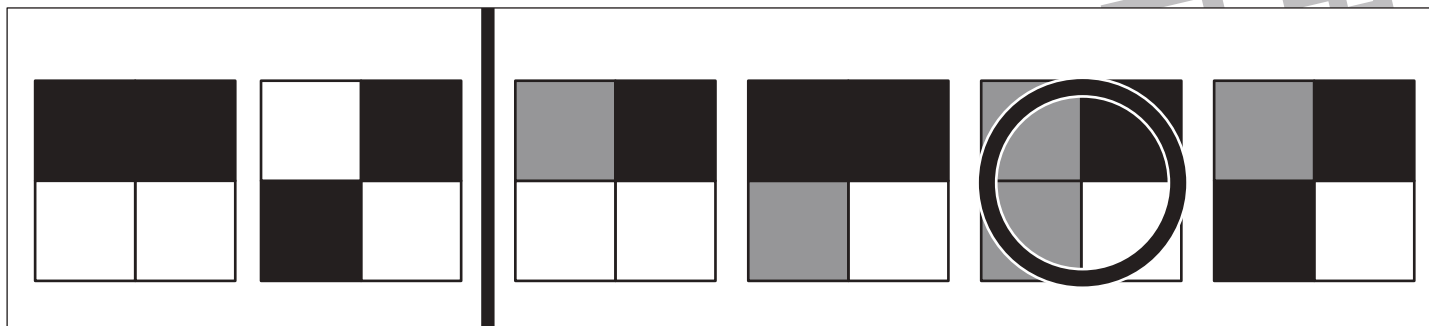


おうちで、やろう。

Study at home. 小学校受験の家庭学習教材

図形：重ね 24

左の2枚の四角を重ねます。白と白が重なると白になり、黒と黒が重なると黒になります。ただし、白と黒が重なると灰色になります。この約束で正しいものを右の4つの中から1つ見つけて○をつけます。



※1. このプリントは、しながわ・目黒こどもスクールのウェブサイトでダウンロードができます。無断複写・引用はご遠慮ください。

※2. このプリントを活用したオンライン授業のスケジュールは、しながわ・目黒こどもスクールのウェブサイトでご確認ください。



おうちで、やろう。

Study at home. 小学校受験の家庭学習教材

図形：重ね 25

左の2枚の四角を重ねます。白と白が重なると白になり、黒と黒が重なると黒になります。ただし、白と黒が重なると灰色になります。この約束で正しいものを右の4つの中から1つ見つけて○をつけます。

--	--	--	--	--	--

--	--	--	--	--	--

--	--	--	--	--	--

--	--	--	--	--	--

--	--	--	--	--	--

※1. このプリントは、しながわ・目黒こどもスクールのウェブサイトでダウンロードができます。無断複写・引用はご遠慮ください。

※2. このプリントを活用したオンライン授業のスケジュールは、しながわ・目黒こどもスクールのウェブサイトでご確認ください。



おうちで、やろう。

Study at home. 小学校受験の家庭学習教材

図形：重ね 26

左の2枚の四角を重ねます。白と白が重なると白になり、黒と黒が重なると黒になります。ただし、白と黒が重なると灰色になります。この約束で正しいものを右の4つの中から1つ見つけて○をつけます。

※1. このプリントは、しながわ・目黒こどもスクールのウェブサイトでダウンロードができます。無断複写・引用はご遠慮ください。
※2. このプリントを活用したオンライン授業のスケジュールは、しながわ・目黒こどもスクールのウェブサイトでご確認ください。


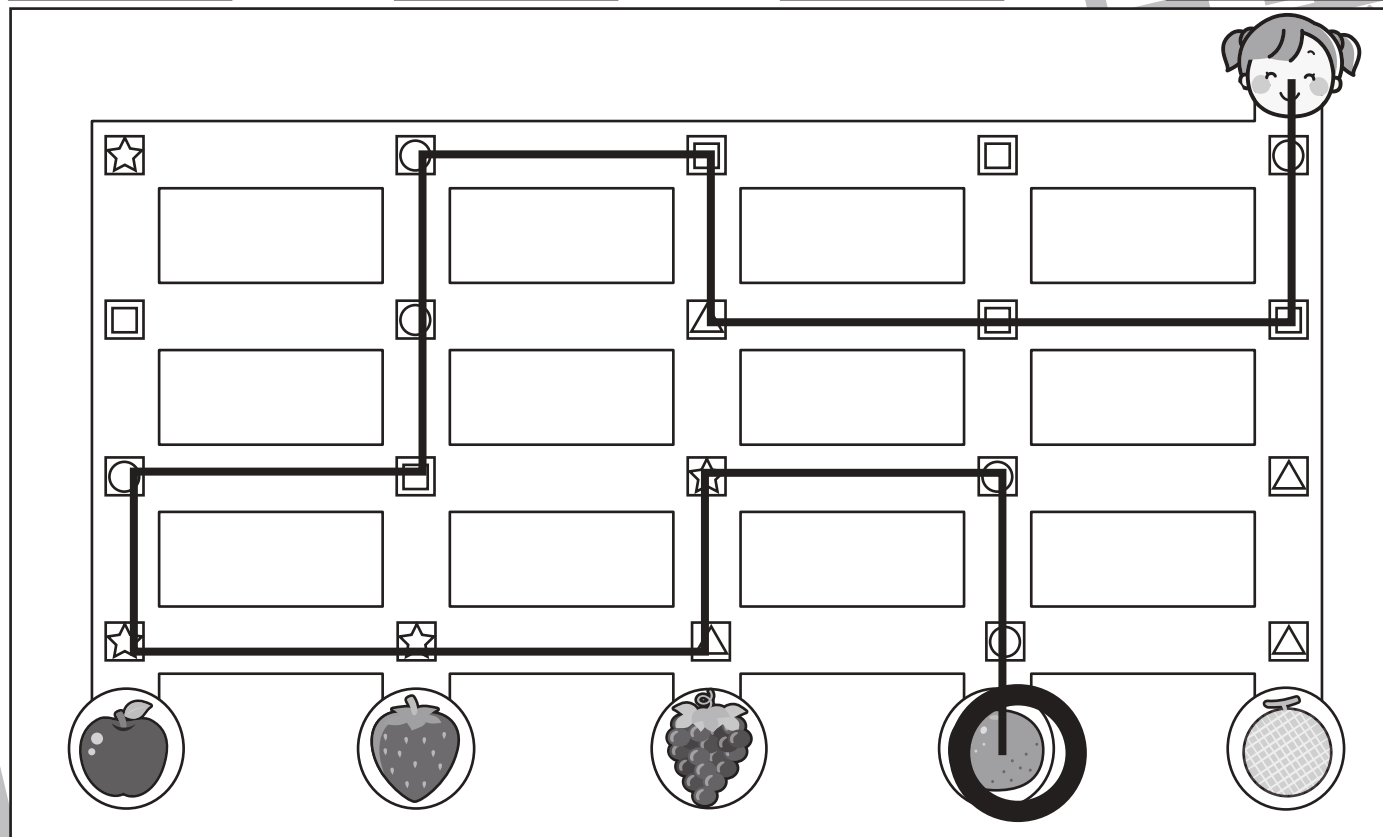


おうちで、やろう。

Study at home. 小学校受験の家庭学習教材

推理：条件推理 12

太い四角が約束です。それぞれの記号は曲がり角で矢印の方向へ進むという約束です。女の子が道を進み、曲がり角のところまできたら記号の約束通り進みます。女の子が進んだ道に線をかき、ついた果物に○をつけます。



※1. このプリントは、しながわ・目黒こどもスクールのウェブサイトでダウンロードができます。無断複写・引用はご遠慮ください。
※2. このプリントを活用したオンライン授業のスケジュールは、しながわ・目黒こどもスクールのウェブサイトでご確認ください。



おうちで、やろう。

Study at home. 小学校受験の家庭学習教材

数量：加減 11

別紙「数量：加減 11・12（問題文）」を使用して①～④の問題に答えましょう。

①

$$\bigcirc \times 5$$

②

$$\bigcirc \times 2$$

③

$$\bigcirc \times 7$$

④

$$\bigcirc \times 7$$



おうちで、やろう。

Study at home. 小学校受験の家庭学習教材

数量：加減 12

別紙「数量：加減 11・12（問題文）」を使用して①～④の問題に答えましょう。

①

$$\bigcirc \times 8$$

②

$$\bigcirc \times 7$$

③

$$\bigcirc \times 7$$

④

$$\bigcirc \times 7$$

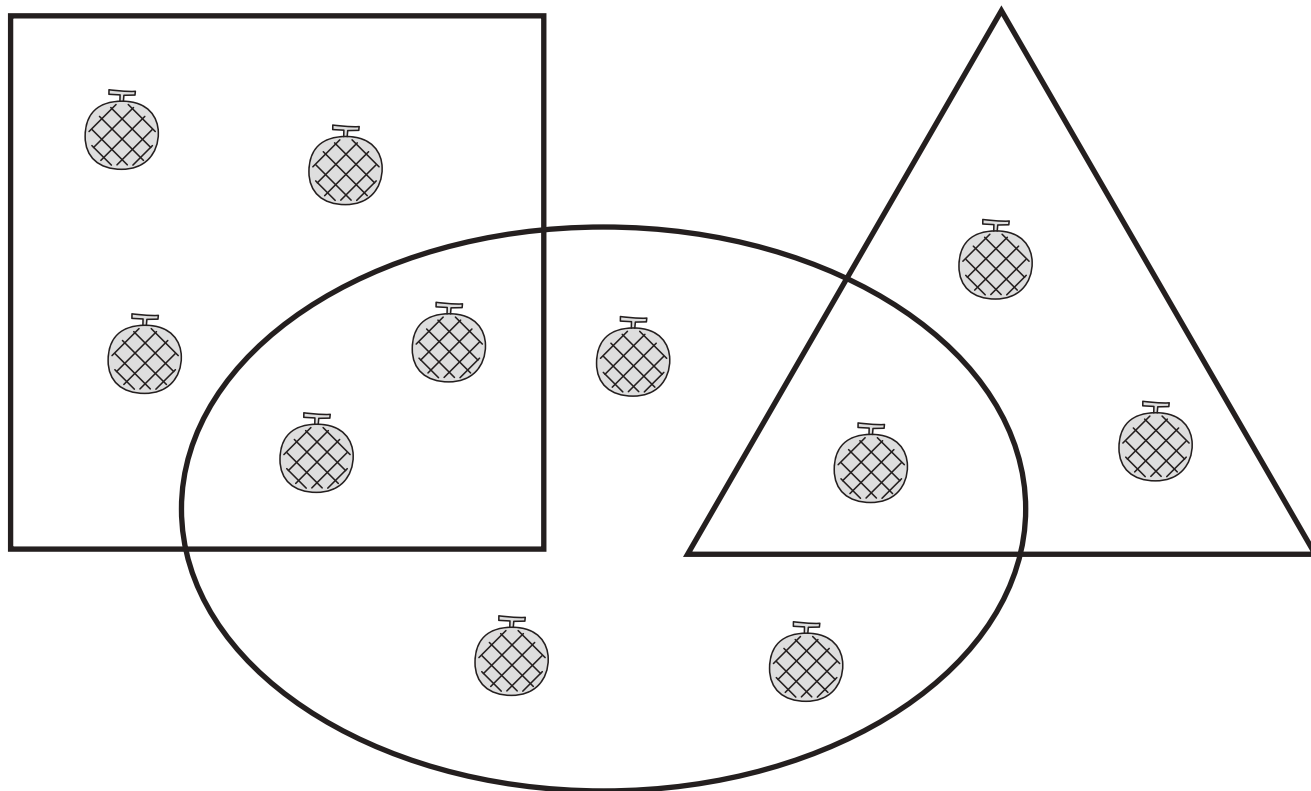


おうちで、やろう。

Study at home. 小学校受験の家庭学習教材

数量：計数 17

- ①丸の中にあるメロンの数だけ○をかきます。
- ②丸と四角が重なっている場所にあるメロンの数だけ○をかきます。
- ③丸と三角が重なっている場所にあるメロンの数だけ○をかきます。
- ④丸の中で四角も三角も重なっていない場所にあるメロンの数だけ○をかきます。



①	<input type="text" value="○ × 6"/>
②	<input type="text" value="○ × 2"/>
③	<input type="text" value="○ × 1"/>
④	<input type="text" value="○ × 3"/>

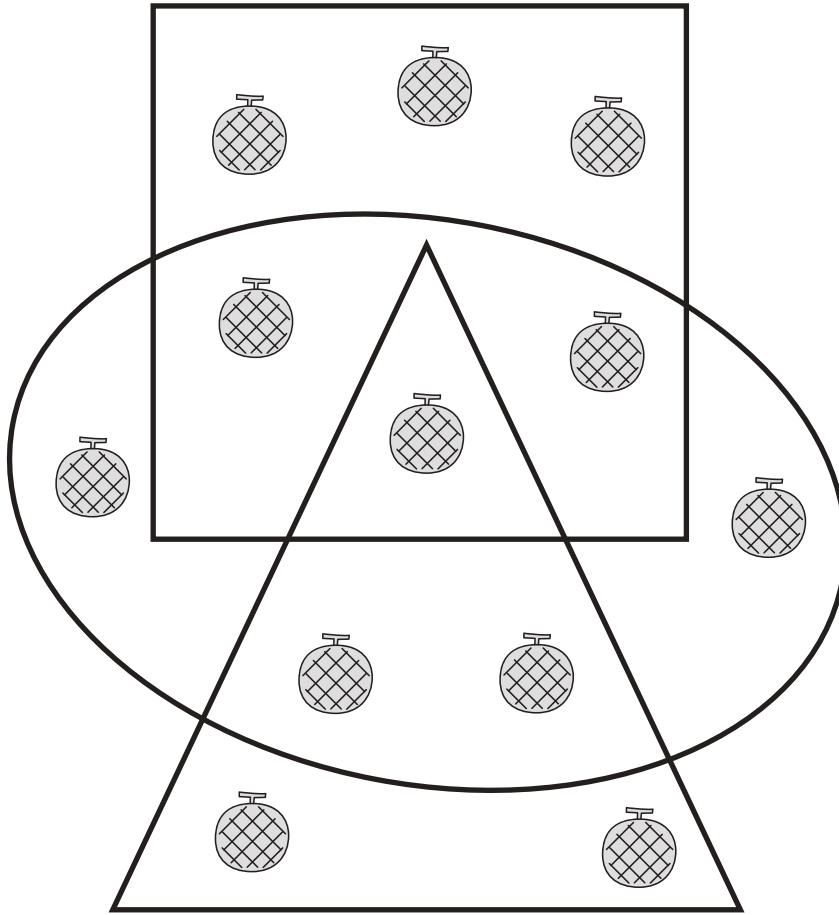


おうちで、やろう。

Study at home. 小学校受験の家庭学習教材

数量：計数 18

- ①丸と三角の中にあるメロンの数だけ○をかきます。
- ②丸と四角の中にあるメロンの数だけ○をかきます。
- ③丸と三角と四角の3つの形が重なっている場所にあるメロンの数だけ○をかきます。
- ④丸の中で三角が重なっていない場所にあるメロンの数だけ○をかきます。



①

○ × 9

②

○ × 10

③

○ × 1

④

○ × 4