



# おうちで、やろう。

Study at home. 小学校受験の家庭学習教材

## 指示の聞き取り 16

それぞれのお話通りになるように色を塗ったり、記号をかきます。問題は1度しか読みませんのでしっかり聞きましょう。

①右上の形を青色のクーピーで塗り、左下の形を緑色のクーピーで塗ります。

②四角を横に2つ描き、その間に丸を1つかきます。

③左の黒い丸から右の灰色の丸まで鉛筆でギザギザの線をかきます。

①

②

③

※1. このプリントは、しながわ・目黒こどもスクールのウェブサイトでダウンロードができます。無断複写・引用はご遠慮ください。

※2. このプリントを活用したオンライン授業のスケジュールは、しながわ・目黒こどもスクールのウェブサイトでご確認ください。

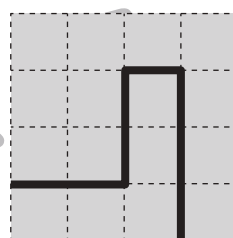
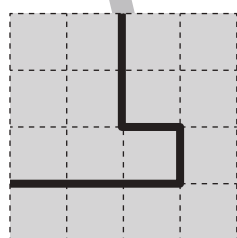
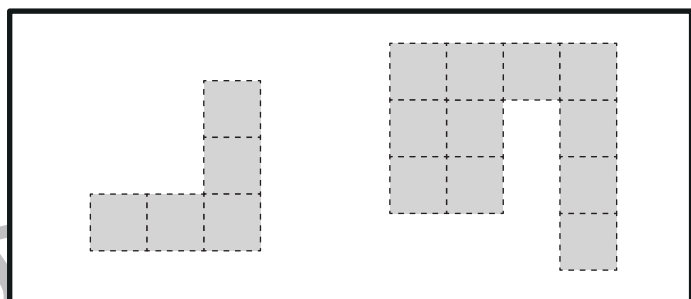
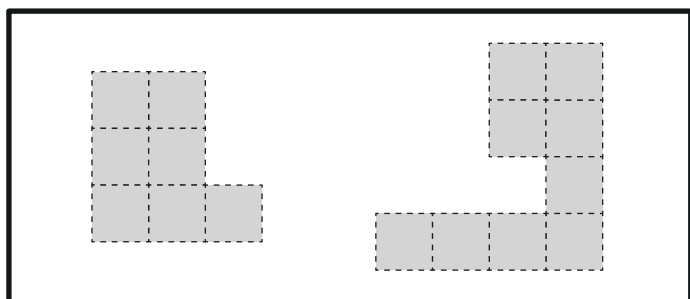
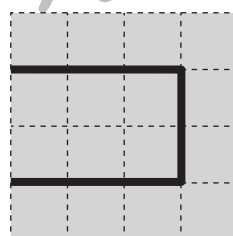
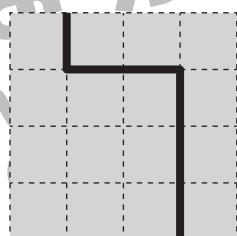
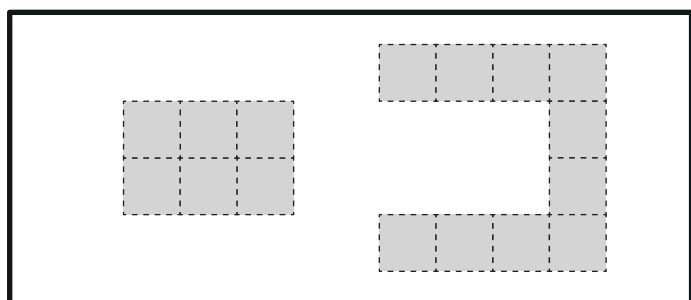
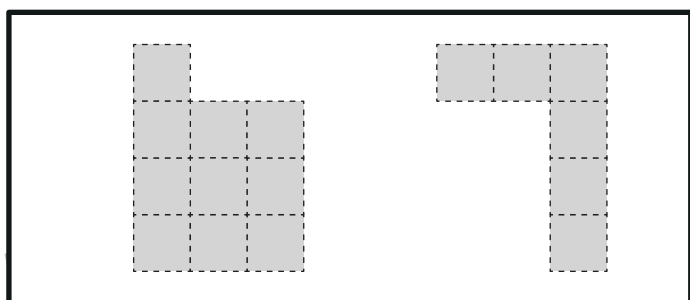
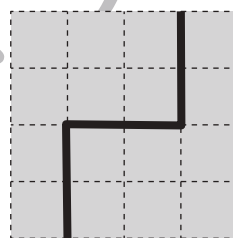
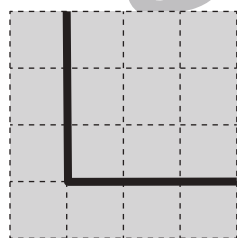
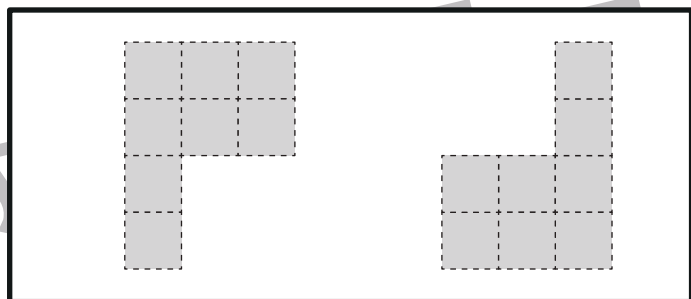
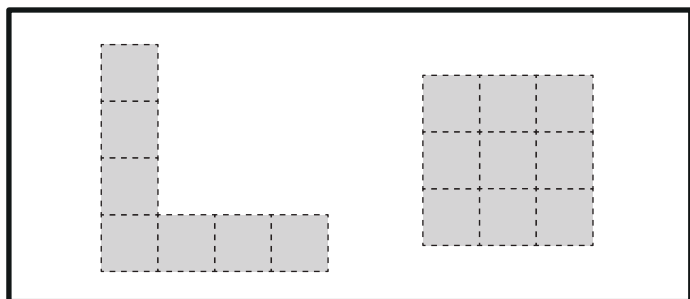


# おうちで、やろう。

Study at home. 小学校受験の家庭学習教材

## 図形：構成 23

太枠の中のパズルピースは、下のマスのどこかにハサミを入れて分けたものです。ピースは分けたときに向きを変えたり、回転をしてみたりすることはありません。どこにハサミを入れたのかを考えて、その場所に線を引きましょう。



※1. このプリントは、しながわ・目黒こどもスクールのウェブサイトでダウンロードができます。無断複写・引用はご遠慮ください。  
※2. このプリントを活用したオンライン授業のスケジュールは、しながわ・目黒こどもスクールのウェブサイトでご確認ください。



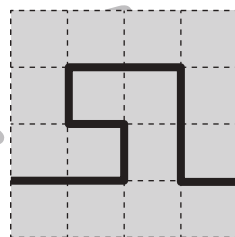
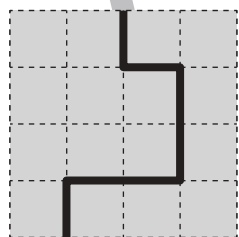
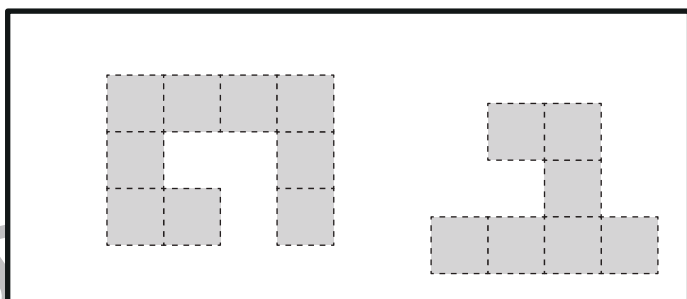
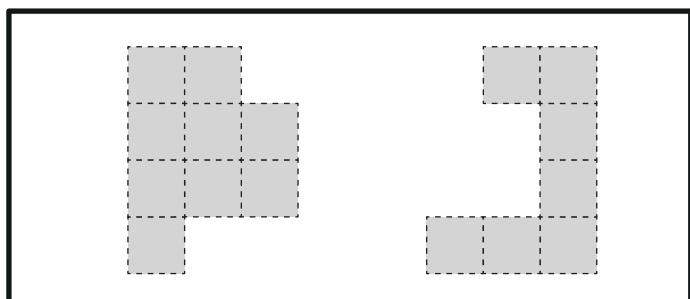
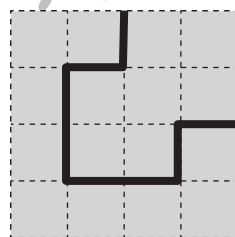
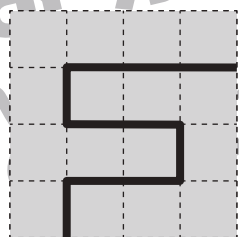
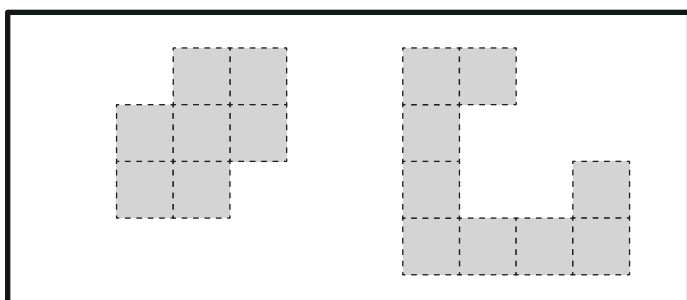
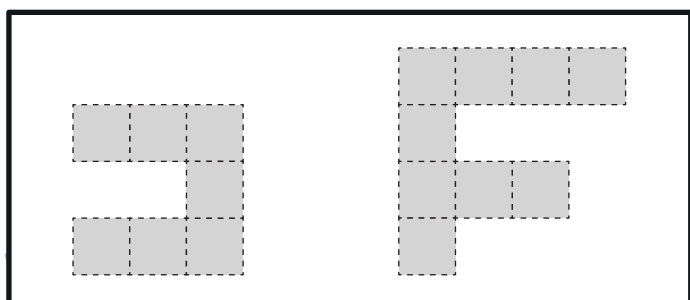
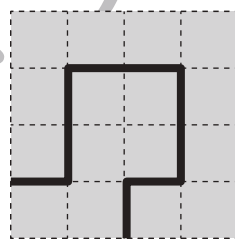
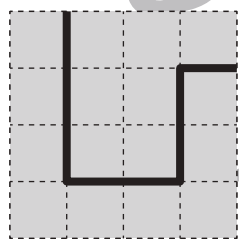
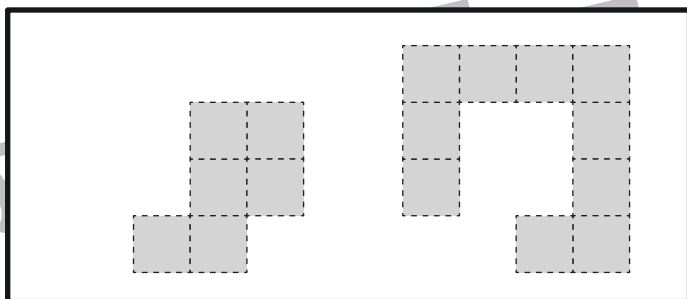
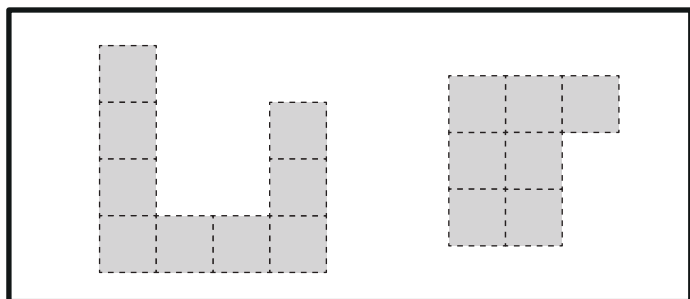


# おうちで、やろう。

Study at home. 小学校受験の家庭学習教材

図形：構成 24

太枠の中のパズルピースは、下のマスのどこかにハサミを入れて分けたものです。ピースは分けたときに向きを変えたり、回転をしてみたりすることはありません。どこにハサミを入れたのかを考えて、その場所に線を引きましょう。



※1. このプリントは、しながわ・目黒こどもスクールのウェブサイトでダウンロードができます。無断複写・引用はご遠慮ください。  
※2. このプリントを活用したオンライン授業のスケジュールは、しながわ・目黒こどもスクールのウェブサイトでご確認ください。

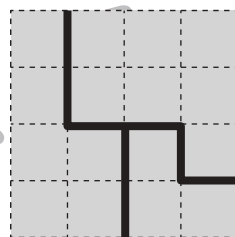
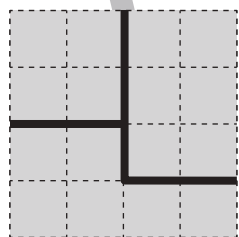
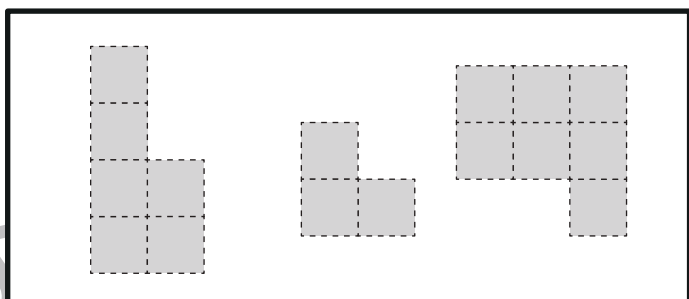
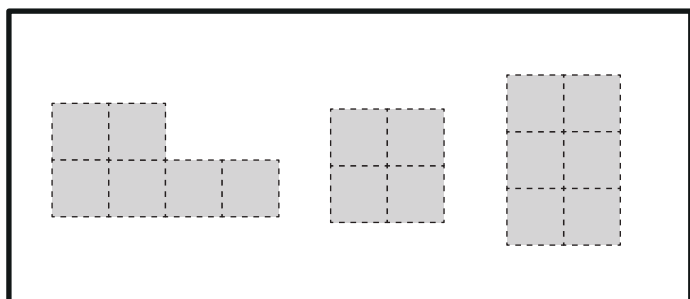
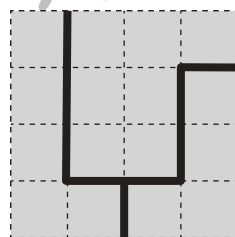
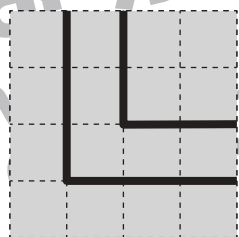
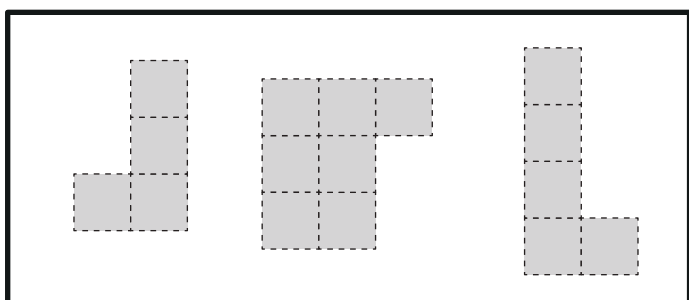
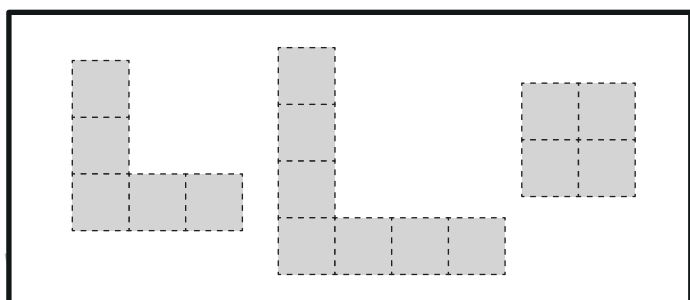
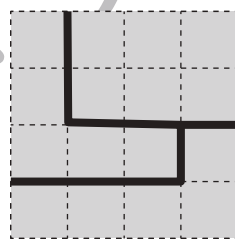
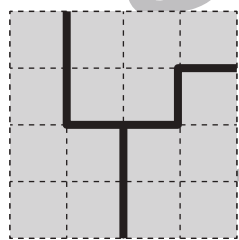
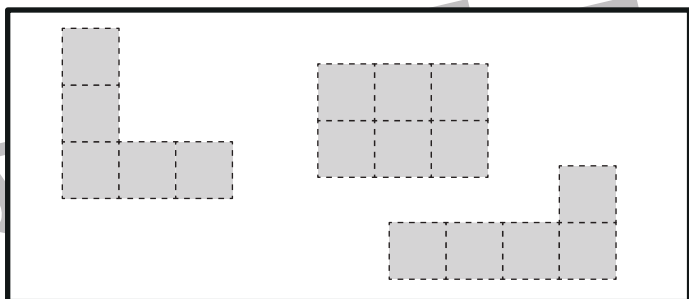
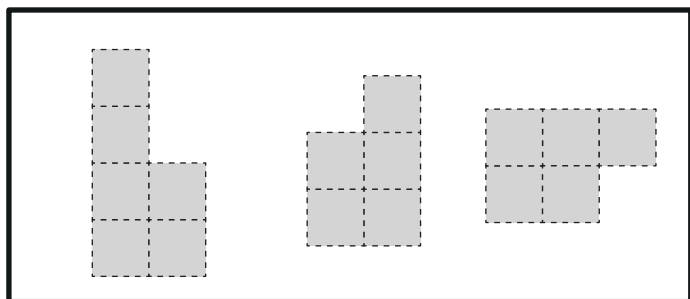


# おうちで、やろう。

Study at home. 小学校受験の家庭学習教材

図形：構成 25

太枠の中のパズルピースは、下のマスのどこかにハサミを入れて分けたものです。ピースは分けたときに向きを変えたり、回転をしてみたりすることはありません。どこにハサミを入れたのかを考えて、その場所に線を引きましょう。



※1. このプリントは、しながわ・目黒こどもスクールのウェブサイトでダウンロードができます。無断複写・引用はご遠慮ください。  
※2. このプリントを活用したオンライン授業のスケジュールは、しながわ・目黒こどもスクールのウェブサイトでご確認ください。



# おうちで、やろう。

Study at home. 小学校受験の家庭学習教材

## 図形：折り重ね 29

左のマスは透明です。このマスを真ん中の太い線で矢印の方向へ折り重ねます。  
このとき、隠れないで見えているマスの数だけ右の四角に○をかきます。

	○×2		○×1
--	-----	--	-----

	○×2		○×1
--	-----	--	-----

	○×1		○×1
--	-----	--	-----

	○×1		○×2
--	-----	--	-----

	○×2		○×1
--	-----	--	-----

※1. このプリントは、しながわ・目黒こどもスクールのウェブサイトでダウンロードができます。無断複写・引用はご遠慮ください。  
※2. このプリントを活用したオンライン授業のスケジュールは、しながわ・目黒こどもスクールのウェブサイトでご確認ください。



# おうちで、やろう。

Study at home. 小学校受験の家庭学習教材

## 図形：折り重ね 30

左のマスは透明です。このマスを真ん中の太い線で矢印の方向へ折り重ねます。  
このとき、隠れないで見えているマスの数だけ右の四角に○をかきます。

	○×2		○×4
	○×4		○×4
	○×1		○×2
	○×3		○×4
	○×3		○×4

※1. このプリントは、しながわ・目黒こどもスクールのウェブサイトでダウンロードができます。無断複写・引用はご遠慮ください。

※2. このプリントを活用したオンライン授業のスケジュールは、しながわ・目黒こどもスクールのウェブサイトでご確認ください。



# おうちで、やろう。

Study at home. 小学校受験の家庭学習教材

## 図形：折り重ね 31

左のマスは透明です。このマスを真ん中の太い線で矢印の方向へ折り重ねます。  
このとき、隠れないで見えているマスの数だけ右の四角に○をかきます。

	○×4		○×3
	○×3		○×4
	○×3		○×4
	○×2		○×1
	○×3		○×4

※1. このプリントは、しながわ・目黒こどもスクールのウェブサイトでダウンロードができます。無断複写・引用はご遠慮ください。

※2. このプリントを活用したオンライン授業のスケジュールは、しながわ・目黒こどもスクールのウェブサイトでご確認ください。


















# おうちで、やろう。
















Study at home. 小学校受験の家庭学習教材

## 推理：あみだくじ 1

上の動物たちがあみだくじを進んでいくと下のどの食べ物に着きますか。それぞれの動物の吹き出しの中にある記号をついた果物につけます。

※あみだくじのルール：①上から下へ進みます。道は戻ってはいけません。②途中で曲がり角があったら必ず曲がります。

※1. このプリントは、しながわ・目黒こどもスクールのウェブサイトダウンロードができます。無断複写・引用はご遠慮ください。

※2. このプリントを活用したオンライン授業のスケジュールは、しながわ・目黒こどもスクールのウェブサイトでご確認ください。





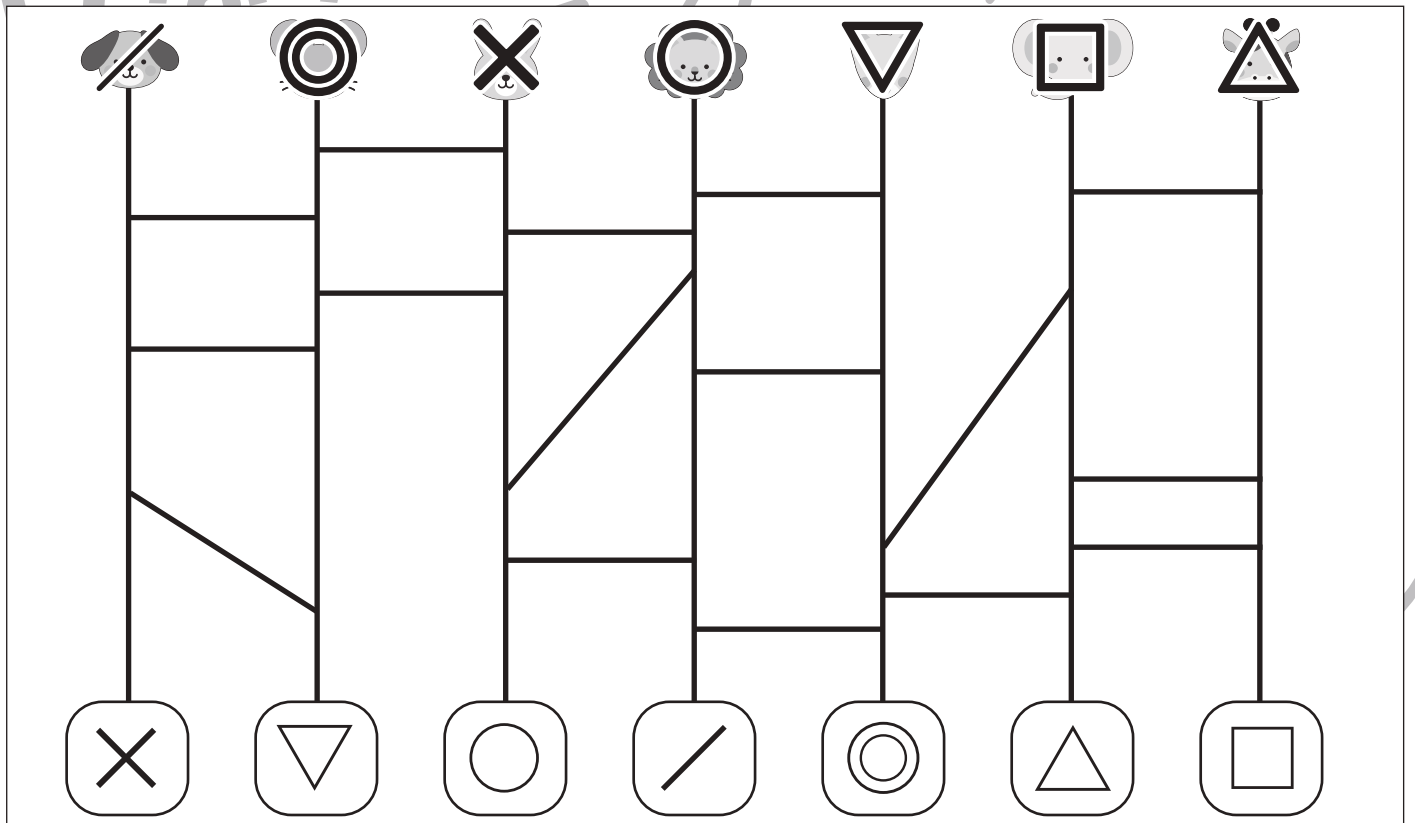
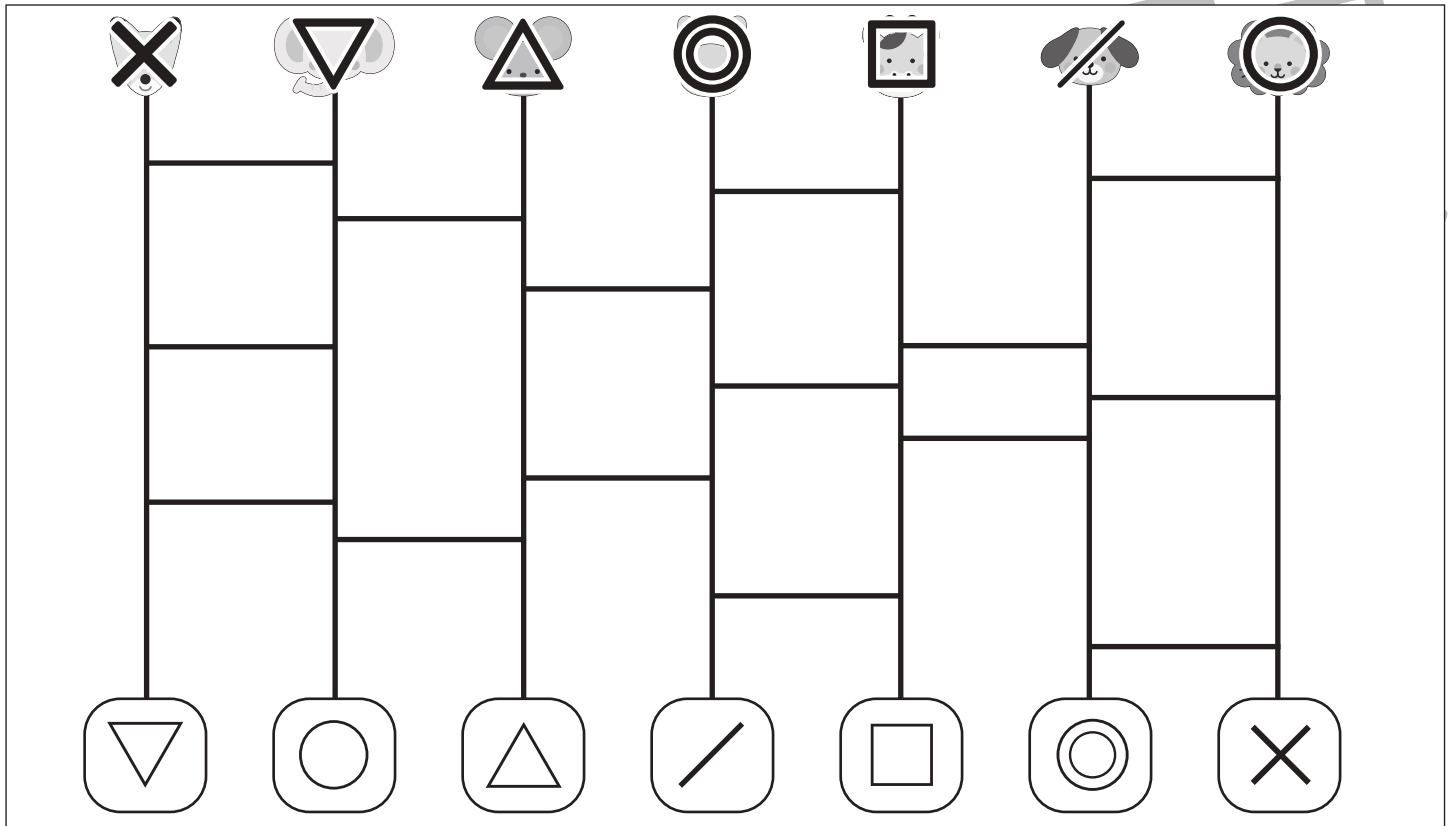
# おうちで、やろう。

Study at home. 小学校受験の家庭学習教材

## 推理：あみだくじ2

上の動物たちがあみだくじを進んでいくと下のどこかの記号につきます。誰がどの記号についたのかを考えてそれぞれの動物にそのついた記号をかきます。

※あみだくじのルール：①上から下へ進みます。道は戻ってはいけません。②途中で曲がり角があったら必ず曲がります。



※1. このプリントは、しながわ・目黒こどもスクールのウェブサイトでダウンロードができます。無断複写・引用はご遠慮ください。

※2. このプリントを活用したオンライン授業のスケジュールは、しながわ・目黒こどもスクールのウェブサイトでご確認ください。




# おうちで、やろう。

Study at home. 小学校受験の家庭学習教材

処理：計数 14

- ① ☆1つのところです。チューリップは全部で何本ありますか。その数だけ○をかきます。
- ② ☆2つのところです。ウサギとネコを合わせた数だけ○をかきます。
- ③ ☆3つのところです。ゾウとキリンの数はいくつ違いますか。その数○をかきます。
- ④ ☆4つのところです。鳥が来て風船を4個割ってしまいました。残りの風船の数だけ○をかきます。



☆

○ × 7

☆☆

○ × 8

☆

☆☆

○ × 1

☆☆

☆☆

○ × 3

※1. このプリントは、しながわ・目黒こどもスクールのウェブサイトからダウンロードできます。無断複写・引用はご遠慮ください。  
 ※2. このプリントを活用したオンライン授業のスケジュールは、しながわ・目黒こどもスクールのウェブサイトでご確認ください。