



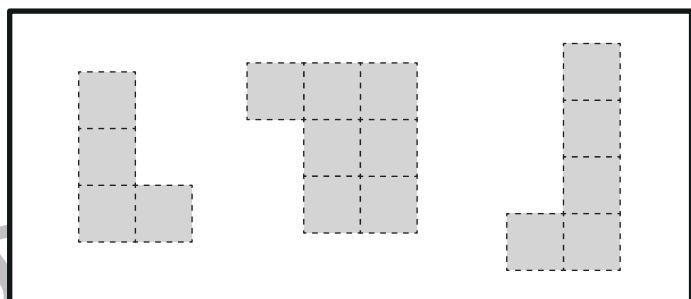
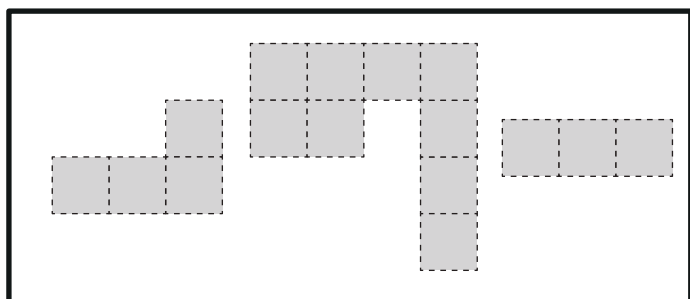

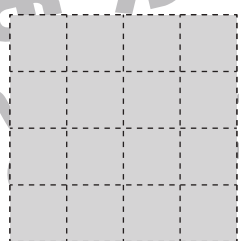
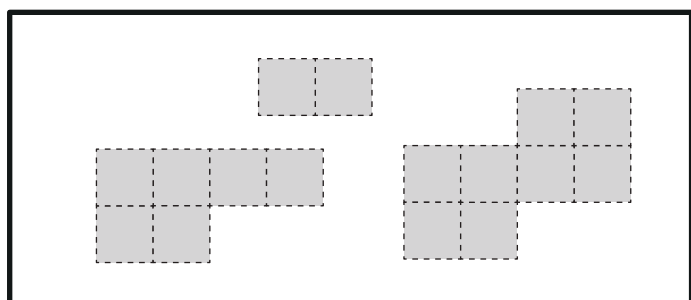
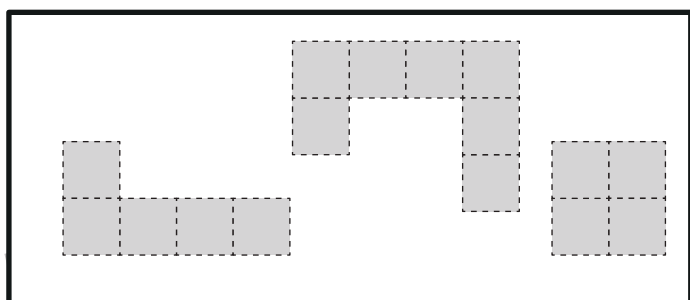


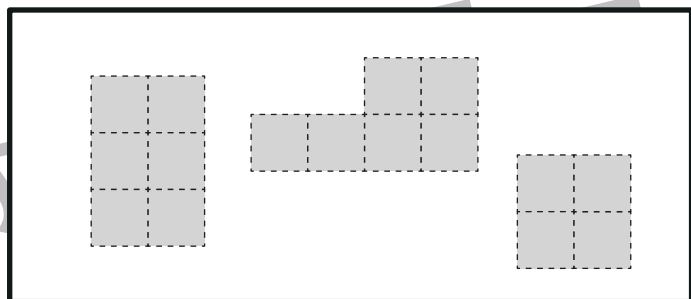
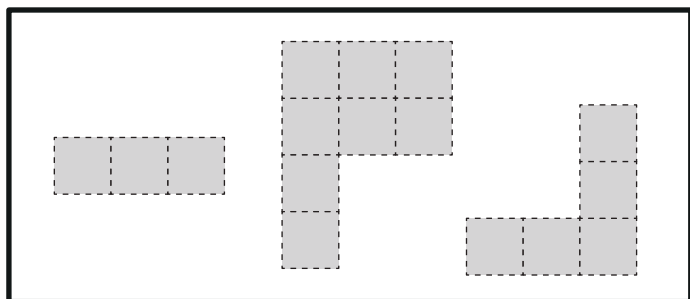


おうちで、やろう。

Study at home. 小学校受験の家庭学習教材

図形：構成 26

太枠の中のパズルピースは、下のマスどこかにハサミを入れて分けたものです。ピースは分けたときに向きを変えたり、回転をしてみたりすることはありません。どこにハサミを入れたのかを考えて、その場所に線を引きましょう。



※1. このプリントは、しながわ・目黒こどもスクールのウェブサイトでダウンロードができます。無断複写・引用はご遠慮ください。

※2. このプリントを活用したオンライン授業のスケジュールは、しながわ・目黒こどもスクールのウェブサイトでご確認ください。



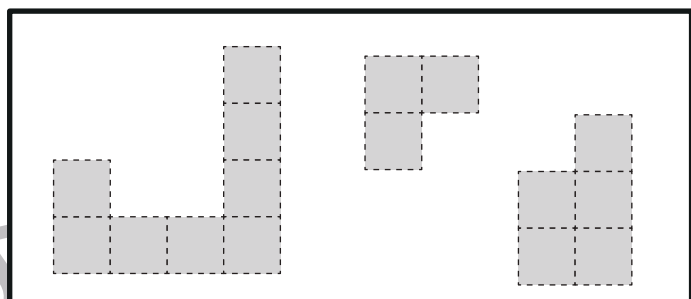
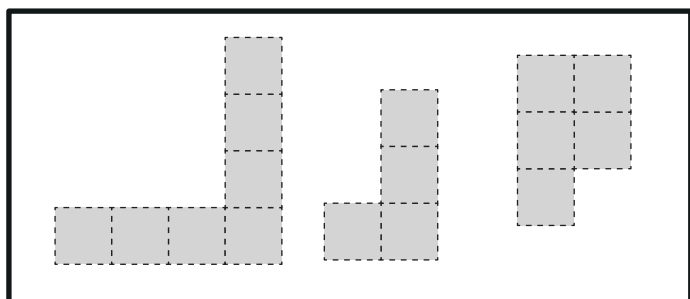

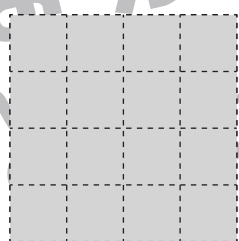
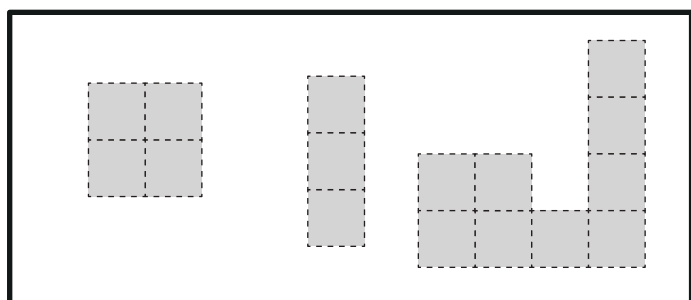
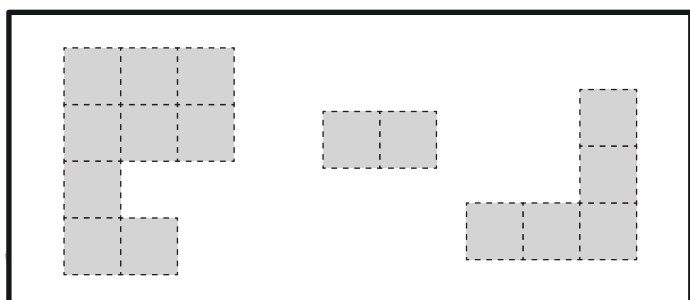


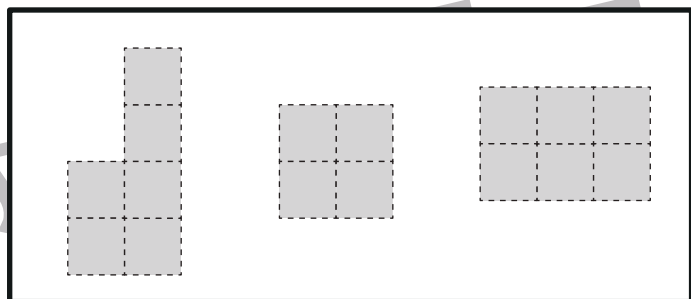
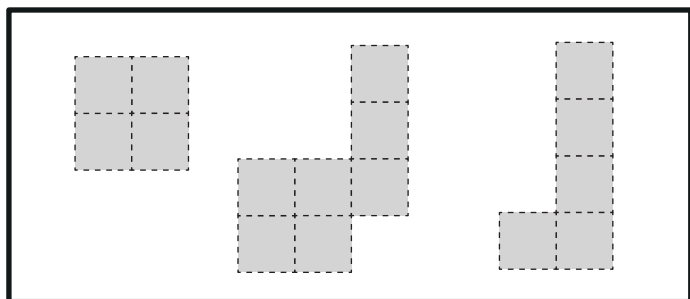


おうちで、やろう。

Study at home. 小学校受験の家庭学習教材

図形：構成 27

太枠の中のパズルピースは、下のマスのどこかにハサミを入れて分けたものです。ピースは分けたときに向きを変えたり、回転をしてみたりすることはありません。どこにハサミを入れたのかを考えて、その場所に線を引きましょう。



※1. このプリントは、しながわ・目黒こどもスクールのウェブサイトでダウンロードができます。無断複写・引用はご遠慮ください。
※2. このプリントを活用したオンライン授業のスケジュールは、しながわ・目黒こどもスクールのウェブサイトでご確認ください。



おうちで、やろう。

Study at home. 小学校受験の家庭学習教材

図形：折り重ね 32

左のマスは透明です。このマスを真ん中の太い線で矢印の方向へ折り重ねます。
このとき、隠れて灰色になってしまうマスの数だけ右の四角に○をかきます。

Figure 32 consists of 10 rows of a 4x8 grid pattern. Each row shows a grid with a vertical fold line in the center. The left side of the grid is shaded gray, and the right side is white. An arrow above the fold line indicates the direction of the fold. To the right of each grid is a blank square for marking the number of hidden squares.

| | | | |
|---------|-------|---------|-------|
| Grid 1 | Blank | Grid 2 | Blank |
| Grid 3 | Blank | Grid 4 | Blank |
| Grid 5 | Blank | Grid 6 | Blank |
| Grid 7 | Blank | Grid 8 | Blank |
| Grid 9 | Blank | Grid 10 | Blank |
| Grid 11 | Blank | Grid 12 | Blank |

※1. このプリントは、しながわ・目黒こどもスクールのウェブサイトでダウンロードができます。無断複写・引用はご遠慮ください。
 ※2. このプリントを活用したオンライン授業のスケジュールは、しながわ・目黒こどもスクールのウェブサイトでご確認ください。



おうちで、やろう。

Study at home. 小学校受験の家庭学習教材

図形：折り重ね 33

左のマスは透明です。このマスを真ん中の太い線で矢印の方向へ折り重ねます。
このとき、隠れて灰色になってしまうマスの数だけ右の四角に○をかきます。

| | | | |
|--|--|--|--|
| | | | |
| | | | |
| | | | |
| | | | |
| | | | |

※1. このプリントは、しながわ・目黒こどもスクールのウェブサイトでダウンロードができます。無断複写・引用はご遠慮ください。

※2. このプリントを活用したオンライン授業のスケジュールは、しながわ・目黒こどもスクールのウェブサイトでご確認ください。



おうちで、やろう。

Study at home. 小学校受験の家庭学習教材

図形：折り重ね 34

左のマスは透明です。このマスを真ん中の太い線で矢印の方向へ折り重ねます。
このとき、隠れて灰色になってしまうマスの数だけ右の四角に○をかきます。

Figure 34 consists of 10 rows of a 4x7 grid pattern. Each row shows a grid with a vertical fold line in the center and an arrow pointing to the right. The grid is divided into two 4x3.5 sections. The left section is transparent, and the right section is shaded gray. The number of gray squares in the right section varies by row, and this number is indicated by the number of circles to be drawn in the empty square on the right.

| | | | |
|--|--------------|---|--------------|
| Grid 1: 4x7 grid with 4 gray squares in the right section. | Empty square | Grid 2: 4x7 grid with 6 gray squares in the right section. | Empty square |
| Grid 3: 4x7 grid with 4 gray squares in the right section. | Empty square | Grid 4: 4x7 grid with 6 gray squares in the right section. | Empty square |
| Grid 5: 4x7 grid with 4 gray squares in the right section. | Empty square | Grid 6: 4x7 grid with 6 gray squares in the right section. | Empty square |
| Grid 7: 4x7 grid with 4 gray squares in the right section. | Empty square | Grid 8: 4x7 grid with 6 gray squares in the right section. | Empty square |
| Grid 9: 4x7 grid with 4 gray squares in the right section. | Empty square | Grid 10: 4x7 grid with 6 gray squares in the right section. | Empty square |

※1. このプリントは、しながわ・目黒こどもスクールのウェブサイトでダウンロードができます。無断複写・引用はご遠慮ください。
※2. このプリントを活用したオンライン授業のスケジュールは、しながわ・目黒こどもスクールのウェブサイトでご確認ください。



おうちで、やろう。

Study at home. 小学校受験の家庭学習教材

推理：あみだくじ3

上の動物たちがあみだくじを進んでいくと下のどこかの記号につきます。誰がどの記号についたのかを考えてそれぞれの動物にそのついた記号をかきます。

※あみだくじのルール：①上から下へ進みます。道は戻ってはいけません。②途中で曲がり角があったら必ず曲がります。

※1. このプリントは、しながわ・目黒こどもスクールのウェブサイトでダウンロードができます。無断複写・引用はご遠慮ください。

※2. このプリントを活用したオンライン授業のスケジュールは、しながわ・目黒こどもスクールのウェブサイトでご確認ください。



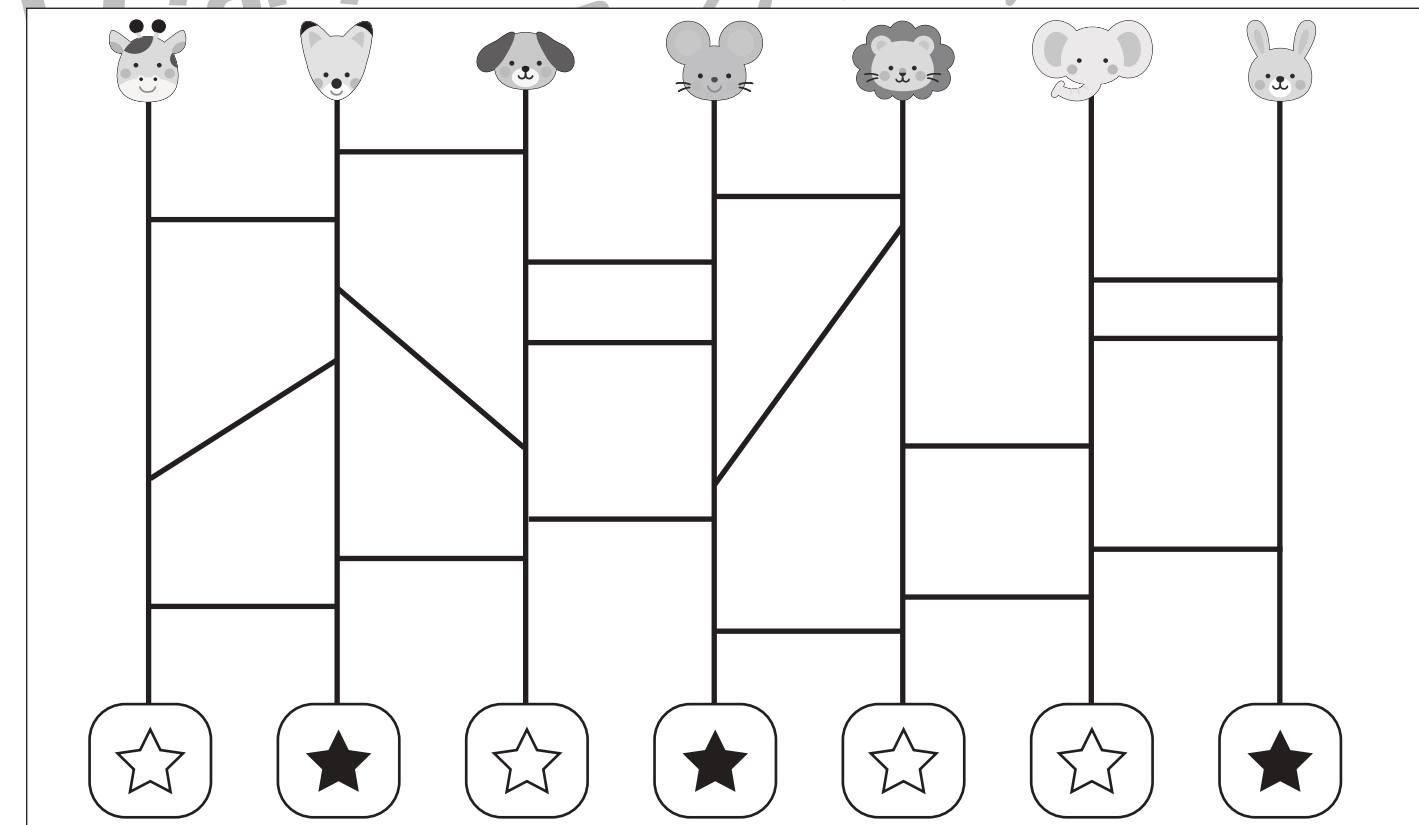
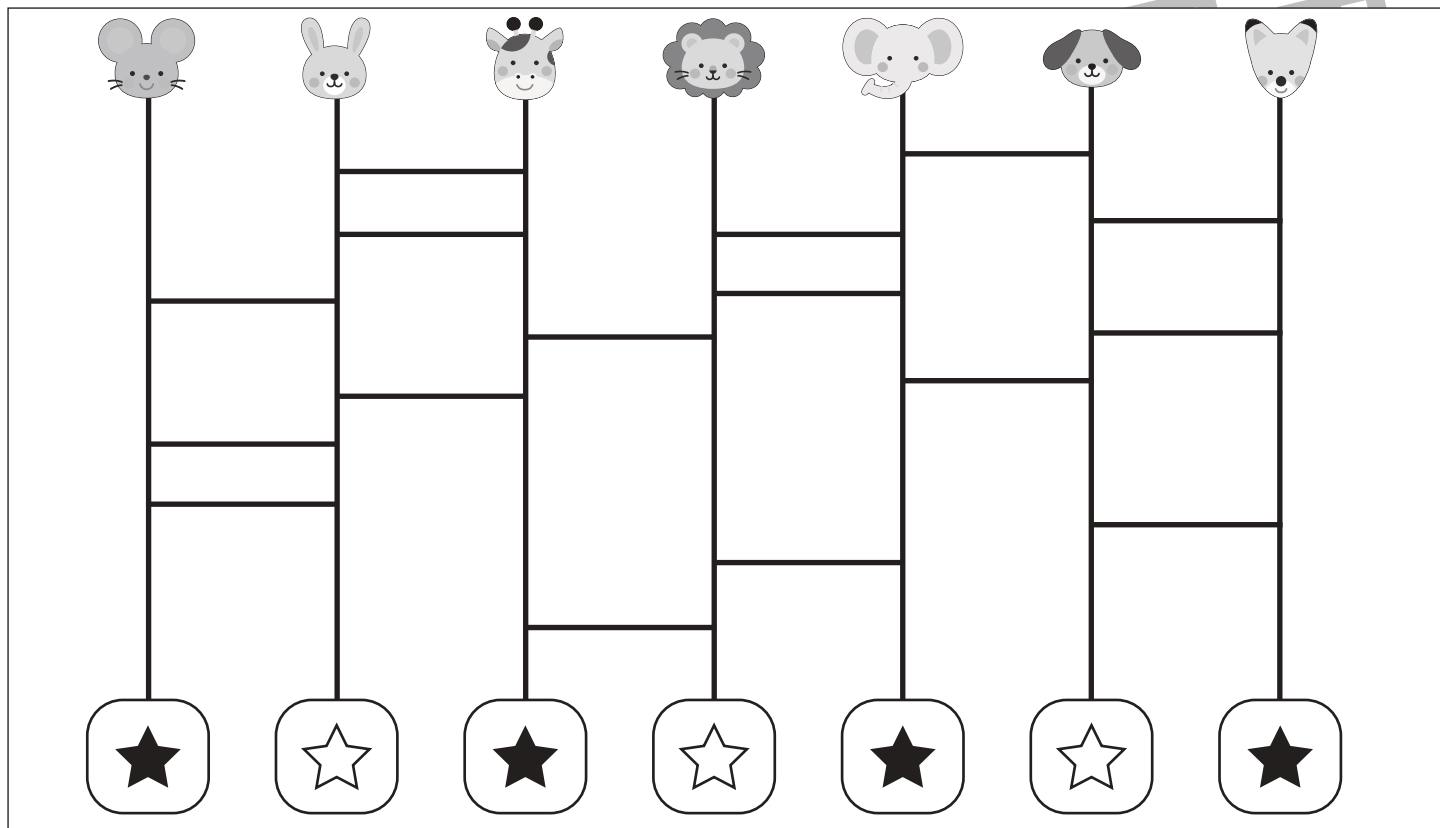
おうちで、やろう。

Study at home. 小学校受験の家庭学習教材

推理：あみだくじ4

上の動物たちがあみだくじを進んでいくと下のどこかにつきます。白い星についた動物には○、黒い星についた動物には×をつけます。

※あみだくじのルール：①上から下へ進みます。道は戻ってはいけません。②途中で曲がり角があったら必ず曲がります。



※1. このプリントは、しながわ・目黒こどもスクールのウェブサイトでダウンロードができます。無断複写・引用はご遠慮ください。

※2. このプリントを活用したオンライン授業のスケジュールは、しながわ・目黒こどもスクールのウェブサイトでご確認ください。



おうちで、やろう。


Study at home. 小学校受験の家庭学習教材

処理：運筆 12

壁にぶつからないように一周線をかきます。どこからはじめてもよいのできれいな線をかきましょう。

この問題はスピードを意識して取り組む練習をしてみましょう。(1分～1分30秒)

※えんぴつ、クーピー、水性ペンなどをしましょう。 ※この問題に解答はありません。



※1. このプリントは、しながわ・目黒こどもスクールのウェブサイトでダウンロードができます。無断複写・引用はご遠慮ください。

※2. このプリントを活用したオンライン授業のスケジュールは、しながわ・目黒こどもスクールのウェブサイトでご確認ください。



おうちで、やろう。

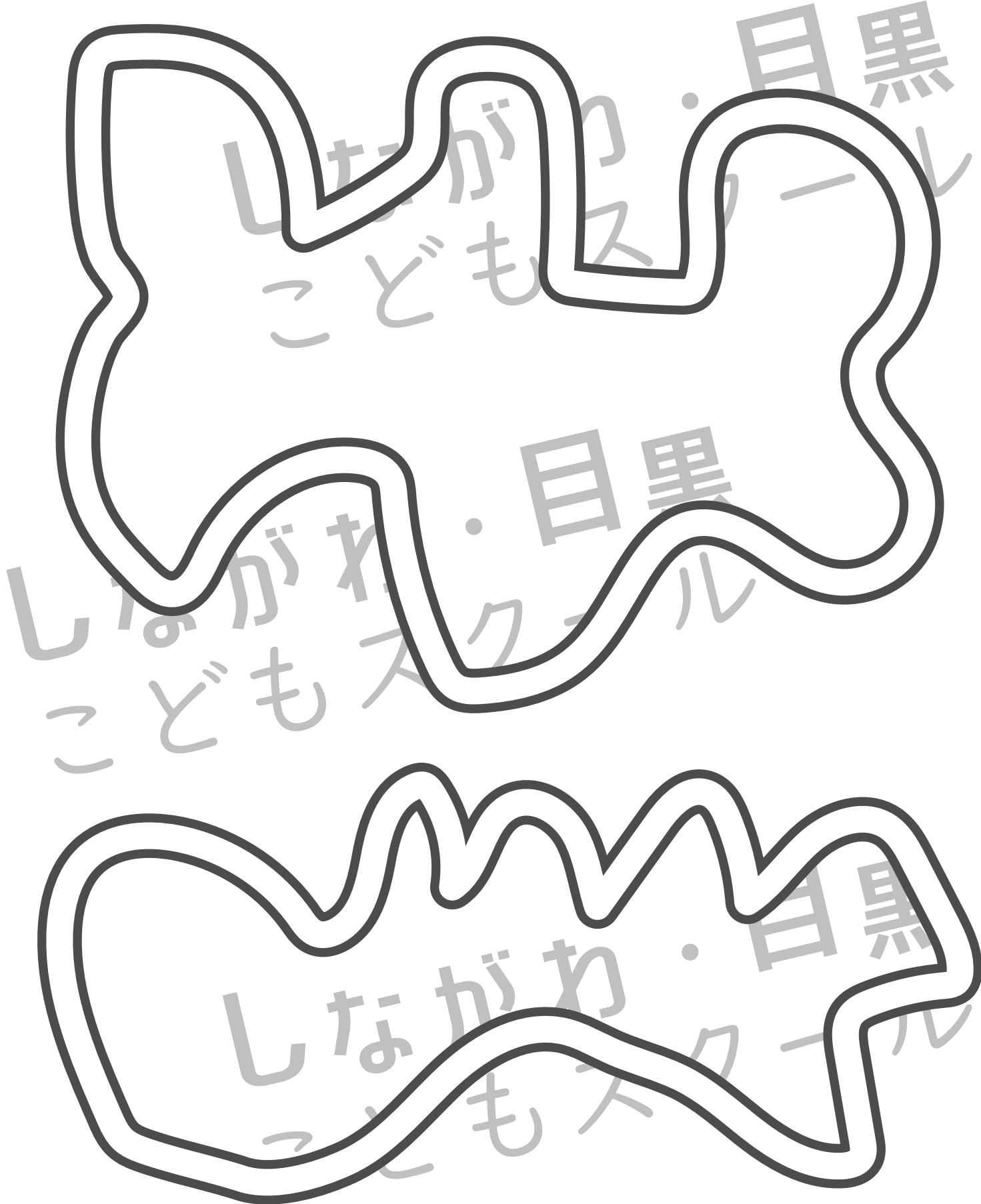
Study at home. 小学校受験の家庭学習教材

処理：運筆 13

壁にぶつからないように一周線をかきます。どこからはじめてもよいのできれいな線をかきましょう。

この問題はスピードを意識して取り組む練習をしてみましょう。(1分～1分30秒)

※えんぴつ、クーピー、水性ペンなどをしましょう。 ※この問題に解答はありません。



※1. このプリントは、しながわ・目黒こどもスクールのウェブサイトでダウンロードができます。無断複写・引用はご遠慮ください。

※2. このプリントを活用したオンライン授業のスケジュールは、しながわ・目黒こどもスクールのウェブサイトでご確認ください。



おうちで、やろう。

Study at home. 小学校受験の家庭学習教材

処理：運筆 14

壁にぶつからないように一周線をかきます。どこからはじめてもよいのできれいな線をかきましょう。

この問題はスピードを意識して取り組む練習をしてみましょう。(1分～1分30秒)

※えんぴつ、クーピー、水性ペンなどをしましょう。 ※この問題に解答はありません。



※1. このプリントは、しながわ・目黒こどもスクールのウェブサイトでダウンロードができます。無断複写・引用はご遠慮ください。

※2. このプリントを活用したオンライン授業のスケジュールは、しながわ・目黒こどもスクールのウェブサイトでご確認ください。