



おうちで、やろう。

Study at home. 小学校受験の家庭学習教材

常識：スポーツ2

①～⑤の問題を聞いて、下の四角の中から正しいものを選びます。


①私がやっているのは、ボールをゴールに蹴るスポールです。私がやっているスポーツに○をつけてください。

②私がやっているのは、バットやボールグローブを使ってするスポーツです。私がやっているスポーツに△をつけてください。

③私がやっているのは、竹刀を持って、相手の体にあてるスポーツです。私がやっているスポーツに□をつけてください。

④私がやっているのは、ボールを手でドリブルして、高い場所にあるゴールに入れるスポーツです。私がやっているスポーツに◎をつけてください。

⑤私がやっているのは、道具を使わないスポーツです。私がやっているスポーツに×をつけてください。



※1. このプリントは、しながわ・目黒こどもスクールのウェブサイトでダウンロードができます。無断複写・引用はご遠慮ください。

※2. このプリントを活用したオンライン授業のスケジュールは、しながわ・目黒こどもスクールのウェブサイトでご確認ください。



おうちで、やろう。


Study at home. 小学校受験の家庭学習教材

常識：仕事1

①～⑤の問題を聞いて、下の四角の中から正しいものを選びます。

- ①私は事故や事件の時にかけつけてみんなを守る仕事をしています。私に○をつけてください。
- ②私の店にはチューリップやカーネーションが並んでいます。私に△をつけてください。
- ③私はみんなの笑顔を見るためにおいしいものを作っています。私に□をつけてください。
- ④私は聴診器という道具をつかってみんなの体の中の音を聞きます。私に◎をつけてください。
- ⑤私はみんなの髪を切ってきれいにする仕事をしています。私に×をつけてください。

目黒



※1. このプリントは、しながわ・目黒こどもスクールのウェブサイトでダウンロードができます。無断複写・引用はご遠慮ください。
※2. このプリントを活用したオンライン授業のスケジュールは、しながわ・目黒こどもスクールのウェブサイトでご確認ください。



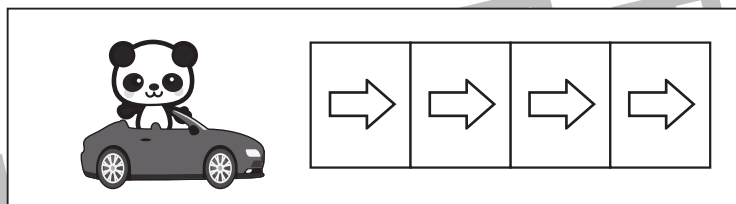



おうちで、やろう。

Study at home. 小学校受験の家庭学習教材

推理：移動1

上の四角がお約束です。ウサギが車に乗ったら2マス、パンダが車に乗ったら4マス進みます。下のように吹き出しの中の動物たちが順番に乗った車はどこに止まりますか。最後に車が止まったマスに○をつけます。



Two rabbits in a car. A thought bubble shows two rabbits. Below is a 12-space track with a circle in the 4th space.

			○								
--	--	--	---	--	--	--	--	--	--	--	--

A panda in a car. A thought bubble shows two pandas. Below is a 12-space track with a circle in the 8th space.

								○			
--	--	--	--	--	--	--	--	---	--	--	--

A panda and two rabbits in a car. A thought bubble shows a panda, a rabbit, and a rabbit. Below is a 12-space track with a circle in the 8th space.

								○			
--	--	--	--	--	--	--	--	---	--	--	--

A panda, a rabbit, a panda, and a rabbit in a car. A thought bubble shows a panda, a rabbit, a panda, and a rabbit. Below is a 12-space track with a circle in the 12th space.

											○
--	--	--	--	--	--	--	--	--	--	--	---

※1. このプリントは、しながわ・目黒こどもスクールのウェブサイトでダウンロードができます。無断複写・引用はご遠慮ください。
※2. このプリントを活用したオンライン授業のスケジュールは、しながわ・目黒こどもスクールのウェブサイトでご確認ください。


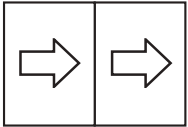

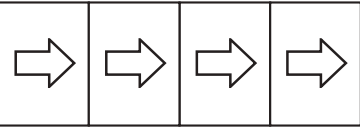

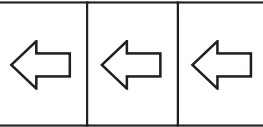


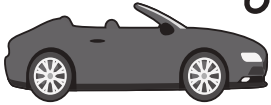

おうちで、やろう。


Study at home. 小学校受験の家庭学習教材

推理：移動2

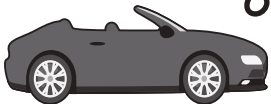

上の四角がお約束です。ウサギが車に乗ったら2マス、パンダが車に乗ったら4マス進みます。ブタが車に乗ったら3マス戻ります。下のように吹き出しの中の動物たちが順番に乗った車はどこに止まりますか。最後に車が止まったマスに○をつけます。


					
--	---	---	--	---	---






		○												
--	--	---	--	--	--	--	--	--	--	--	--	--	--	--

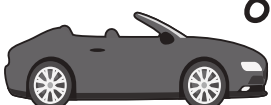




		○												
--	--	---	--	--	--	--	--	--	--	--	--	--	--	--



						○								
--	--	--	--	--	--	---	--	--	--	--	--	--	--	--



			○											
--	--	--	---	--	--	--	--	--	--	--	--	--	--	--

※1. このプリントは、しながわ・目黒こどもスクールのウェブサイトでダウンロードができます。無断複写・引用はご遠慮ください。

※2. このプリントを活用したオンライン授業のスケジュールは、しながわ・目黒こどもスクールのウェブサイトでご確認ください。





おうちで、やろう。

Study at home. 小学校受験の家庭学習教材

推理：移動3

上の四角がお約束です。イヌが車に乗ったら2マス進み、ブタが車に乗ったら4マス進みます。ウサギが車に乗ったら1マス戻り、パンダが車に乗ったら3マス戻ります。下のように吹き出しの中の動物たちが順番に乗った車はどこに止まりますか。最後に車が止まったマスに○をつけます。



				○										
--	--	--	--	---	--	--	--	--	--	--	--	--	--	--

						○								
--	--	--	--	--	--	---	--	--	--	--	--	--	--	--

								○						
--	--	--	--	--	--	--	--	---	--	--	--	--	--	--

		○												
--	--	---	--	--	--	--	--	--	--	--	--	--	--	--

※1. このプリントは、しながわ・目黒こどもスクールのウェブサイトからダウンロードできます。無断複写・引用はご遠慮ください。
 ※2. このプリントを活用したオンライン授業のスケジュールは、しながわ・目黒こどもスクールのウェブサイトでご確認ください。

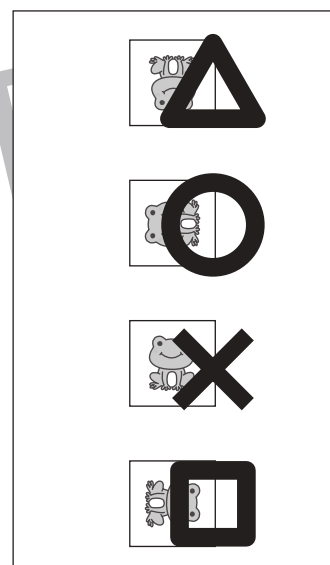
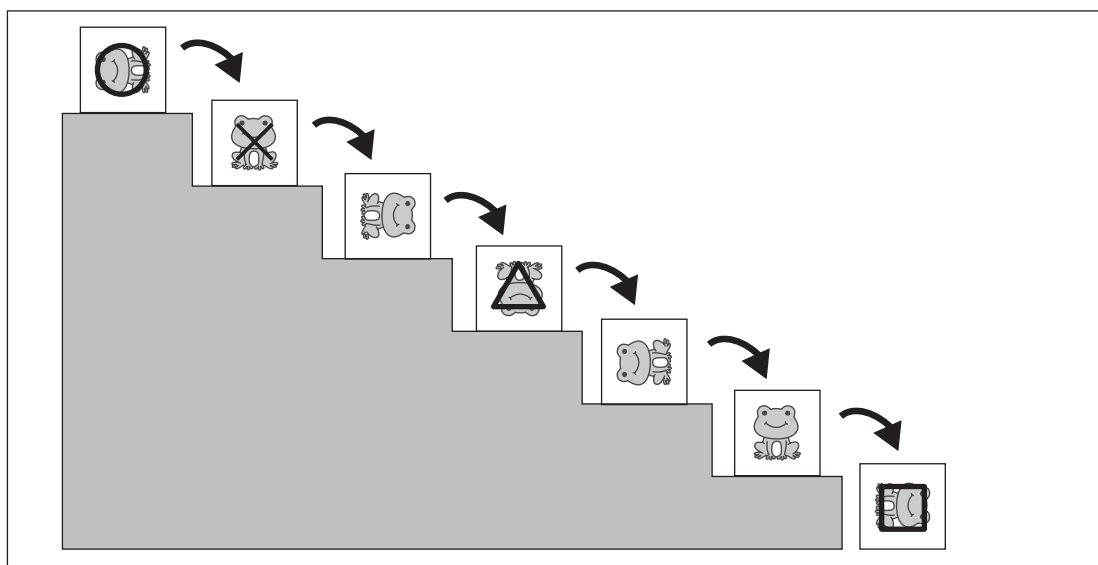
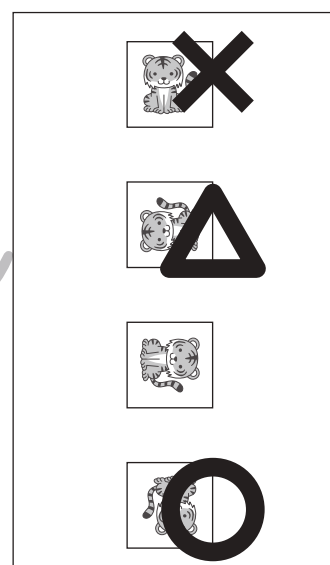
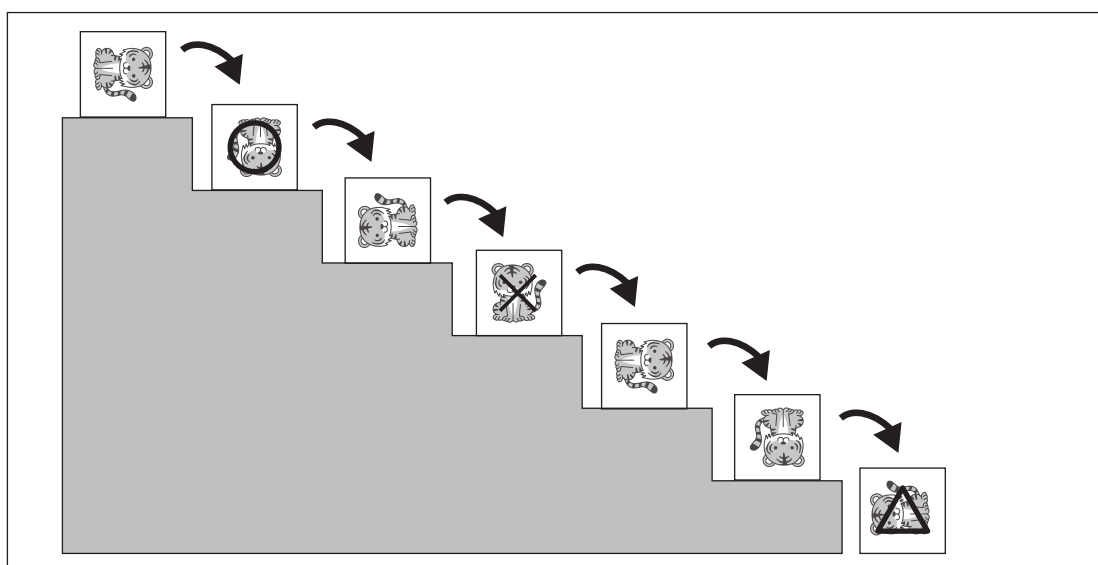

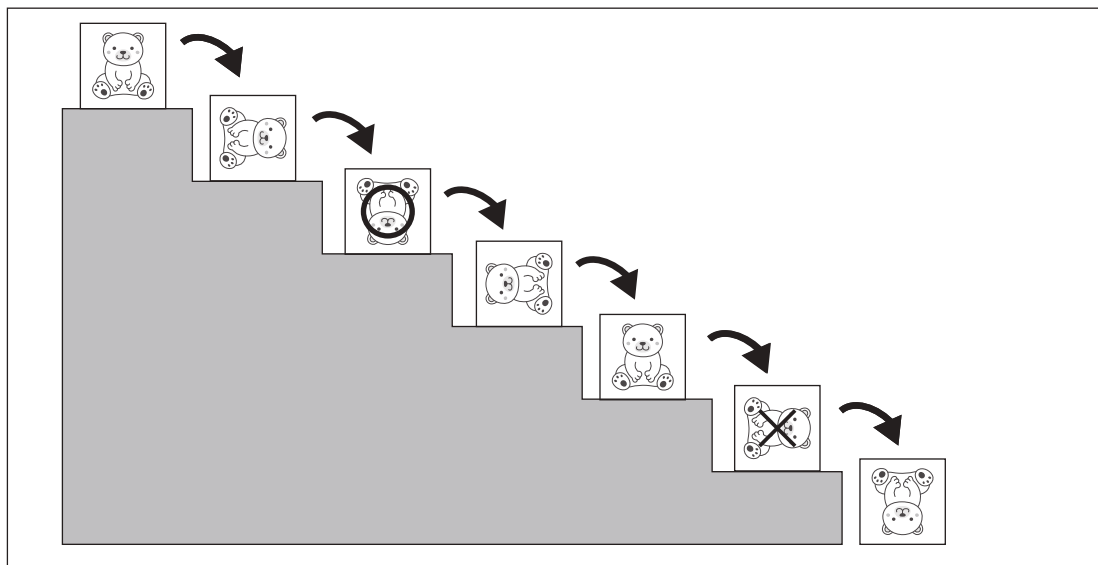


おうちで、やろう。

Study at home. 小学校受験の家庭学習教材

推理：回転4

階段の上にある箱を一段ずつ落とした時の箱に描いてある模様の見え方を考えます。
それぞれの記号の場所の見え方を右の四角の中から見つけてそれぞれの記号をつけます。



※1. このプリントは、しながわ・目黒こどもスクールのウェブサイトでダウンロードができます。無断複写・引用はご遠慮ください。
※2. このプリントを活用したオンライン授業のスケジュールは、しながわ・目黒こどもスクールのウェブサイトでご確認ください。

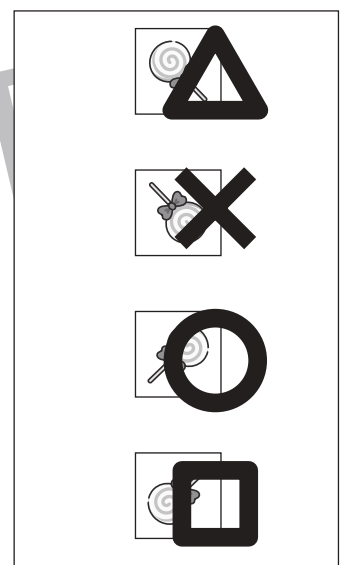
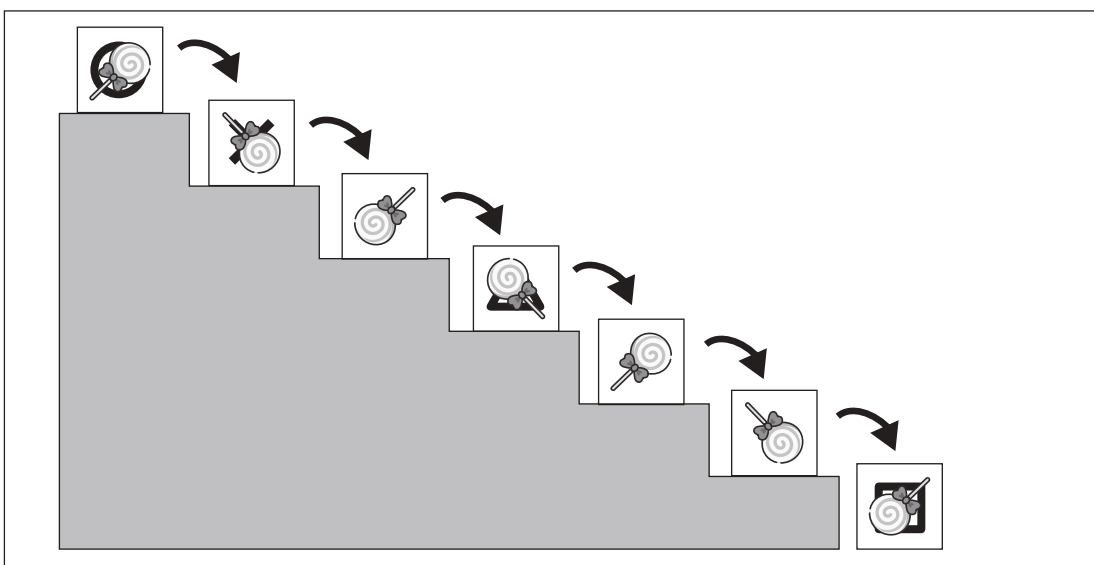
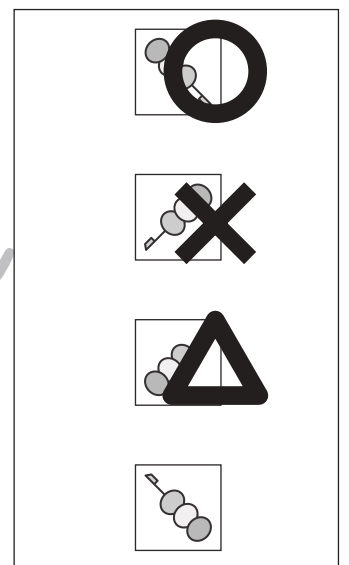
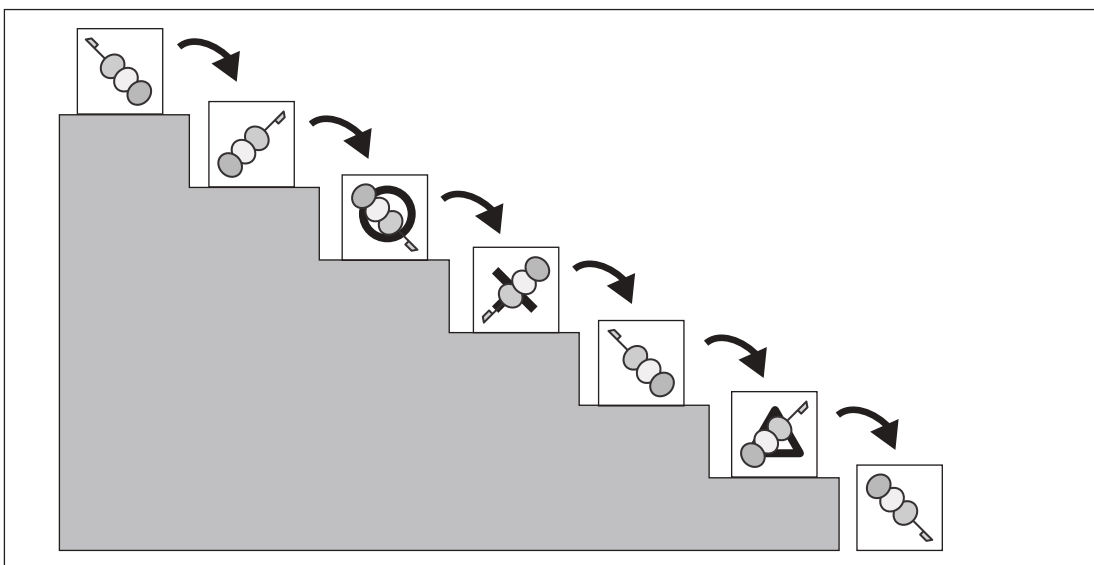
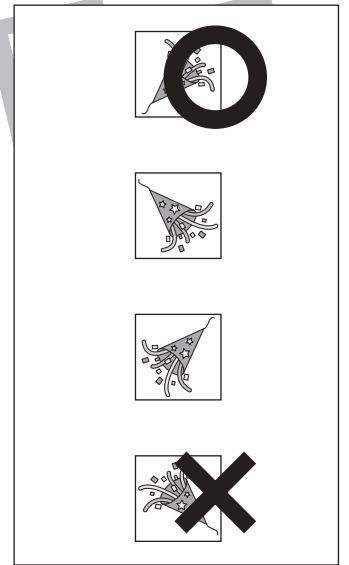
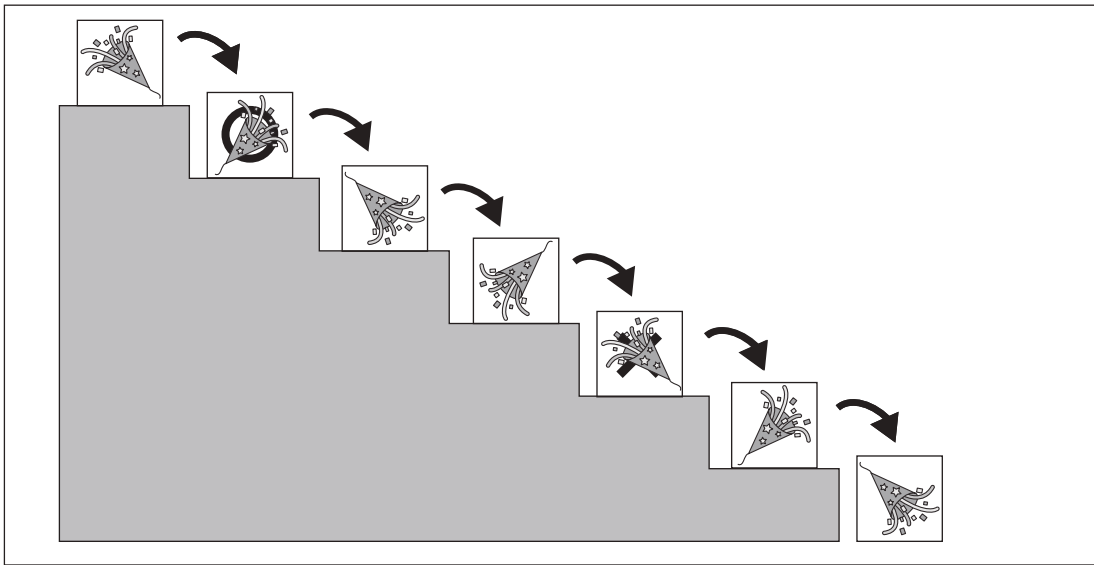


おうちで、やろう。

Study at home. 小学校受験の家庭学習教材

推理：回転5

階段の上にある箱を一段ずつ落とした時の箱に描いてある模様の見え方を考えます。
それぞれの記号の場所の見え方を右の四角の中から見つけてそれぞれの記号をつけます。



※1. このプリントは、しながわ・目黒こどもスクールのウェブサイトでダウンロードができます。無断複写・引用はご遠慮ください。
※2. このプリントを活用したオンライン授業のスケジュールは、しながわ・目黒こどもスクールのウェブサイトでご確認ください。



おうちで、やろう。

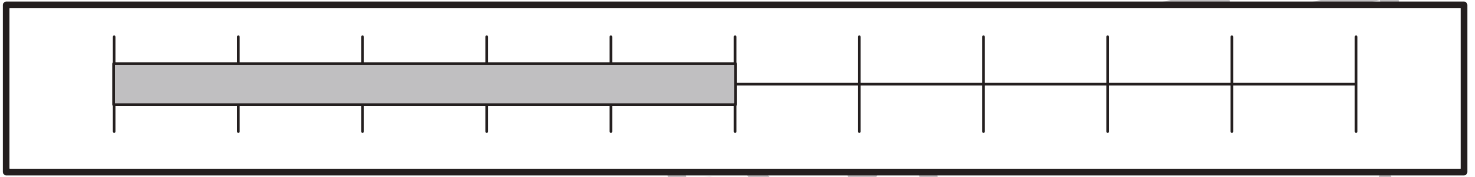
Study at home. 小学校受験の家庭学習教材

数量：長さ3

上の太い四角の棒の長さがお手本です。①②の問題に答えましょう。

①お手本と同じ長さの棒をみつけて○をつけます。

②お手本より短い棒には○、お手本より長い棒には×をつけます。



①

②

※1. このプリントは、しながわ・目黒こどもスクールのウェブサイトでダウンロードができます。無断複写・引用はご遠慮ください。

※2. このプリントを活用したオンライン授業のスケジュールは、しながわ・目黒こどもスクールのウェブサイトでご確認ください。



おうちで、やろう。

Study at home. 小学校受験の家庭学習教材

数量：長さ4

一番上の太い四角の中の棒の長さがお手本です。下の四角の棒の長さを合わせてお手本と同じ長さになるものを下の四角の中から選び○をつけます。

A large rectangle containing a thick gray bar at the top. Below it is a horizontal line with 10 vertical tick marks, creating 10 equal segments. The bar's length is exactly 4 segments.

A box containing three gray bars of different lengths: one of length 3, one of length 4, and one of length 5. Below them is a ruler with 5 segments. The bar of length 3 is circled with a thick black line.

A box containing three gray bars of different lengths: one of length 3, one of length 4, and one of length 5. Below them is a ruler with 5 segments. The bar of length 4 is circled with a thick black line.

A box containing three gray bars of different lengths: one of length 2, one of length 4, and one of length 5. Below them is a ruler with 5 segments. The bar of length 4 is circled with a thick black line.

A box containing three gray bars of different lengths: one of length 3, one of length 4, and one of length 5. Below them is a ruler with 5 segments. The bar of length 4 is circled with a thick black line.

A box containing three gray bars of different lengths: one of length 2, one of length 3, and one of length 4. Below them is a ruler with 5 segments. The bar of length 4 is circled with a thick black line.

A box containing three gray bars of different lengths: one of length 3, one of length 4, and one of length 5. Below them is a ruler with 5 segments. The bar of length 4 is circled with a thick black line.

※1. このプリントは、しながわ・目黒こどもスクールのウェブサイトでダウンロードができます。無断複写・引用はご遠慮ください。
 ※2. このプリントを活用したオンライン授業のスケジュールは、しながわ・目黒こどもスクールのウェブサイトでご確認ください。