




おうちで、やろう。

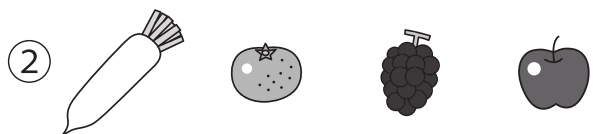
Study at home. 小学校受験の家庭学習教材

言語：音の数 14

動物たちは上の食べ物を食べるとその食べ物の音の数だけ矢印の方向へマスを進みます。全部食べた後の動物たちの場所に○をつけます。




									
		→							



									
							←		



								↓	

※1. このプリントは、しながわ・目黒こどもスクールのウェブサイトでダウンロードができます。無断複写・引用はご遠慮ください。

※2. このプリントを活用したオンライン授業のスケジュールは、しながわ・目黒こどもスクールのウェブサイトでご確認ください。



おうちで、やろう。


Study at home. 小学校受験の家庭学習教材

言語：音の数 15

動物たちは上の食べ物を食べるとその食べ物の音の数だけ矢印の方向へマスを進みます。全部食べた後の動物たちの場所に○をつけます。


①



			→						
									


②



									
	←								

③



	↑								

※1. このプリントは、しながわ・目黒こどもスクールのウェブサイトでダウンロードができます。無断複写・引用はご遠慮ください。
 ※2. このプリントを活用したオンライン授業のスケジュールは、しながわ・目黒こどもスクールのウェブサイトでご確認ください。



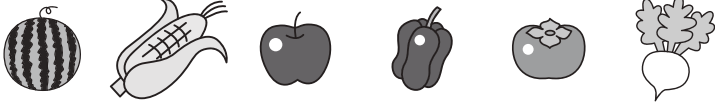
おうちで、やろう。

Study at home. 小学校受験の家庭学習教材

言語：音の数 16

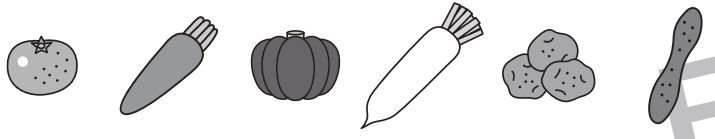
動物たちは上の食べ物を食べるとその食べ物の音の数だけ矢印の方向へマスを進みます。全部食べた後の動物たちの場所に○をつけます。

①






②





③





※1. このプリントは、しながわ・目黒こどもスクールのウェブサイトにてダウンロードができます。無断複写・引用はご遠慮ください。
※2. このプリントを活用したオンライン授業のスケジュールは、しながわ・目黒こどもスクールのウェブサイトにてご確認ください。





おうちで、やろう。

Study at home. 小学校受験の家庭学習教材

図形：反転 8

左の見本は透明な板にかかれた模様です。この板を上への矢印の方向へくると裏返しにした時の見え方を考えて右にかきます。

※1. このプリントは、しながわ・目黒こどもスクールのウェブサイトにてダウンロードができます。無断複写・引用はご遠慮ください。
 ※2. このプリントを活用したオンライン授業のスケジュールは、しながわ・目黒こどもスクールのウェブサイトにてご確認ください。



おうちで、やろう。

Study at home. 小学校受験の家庭学習教材

図形：反転9

左の見本は透明な板にかかれた模様です。この板を上の方の矢印の方向へくると裏返しにした時の見え方を考えて右にかきます。

Figure 9: Reflection exercise. The page is divided into two columns by a vertical line. Each row contains four square grids. The first grid in each row shows a shape on a 5x5 dot grid with a rotation arrow above it. The second grid shows the same dot grid with a small circle around a dot, indicating the starting point for the reflection. The third grid shows the shape after being reflected across the vertical line. The fourth grid shows the dot grid with a small circle around a dot, indicating the starting point for the reflection.

※1. このプリントは、しながわ・目黒こどもスクールのウェブサイトでダウンロードができます。無断複写・引用はご遠慮ください。
 ※2. このプリントを活用したオンライン授業のスケジュールは、しながわ・目黒こどもスクールのウェブサイトでご確認ください。


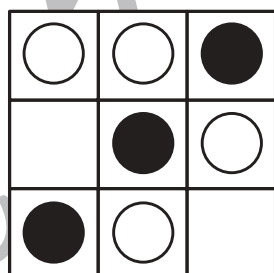
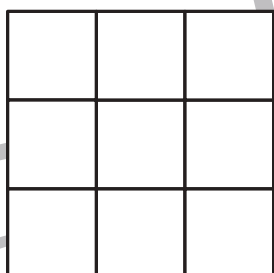
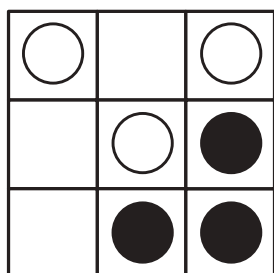
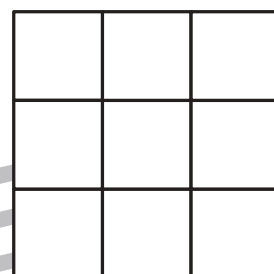
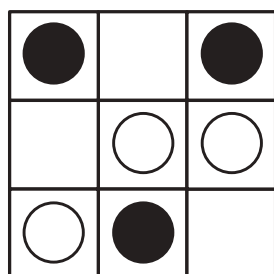
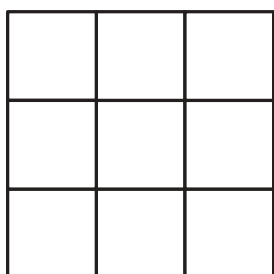

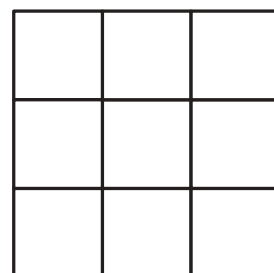

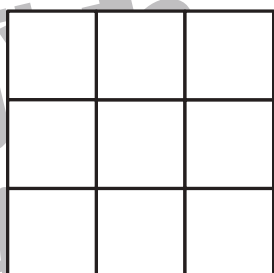
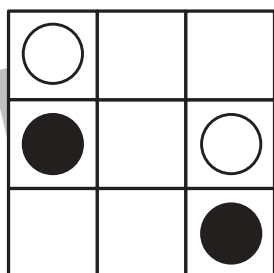
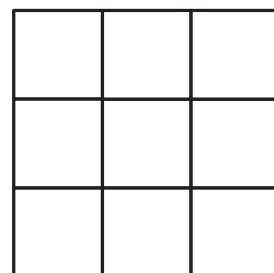
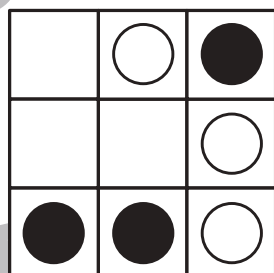

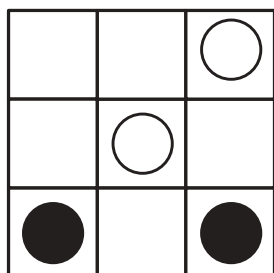

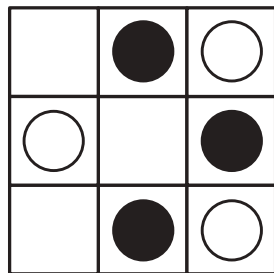
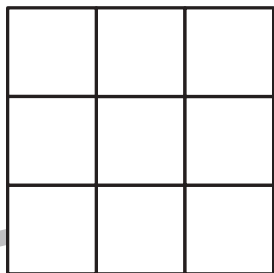
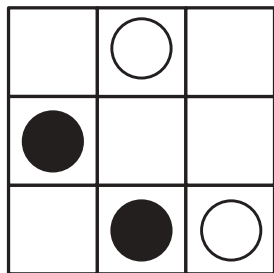


おうちで、やろう。

Study at home. 小学校受験の家庭学習教材

図形：模写 14

左の四角がお手本です。右の四角にお手本の黒丸を白丸にかえて右の四角の同じ場所にかきます。



※1. このプリントは、しながわ・目黒こどもスクールのウェブサイトからダウンロードできます。無断複写・引用はご遠慮ください。
※2. このプリントを活用したオンライン授業のスケジュールは、しながわ・目黒こどもスクールのウェブサイトでご確認ください。





おうちで、よろう。

Study at home. 小学校受験の家庭学習教材

数量：長さ5

一番上の太い四角の中の棒の長さがお手本です。下の四角の棒の長さを合わせてお手本と同じ長さになるものを下の四角の中から選び○をつけます。

※1. このプリントは、しながわ・目黒こどもスクールのウェブサイトでダウンロードができます。無断複写・引用はご遠慮ください。
 ※2. このプリントを活用したオンライン授業のスケジュールは、しながわ・目黒こどもスクールのウェブサイトでご確認ください。



おうちで、よろう。

Study at home. 小学校受験の家庭学習教材

数量：長さ6

一番上の太い四角の中の棒の長さがお手本です。下の四角の棒の長さを合わせてお手本と同じ長さになるものを下の四角の中から選び○をつけます。

※1. このプリントは、しながわ・目黒こどもスクールのウェブサイトでダウンロードができます。無断複写・引用はご遠慮ください。
 ※2. このプリントを活用したオンライン授業のスケジュールは、しながわ・目黒こどもスクールのウェブサイトでご確認ください。



おうちで、よろう。

Study at home. 小学校受験の家庭学習教材

数量：長さ7

一番上の太い四角の中の棒の長さがお手本です。下の四角の棒の長さを合わせてお手本と同じ長さになるものを下の四角の中から選び○をつけます。

※1. このプリントは、しながわ・目黒こどもスクールのウェブサイトでダウンロードができます。無断複写・引用はご遠慮ください。
 ※2. このプリントを活用したオンライン授業のスケジュールは、しながわ・目黒こどもスクールのウェブサイトでご確認ください。



おうちで、やろう。

Study at home. 小学校受験の家庭学習教材

処理：模写 15

上のマスにある記号を下のマスの同じ場所にかきます。

このプリントはスピードを意識して取り組みましょう。(各 30 秒～1 分) ※このプリントに解答はありません。

				○				×
	△	△	○			△		
○	○		×	△			×	
		×			○	▽		○



△		○		×	×			×
			/		○		/	
○		×	△			○		△
	○	○	/	△	/	▽		



※1. このプリントは、しながわ・目黒こどもスクールのウェブサイトでダウンロードができます。無断複写・引用はご遠慮ください。
 ※2. このプリントを活用したオンライン授業のスケジュールは、しながわ・目黒こどもスクールのウェブサイトでご確認ください。