

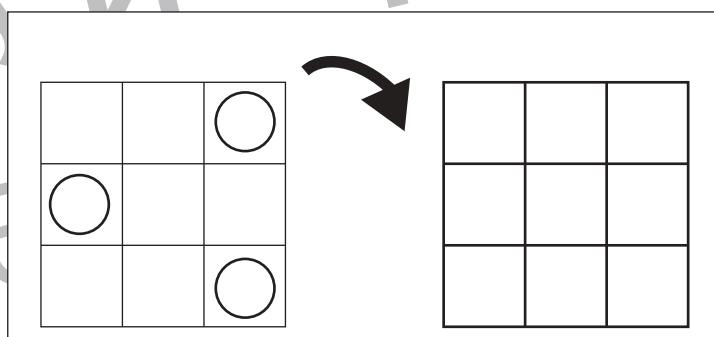
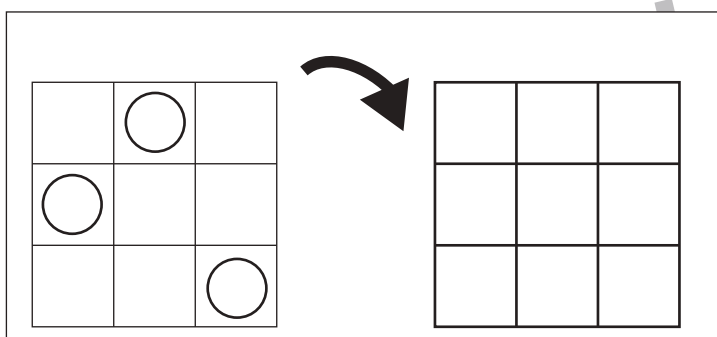
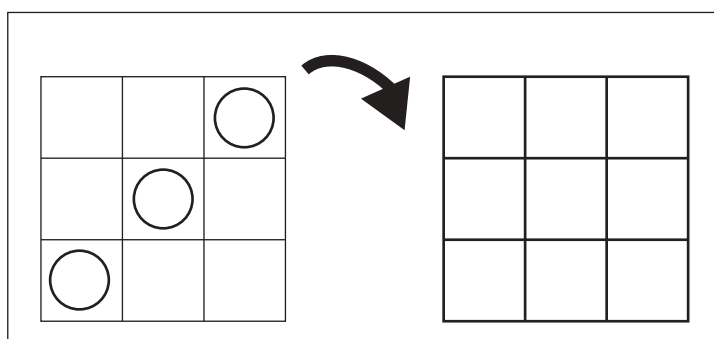
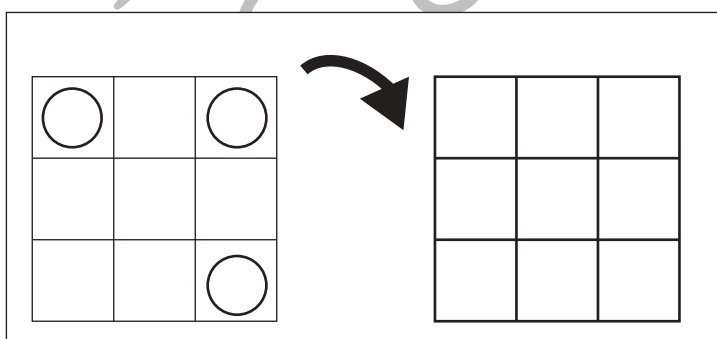
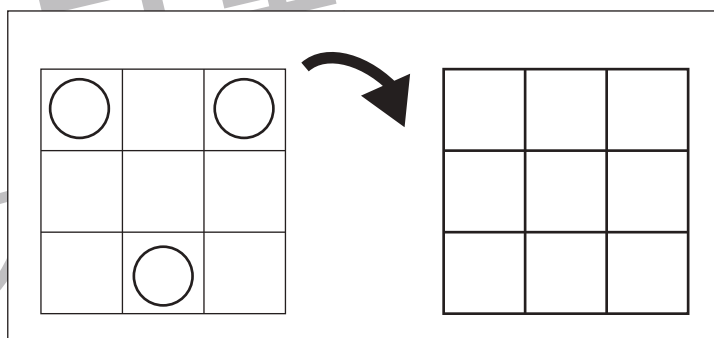
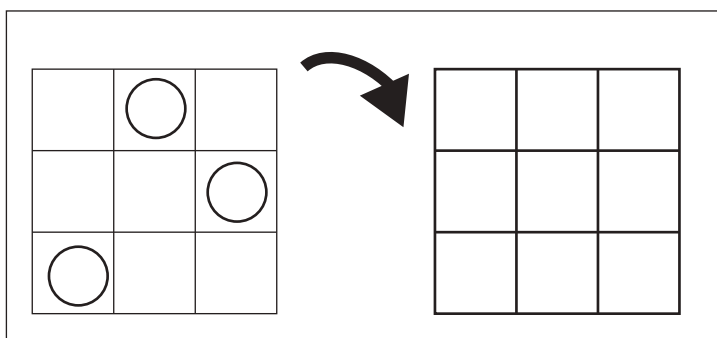
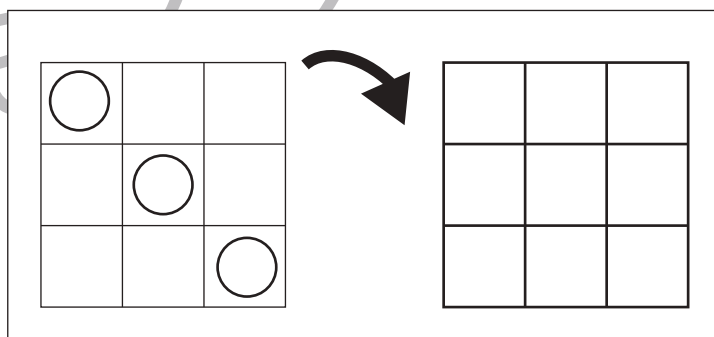
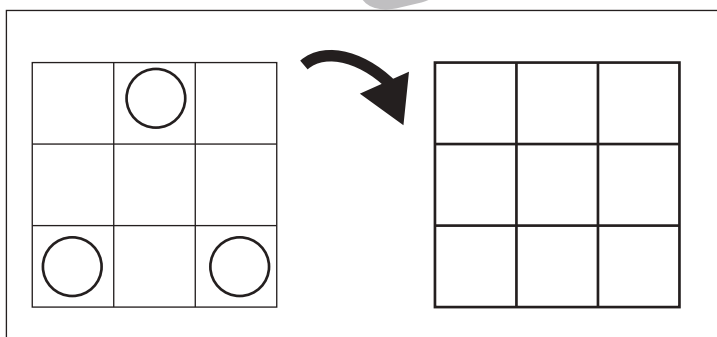
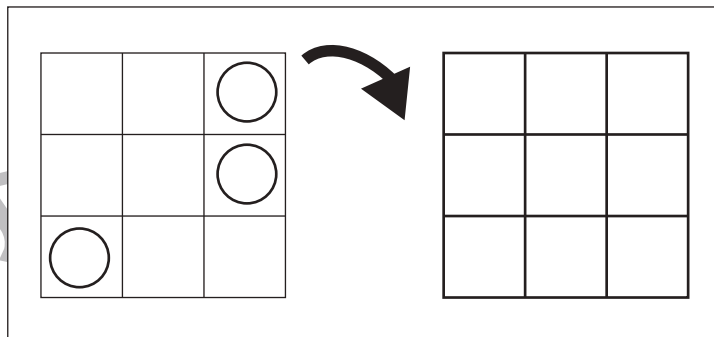
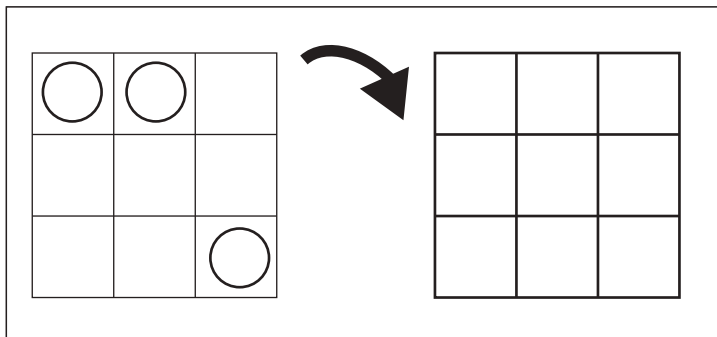


おうちで、やろう。

Study at home. 小学校受験の家庭学習教材

図形：回転 35

左のお手本を矢印の方向へ 1 回倒した時の見え方を考えて右の四角にかきます。



※1. このプリントは、しながわ・目黒こどもスクールのウェブサイトでダウンロードができます。無断複写・引用はご遠慮ください。
 ※2. このプリントを活用したオンライン授業のスケジュールは、しながわ・目黒こどもスクールのウェブサイトでご確認ください。



おうちで、やろう。

Study at home. 小学校受験の家庭学習教材

図形：回転 36

右のお手本を矢印の方向へ 1 回倒した時の見え方を考えて左の四角にかきます。

Figure 1: A 3x3 grid on the left and a 3x3 grid on the right with circles at (1,1), (3,1), and (3,3). An arrow points from the right grid to the left grid.

Figure 2: A 3x3 grid on the left and a 3x3 grid on the right with circles at (1,3), (3,1), and (3,2). An arrow points from the right grid to the left grid.

Figure 3: A 3x3 grid on the left and a 3x3 grid on the right with circles at (1,3), (2,3), and (3,1). An arrow points from the right grid to the left grid.

Figure 4: A 3x3 grid on the left and a 3x3 grid on the right with circles at (1,1), (2,2), and (3,3). An arrow points from the right grid to the left grid.

Figure 5: A 3x3 grid on the left and a 3x3 grid on the right with circles at (1,1), (2,1), and (3,3). An arrow points from the right grid to the left grid.

Figure 6: A 3x3 grid on the left and a 3x3 grid on the right with circles at (1,3), (2,2), and (3,1). An arrow points from the right grid to the left grid.

Figure 7: A 3x3 grid on the left and a 3x3 grid on the right with circles at (1,1), (2,3), and (3,2). An arrow points from the right grid to the left grid.

Figure 8: A 3x3 grid on the left and a 3x3 grid on the right with circles at (1,2), (2,1), and (3,3). An arrow points from the right grid to the left grid.

※1. このプリントは、しながわ・目黒こどもスクールのウェブサイトでダウンロードができます。無断複写・引用はご遠慮ください。
 ※2. このプリントを活用したオンライン授業のスケジュールは、しながわ・目黒こどもスクールのウェブサイトでご確認ください。



おうちで、やろう。

Study at home. 小学校受験の家庭学習教材

図形：回転 37

お手本を矢印の方向へ 1 回倒した時の見え方を考えて隣の四角にかきます。

Figure 37: Rotation. A 3x3 grid with circles in various positions. An arrow indicates a 90-degree clockwise rotation. The task is to draw the resulting grid in the adjacent empty space.

		○
		○
○		

○		
		○
	○	

		○
○		
○		

		○
		○

	○	
		○
○		

○		○
	○	

		○
○		○

○		
○		
		○

		○
	○	

		○
		○

※1. このプリントは、しながわ・目黒こどもスクールのウェブサイトからダウンロードできます。無断複写・引用はご遠慮ください。
 ※2. このプリントを活用したオンライン授業のスケジュールは、しながわ・目黒こどもスクールのウェブサイトでご確認ください。

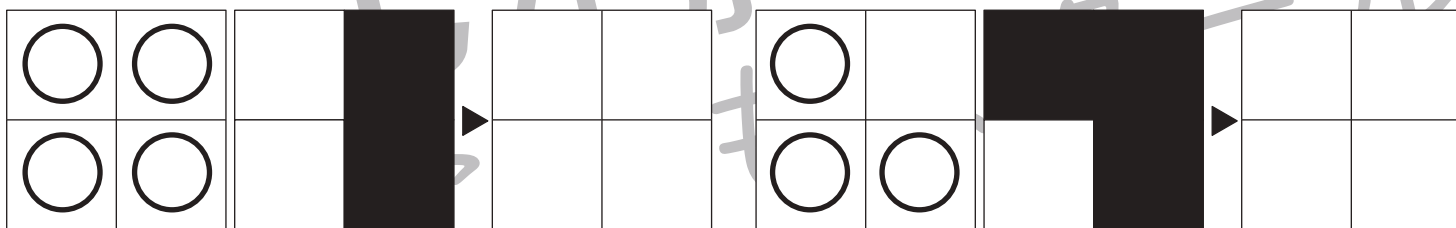
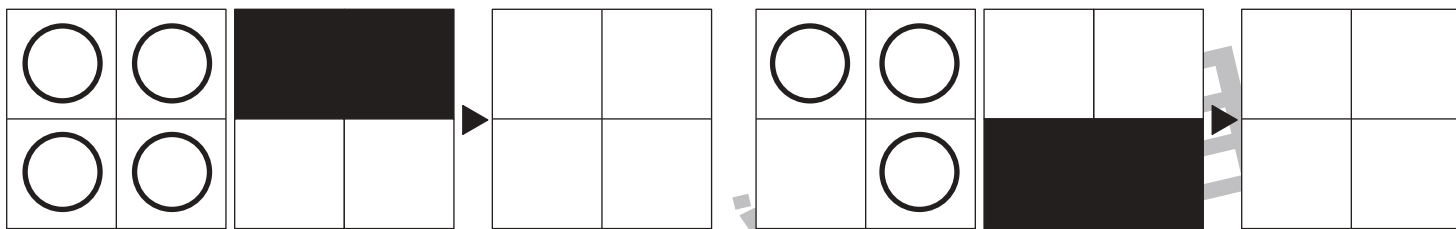

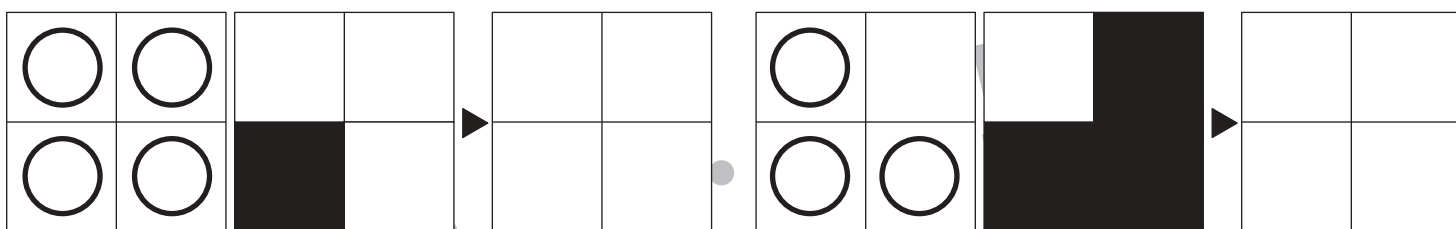
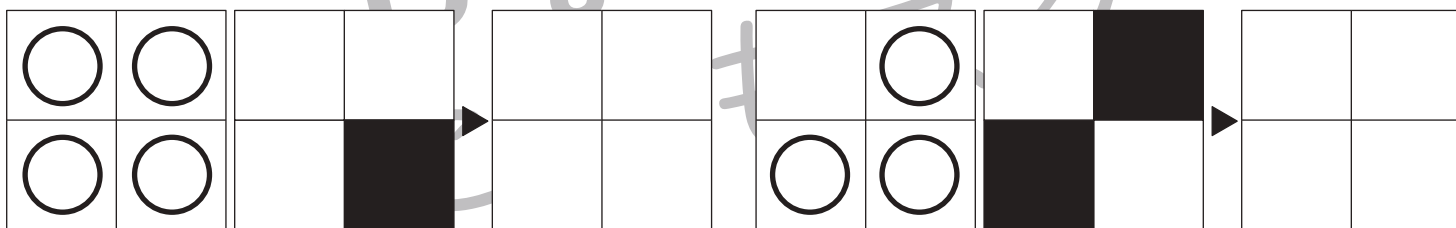
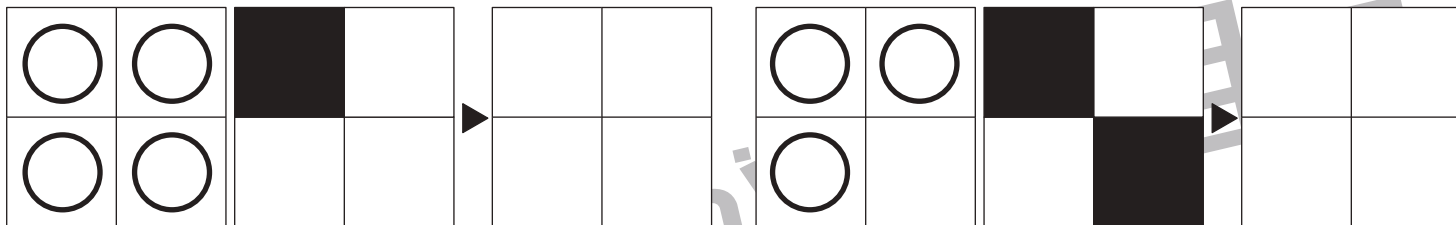


おうちで、やろう。

Study at home. 小学校受験の家庭学習教材

図形：重ね 30

左の2つの四角は透明です。この2つを重ねたとき、隠れずに見えている○を右の四角にかきます。



※1. このプリントは、しながわ・目黒こどもスクールのウェブサイトでダウンロードができます。無断複写・引用はご遠慮ください。
 ※2. このプリントを活用したオンライン授業のスケジュールは、しながわ・目黒こどもスクールのウェブサイトでご確認ください。



おうちで、やろう。

Study at home. 小学校受験の家庭学習教材

図形：重ね 31

左の2つの四角は透明です。この2つを重ねたとき、隠れずに見えている○を右の四角にかきます。

○	○	○						
○	○	○						
○	○	○						

○	○	○						
○	○	○						
○	○	○						

○	○	○						
○	○	○						
○	○	○						

○	○	○						
○	○	○						
○	○	○						

○	○	○						
○	○	○						
○	○	○						

○	○	○						
○	○	○						
○	○	○						

※1. このプリントは、しながわ・目黒こどもスクールのウェブサイトでダウンロードができます。無断複写・引用はご遠慮ください。
 ※2. このプリントを活用したオンライン授業のスケジュールは、しながわ・目黒こどもスクールのウェブサイトでご確認ください。



おうちで、やろう。

Study at home. 小学校受験の家庭学習教材

図形：重ね 32

左の2つの四角は透明です。この2つを重ねたとき、隠れずに見えている○を右の四角にかきます。

○	○	○	■	■	■	□	□	□
○	○	○	■	■	■	□	□	□
○	○	○	■	■	■	□	□	□

○	○	○	■	■	■	□	□	□
○	○	○	■	■	■	□	□	□
○	○	○	■	■	■	□	□	□

○	○	○	■	■	■	□	□	□
○	○	○	■	■	■	□	□	□
○	○	○	■	■	■	□	□	□

○	○	○	■	■	■	□	□	□
○	○	○	■	■	■	□	□	□
○	○	○	■	■	■	□	□	□

○	○	○	■	■	■	□	□	□
○	○	○	■	■	■	□	□	□
○	○	○	■	■	■	□	□	□

○	○	○	■	■	■	□	□	□
○	○	○	■	■	■	□	□	□
○	○	○	■	■	■	□	□	□

※1. このプリントは、しながわ・目黒こどもスクールのウェブサイトでダウンロードができます。無断複写・引用はご遠慮ください。
 ※2. このプリントを活用したオンライン授業のスケジュールは、しながわ・目黒こどもスクールのウェブサイトでご確認ください。










おうちで、やろう。

Study at home. 小学校受験の家庭学習教材

数量：合わせた数 9

左の白い星と右の灰色の星が合わせて8になるように点と点を線で結びます。



※1. このプリントは、しながわ・目黒こどもスクールのウェブサイトでダウンロードができます。無断複写・引用はご遠慮ください。
※2. このプリントを活用したオンライン授業のスケジュールは、しながわ・目黒こどもスクールのウェブサイトでご確認ください。














おうちで、やろう。

Study at home. 小学校受験の家庭学習教材

数量：合わせた数 10

左の白い星と右の灰色の星が合わせて 10 になるように点と点を線で結びます。



※1. このプリントは、しながわ・目黒こどもスクールのウェブサイトでダウンロードができます。無断複写・引用はご遠慮ください。
※2. このプリントを活用したオンライン授業のスケジュールは、しながわ・目黒こどもスクールのウェブサイトでご確認ください。












おうちで、やろう。

Study at home. 小学校受験の家庭学習教材

数量：合わせた数 11

左の白い星と右の灰色の星が合わせて 11 になるように点と点を線で結びます。



※1. このプリントは、しながわ・目黒こどもスクールのウェブサイトでダウンロードができます。無断複写・引用はご遠慮ください。
※2. このプリントを活用したオンライン授業のスケジュールは、しながわ・目黒こどもスクールのウェブサイトでご確認ください。



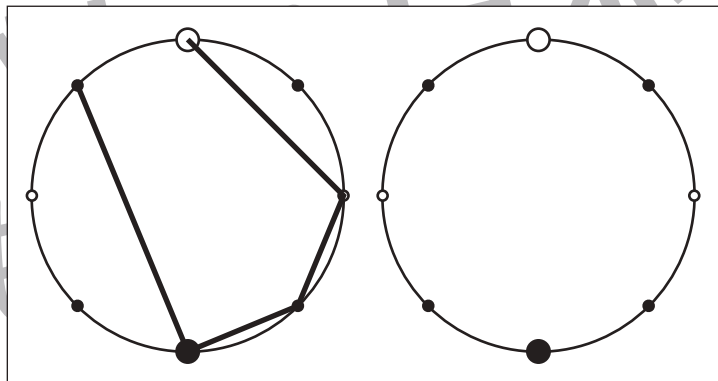
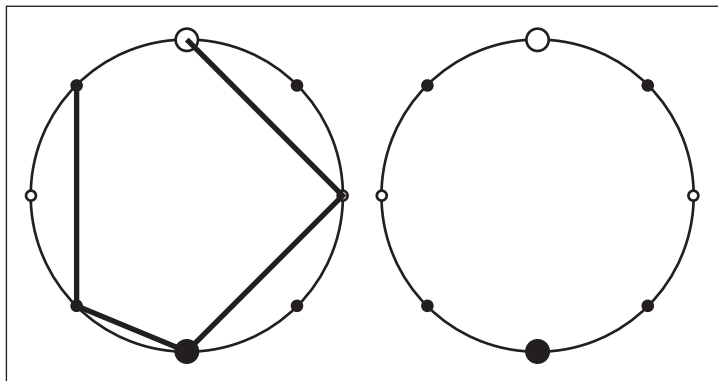
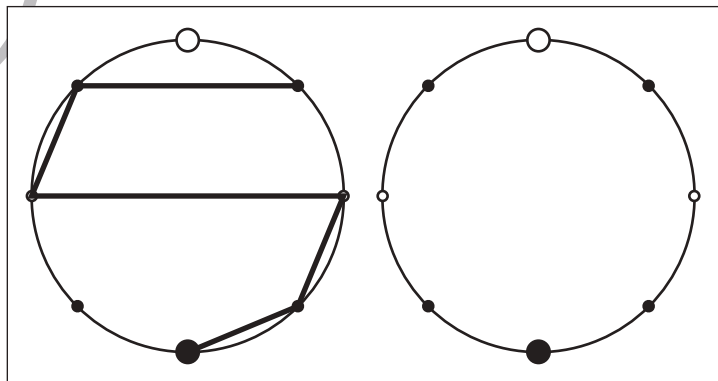
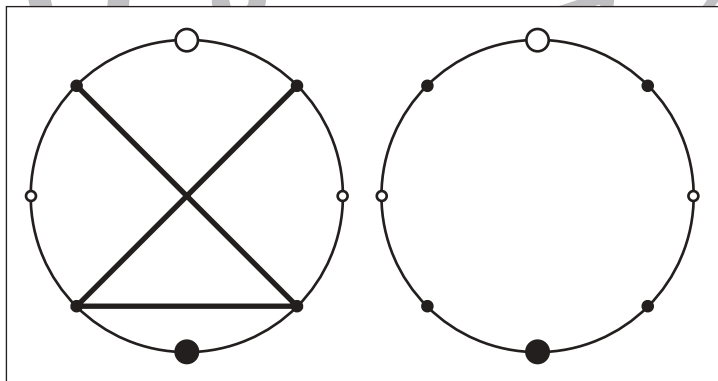
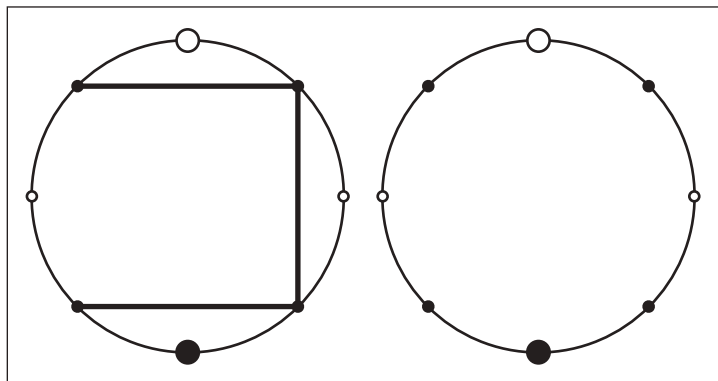
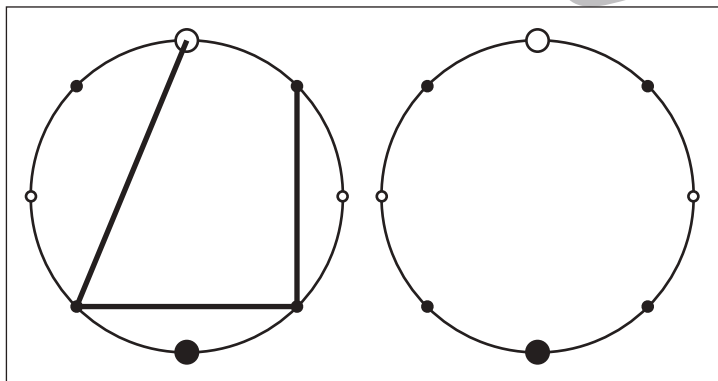
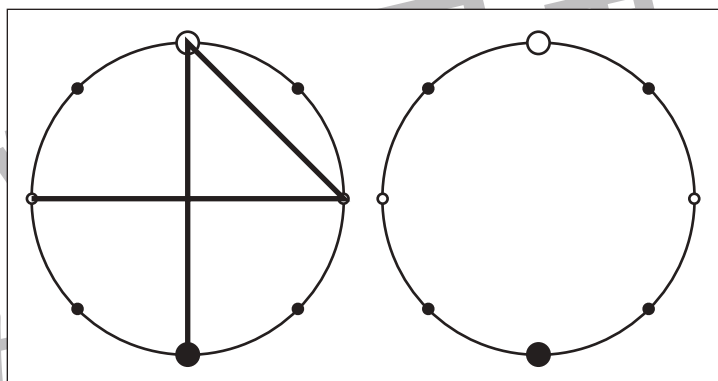
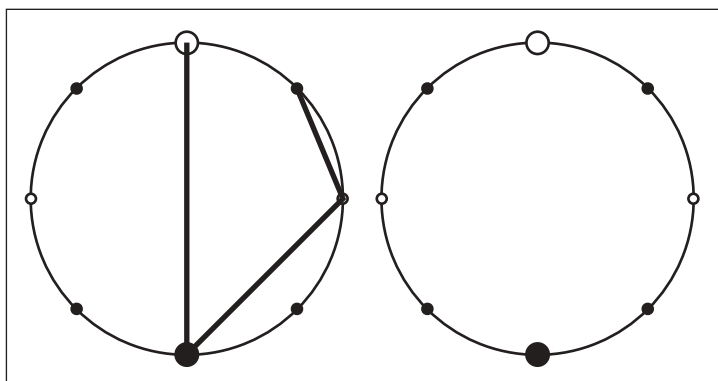


おうちで、やろう。

Study at home. 小学校受験の家庭学習教材

図形：点図形 38

左のお手本を見て、右にそっくり描き写しましょう。※このプリントに解答はありません。



※1. このプリントは、しながわ・目黒こどもスクールのウェブサイトでダウンロードができます。無断複写・引用はご遠慮ください。
※2. このプリントを活用したオンライン授業のスケジュールは、しながわ・目黒こどもスクールのウェブサイトでご確認ください。