

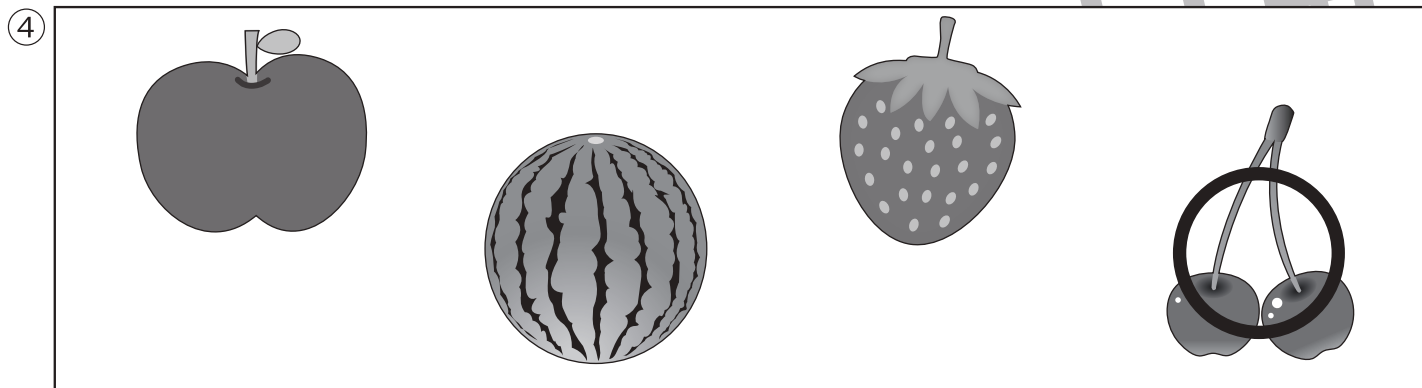





おうちで、やろう。 年中児版

Study at home. 小学校受験の家庭学習教材

推理：なぞなぞ7

- ①～④のなぞなぞをといて、答えに○をつけましょう。
- ①ぼうしの なかに かくれている どうぶつは なんでしょう。
- ②そらから ぶってくる あまい おかしは なんでしょう。
- ③「と」の かげに かくれている いきものは なんでしょう。
- ④あかいかおの ふたごの くだものは なんでしょう。



※1. このプリントは、しながわ・目黒こどもスクールのウェブサイトからダウンロードできます。無断複写・引用はご遠慮ください。
 ※2. このプリントを活用したオンライン授業のスケジュールは、しながわ・目黒こどもスクールのウェブサイトでご確認ください。





おうちで、やろう。年中児版


Study at home. 小学校受験の家庭学習教材


数量：計数3

大きな四角の中のくだもの数をそれぞれかぞえて、その数だけ下の四角に○をかきます。



	$\bigcirc \times 5$
---	---------------------

	$\bigcirc \times 3$
---	---------------------

	$\bigcirc \times 6$
---	---------------------

	$\bigcirc \times 4$
---	---------------------

※1. このプリントは、しながわ・目黒こどもスクールのウェブサイトでダウンロードができます。無断複写・引用はご遠慮ください。
※2. このプリントを活用したオンライン授業のスケジュールは、しながわ・目黒こどもスクールのウェブサイトでご確認ください。

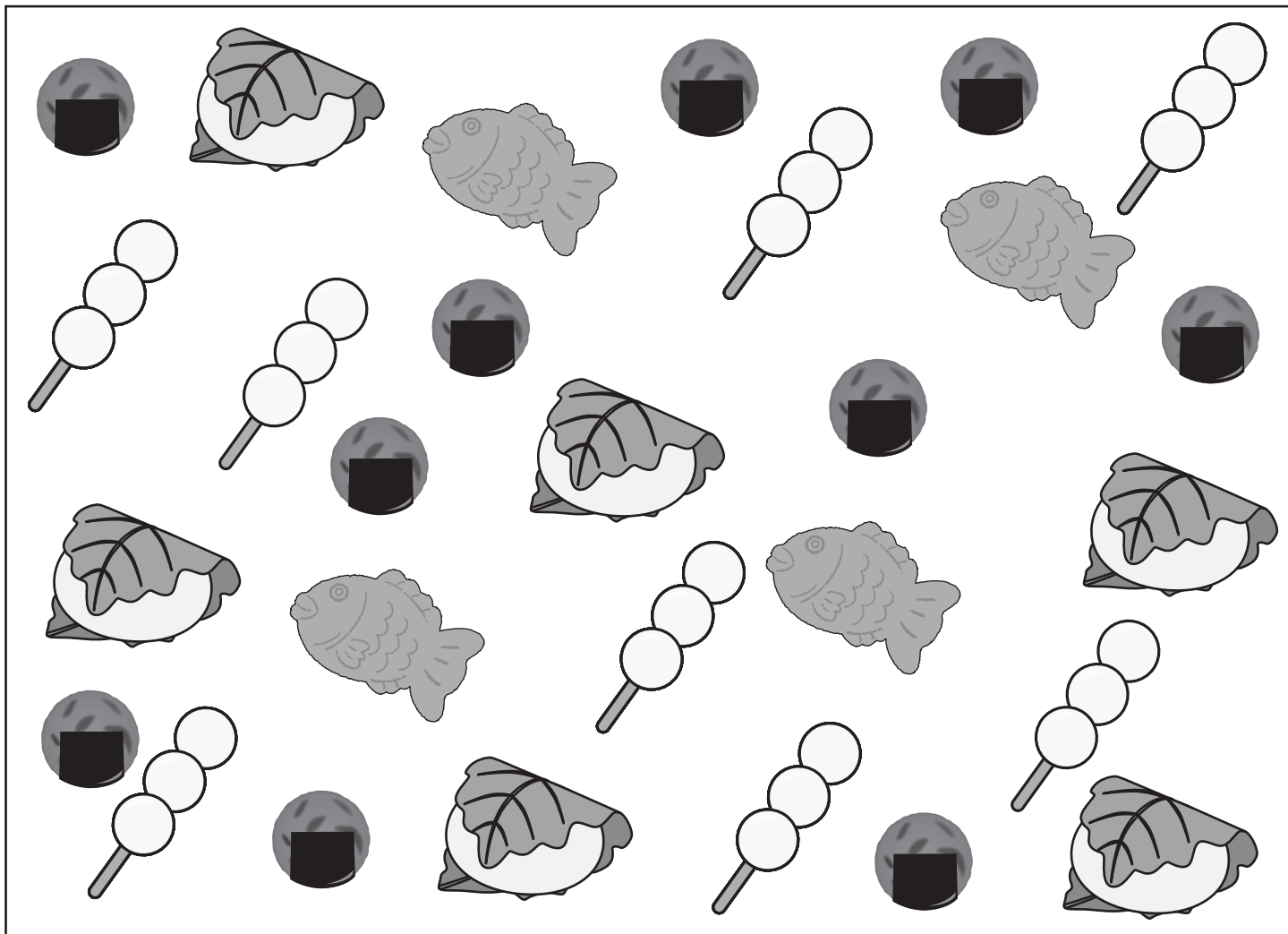


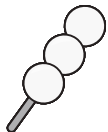
おうちで、やろう。 年中児版

Study at home. 小学校受験の家庭学習教材


数量：計数 4


大きな四角の中のたべものの数をそれぞれかぞえて、その数だけ下の四角に○をかきます。



	○ × 8
---	-------

	○ × 6
---	-------

	○ × 10
---	--------

	○ × 4
---	-------

※1. このプリントは、しながわ・目黒こどもスクールのウェブサイトでダウンロードができます。無断複写・引用はご遠慮ください。
 ※2. このプリントを活用したオンライン授業のスケジュールは、しながわ・目黒こどもスクールのウェブサイトでご確認ください。



おうちで、やろう。 年中児版 推理：まちがいさがし7

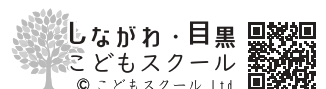
Study at home. 小学校受験の家庭学習教材

上下の絵を見比べて、変わっているところを5つ探します。見つけたら、下の絵の変わっている部分に丸をつけます。



ICT 教育の小学校受験

※1. このプリントは、しながわ・目黒こどもスクールのウェブサイトでダウンロードができます。無断複写・引用はご遠慮ください。
 ※2. このプリントを活用したオンライン授業のスケジュールは、しながわ・目黒こどもスクールのウェブサイトでご確認ください。



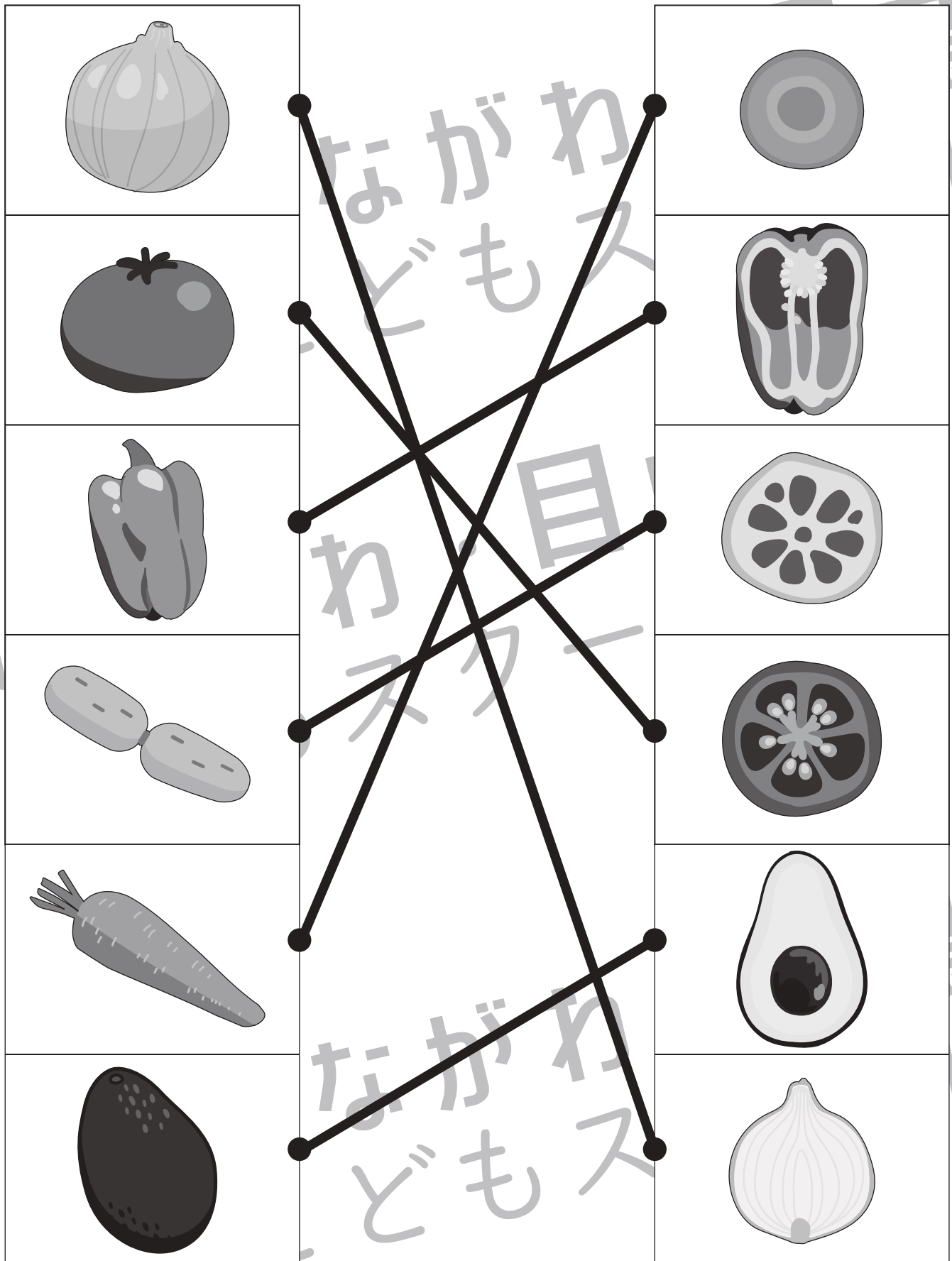


左の形とまったく同じ形を右の四角の中から見つけて○をつけます。ただし、形を回転したり裏返してはいけません。

※1. このプリントは、しながわ・目黒こどもスクールのウェブサイトでダウンロードができます。無断複写・引用はご遠慮ください。
※2. このプリントを活用したオンライン授業のスケジュールは、しながわ・目黒こどもスクールのウェブサイトでご確認ください。



右側は、左側の四角の中の野菜を包丁で切った時の見え方です。同じ野菜を見つけて、線でつなぎます。



※1. このプリントは、しながわ・目黒こどもスクールのウェブサイトからダウンロードできます。無断複写・引用はご遠慮ください。

※2. このプリントを活用したオンライン授業のスケジュールは、しながわ・目黒こどもスクールのウェブサイトでご確認ください。




おうちで、やろう。 年中児版

Study at home. 小学校受験の家庭学習教材

処理能力：抹消1

上の太い四角の中のお手本と同じ絵を、下の四角の中から見つけて斜め線（/）を引きます。見本の点線をなぞってから先に進み、右端まで進んだら次の段の左端から続きをやりま。



ICT 教育の小学校受験

※1. このプリントは、しながわ・目黒こどもスクールのウェブサイトでダウンロードができます。無断複写・引用はご遠慮ください。

※2. このプリントを活用したオンライン授業のスケジュールは、しながわ・目黒こどもスクールのウェブサイトでご確認ください。

