



おうちで、やろう。 年中児版

Study at home. 小学校受験の家庭学習教材

推理：なぞなぞ 8

①～④のなぞなぞをとして、答えに○をつけましょう。

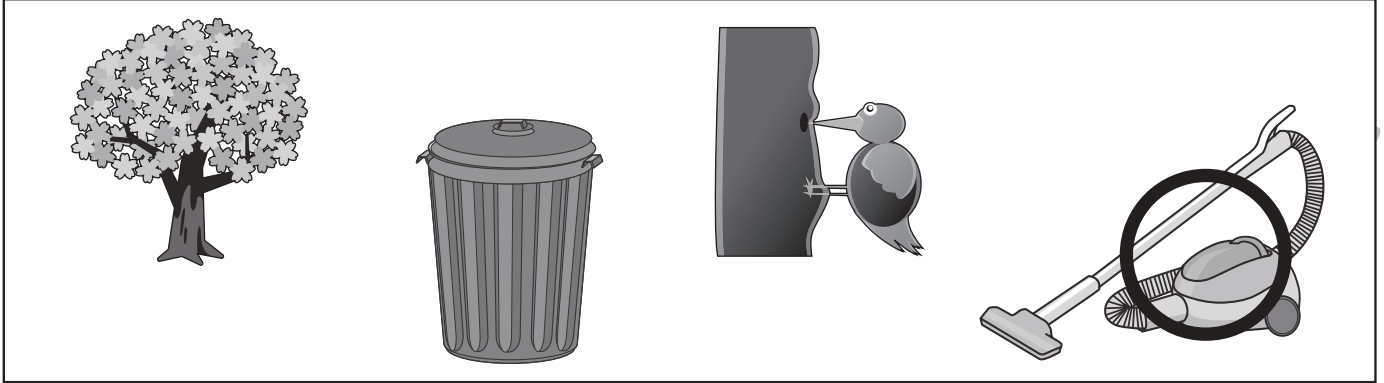
①きはきでも ごみを たべてくれる きは なんでしょう。

②たべると あんしんする けーきは なんでしょう。

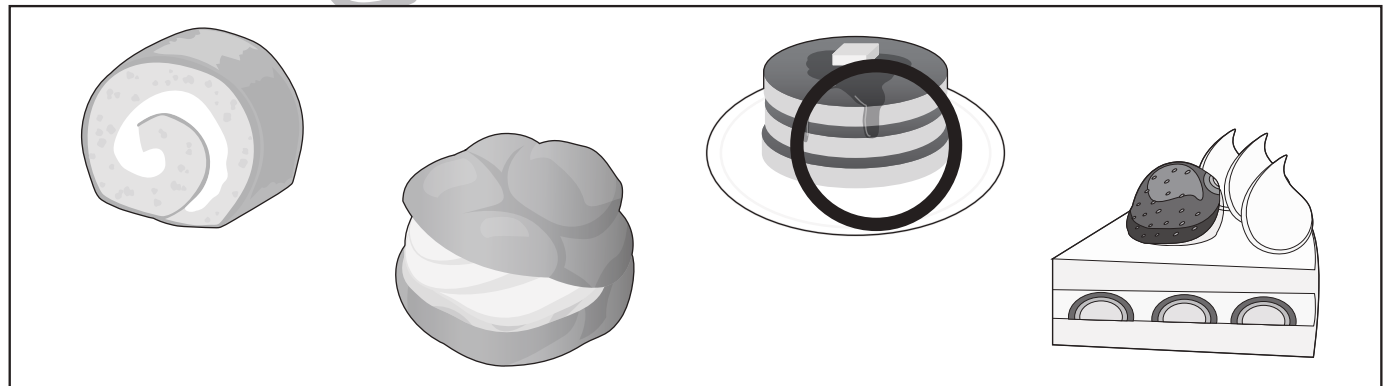
③おいしいのに くさいと いわれる やさいは なんでしょう。

④かおはきいろ あたまはちやいろ いつも ぶりぶりしている たべものは なんでしょう。

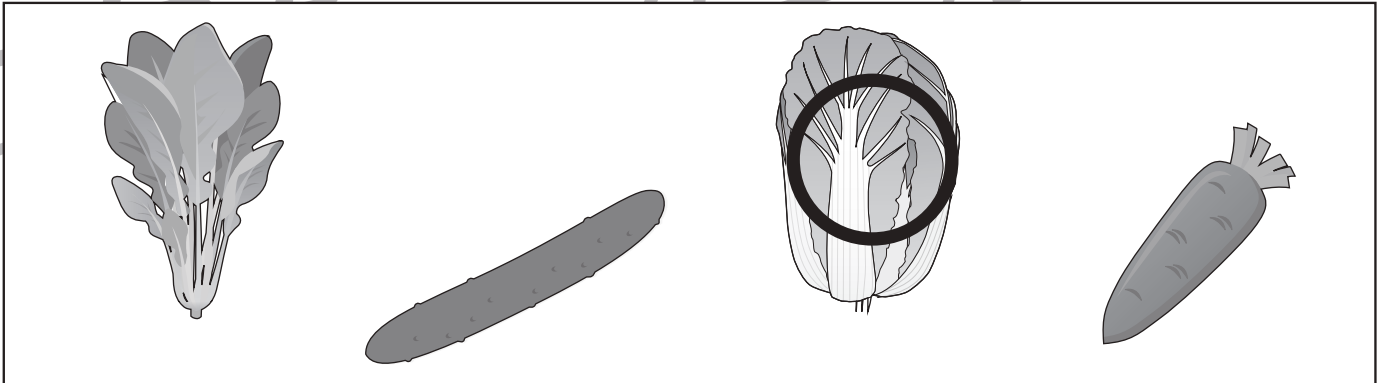
①




②



③



④



※1. このプリントは、しながわ・目黒こどもスクールのウェブサイトダウンロードできます。無断複写・引用はご遠慮ください。

※2. このプリントを活用したオンライン授業のスケジュールは、しながわ・目黒こどもスクールのウェブサイトでご確認ください。



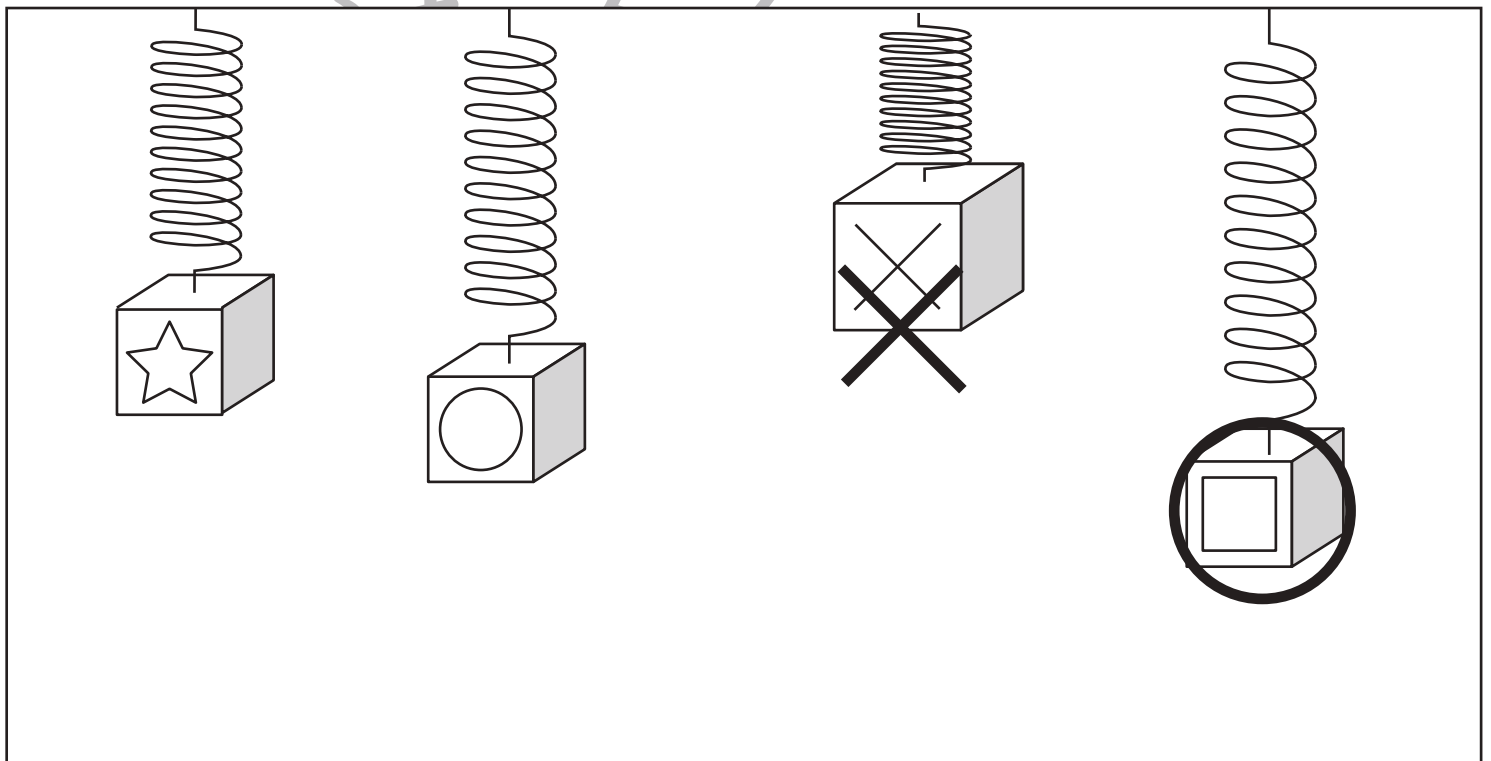
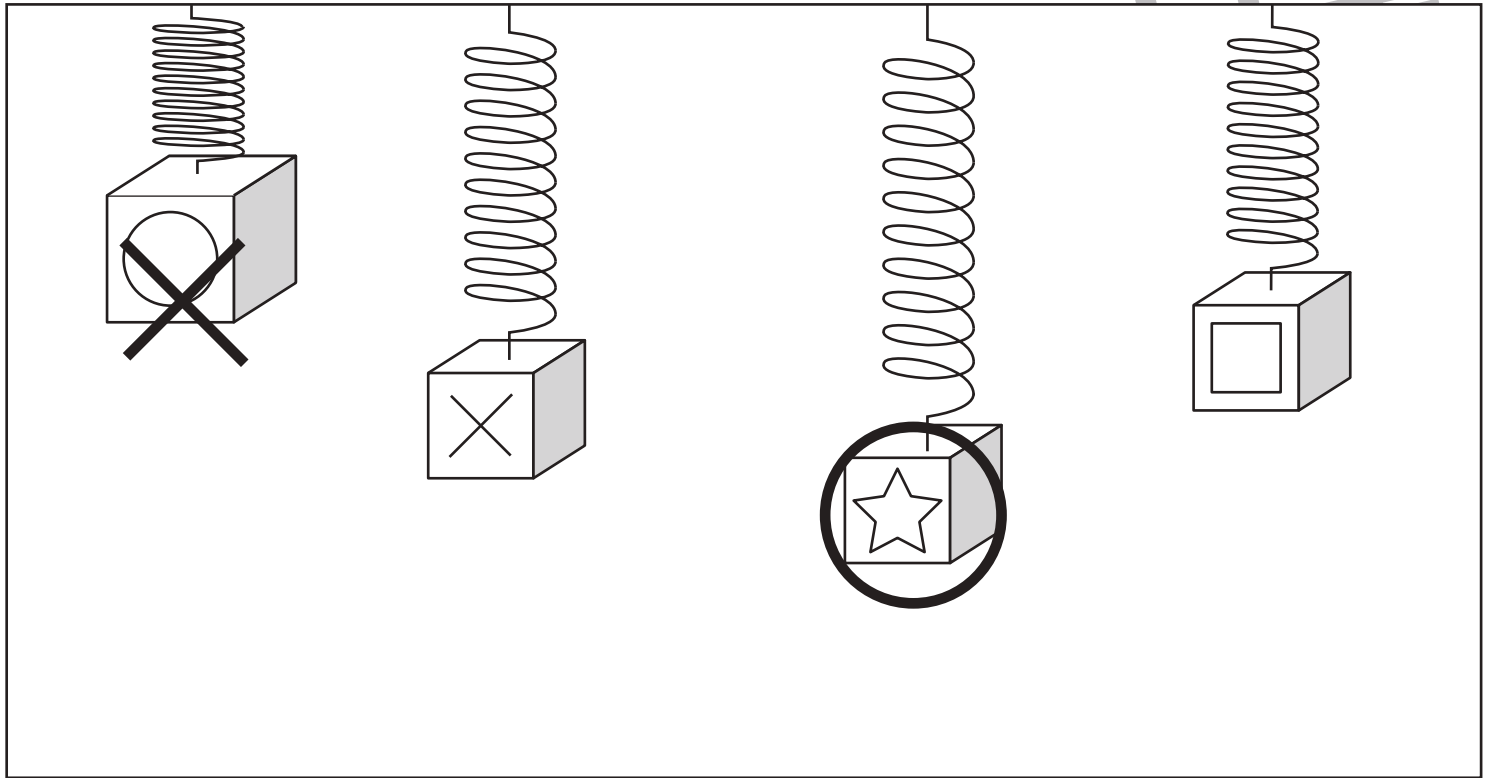


おうちで、やろう。 年中児版

Study at home. 小学校受験の家庭学習教材

推理：重さ2

ばねを使って4つの箱の重さを比べました。一番重いものに○一番軽いものに×をつけましょう。



※1. このプリントは、しながわ・目黒こどもスクールのウェブサイトでダウンロードができます。無断複写・引用はご遠慮ください。
※2. このプリントを活用したオンライン授業のスケジュールは、しながわ・目黒こどもスクールのウェブサイトでご確認ください。

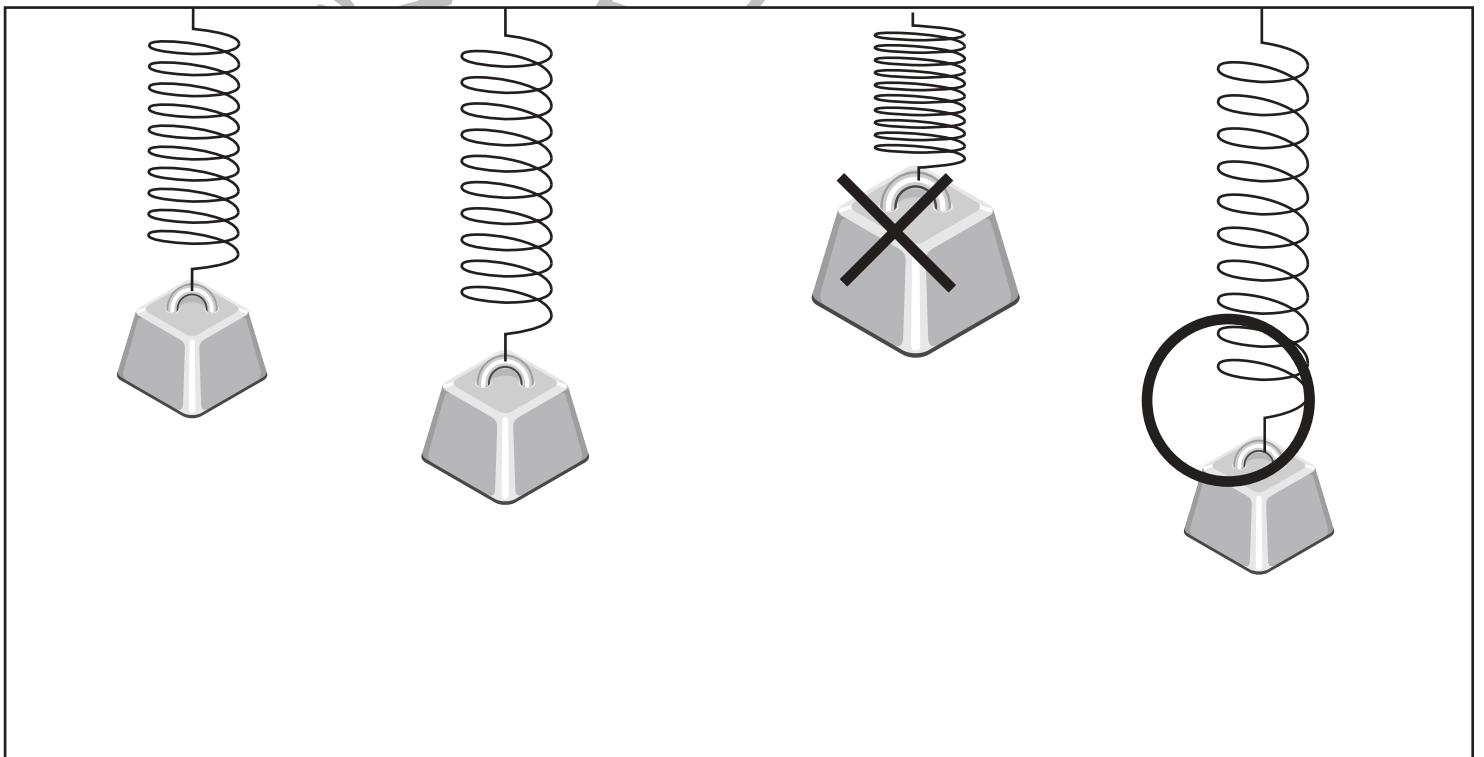



おうちで、やろう。年中児版

Study at home. 小学校受験の家庭学習教材

推理：重さ3

ばねを使って4つのおもりの重さを比べました。一番重いものに○一番軽いものに×をつけましょう。




※1. このプリントは、しながわ・目黒こどもスクールのウェブサイトでダウンロードができます。無断複写・引用はご遠慮ください。
※2. このプリントを活用したオンライン授業のスケジュールは、しながわ・目黒こどもスクールのウェブサイトでご確認ください。



おうちで、やろう。 年中児版 推理：まちがいさがし 8

Study at home. 小学校受験の家庭学習教材

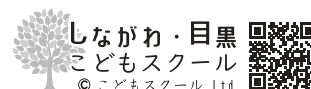
上下の絵を見比べて、変わっているところを5つ探します。見つけたら、下の絵の変わっている部分に丸をつけます。



ICT 教育の小学校受験

※1. このプリントは、しながわ・目黒こどもスクールのウェブサイトでダウンロードができます。無断複写・引用はご遠慮ください。

※2. このプリントを活用したオンライン授業のスケジュールは、しながわ・目黒こどもスクールのウェブサイトでご確認ください。



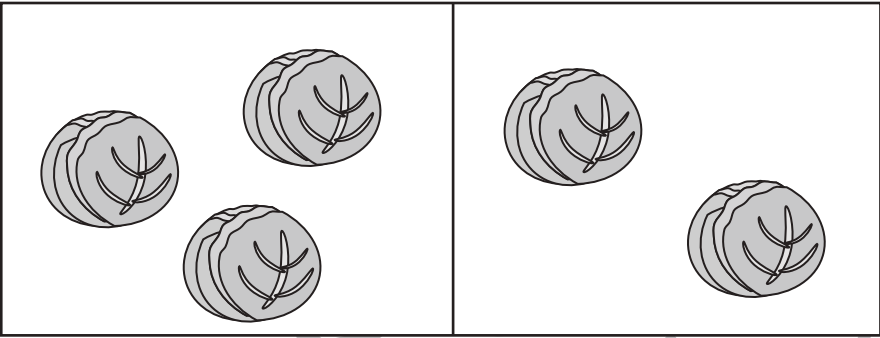
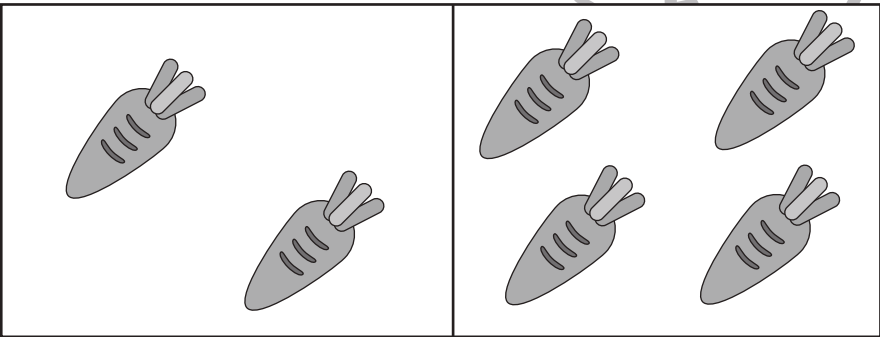
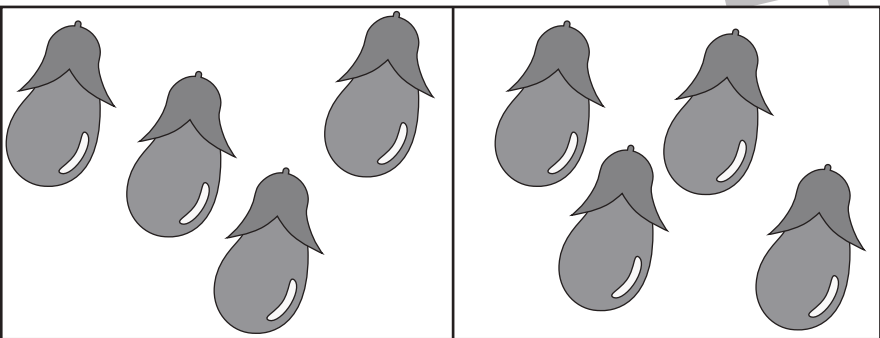
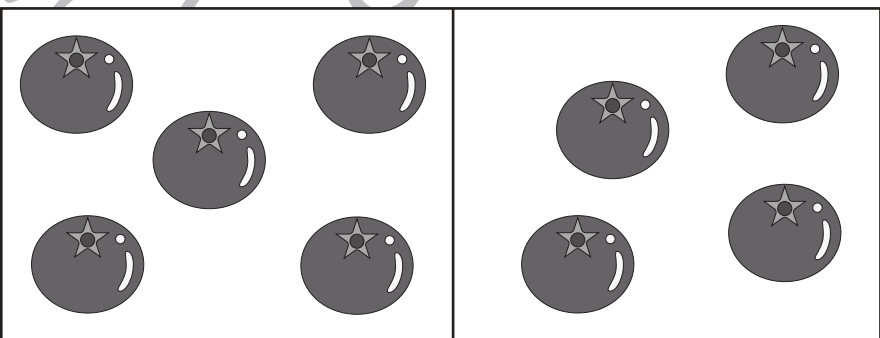
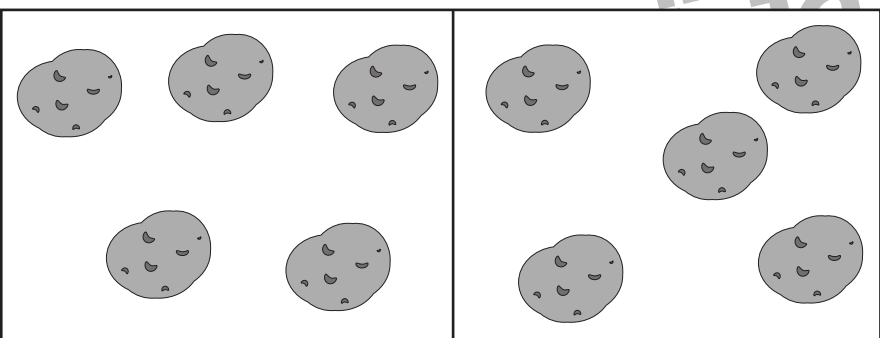


おうちで、やろう。 年中児版

Study at home. 小学校受験の家庭学習教材

数量：加減5

2つの四角の中にある果物を合わせると全部でいくつになりますか。その数だけ右の四角に○をかきます。

①		$\bigcirc \times 5$
②		$\bigcirc \times 6$
③		$\bigcirc \times 8$
④		$\bigcirc \times 9$
⑤		$\bigcirc \times 10$

※1. このプリントは、しながわ・目黒こどもスクールのウェブサイトからダウンロードできます。無断複写・引用はご遠慮ください。

※2. このプリントを活用したオンライン授業のスケジュールは、しながわ・目黒こどもスクールのウェブサイトでご確認ください。








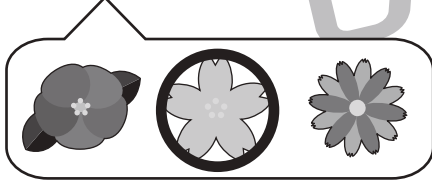



おうちで、やろう。 年中児版

Study at home. 小学校受験の家庭学習教材

推理：系列2

下の四角の中の絵は、ある規則に従って並んでいます。①・②はあいている四角に入る絵を下の吹き出しの中から選んで、○をつけます。③～⑤はあいている四角に入るものを考えてかきます。



※1. このプリントは、しながわ・目黒こどもスクールのウェブサイトでダウンロードができます。無断複写・引用はご遠慮ください。
 ※2. このプリントを活用したオンライン授業のスケジュールは、しながわ・目黒こどもスクールのウェブサイトでご確認ください。

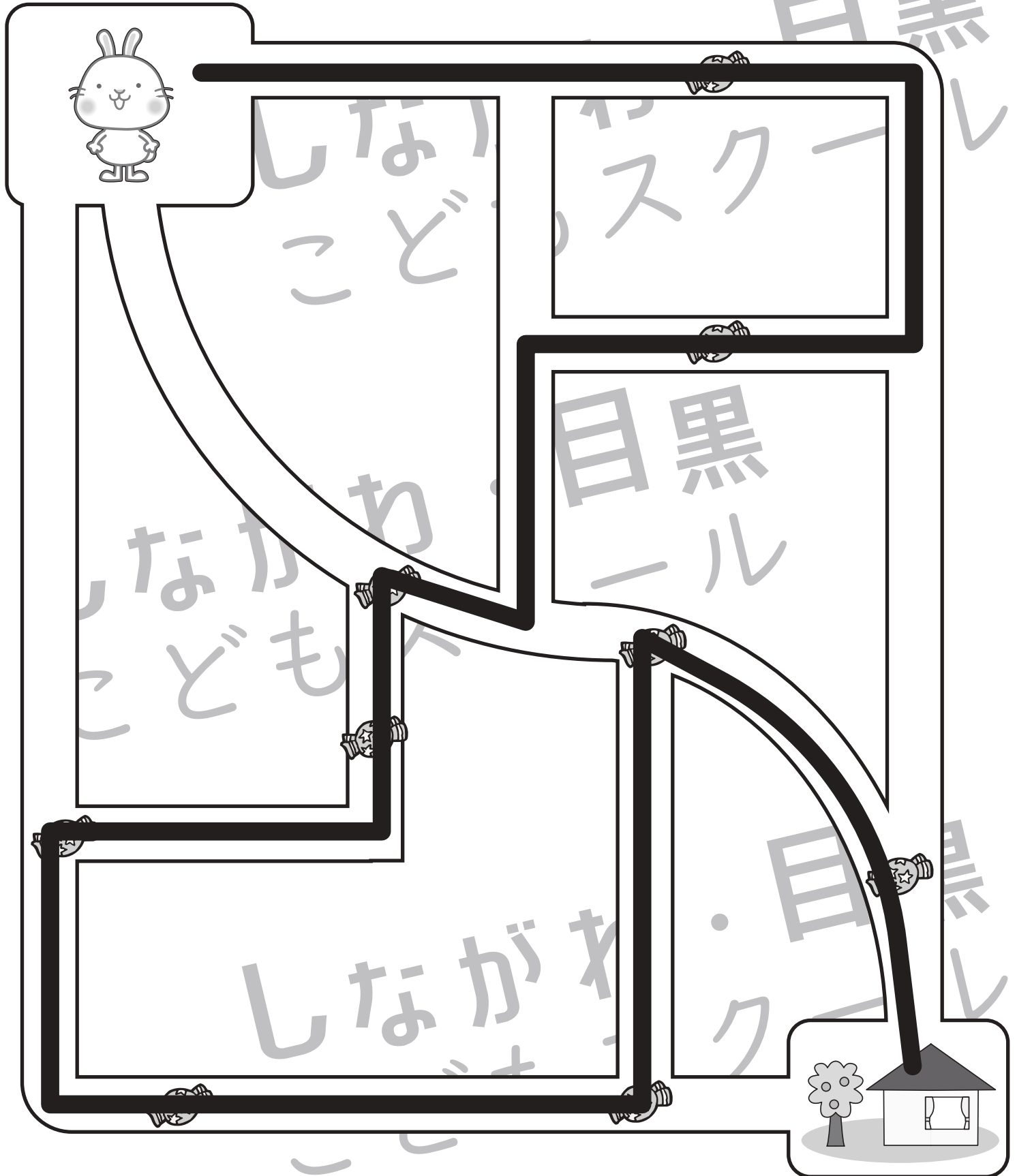


おうちで、やろう。 年中児版

Study at home. 小学校受験の家庭学習教材

推理：条件迷路 1

うさぎさんがあめを全部ひろってお家まで帰ります。このとき、同じ道を通らないようにします。うさぎさんが通った道に鉛筆で線を描きます。※指でなぞって道を確認してから、ぶつからないようにきれいな線をかきましょう。



※1. このプリントは、しながわ・目黒こどもスクールのウェブサイトからダウンロードできます。無断複写・引用はご遠慮ください。

※2. このプリントを活用したオンライン授業のスケジュールは、しながわ・目黒こどもスクールのウェブサイトでご確認ください。