




# おうちで、やろう。 年中児版

Study at home. 小学校受験の家庭学習教材

処理能力：抹消 4

上の太い四角の中がお手本です。下のマスに絵がたくさん並んでいます。この中でお手本の絵と同じ絵に○をつけます。ただし、進む方向は左上のりんごからはじめて右へ進み、右端まできたら2段目の左から右へと順番に進みます。

※お手本の点線をなぞってから先に進みましょう。




ICT教育の小学校受験

※1. このプリントは、しながわ・目黒こどもスクールのウェブサイトでダウンロードができます。無断複写・引用はご遠慮ください。

※2. このプリントを活用したオンライン授業のスケジュールは、しながわ・目黒こどもスクールのウェブサイトでご確認ください。







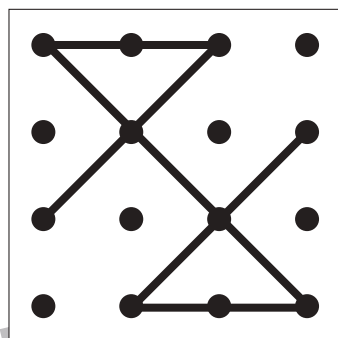
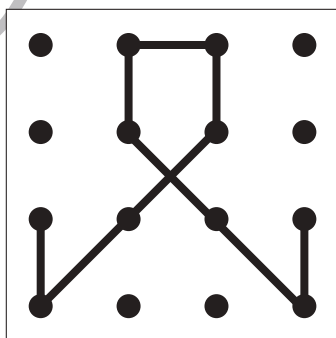
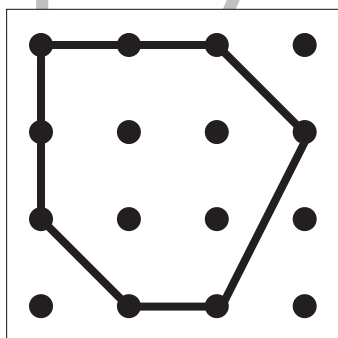
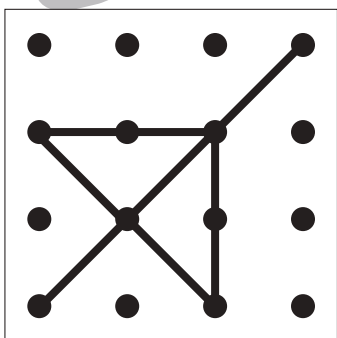




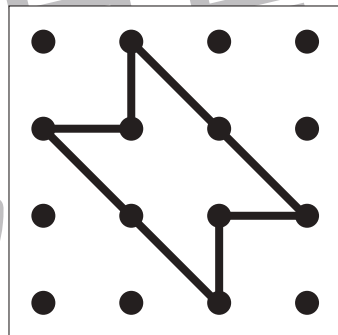
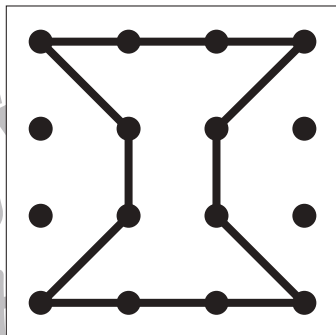
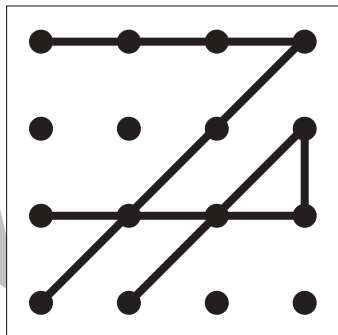
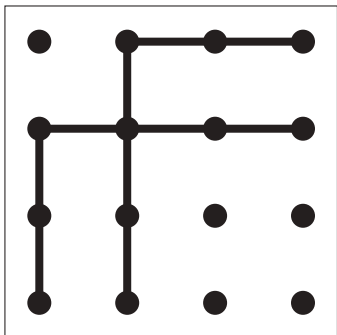


# おうちで、やろう。 年中児版

Study at home. 小学校受験の家庭学習教材

図形：点図形 5

上のお手本と同じになるように下の四角に線をかきます。黒い点の真ん中を通るようにきれいな線をひきましょう。  
(このプリントに解答はありません)



※1. このプリントは、しながわ・目黒こどもスクールのウェブサイトでダウンロードができます。無断複写・引用はご遠慮ください。  
※2. このプリントを活用したオンライン授業のスケジュールは、しながわ・目黒こどもスクールのウェブサイトでご確認ください。

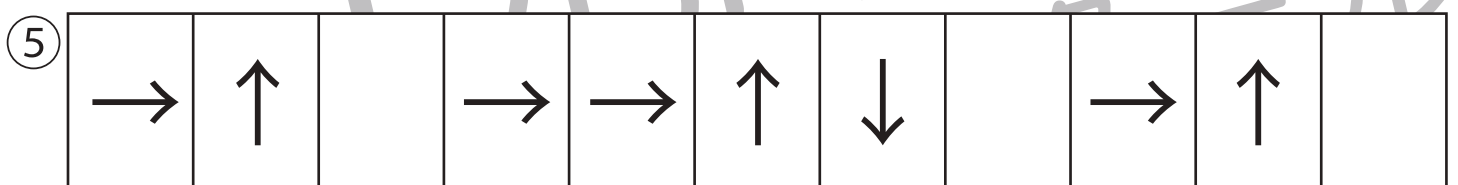
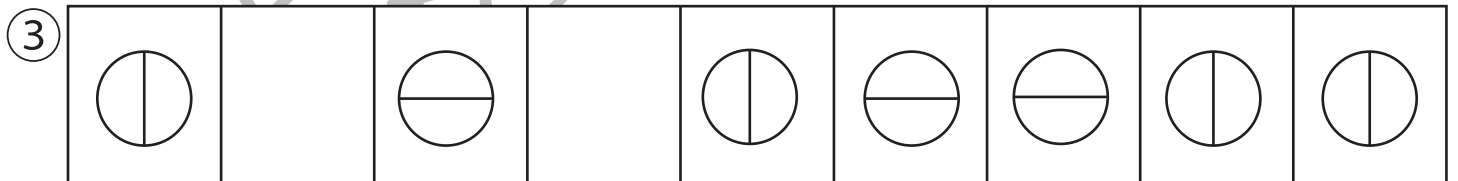

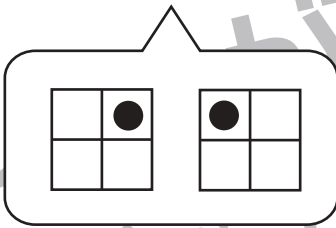
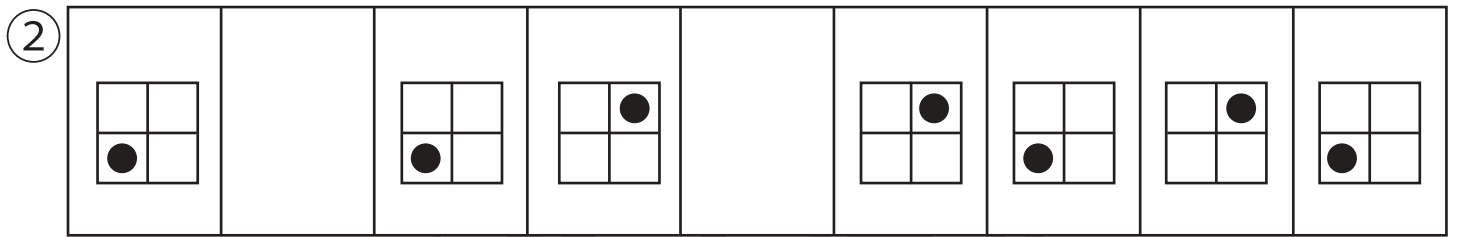





# おうちで、やろう。 年中児版

Study at home. 小学校受験の家庭学習教材

推理：系列3

下の四角の中の絵は、ある規則に従って並んでいます。①・②はあいている四角に入る絵を下の吹き出しの中から選んで、○をつけます。③～⑤はあいている四角に入るものを考えてかきます。



ICT教育の小学校受験

※1. このプリントは、しながわ・目黒こどもスクールのウェブサイトでダウンロードができます。無断複写・引用はご遠慮ください。  
 ※2. このプリントを活用したオンライン授業のスケジュールは、しながわ・目黒こどもスクールのウェブサイトでご確認ください。

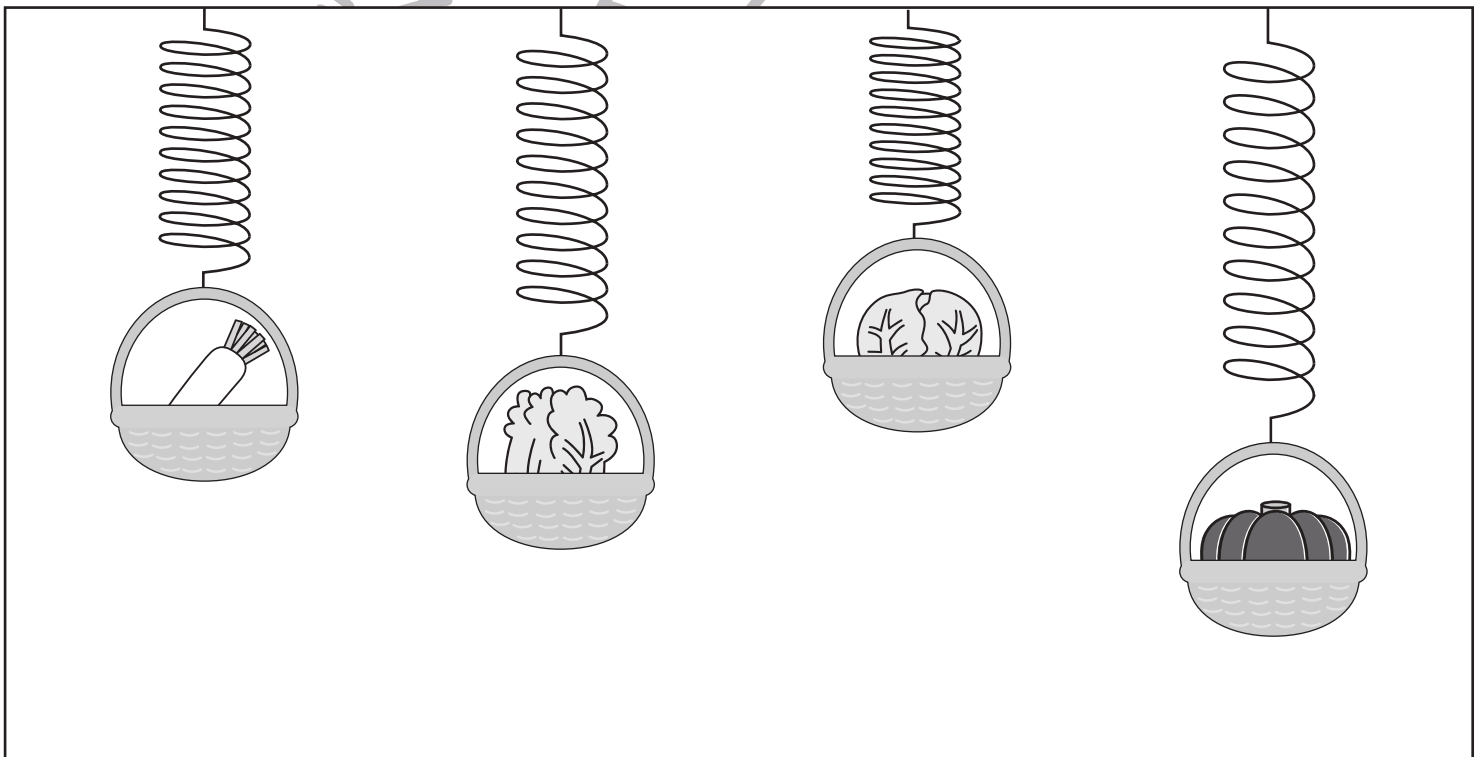
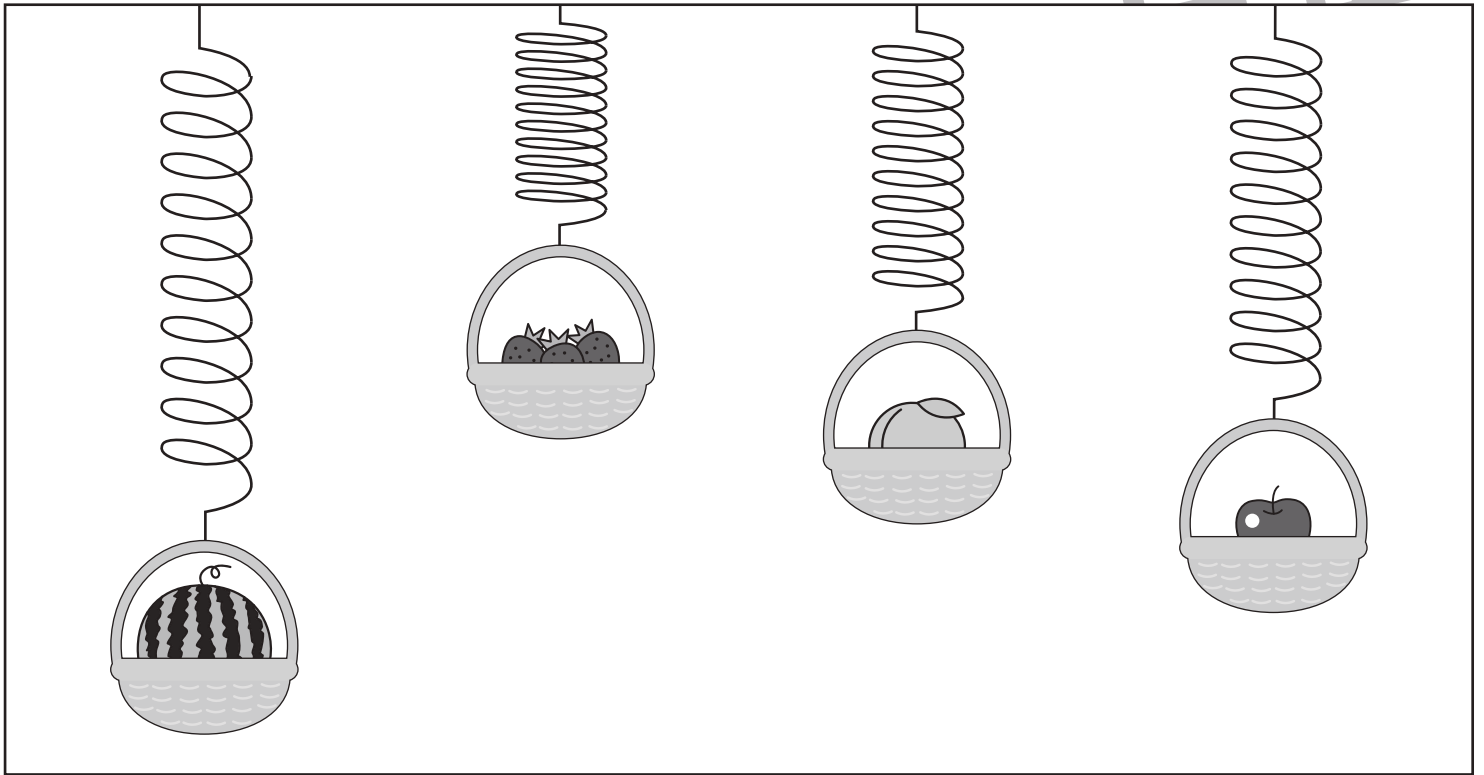


# おうちで、やろう。年中児版

Study at home. 小学校受験の家庭学習教材

推理：重さ4

ばねを使って4つのたべものの重さを比べました。一番重いものに○一番軽いものに×をつけましょう。



※1. このプリントは、しながわ・目黒こどもスクールのウェブサイトでダウンロードができます。無断複写・引用はご遠慮ください。  
※2. このプリントを活用したオンライン授業のスケジュールは、しながわ・目黒こどもスクールのウェブサイトでご確認ください。

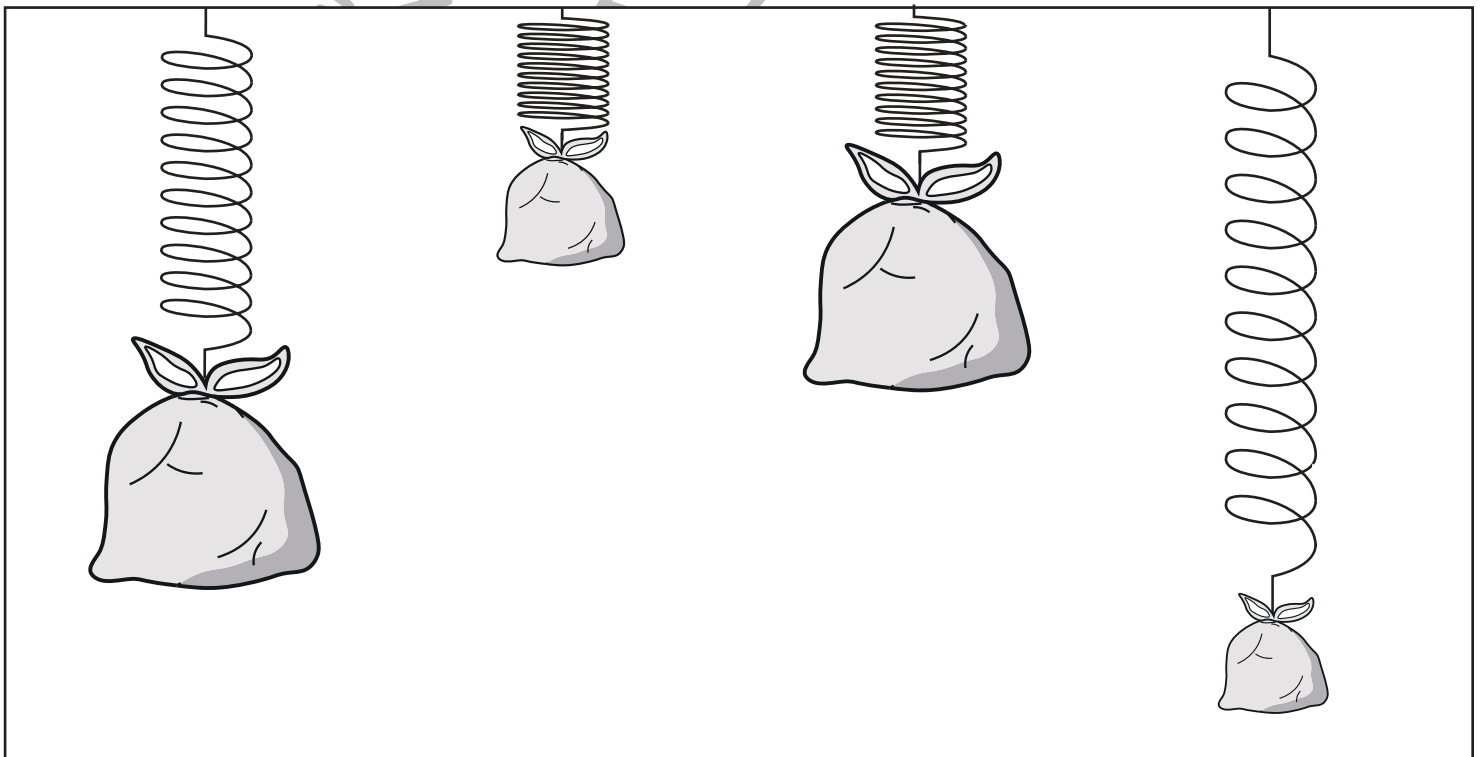
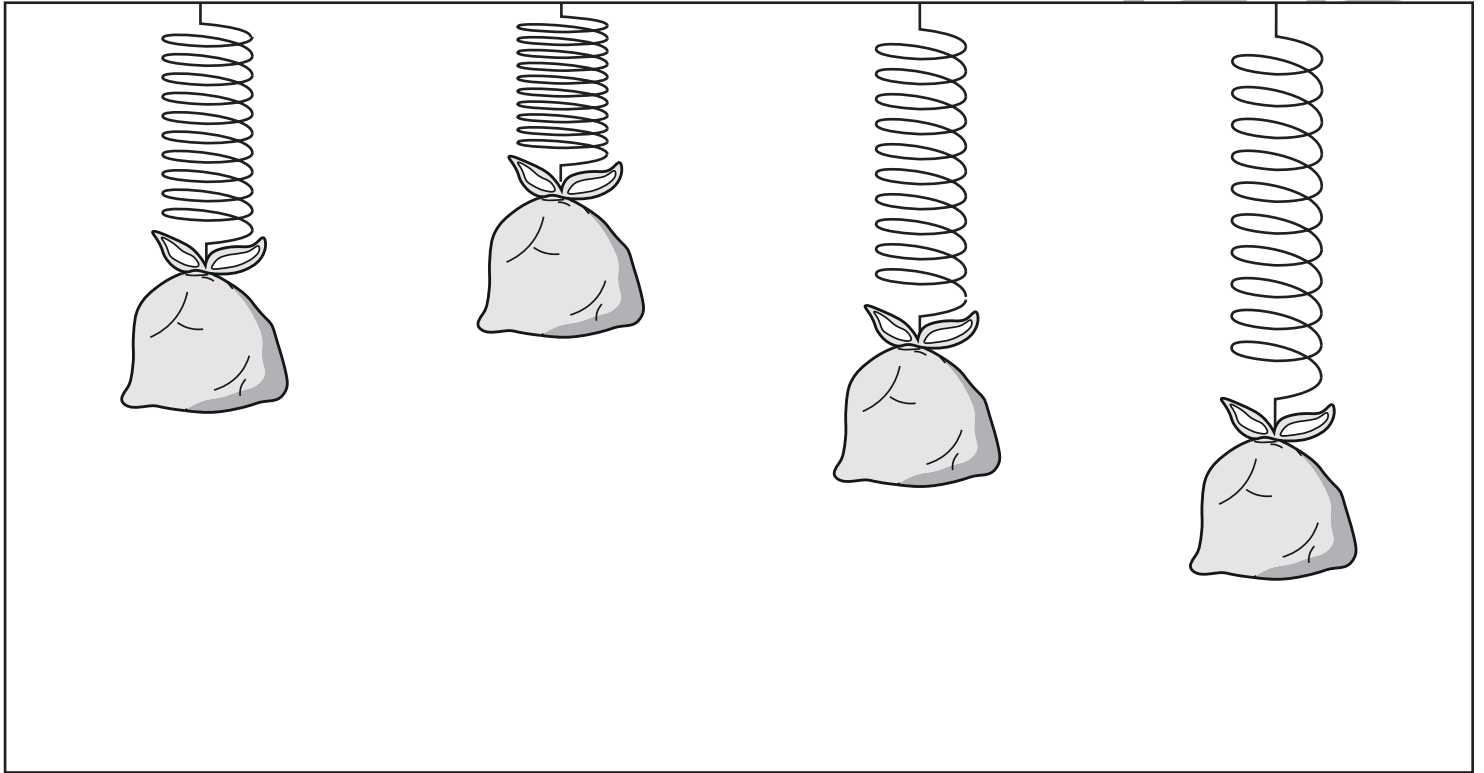


# おうちで、やろう。 年中児版

Study at home. 小学校受験の家庭学習教材

推理：重さ5

ばねを使って4つの袋の重さを比べました。一番重いものに○一番軽いものに×をつけましょう。



※1. このプリントは、しながわ・目黒こどもスクールのウェブサイトでダウンロードができます。無断複写・引用はご遠慮ください。  
※2. このプリントを活用したオンライン授業のスケジュールは、しながわ・目黒こどもスクールのウェブサイトでご確認ください。



# おうちで、やろう。 年中児版

Study at home. 小学校受験の家庭学習教材

## 推理：条件迷路 2

うさぎさんがあめを全部ひろってお家まで帰ります。このとき、同じ道を通らないようにします。うさぎさんが通った道に鉛筆で線を描きます。※指でなぞって道をかかめてから、ぶつからないようにきれいな線をかきましょう。

※1. このプリントは、しながわ・目黒こどもスクールのウェブサイトダウンロードができます。無断複写・引用はご遠慮ください。

※2. このプリントを活用したオンライン授業のスケジュールは、しながわ・目黒こどもスクールのウェブサイトでご確認ください。

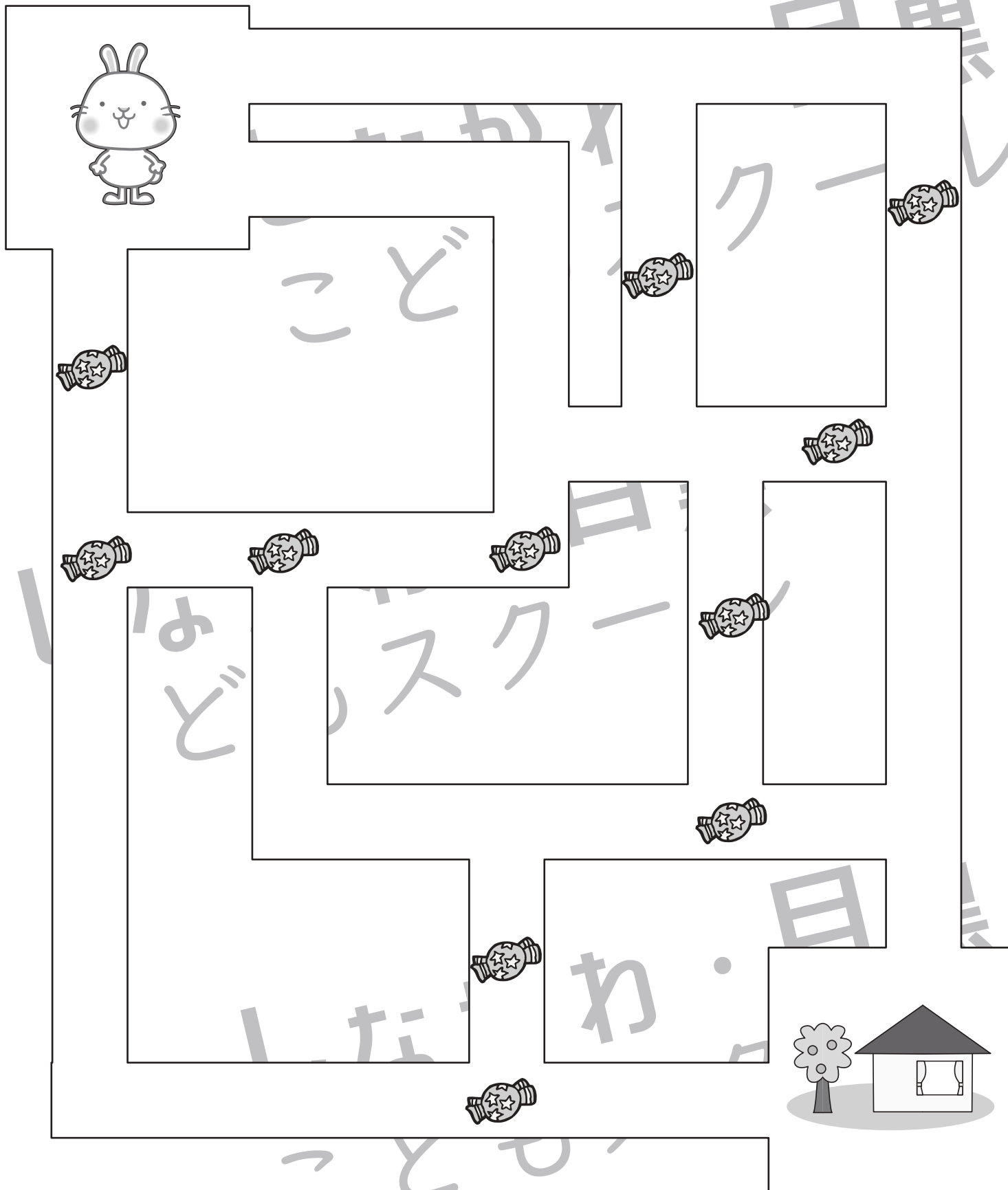


# おうちで、やろう。 年中児版

Study at home. 小学校受験の家庭学習教材

## 推理：条件迷路 3

うさぎさんがあめを全部ひろってお家まで帰ります。このとき、同じ道を通らないようにします。うさぎさんが通った道に鉛筆で線を描きます。※指でなぞって道を確認してから、ぶつからないようにきれいな線をかきましょう。



※1. このプリントは、しながわ・目黒こどもスクールのウェブサイトでダウンロードができます。無断複写・引用はご遠慮ください。

※2. このプリントを活用したオンライン授業のスケジュールは、しながわ・目黒こどもスクールのウェブサイトでご確認ください。

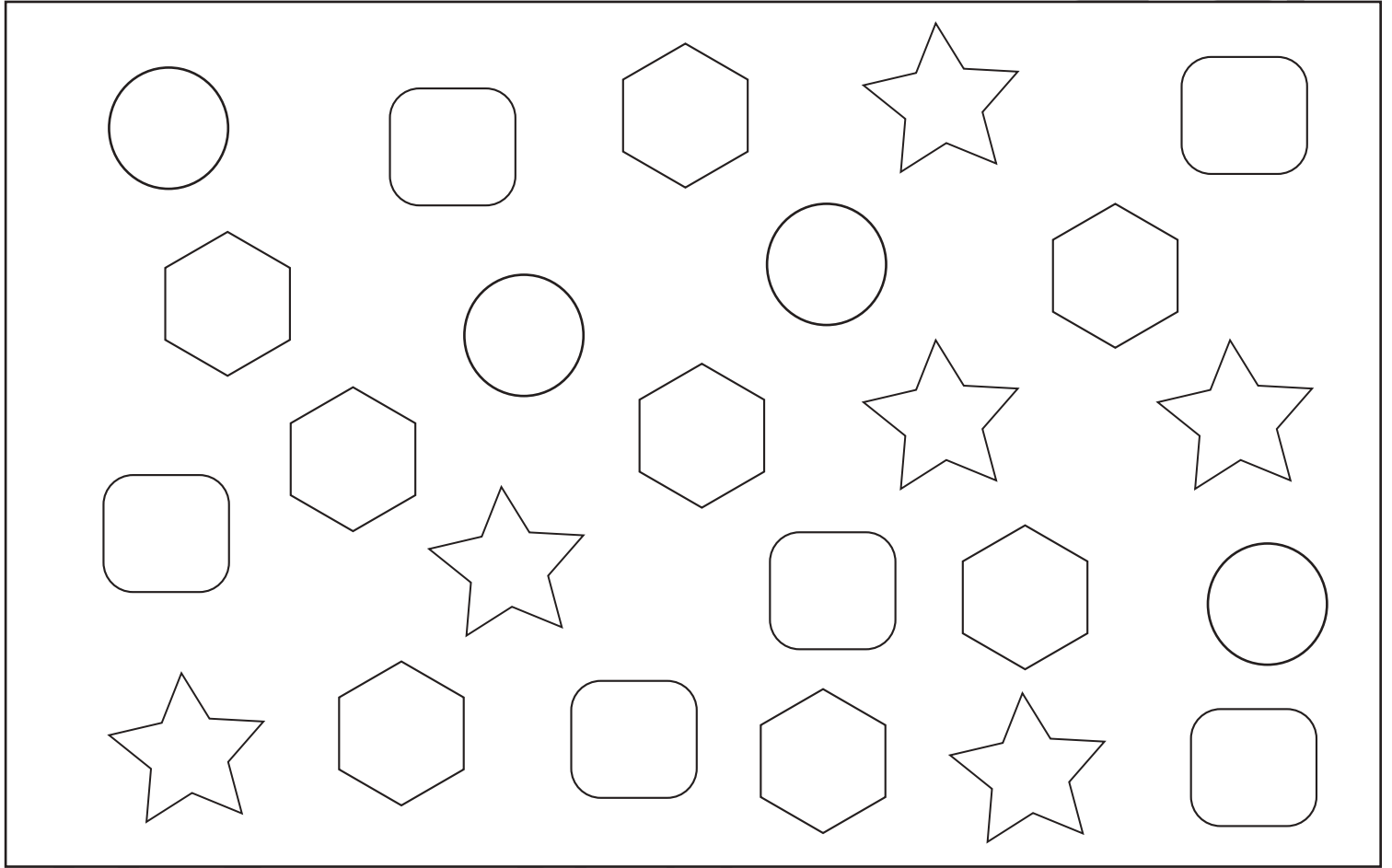



# おうちで、やろう。 年中児版

Study at home. 小学校受験の家庭学習教材

数量：計数 7


四角の中の形をそれぞれかぞえて、その数だけ下の四角に○をかきます。



	
---	--

	
---	--

	
---	--

	
--	--

※1. このプリントは、しながわ・目黒こどもスクールのウェブサイトダウンロードができます。無断複写・引用はご遠慮ください。

※2. このプリントを活用したオンライン授業のスケジュールは、しながわ・目黒こどもスクールのウェブサイトでご確認ください。

