




# おうちで、やろう。 年中児版

Study at home. 小学校受験の家庭学習教材

処理能力：抹消 4

上の太い四角の中がお手本です。下のマスに絵がたくさん並んでいます。この中でお手本の絵と同じ絵に○をつけます。ただし、進む方向は左上のりんごからはじめて右へ進み、右端まできたら2段目の左から右へと順番に進みます。

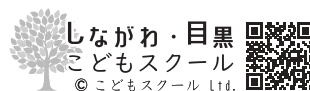
※お手本の点線をなぞってから先に進みましょう。




ICT 教育の小学校受験

※1. このプリントは、しながわ・目黒こどもスクールのウェブサイトでダウンロードができます。無断複写・引用はご遠慮ください。

※2. このプリントを活用したオンライン授業のスケジュールは、しながわ・目黒こどもスクールのウェブサイトでご確認ください。



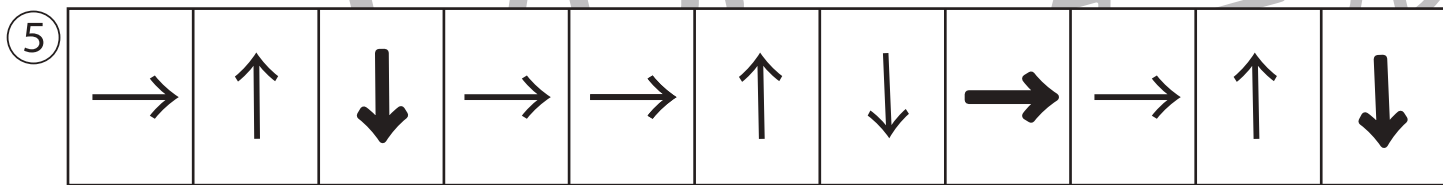
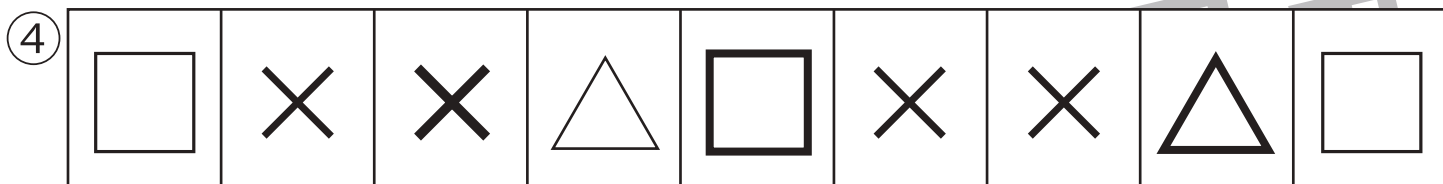
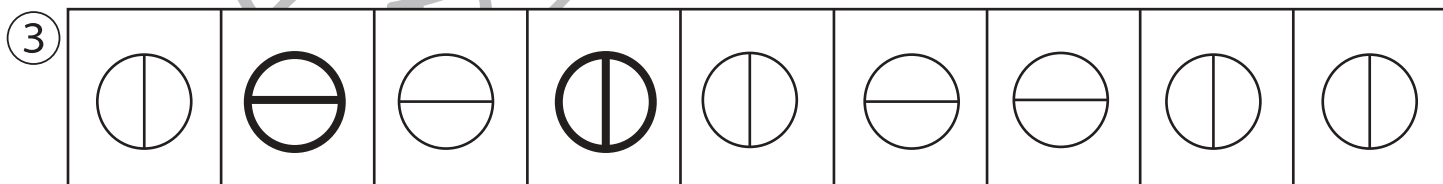

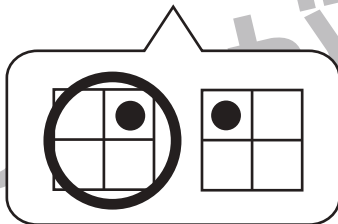
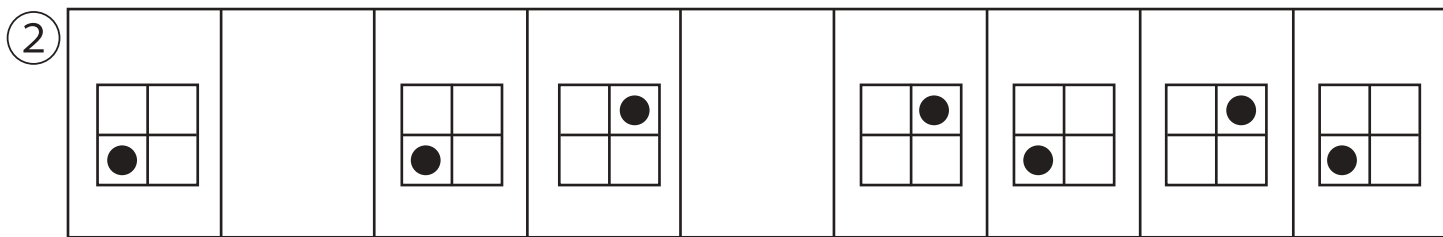




# おうちで、やろう。 年中児版

Study at home. 小学校受験の家庭学習教材

推理：系列3

下の四角の中の絵は、ある規則に従って並んでいます。①・②はあいている四角に入る絵を下の吹き出しの中から選んで、○をつけます。③～⑤はあいている四角に入るものを考えてかきます。



ICT 教育の小学校受験

※1. このプリントは、しながわ・目黒こどもスクールのウェブサイトでダウンロードができます。無断複写・引用はご遠慮ください。  
 ※2. このプリントを活用したオンライン授業のスケジュールは、しながわ・目黒こどもスクールのウェブサイトでご確認ください。

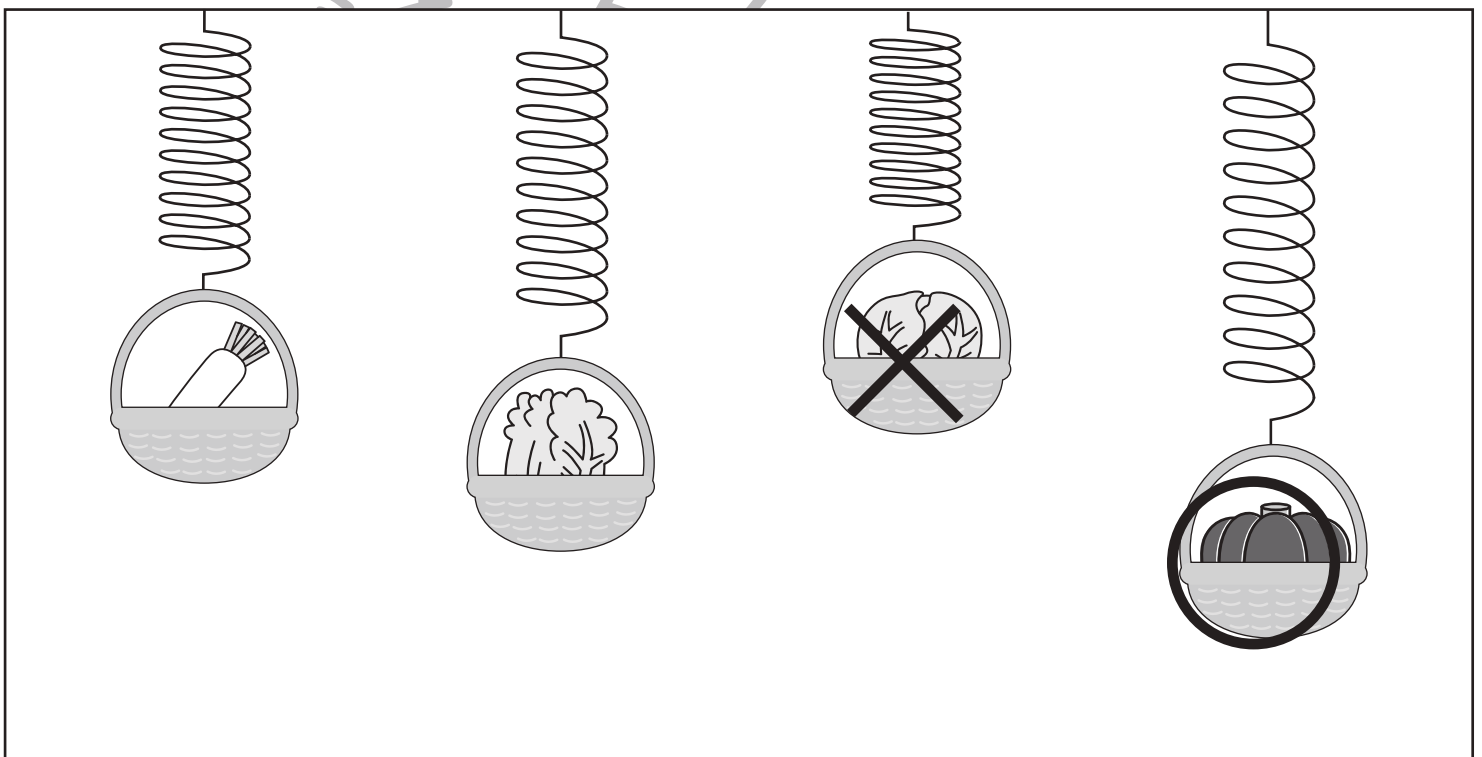
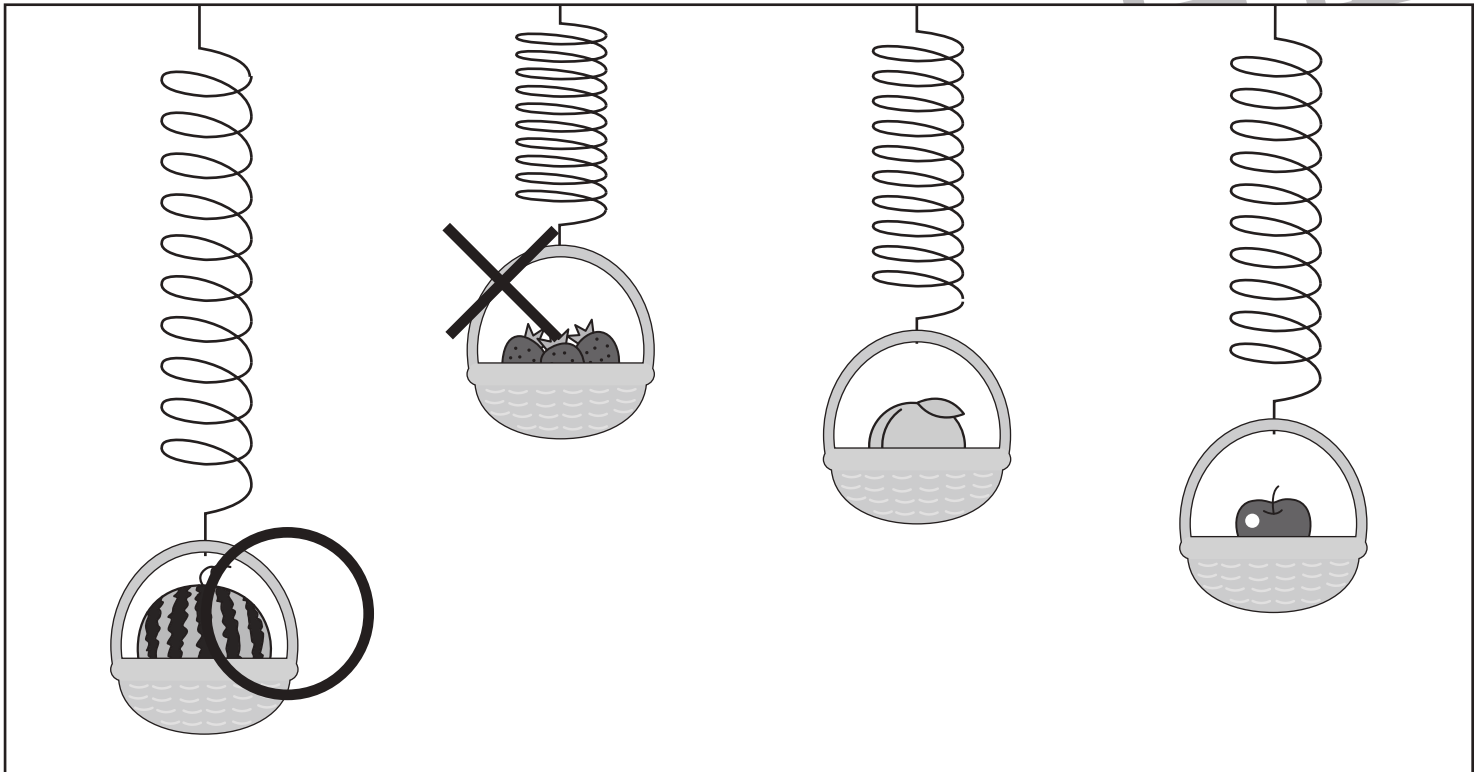


# おうちで、やろう。 年中児版

Study at home. 小学校受験の家庭学習教材

推理：重さ4

ばねを使って4つのたべものの重さを比べました。一番重いものに○一番軽いものに×をつけましょう。



※1. このプリントは、しながわ・目黒こどもスクールのウェブサイトでダウンロードができます。無断複写・引用はご遠慮ください。  
※2. このプリントを活用したオンライン授業のスケジュールは、しながわ・目黒こどもスクールのウェブサイトでご確認ください。

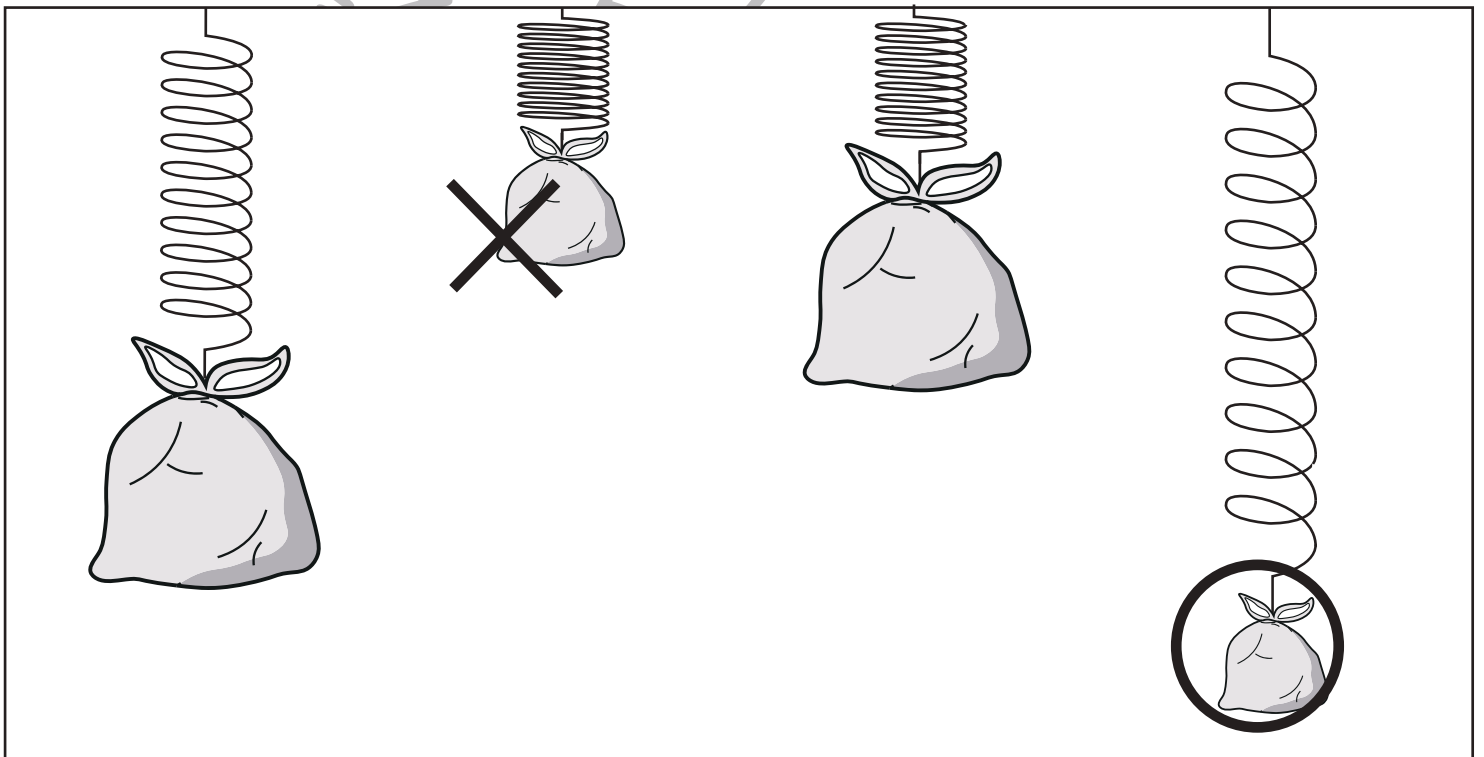
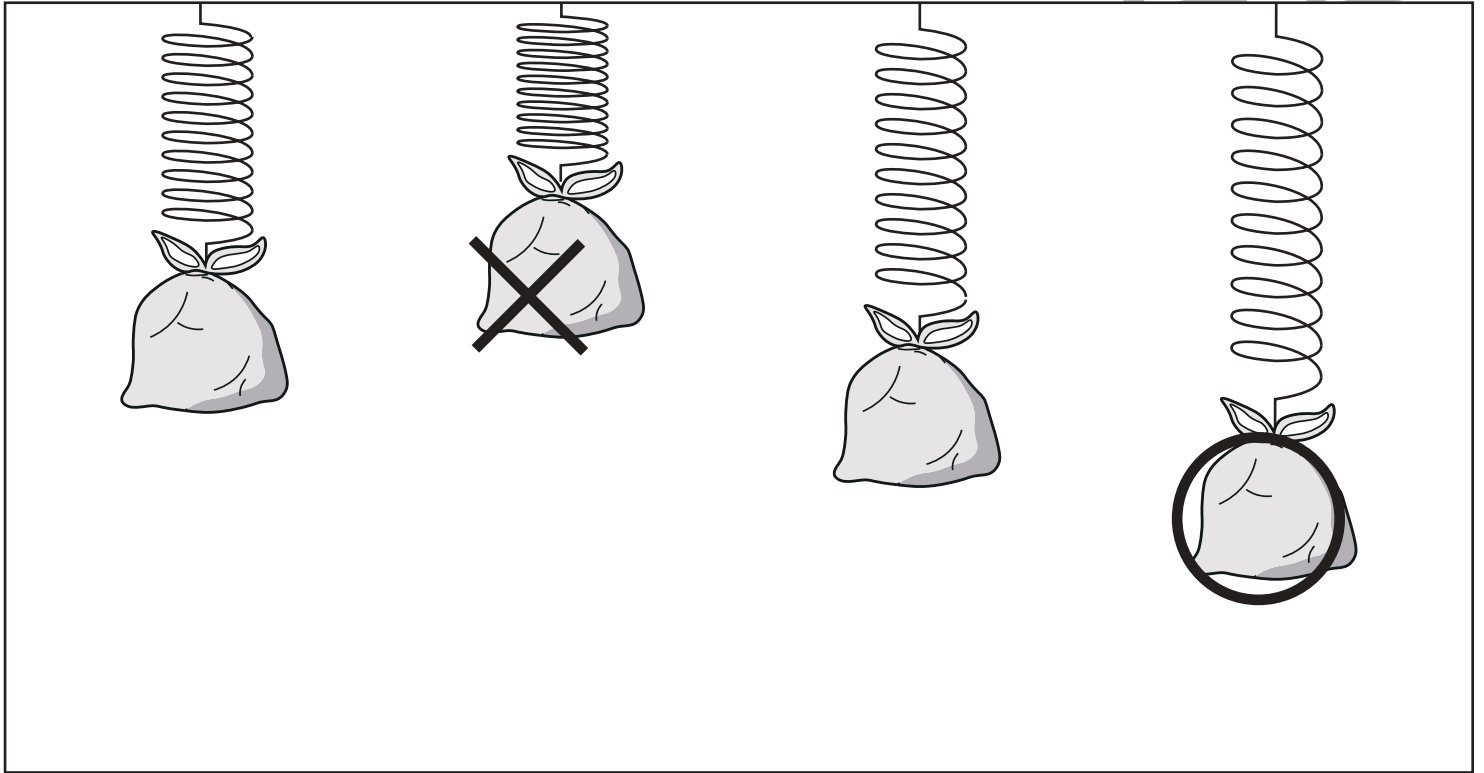


# おうちで、やろう。年中児版

Study at home. 小学校受験の家庭学習教材

推理：重さ5

ばねを使って4つの袋の重さを比べました。一番重いものに○一番軽いものに×をつけましょう。



※1. このプリントは、しながわ・目黒こどもスクールのウェブサイトでダウンロードができます。無断複写・引用はご遠慮ください。  
※2. このプリントを活用したオンライン授業のスケジュールは、しながわ・目黒こどもスクールのウェブサイトでご確認ください。

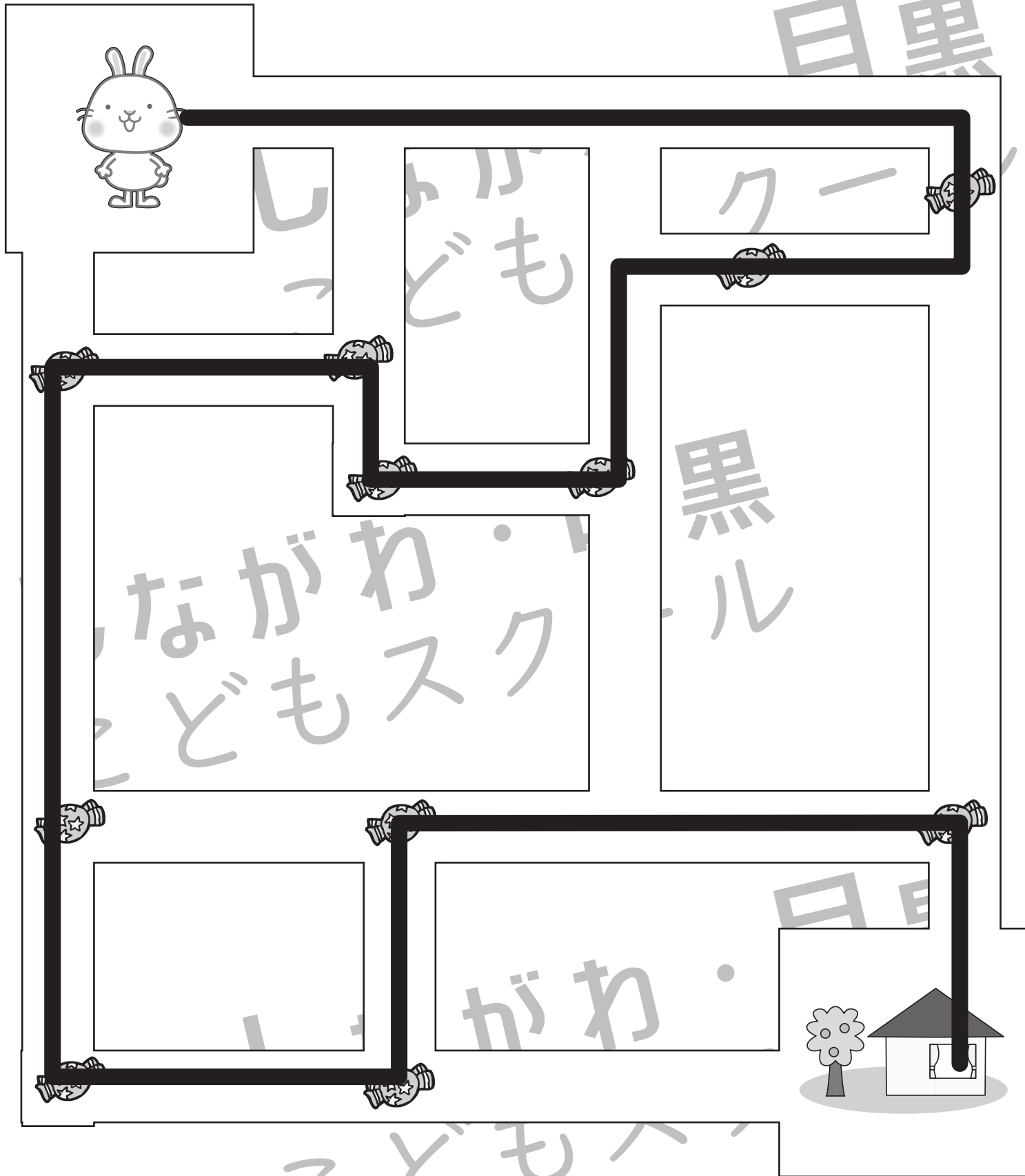


# おうちで、やろう。 年中児版

Study at home. 小学校受験の家庭学習教材

## 推理：条件迷路2

うさぎさんがあめを全部ひろってお家まで帰ります。このとき、同じ道を通らないようにします。うさぎさんが通った道に鉛筆で線を描きます。※指でなぞって道を確認してから、ぶつからないようにきれいな線をかきましょう。



※1. このプリントは、しながわ・目黒こどもスクールのウェブサイトでダウンロードができます。無断複写・引用はご遠慮ください。

※2. このプリントを活用したオンライン授業のスケジュールは、しながわ・目黒こどもスクールのウェブサイトでご確認ください。



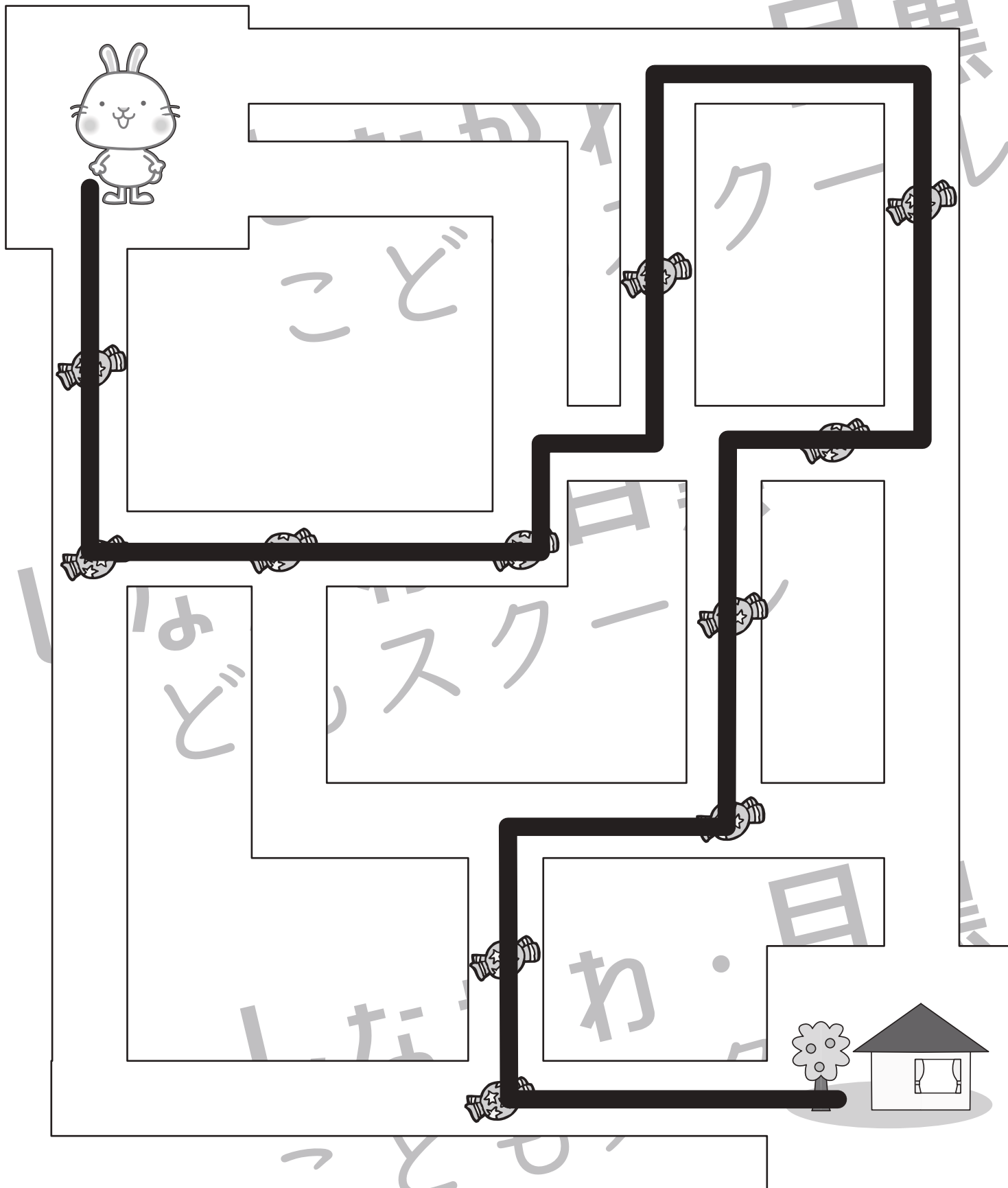


# おうちで、やろう。 年中児版

Study at home. 小学校受験の家庭学習教材

## 推理：条件迷路 3

うさぎさんがあめを全部ひろってお家まで帰ります。このとき、同じ道を通らないようにします。うさぎさんが通った道に鉛筆で線を描きます。※指でなぞって道を確認してから、ぶつからないようにきれいな線をかきましょう。



※1. このプリントは、しながわ・目黒こどもスクールのウェブサイトでダウンロードができます。無断複写・引用はご遠慮ください。  
 ※2. このプリントを活用したオンライン授業のスケジュールは、しながわ・目黒こどもスクールのウェブサイトでご確認ください。




# おうちで、よろう。年中児版

Study at home. 小学校受験の家庭学習教材

数量：計数7

四角の中の形をそれぞれかぞえて、その数だけ下の四角に○をかきます。



	$\bigcirc \times 4$
---	---------------------

	$\bigcirc \times 6$
---	---------------------

	$\bigcirc \times 6$
---	---------------------

	$\bigcirc \times 6$
--	---------------------

※1. このプリントは、しながわ・目黒こどもスクールのウェブサイトからダウンロードできます。無断複写・引用はご遠慮ください。  
※2. このプリントを活用したオンライン授業のスケジュールは、しながわ・目黒こどもスクールのウェブサイトでご確認ください。