



おうちで、やろう。 年中児版

Study at home. 小学校受験の家庭学習教材

推理：なぞなぞ 10

①～④のなぞなぞをといて、答えに○をつけましょう。

①あさになると かいじゅうのように ほえてくる おはなは なんでしょう。

②こうえんで いつも ぶらぶらしている にんきものは なんでしょう。

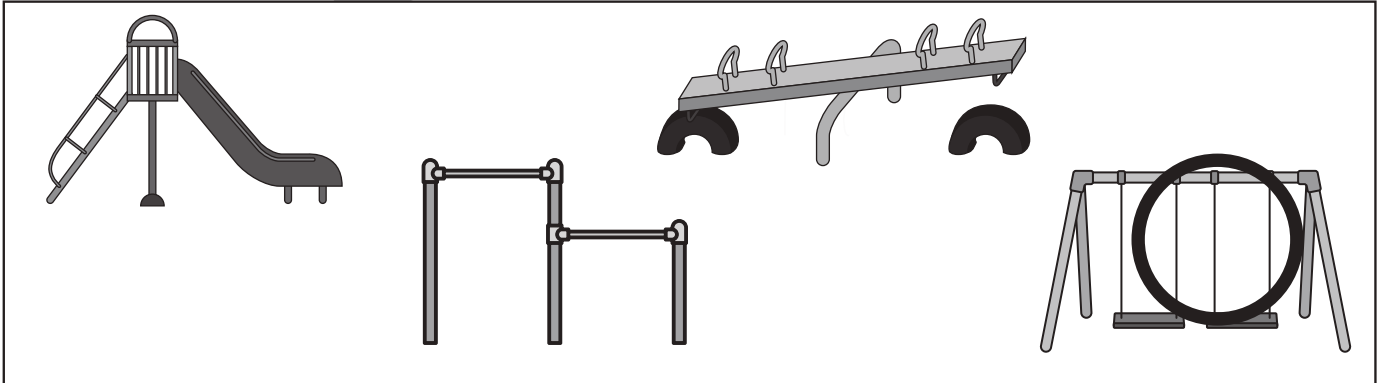
③ぜったいに まんなかだけ たべられない おかしは なんでしょう。

④くりすますつりーの いちばんうえに かざってある たべものは なんでしょう。


①



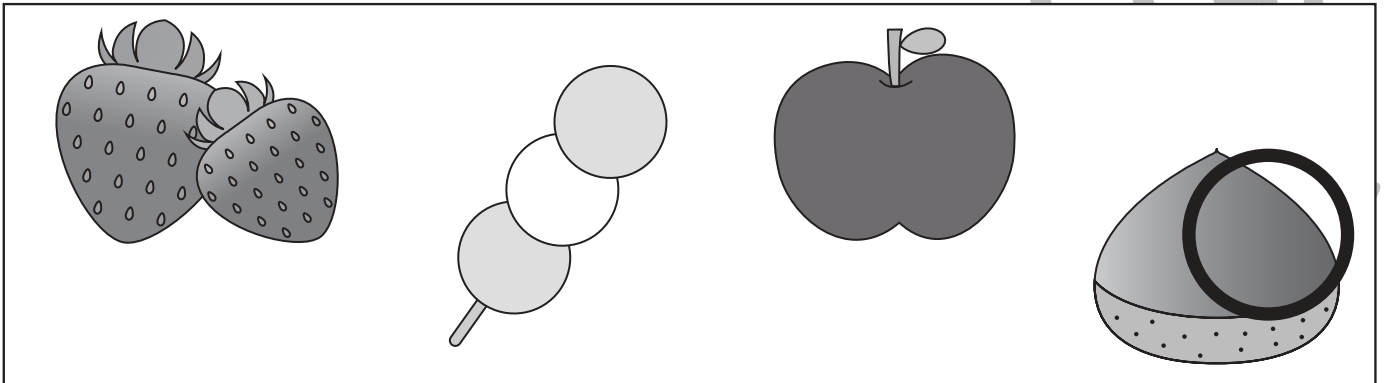
②



③



④



※1. このプリントは、しながわ・目黒こどもスクールのウェブサイトでダウンロードができます。無断複写・引用はご遠慮ください。

※2. このプリントを活用したオンライン授業のスケジュールは、しながわ・目黒こどもスクールのウェブサイトでご確認ください。

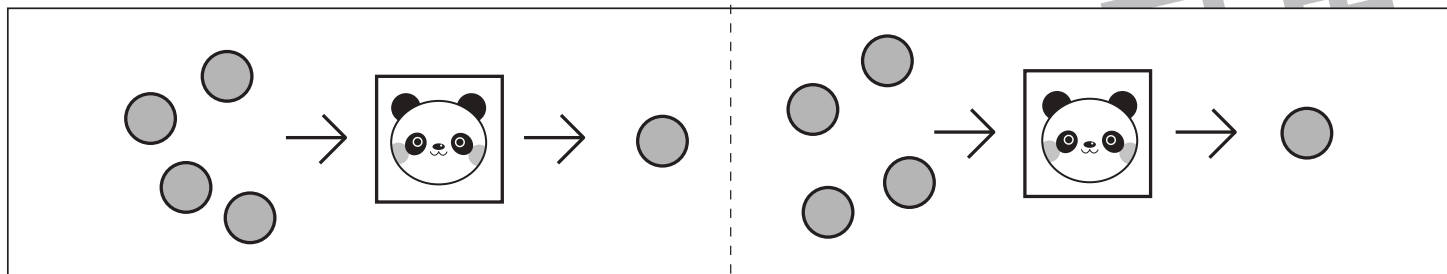


おうちで、やろう。 年中児版

Study at home. 小学校受験の家庭学習教材

推理：ブラックボックス1

一番上の四角の中が約束です。パンダの箱に入ると数が3つ減ります。この約束で下の問題を考えます。
左にある果物が横にあるパンダの箱の中を通るといくつになりますか。その数だけ右の四角の中に○をかきます。



	$\bigcirc \times 2$
--	---------------------

	$\bigcirc \times 3$
--	---------------------

	$\bigcirc \times 2$
--	---------------------

	$\bigcirc \times 3$
--	---------------------

※1. このプリントは、しながわ・目黒こどもスクールのウェブサイトでダウンロードができます。無断複写・引用はご遠慮ください。
 ※2. このプリントを活用したオンライン授業のスケジュールは、しながわ・目黒こどもスクールのウェブサイトでご確認ください。



おうちで、やろう。 年中児版 推理：ブラックボックス2

Study at home. 小学校受験の家庭学習教材

一番上の四角の中が約束です。パンダの箱に入ると3つ増えます。この約束で下の問題を考えます。
左にある果物が横にあるパンダの箱の中を通るといくつになりますか。その数だけ右の四角の中に○をかきます。

	$\bigcirc \times 6$
	$\bigcirc \times 7$
	$\bigcirc \times 7$
	$\bigcirc \times 9$

※1. このプリントは、しながわ・目黒こどもスクールのウェブサイトでダウンロードができます。無断複写・引用はご遠慮ください。

※2. このプリントを活用したオンライン授業のスケジュールは、しながわ・目黒こどもスクールのウェブサイトでご確認ください。



おうちで、やろう。 年中児版 推理：まちがいさがし 10

Study at home. 小学校受験の家庭学習教材

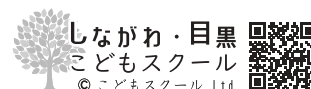
上下の絵を見比べて、変わっているところを5つ探します。見つけたら、下の絵の変わっている部分に丸をつけます。



ICT 教育の小学校受験

※1. このプリントは、しながわ・目黒こどもスクールのウェブサイトからダウンロードできます。無断複写・引用はご遠慮ください。

※2. このプリントを活用したオンライン授業のスケジュールは、しながわ・目黒こどもスクールのウェブサイトでご確認ください。





おうちで、やろう。 年中児版

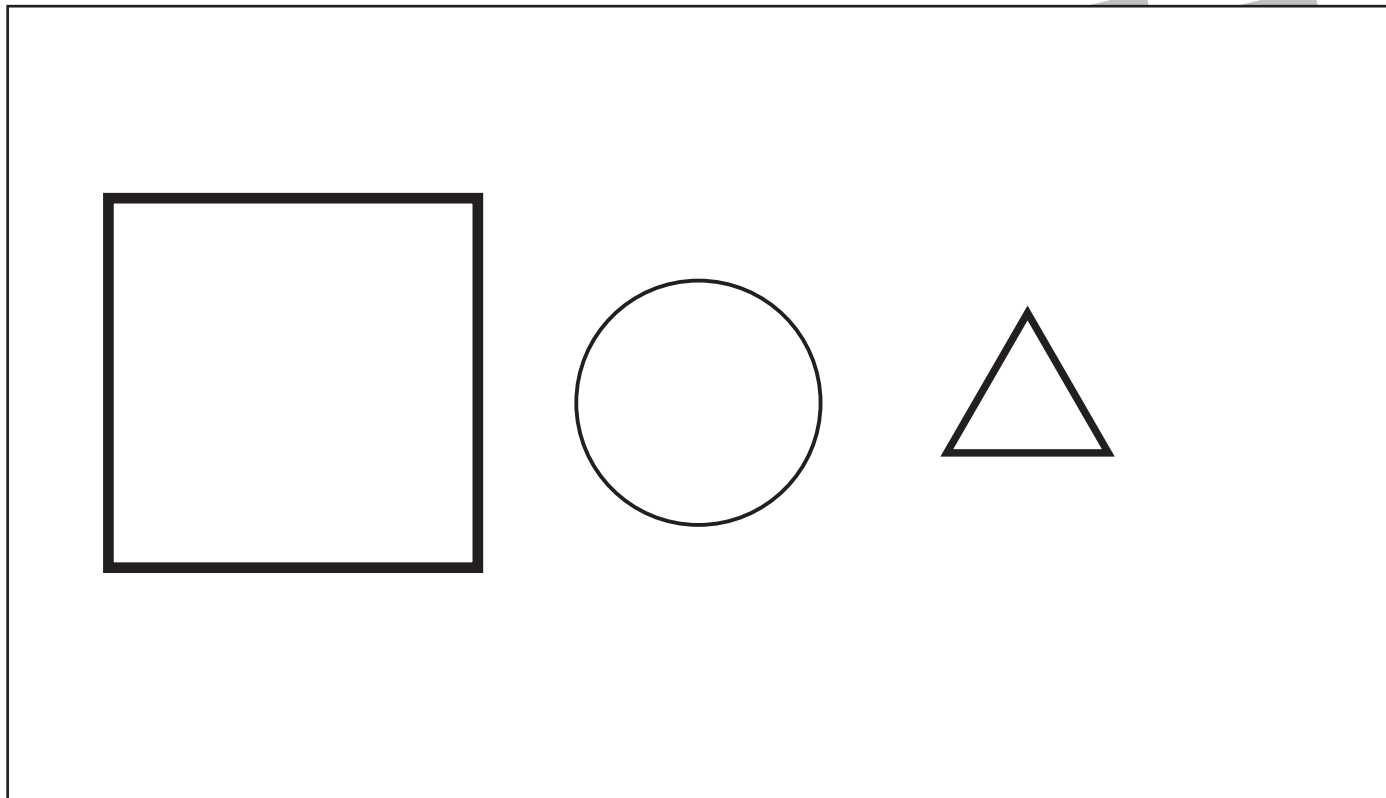
Study at home. 小学校受験の家庭学習教材

推理：比較順位 1

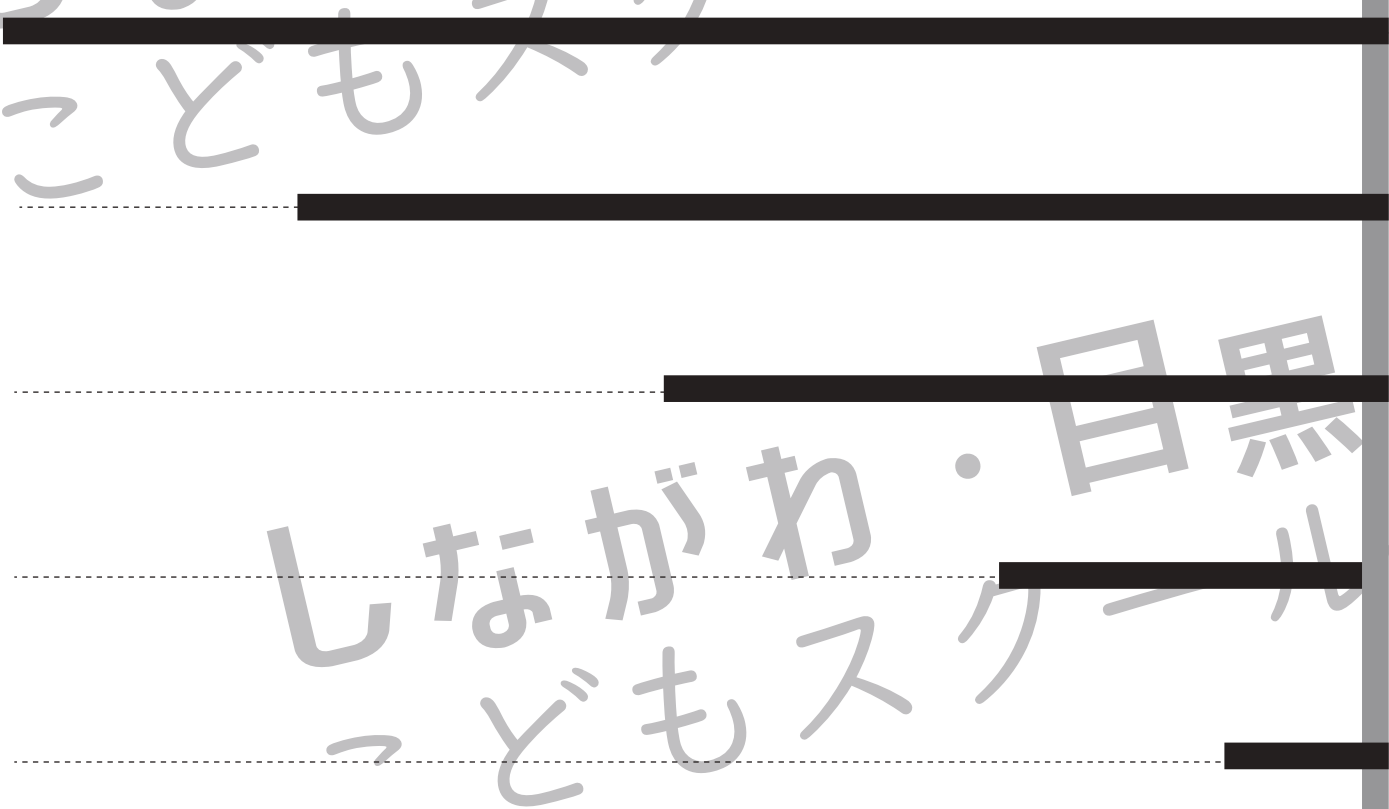
①○の左側に○より大きな四角を、○の右側に○より小さな△を鉛筆で描きます。

②上からだんだん短くなるように鉛筆で点線をなぞって四本の線を描きます。一番上が一番長く、一番下が一番短くなります。

①



②



※1. このプリントは、しながわ・目黒こどもスクールのウェブサイトでダウンロードができます。無断複写・引用はご遠慮ください。

※2. このプリントを活用したオンライン授業のスケジュールは、しながわ・目黒こどもスクールのウェブサイトでご確認ください。



おうちで、やろう。年中児版


Study at home. 小学校受験の家庭学習教材

常識：自然常識 1

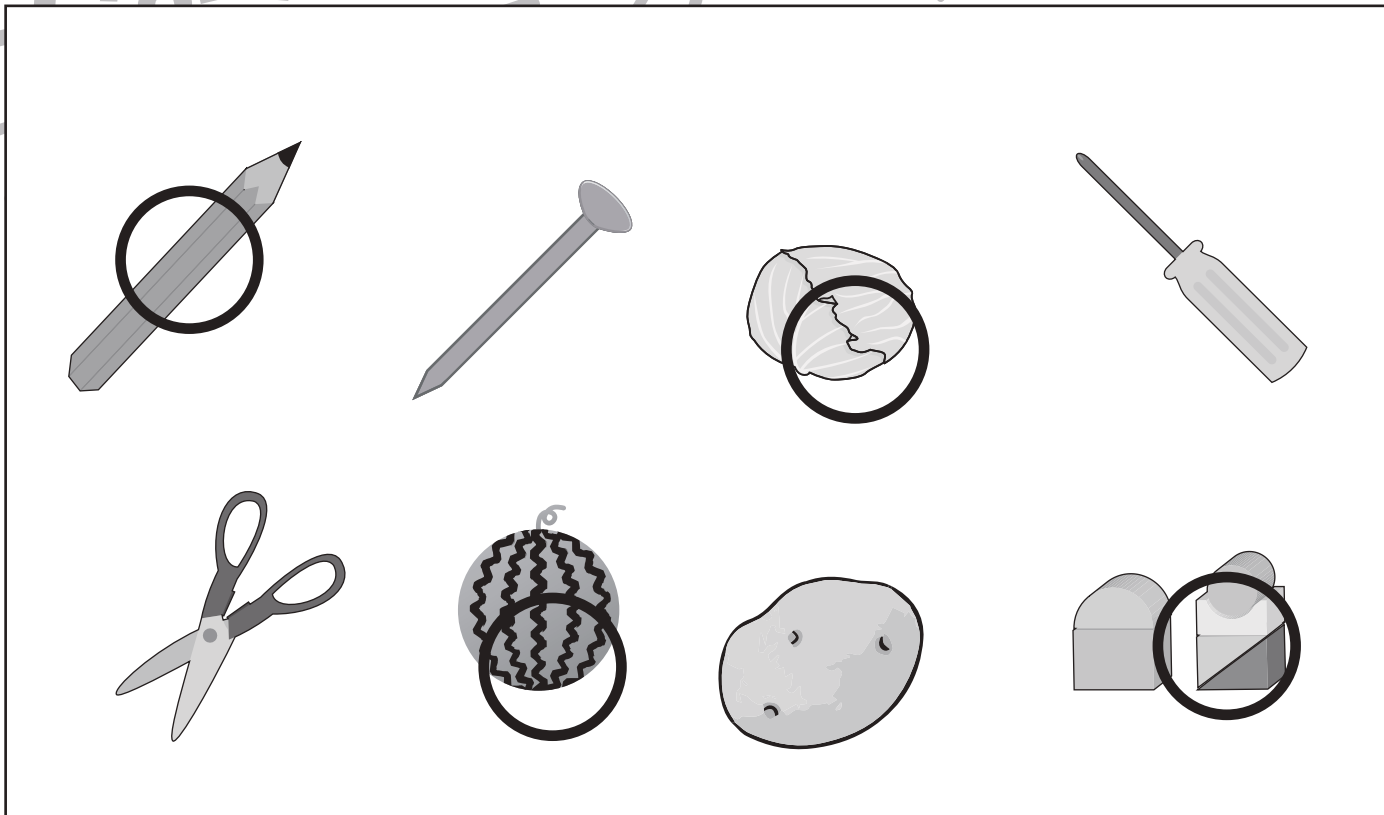
①上の四角の中で、土の中でできるものに○をつけます。

②下の四角の中で、水に浮くものに○をつけます。

①



②



※1. このプリントは、しながわ・目黒こどもスクールのウェブサイトでダウンロードができます。無断複写・引用はご遠慮ください。

※2. このプリントを活用したオンライン授業のスケジュールは、しながわ・目黒こどもスクールのウェブサイトでご確認ください。





左の2枚の点図形を重ねた形を考えて、矢印の右の四角に描きます。

※1. このプリントは、しながわ・目黒こどもスクールのウェブサイトからダウンロードできます。無断複写・引用はご遠慮ください。

※2. このプリントを活用したオンライン授業のスケジュールは、しながわ・目黒こどもスクールのウェブサイトでご確認ください。