



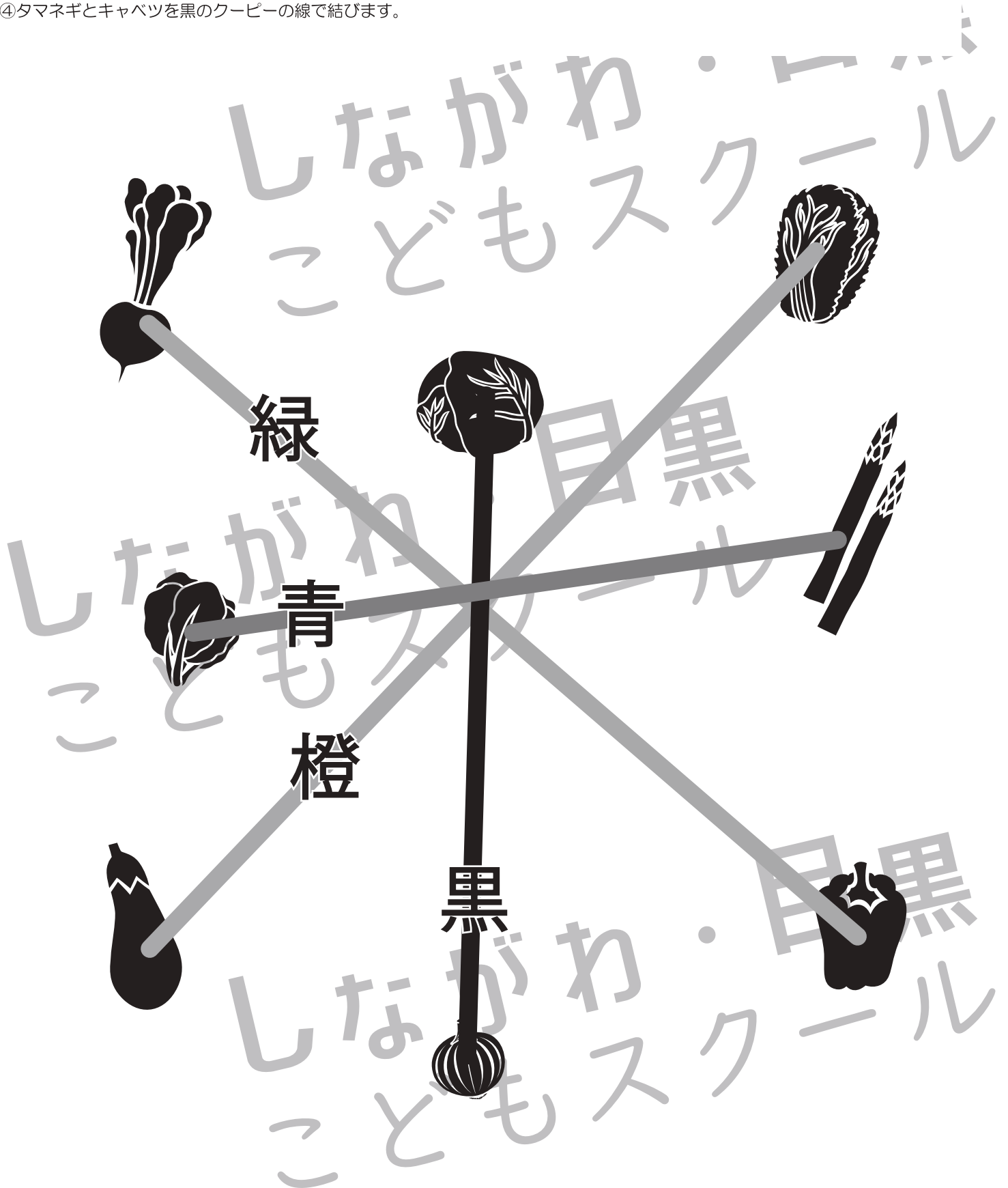
# おうちで、やろう。

Study at home. 小学校受験の家庭学習教材

## 指示の聞き取り 19

それぞれの設問に答えましょう。

- ①カブとピーマンを緑のクーピーの線で結びます。
- ②アスパラガスとホウレンソウを青のクーピーの線で結びます。
- ③ナスとハクサイをオレンジ色のクーピーの線で結びます。
- ④タマネギとキャベツを黒のクーピーの線で結びます。



※1. このプリントは、しながわ・目黒こどもスクールのウェブサイトでダウンロードができます。無断複写・引用はご遠慮ください。  
 ※2. このプリントを活用したオンライン授業のスケジュールは、しながわ・目黒こどもスクールのウェブサイトでご確認ください。



# おうちで、やろう。

Study at home. 小学校受験の家庭学習教材

## 図形：折り重ね 35

左のマスは透明です。このマスを真ん中の太い線で矢印の方向へ折り重ねます。左と右の灰色同士のマスが重なる場所はどこですか。そのマスの場所を考えて一番右の四角のマスに○をかきます。

Figure 35 consists of five rows of four 3x3 grids each. Each grid has a vertical line in the center and an arrow pointing up. The left grid in each row shows a 3x3 grid with some cells shaded gray. The second grid shows the result of folding the left grid over the center line, with circles (○) placed in the overlapping cells. The third grid shows the original gray pattern again. The fourth grid is a blank 3x3 grid for the student to mark the overlapping cells with circles.


※1. このプリントは、しながわ・目黒こどもスクールのウェブサイトでダウンロードができます。無断複写・引用はご遠慮ください。  
※2. このプリントを活用したオンライン授業のスケジュールは、しながわ・目黒こどもスクールのウェブサイトでご確認ください。



# おうちで、やろう。

Study at home. 小学校受験の家庭学習教材

## 図形：折り重ね 36

左のマスは透明です。このマスを真ん中の太い線で矢印の方向へ折り重ねます。左と右の灰色同士のマスが重なる場所はどこですか。そのマスの場所を考えて一番右の四角のマスに○をかきます。

Figure 36 consists of 20 3x5 grids arranged in 5 rows and 4 columns. Each grid is a 3x5 grid with a vertical line in the 3rd column and an arrow pointing right. The grids are divided into two groups of 10 grids each. The first group (top two rows) has the left side (columns 1-2) shaded gray and the right side (columns 4-5) shaded gray. The second group (bottom three rows) has the left side (columns 1-2) shaded gray and the right side (columns 3-5) shaded gray. In the middle grid of each pair, circles (○) are placed in various positions to represent the overlapping area after folding. The circles are placed in the following positions (row, column):

- Group 1 (Top 2 rows):
  - Row 1: (1,3), (1,4), (1,5)
  - Row 2: (2,3), (2,4), (2,5)
  - Row 3: (3,3), (3,4), (3,5)
- Group 2 (Bottom 3 rows):
  - Row 1: (1,2), (1,3), (1,4), (1,5)
  - Row 2: (2,2), (2,3), (2,4), (2,5)
  - Row 3: (3,2), (3,3), (3,4), (3,5)

※1. このプリントは、しながわ・目黒こどもスクールのウェブサイトでダウンロードができます。無断複写・引用はご遠慮ください。  
※2. このプリントを活用したオンライン授業のスケジュールは、しながわ・目黒こどもスクールのウェブサイトでご確認ください。



# おうちで、やろう。

Study at home. 小学校受験の家庭学習教材

## 図形：折り重ね 37

左のマスは透明です。このマスを真ん中の太い線で矢印の方向へ折り重ねます。左と右の灰色同士のマスが重なる場所はどこですか。そのマスの場所を考えて一番右の四角のマ스에○をかきます。

Figure 37 consists of five rows of visual puzzles. Each row contains three 3x5 grids. The first grid in each row is a 3x5 grid with a vertical line in the second column and an arrow pointing to the right. The second grid is a 3x5 grid with a circle in the second column of the second row and circles in the first and second columns of the third row. The third grid is a 3x5 grid with a vertical line in the second column and an arrow pointing to the right. The fourth grid is a 3x5 grid with circles in the second column of the second row and circles in the first and second columns of the third row. The fifth grid is a 3x5 grid with a circle in the second column of the second row and circles in the first and second columns of the third row.

※1. このプリントは、しながわ・目黒こどもスクールのウェブサイトでダウンロードができます。無断複写・引用はご遠慮ください。  
※2. このプリントを活用したオンライン授業のスケジュールは、しながわ・目黒こどもスクールのウェブサイトでご確認ください。



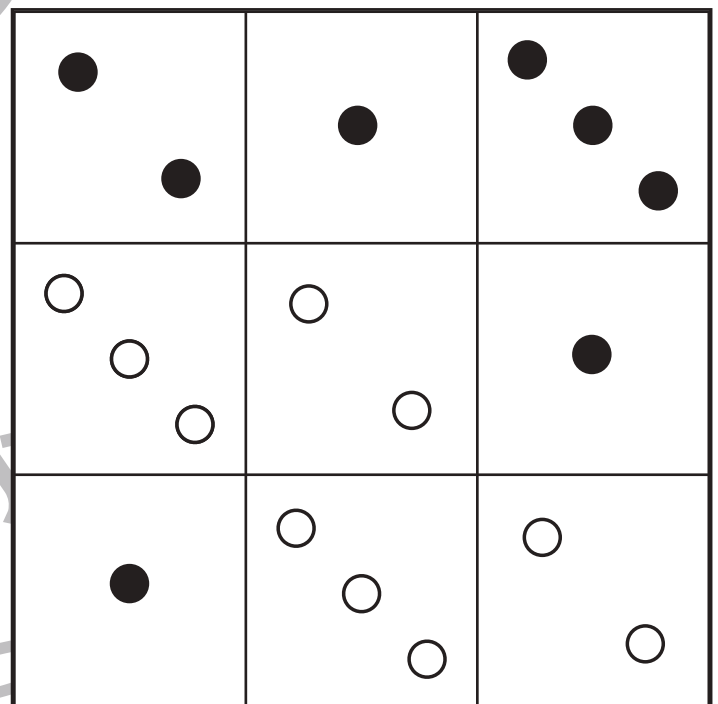


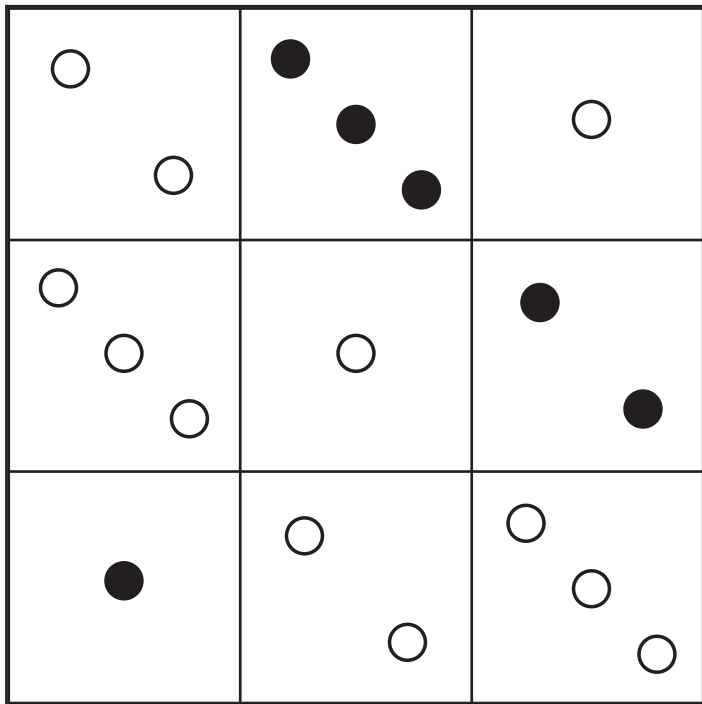
# おうちで、やろう。

Study at home. 小学校受験の家庭学習教材

数量：条件推理 10

マスの中にサイコロの1～3までの目がありますね。縦3つと横3つのマスで同じ数の目が並ばないようにします。このとき、空いているマスに入る目を考えてかきます。

※解答は分かりやすく黒丸になっていますが、白丸で正解です。



※1. このプリントは、しながわ・目黒こどもスクールのウェブサイトでダウンロードができます。無断複写・引用はご遠慮ください。  
 ※2. このプリントを活用したオンライン授業のスケジュールは、しながわ・目黒こどもスクールのウェブサイトでご確認ください。



# おうちで、やろう。

Study at home. 小学校受験の家庭学習教材

数量：条件推理 11

マスの中にサイコロの1～4までの目がありますね。縦4つと横4つのマスで同じ数の目が並ばないようにします。このとき、空いているマスに入る目を考えてかきます。

※解答は分かりやすく黒丸になっていますが、白丸で正解です。

○	○ ○	●	○
○ ○	○ ○	● ●	○ ○
○ ○	○ ○	○ ○	○ ○
● ●	○	○ ○	○ ○
○ ○	○ ○	○ ○	○ ○
○ ○	○ ○	○ ○	○ ○
○ ○	○ ○	○ ○	○ ○
○ ○	○ ○	○ ○	○ ○

○	○ ○	○ ○	○ ○
○ ○	○ ○	○ ○	○ ○
○ ○	○ ○	○ ○	○ ○
○ ○	○ ○	○ ○	○ ○
○ ○	○ ○	○ ○	○ ○
○ ○	○ ○	○ ○	○ ○
○ ○	○ ○	○ ○	○ ○
○ ○	○ ○	○ ○	○ ○

○ ○	○ ○	○ ○	○ ○
○ ○	○ ○	○ ○	○ ○
○ ○	○ ○	○ ○	○ ○
○ ○	○ ○	○ ○	○ ○
○ ○	○ ○	○ ○	○ ○
○ ○	○ ○	○ ○	○ ○
○ ○	○ ○	○ ○	○ ○
○ ○	○ ○	○ ○	○ ○

○	○ ○	○ ○	○ ○
○ ○	○ ○	○ ○	○ ○
○ ○	○ ○	○ ○	○ ○
○ ○	○ ○	○ ○	○ ○
○ ○	○ ○	○ ○	○ ○
○ ○	○ ○	○ ○	○ ○
○ ○	○ ○	○ ○	○ ○
○ ○	○ ○	○ ○	○ ○

※1. このプリントは、しながわ・目黒こどもスクールのウェブサイトでダウンロードができます。無断複写・引用はご遠慮ください。  
※2. このプリントを活用したオンライン授業のスケジュールは、しながわ・目黒こどもスクールのウェブサイトでご確認ください。

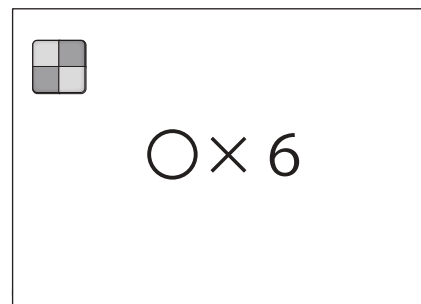

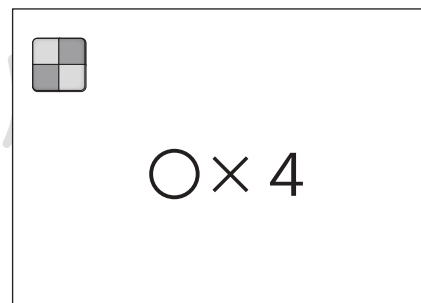




# おうちで、やろう。

Study at home. 小学校受験の家庭学習教材

数量：置き換え9

上の太い四角が約束です。袋の中にはクッキーが2枚入っています。箱の中には袋が2つ入っています。  
左の四角の中の袋や箱に入っているクッキーの数だけ、一番右の四角の中に○をかきます。



※1. このプリントは、しながわ・目黒こどもスクールのウェブサイトでダウンロードができます。無断複写・引用はご遠慮ください。  
※2. このプリントを活用したオンライン授業のスケジュールは、しながわ・目黒こどもスクールのウェブサイトでご確認ください。



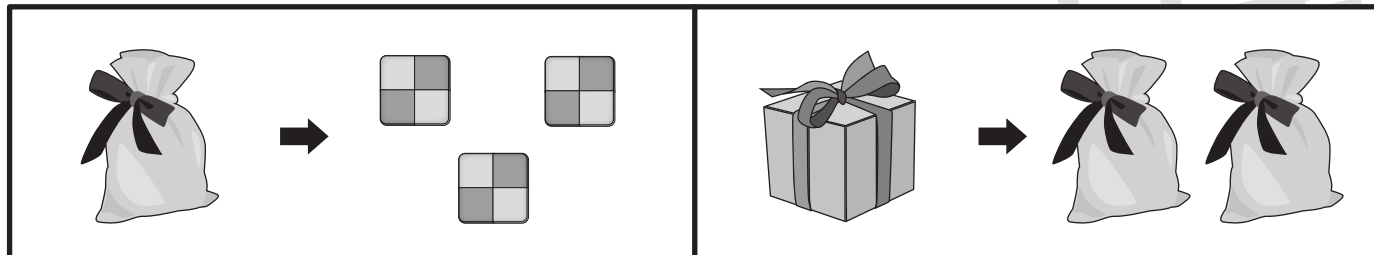



# おうちで、よろう。

Study at home. 小学校受験の家庭学習教材


数量：置き換え 10


上の太い四角が約束です。袋の中にはクッキーが3枚入っています。箱の中には袋が2つ入っています。  
左の四角の中の袋や箱に入っているクッキーの数だけ、一番右の四角の中に○をかきます。




  
○ × 9



  
○ × 6



  
○ × 12



  
○ × 12

※1. このプリントは、しながわ・目黒こどもスクールのウェブサイトでダウンロードができます。無断複写・引用はご遠慮ください。  
※2. このプリントを活用したオンライン授業のスケジュールは、しながわ・目黒こどもスクールのウェブサイトでご確認ください。