



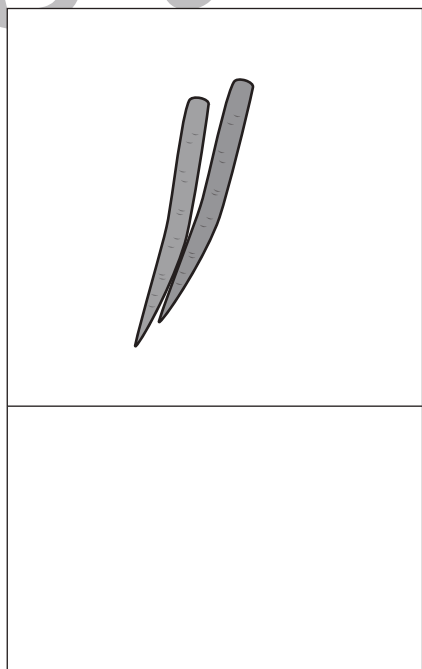
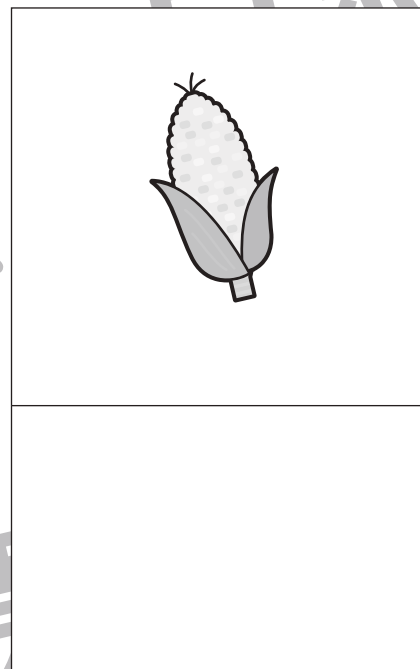
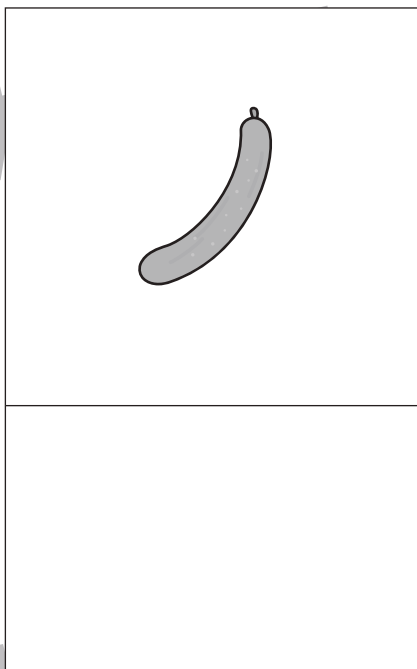



おうちで、やろう。

Study at home. 小学校受験の家庭学習教材

言語：音の理解 22

上の四角の絵の名前の中に数字が隠れています。何の数字が隠れているのか考えて、その数字の数だけ下の四角に○をかきます。ただし、名前の中にいくつかの数字が隠れているときは、一番大きな数字の数だけ○をかきます。



※1. このプリントは、しながわ・目黒こどもスクールのウェブサイトでダウンロードができます。無断複写・引用はご遠慮ください。

※2. このプリントを活用したオンライン授業のスケジュールは、しながわ・目黒こどもスクールのウェブサイトでご確認ください。





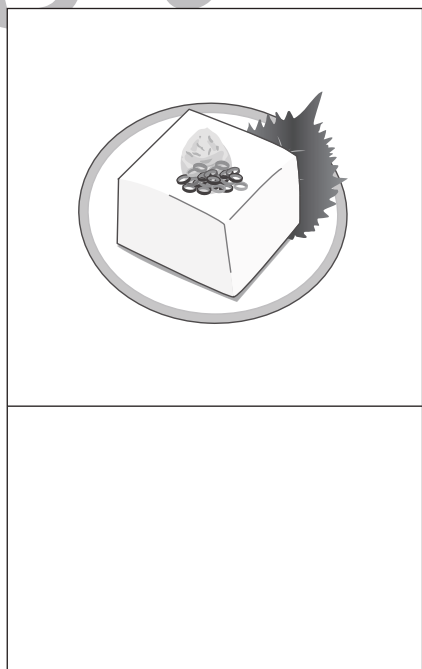
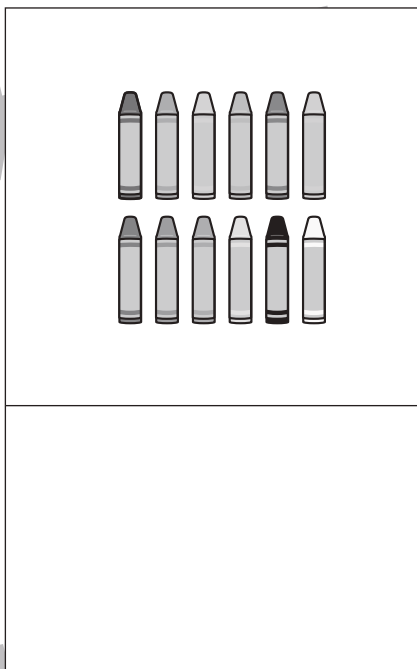



おうちで、やろう。

Study at home. 小学校受験の家庭学習教材

言語：音の理解 23

上の四角の絵の名前の中に数字が隠れています。何の数字が隠れているのか考えて、その数字の数だけ下の四角に○をかきます。ただし、名前の中にいくつかの数字が隠れているときは、一番大きな数字の数だけ○をかきます。



※1. このプリントは、しながわ・目黒こどもスクールのウェブサイトでダウンロードができます。無断複写・引用はご遠慮ください。

※2. このプリントを活用したオンライン授業のスケジュールは、しながわ・目黒こどもスクールのウェブサイトでご確認ください。




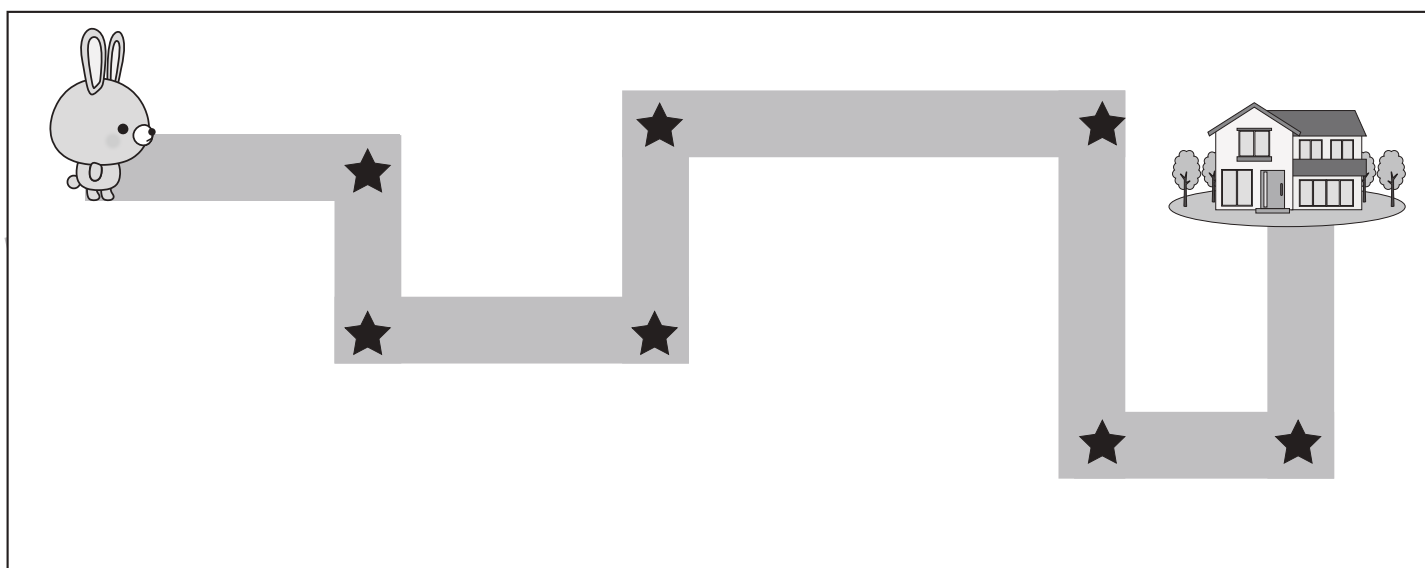
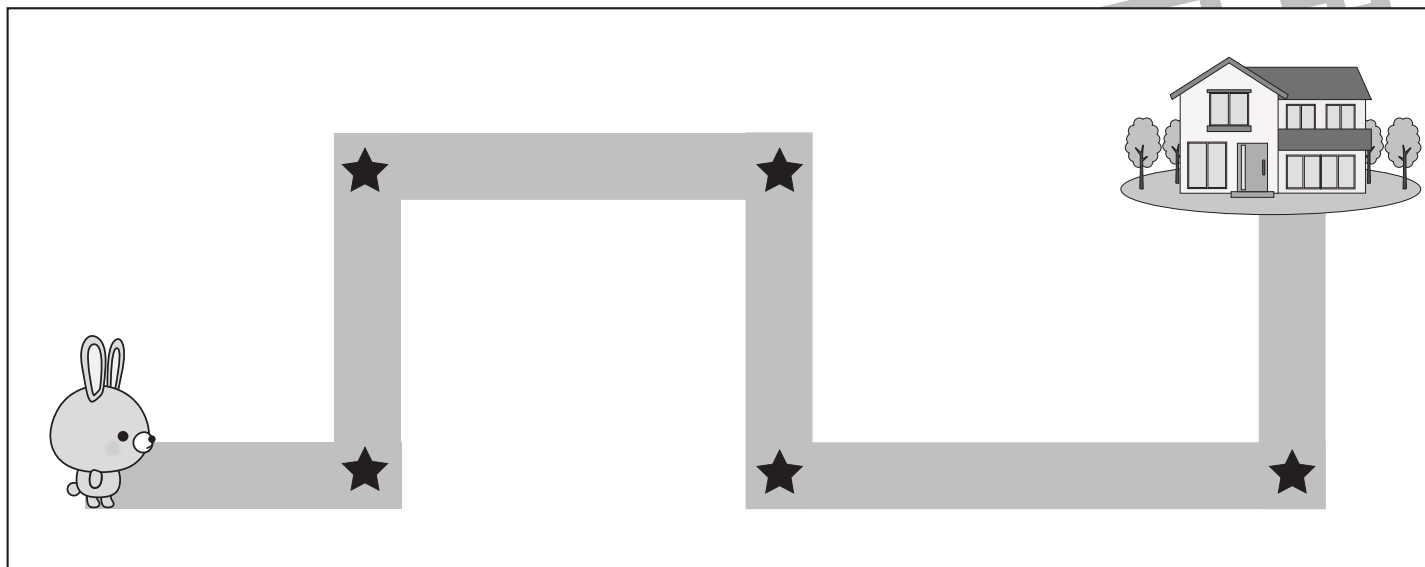


おうちで、やろう。

Study at home. 小学校受験の家庭学習教材

推理：地図の移動1

ウサギが家まで歩いて帰ります。途中の★のマークのある曲がり角ではウサギは右と左のどちらに曲がりますか。右に曲がる曲がり角の★に○をつけます。



※1. このプリントは、しながわ・目黒こどもスクールのウェブサイトでダウンロードができます。無断複写・引用はご遠慮ください。

※2. このプリントを活用したオンライン授業のスケジュールは、しながわ・目黒こどもスクールのウェブサイトでご確認ください。




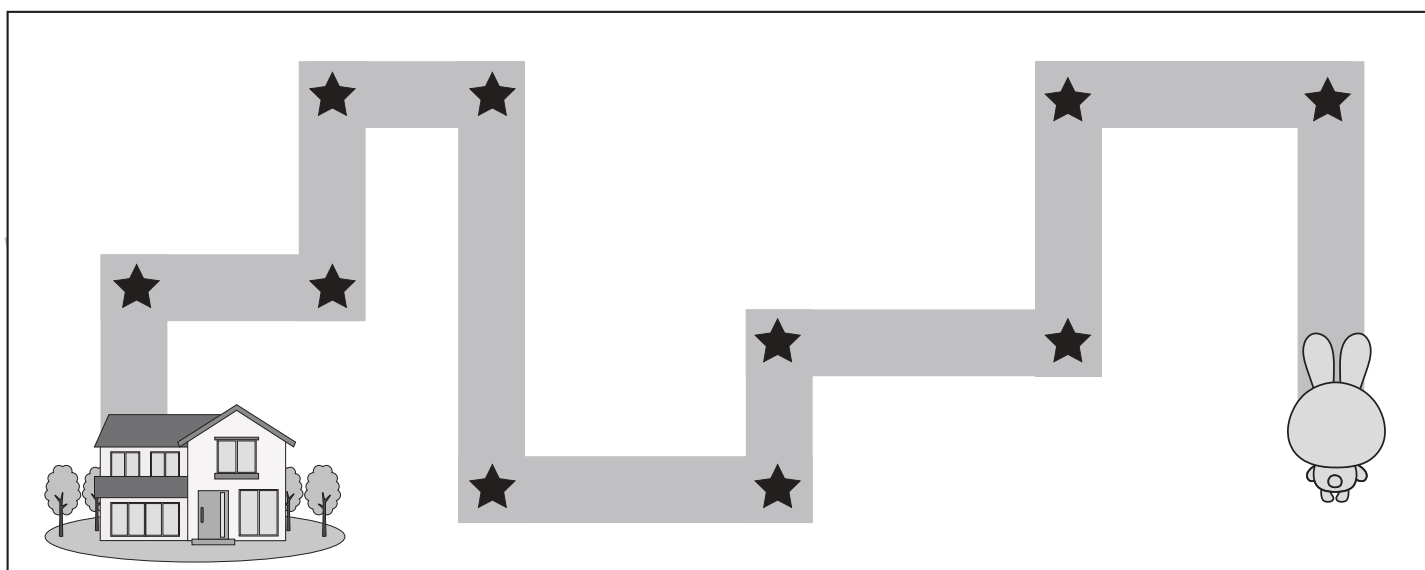
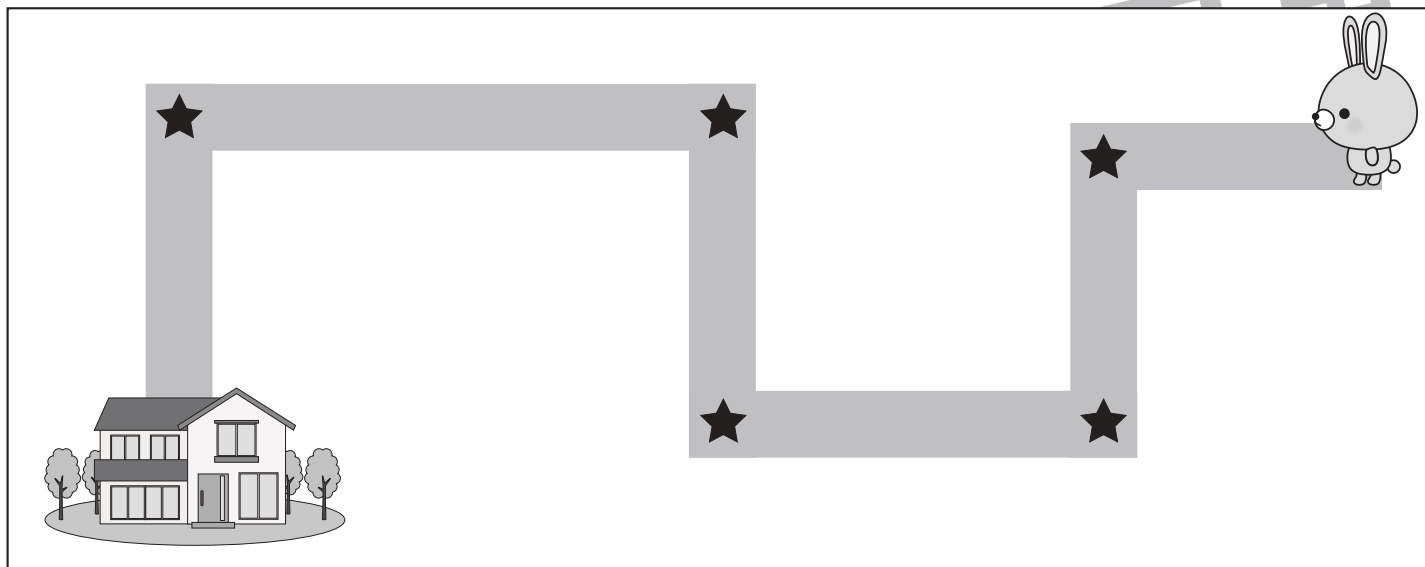


おうちで、やろう。

Study at home. 小学校受験の家庭学習教材

推理：地図の移動2

ウサギが家まで歩いて帰ります。途中の★のマークのある曲がり角ではウサギは右と左のどちらに曲がりますか。左に曲がる曲がり角の★に○をつけます。



※1. このプリントは、しながわ・目黒こどもスクールのウェブサイトでダウンロードができます。無断複写・引用はご遠慮ください。

※2. このプリントを活用したオンライン授業のスケジュールは、しながわ・目黒こどもスクールのウェブサイトでご確認ください。














おうちで、やろう。

Study at home. 小学校受験の家庭学習教材

数量：足の数 1

左の四角の中には生き物がいます。この生き物の足の数を含わせるといくつになりますか。
その数だけ右の四角の中に○をかきます。















おうちで、やろう。

Study at home. 小学校受験の家庭学習教材

数量：足の数2

左と右の四角の中には生き物がいます。それぞれの生き物の足の数を合わせたとき、左の四角と右の四角ではどちらが数が多くなりますか。多い方の四角に○をつけます。また、同じ数のときは両方とも○をつけます。

※1. このプリントは、しながわ・目黒こどもスクールのウェブサイトでダウンロードができます。無断複写・引用はご遠慮ください。

※2. このプリントを活用したオンライン授業のスケジュールは、しながわ・目黒こどもスクールのウェブサイトでご確認ください。









おうちで、やろう。




Study at home. 小学校受験の家庭学習教材

数量：同数 16




お友だちが2列に並んでいます。それぞれの列のお友だちの人数が同じになるには、多く並んでいる列から何人移ればよいですか。移動する人の数だけ、矢印の先に○をかきましょう。

※ 1. このプリントは、しながわ・目黒こどもスクールのウェブサイトでダウンロードができます。無断複写・引用はご遠慮ください。

※ 2. このプリントを活用したオンライン授業のスケジュールは、しながわ・目黒こどもスクールのウェブサイトでご確認ください。



おうちで、やろう。

Study at home. 小学校受験の家庭学習教材

数量：同数 17

お友だちが3列に並んでいます。それぞれの列のお友だちの人数を同じにすると、1列に何人のお友だちが並んでいることになりますか。1列に並ぶ人の数だけ矢印の先に○をかきましょう。

--	--	--

--	--	--

--	--	--

--	--	--

--	--	--

※1. このプリントは、しながわ・目黒こどもスクールのウェブサイトダウンロードができます。無断複写・引用はご遠慮ください。

※2. このプリントを活用したオンライン授業のスケジュールは、しながわ・目黒こどもスクールのウェブサイトでご確認ください。



おうちで、やろう。

Study at home. 小学校受験の家庭学習教材

数量：同数 18

お友だちが3列に並んでいます。それぞれの列のお友だちの人数を同じにすると、1列に何人のお友だちが並んでいることになりますか。1列に並ぶ人の数だけ矢印の先に○をかきましょう。

--	--

--	--

--	--

--	--

--	--

※1. このプリントは、しながわ・目黒こどもスクールのウェブサイトでダウンロードができます。無断複写・引用はご遠慮ください。

※2. このプリントを活用したオンライン授業のスケジュールは、しながわ・目黒こどもスクールのウェブサイトでご確認ください。

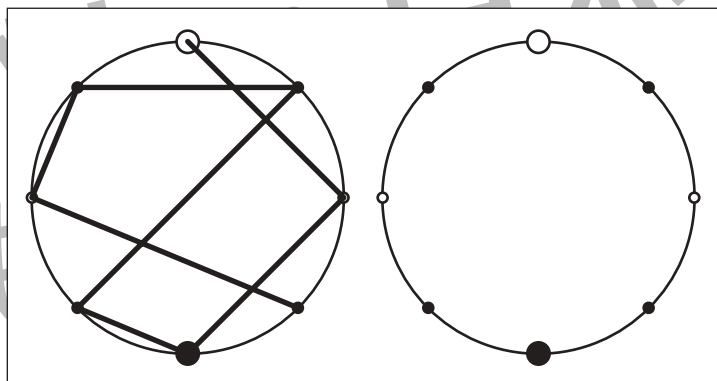
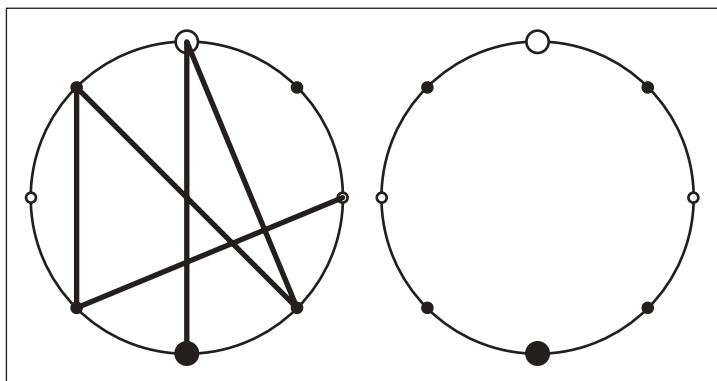
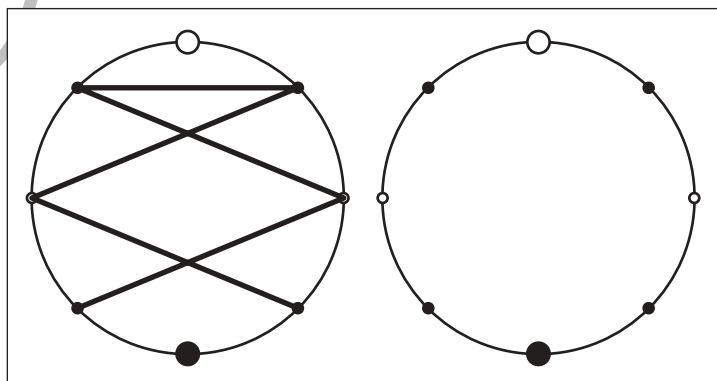
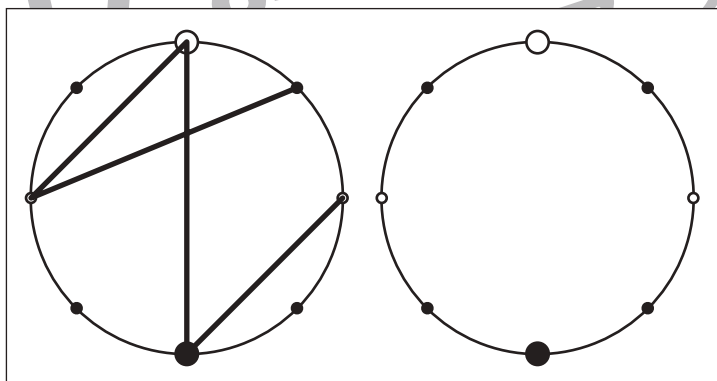
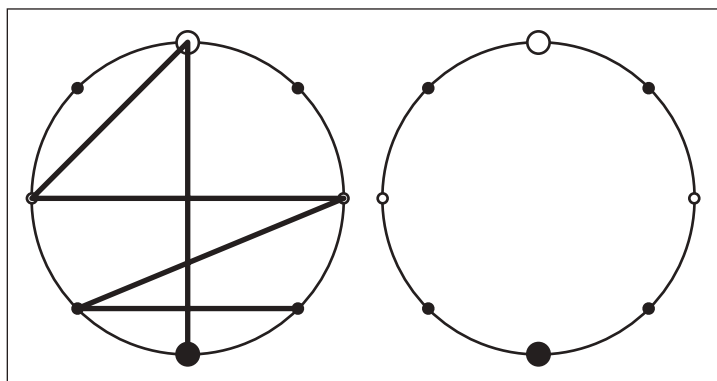
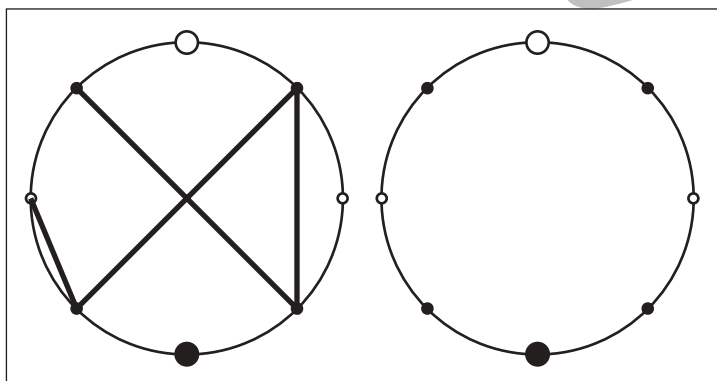
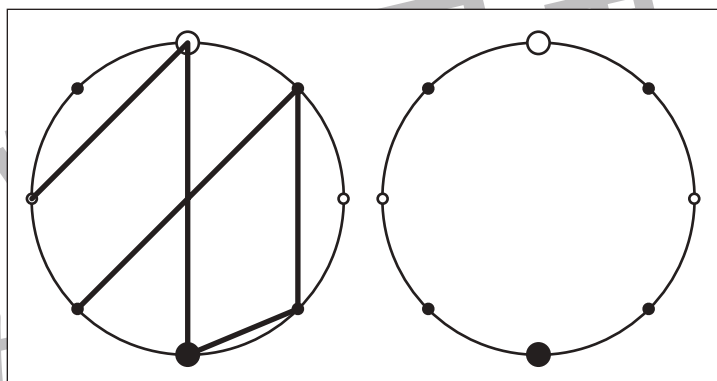
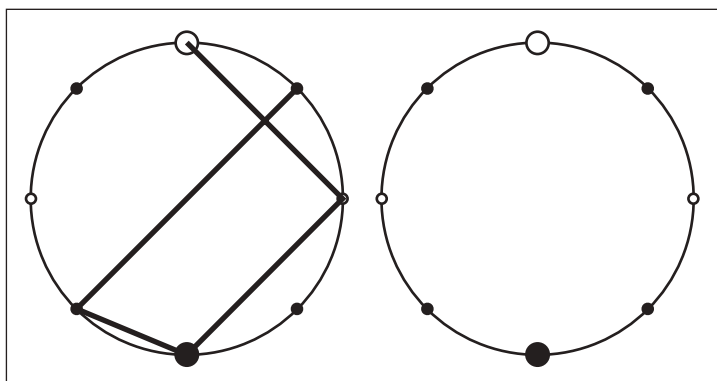


おうちで、やろう。

Study at home. 小学校受験の家庭学習教材

図形：点図形 39

左のお手本を見て、右にそっくり書き写しましょう。※このプリントに解答はありません。



※1. このプリントは、しながわ・目黒こどもスクールのウェブサイトでダウンロードができます。無断複写・引用はご遠慮ください。

※2. このプリントを活用したオンライン授業のスケジュールは、しながわ・目黒こどもスクールのウェブサイトでご確認ください。

