





# おうちで、やろう。


Study at home. 小学校受験の家庭学習教材

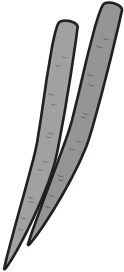
## 言語：音の理解 22

上の四角の絵の名前の中に数字が隠れています。何の数字が隠れているのか考えて、その数字の数だけ下の四角に○をかきます。ただし、名前の中にいくつかの数字が隠れているときは、一番大きな数字の数だけ○をかきます。



○×2


○×9


○×10


○×5


○×7


○×5

※1. このプリントは、しながわ・目黒こどもスクールのウェブサイトでダウンロードができます。無断複写・引用はご遠慮ください。  
※2. このプリントを活用したオンライン授業のスケジュールは、しながわ・目黒こどもスクールのウェブサイトでご確認ください。



# おうちで、やろう。

Study at home. 小学校受験の家庭学習教材

## 言語：音の理解 23

上の四角の絵の名前の中に数字が隠れています。何の数字が隠れているのか考えて、その数字の数だけ下の四角に○をかきます。ただし、名前の中にいくつかの数字が隠れているときは、一番大きな数字の数だけ○をかきます。

○ × 3

○ × 9

○ × 9

○ × 10

○ × 8

○ × 9

※1. このプリントは、しながわ・目黒こどもスクールのウェブサイトでダウンロードができます。無断複写・引用はご遠慮ください。  
 ※2. このプリントを活用したオンライン授業のスケジュールは、しながわ・目黒こどもスクールのウェブサイトでご確認ください。

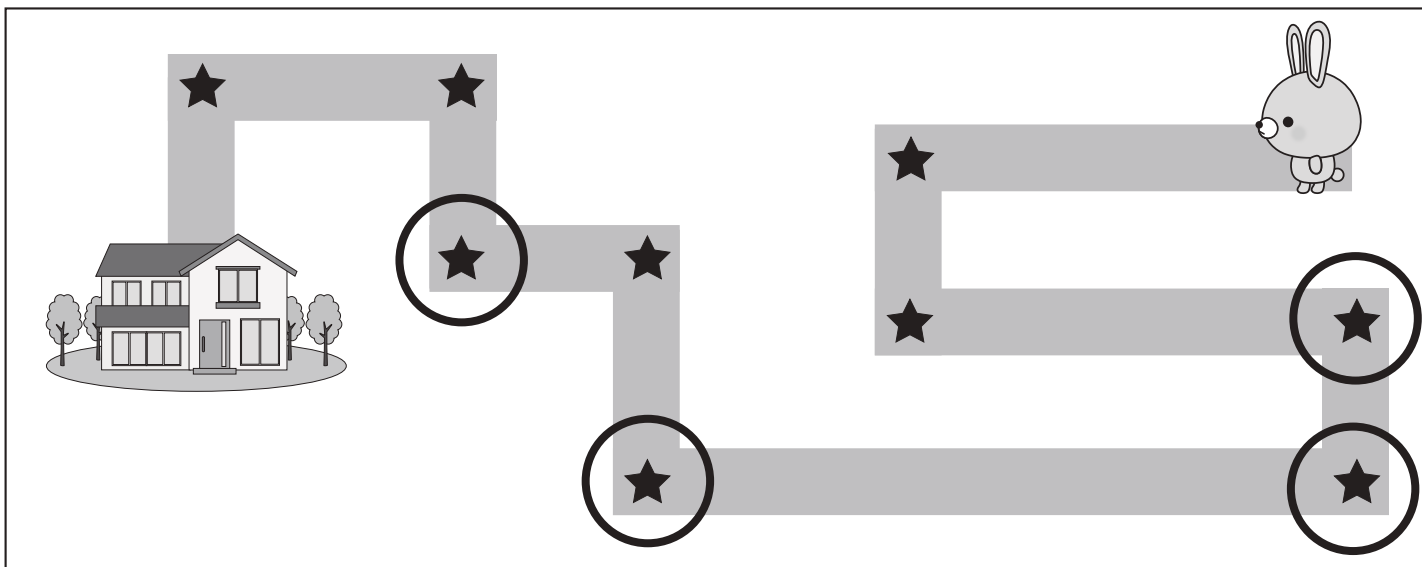
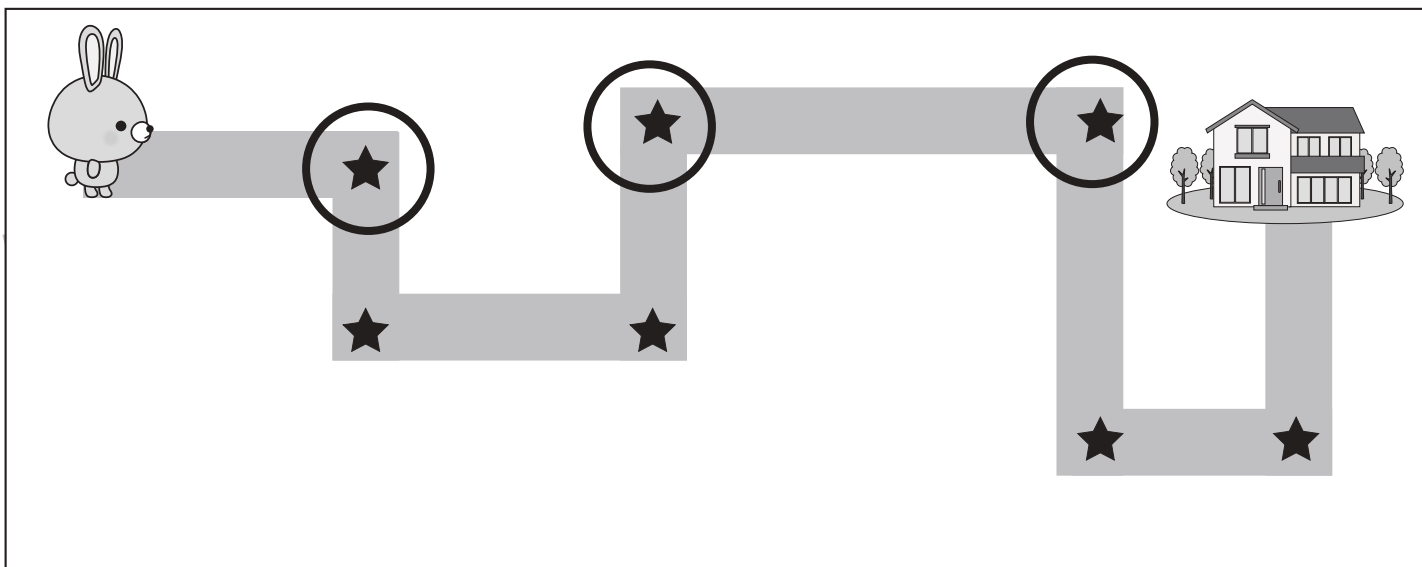
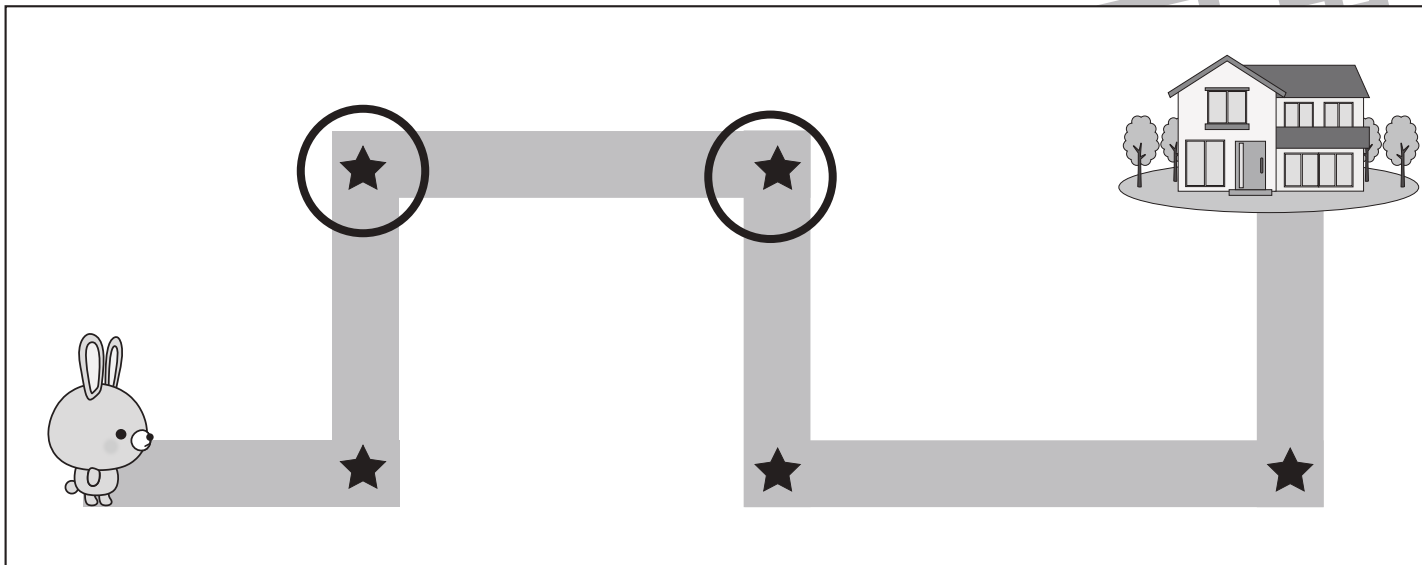


# おうちで、やろう。

Study at home. 小学校受験の家庭学習教材

## 推理：地図の移動1

ウサギが家まで歩いて帰ります。途中の★のマークのある曲がり角ではウサギは右と左のどちらに曲がりますか。右に曲がる曲がり角の★に○をつけます。



※1. このプリントは、しながわ・目黒こどもスクールのウェブサイトでダウンロードができます。無断複写・引用はご遠慮ください。  
 ※2. このプリントを活用したオンライン授業のスケジュールは、しながわ・目黒こどもスクールのウェブサイトでご確認ください。

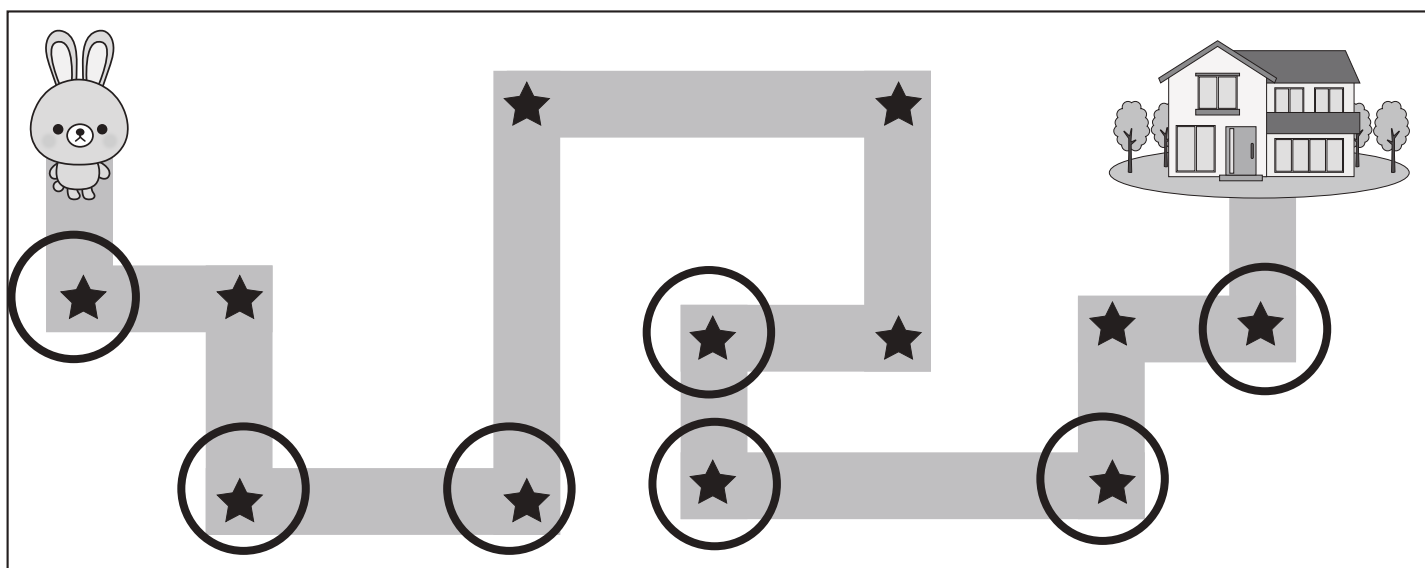
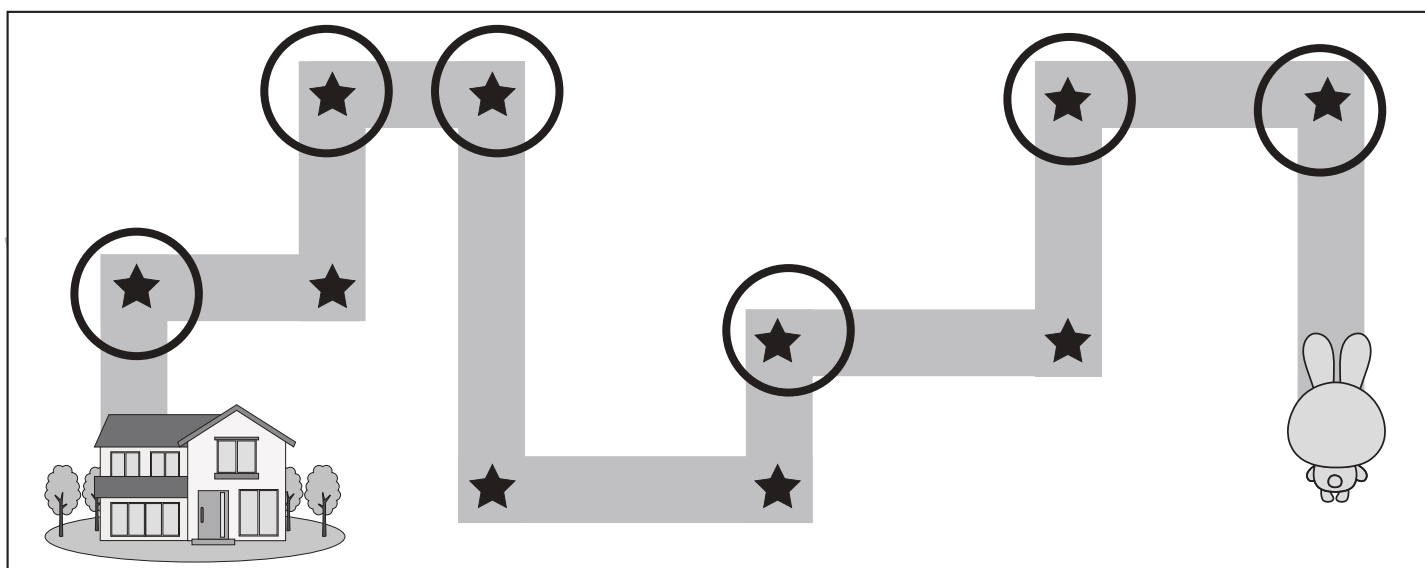
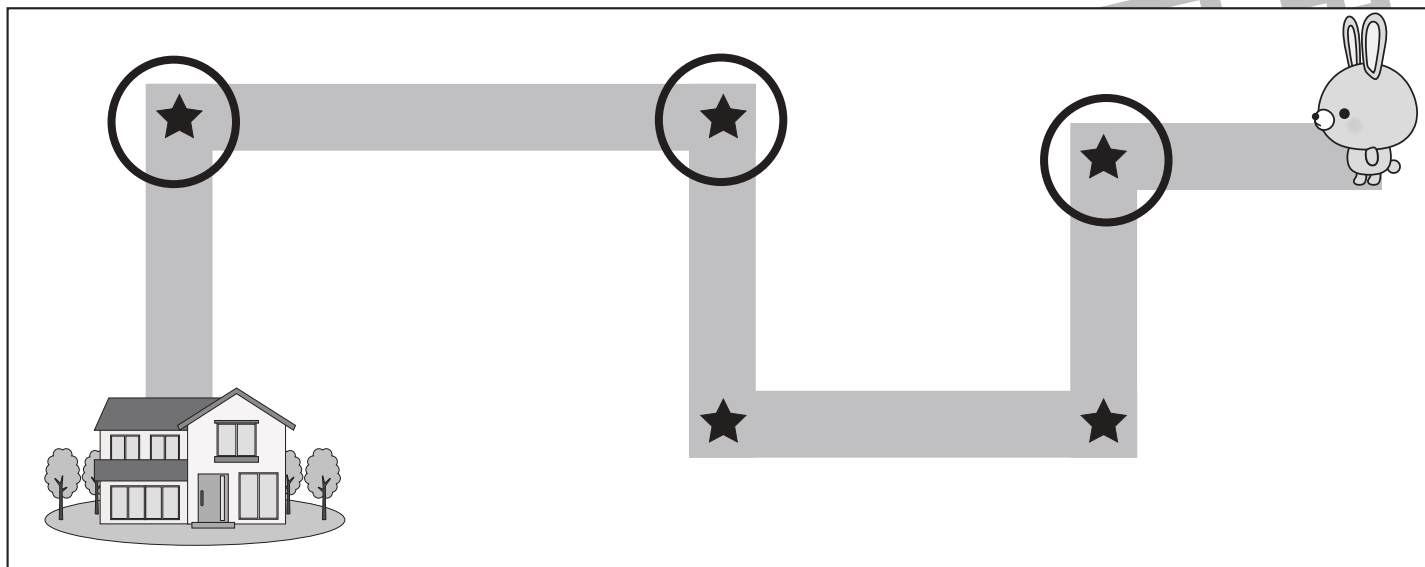


# おうちで、やろう。

Study at home. 小学校受験の家庭学習教材

## 推理：地図の移動2

ウサギが家まで歩いて帰ります。途中の★のマークのある曲がり角ではウサギは右と左のどちらに曲がりますか。左に曲がる曲がり角の★に○をつけます。



※1. このプリントは、しながわ・目黒こどもスクールのウェブサイトからダウンロードできます。無断複写・引用はご遠慮ください。

※2. このプリントを活用したオンライン授業のスケジュールは、しながわ・目黒こどもスクールのウェブサイトでご確認ください。




# おうちで、やろう。


Study at home. 小学校受験の家庭学習教材

数量：足の数 1


左の四角の中には生き物がいます。この生き物の足の数を合わせるといくつになりますか。  
その数だけ右の四角の中に○をかきます。




$$\bigcirc \times 8$$




$$\bigcirc \times 8$$



$$\bigcirc \times 10$$



$$\bigcirc \times 14$$



$$\bigcirc \times 12$$

※1. このプリントは、しながわ・目黒こどもスクールのウェブサイトからダウンロードできます。無断複写・引用はご遠慮ください。  
※2. このプリントを活用したオンライン授業のスケジュールは、しながわ・目黒こどもスクールのウェブサイトでご確認ください。



# おうちで、やろう。

Study at home. 小学校受験の家庭学習教材

数量：足の数2

左と右の四角の中には生き物がいます。それぞれの生き物の足の数を合わせたとき、左の四角と右の四角ではどちらが数が多くなりますか。多い方の四角に○をつけます。また、同じ数のときは両方とも○をつけます。

<p>8</p>	<p>6</p>
----------	----------

<p>10</p>	<p>12</p>
-----------	-----------

<p>12</p>	<p>12</p>
-----------	-----------

<p>14</p>	<p>14</p>
-----------	-----------

<p>12</p>	<p>14</p>
-----------	-----------

※1. このプリントは、しながわ・目黒こどもスクールのウェブサイトでダウンロードができます。無断複写・引用はご遠慮ください。  
 ※2. このプリントを活用したオンライン授業のスケジュールは、しながわ・目黒こどもスクールのウェブサイトでご確認ください。





# おうちで、やろう。



Study at home. 小学校受験の家庭学習教材

数量：同数 16



お友だちが2列に並んでいます。それぞれの列のお友だちの人数が同じになるには、多く並んでいる列から何人移ればよいですか。移動する人の数だけ、矢印の先に○をかきましょう。

	→ ○ × 2
	

	→ ○ × 2
	

	→ ○ × 3
	

	→ ○ × 3
	

	→ ○ × 3
	

※1. このプリントは、しながわ・目黒こどもスクールのウェブサイトでダウンロードができます。無断複写・引用はご遠慮ください。

※2. このプリントを活用したオンライン授業のスケジュールは、しながわ・目黒こどもスクールのウェブサイトでご確認ください。



# おうちで、やろう。

Study at home. 小学校受験の家庭学習教材

数量：同数 17

お友だちが3列に並んでいます。それぞれの列のお友だちの人数を同じにすると、1列に何人のお友だちが並んでいることになりませんか。1列に並ぶ人の数だけ矢印の先に○をかきましょう。

	<p>→ ○ × 5</p>
--	----------------

	<p>→ ○ × 5</p>
--	----------------

	<p>→ ○ × 5</p>
--	----------------

	<p>→ ○ × 5</p>
--	----------------

	<p>→ ○ × 6</p>
--	----------------

※1. このプリントは、しながわ・目黒こどもスクールのウェブサイトでダウンロードができます。無断複写・引用はご遠慮ください。

※2. このプリントを活用したオンライン授業のスケジュールは、しながわ・目黒こどもスクールのウェブサイトでご確認ください。





# おうちで、やろう。

Study at home. 小学校受験の家庭学習教材

数量：同数 18

お友だちが3列に並んでいます。それぞれの列のお友だちの人数を同じにすると、1列に何人のお友だちが並んでいることになりますか。1列に並ぶ人の数だけ矢印の先に○をかきましょう。

	$\bigcirc \times 4$
--	---------------------

	$\bigcirc \times 4$
--	---------------------

	$\bigcirc \times 5$
--	---------------------

	$\bigcirc \times 3$
--	---------------------

	$\bigcirc \times 5$
--	---------------------

※1. このプリントは、しながわ・目黒こどもスクールのウェブサイトでダウンロードができます。無断複写・引用はご遠慮ください。

※2. このプリントを活用したオンライン授業のスケジュールは、しながわ・目黒こどもスクールのウェブサイトでご確認ください。