









おうちで、やろう。

Study at home. 小学校受験の家庭学習教材

常識：影1

お友だちが外で立っています。太陽がそれぞれの場所にあるときの影の様子で正しいものには○、間違えているものには×をつけます。

※1. このプリントは、しながわ・目黒こどもスクールのウェブサイトでダウンロードができます。無断複写・引用はご遠慮ください。

※2. このプリントを活用したオンライン授業のスケジュールは、しながわ・目黒こどもスクールのウェブサイトでご確認ください。



おうちで、やろう。

Study at home. 小学校受験の家庭学習教材

常識：影2

お友だちが外で立っています。太陽がそれぞれの場所にあるときの影の様子で正しいものには○、間違えているものには×をつけます。

※1. このプリントは、しながわ・目黒こどもスクールのウェブサイトからダウンロードできます。無断複写・引用はご遠慮ください。

※2. このプリントを活用したオンライン授業のスケジュールは、しながわ・目黒こどもスクールのウェブサイトでご確認ください。





おうちで、やろう。

Study at home. 小学校受験の家庭学習教材

図形：移動 27

上の四角の中がお手本です。それぞれの記号の隣にある矢印の方向へ進みます。左に並んでいる記号を上から見ていき、◎からスタートして最後についた●を丸で囲みます。進んだ道は線をかいてもかかなくてもよいですが、最後についた●を必ず囲みましょう。



※1. このプリントは、しながわ・目黒こどもスクールのウェブサイトでダウンロードができます。無断複写・引用はご遠慮ください。

※2. このプリントを活用したオンライン授業のスケジュールは、しながわ・目黒こどもスクールのウェブサイトでご確認ください。



































おうちで、やろう。

Study at home. 小学校受験の家庭学習教材

図形：移動 28

上の四角の中がお手本です。それぞれの記号の隣にある矢印の方向へ進みます。左に並んでいる記号を上から見ていき、◎からスタートして最後についた●を丸で囲みます。進んだ道は線をかいてもかかなくてもよいですが、最後についた●を必ず囲みましょう。



※1. このプリントは、しながわ・目黒こどもスクールのウェブサイトでダウンロードができます。無断複写・引用はご遠慮ください。

※2. このプリントを活用したオンライン授業のスケジュールは、しながわ・目黒こどもスクールのウェブサイトでご確認ください。

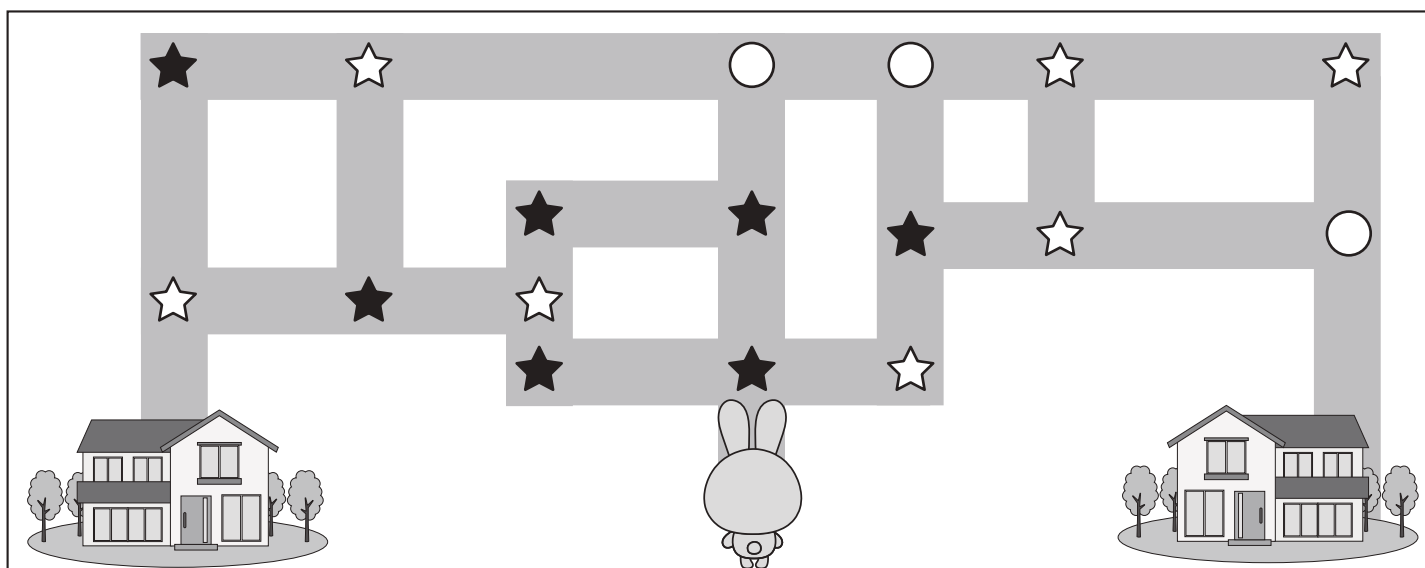
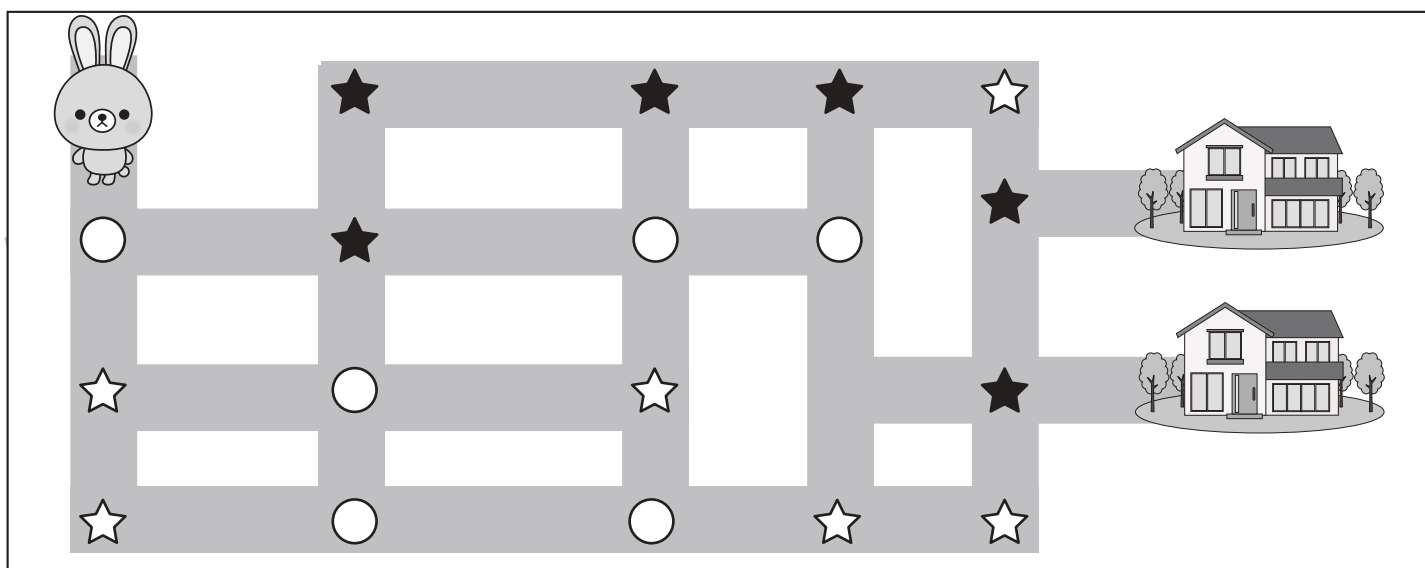
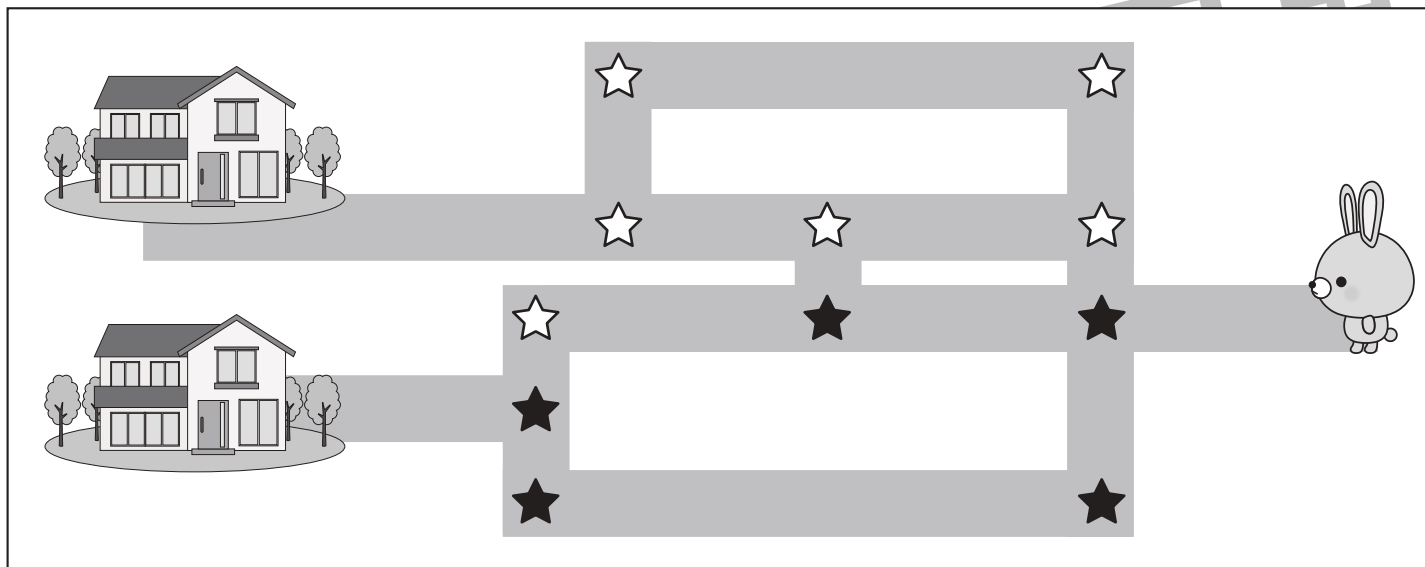


おうちで、よろう。

Study at home. 小学校受験の家庭学習教材

推理：地図の移動 3

ウサギが家まで歩いて帰ります。途中のマークのある曲がり角では約束があります。☆は左に曲がります。★は右に曲がります。○はそのまま真っすぐ進みます。この約束でウサギさんが進んで行ったとき、着いた家にも○をつけます。



※1. このプリントは、しながわ・目黒こどもスクールのウェブサイトでダウンロードができます。無断複写・引用はご遠慮ください。

※2. このプリントを活用したオンライン授業のスケジュールは、しながわ・目黒こどもスクールのウェブサイトでご確認ください。






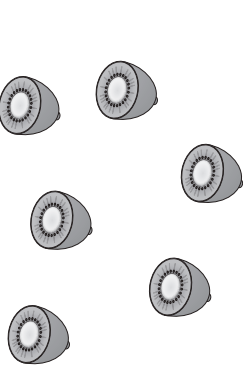
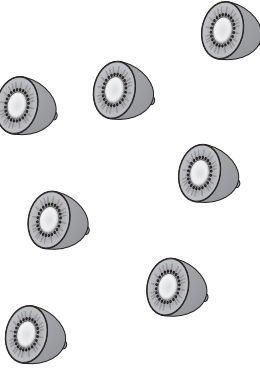
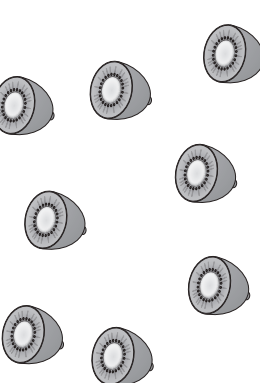





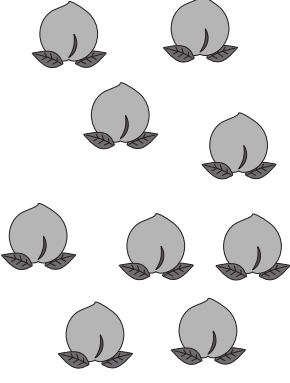

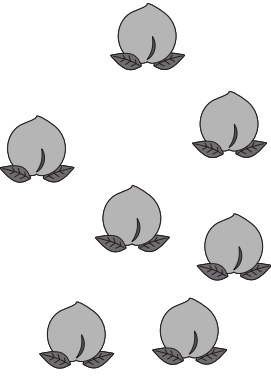


おうちで、やろう。

Study at home. 小学校受験の家庭学習教材

数量：加減9

左のサイコロの目の数より3つ多いものを選んで○をつけます。

※1. このプリントは、しながわ・目黒こどもスクールのウェブサイトからダウンロードできます。無断複写・引用はご遠慮ください。

※2. このプリントを活用したオンライン授業のスケジュールは、しながわ・目黒こどもスクールのウェブサイトでご確認ください。



おうちで、やろう。

Study at home. 小学校受験の家庭学習教材

数量：加減 10

左のサイコロの目の数より4つ多いものを選んで○をつけます。

※1. このプリントは、しながわ・目黒こどもスクールのウェブサイトからダウンロードできます。無断複写・引用はご遠慮ください。

※2. このプリントを活用したオンライン授業のスケジュールは、しながわ・目黒こどもスクールのウェブサイトでご確認ください。



おうちで、やろう。

Study at home. 小学校受験の家庭学習教材

数量：同数 17

お友だちが3列に並んでいます。それぞれの列のお友だちの人数を同じにすると、1列に何人のお友だちが並んでいることになりませんか。1列に並ぶ人の数だけ矢印の先に○をかきましょう。

	→
--	---

	→
--	---

	→
--	---

	→
--	---

	→
--	---

※1. このプリントは、しながわ・目黒こどもスクールのウェブサイトでダウンロードができます。無断複写・引用はご遠慮ください。
 ※2. このプリントを活用したオンライン授業のスケジュールは、しながわ・目黒こどもスクールのウェブサイトでご確認ください。

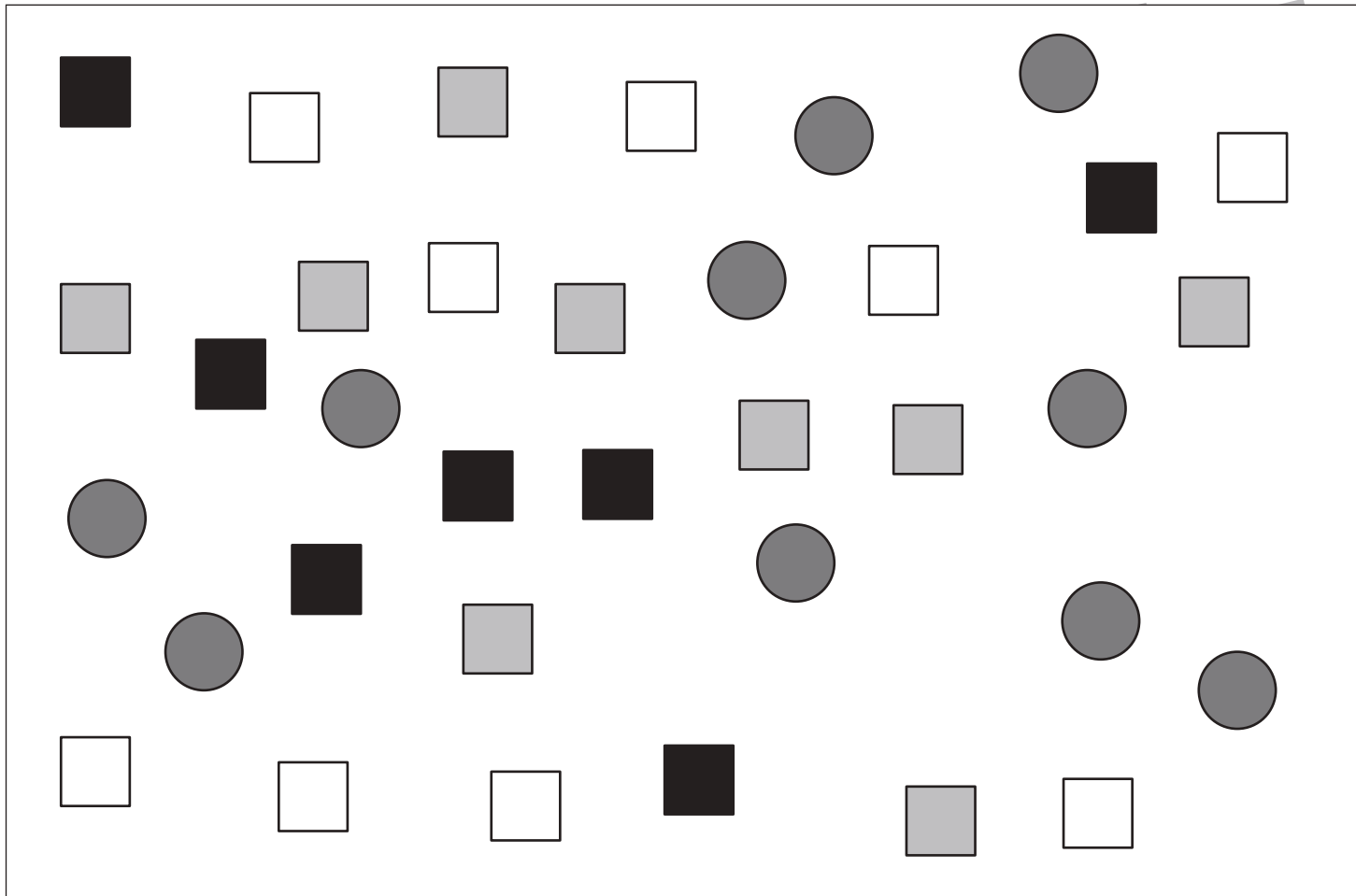



おうちで、やろう。

Study at home. 小学校受験の家庭学習教材

処理：計数 15

上の四角の中の絵の数をかぞえて、下の四角の同じ絵の右にその数より2つ多い数の○をかきます。
この問題はスピードを意識して取り組む練習をしてみましょう。(1分～1分30秒)



※1. このプリントは、しながわ・目黒こどもスクールのウェブサイトでダウンロードができます。無断複写・引用はご遠慮ください。
※2. このプリントを活用したオンライン授業のスケジュールは、しながわ・目黒こどもスクールのウェブサイトでご確認ください。



おうちで、やろう。

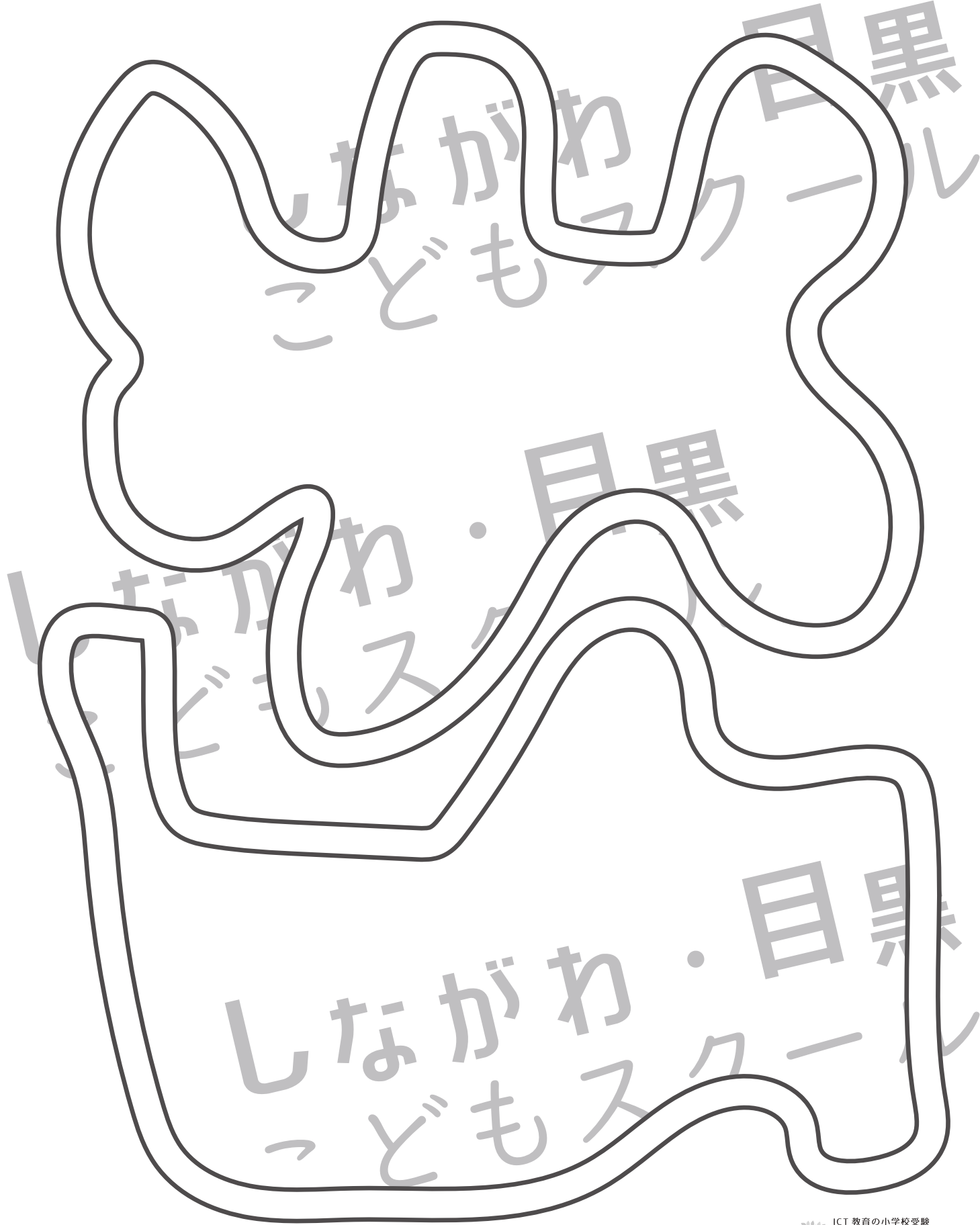
Study at home. 小学校受験の家庭学習教材

処理：運筆 16

壁にぶつからないように一周線をかきます。どこからはじめてもよいのできれいな線をかきましょう。

この問題はスピードを意識して取り組む練習をしてみましょう。(1分～1分30秒)

※えんぴつ、クーピー、水性ペンなどをしましょう。 ※この問題に解答はありません。



※1. このプリントは、しながわ・目黒こどもスクールのウェブサイトでダウンロードができます。無断複写・引用はご遠慮ください。

※2. このプリントを活用したオンライン授業のスケジュールは、しながわ・目黒こどもスクールのウェブサイトでご確認ください。

