









おうちで、やろう。

Study at home. 小学校受験の家庭学習教材

常識：影1

お友だちが外で立っています。太陽がそれぞれの場所にあるときの影の様子で正しいものには○、間違えているものには×をつけます。

※1. このプリントは、しながわ・目黒こどもスクールのウェブサイトからダウンロードできます。無断複写・引用はご遠慮ください。

※2. このプリントを活用したオンライン授業のスケジュールは、しながわ・目黒こどもスクールのウェブサイトでご確認ください。



おうちで、やろう。

Study at home. 小学校受験の家庭学習教材

常識：影2

お友だちが外で立っています。太陽がそれぞれの場所にあるときの影の様子で正しいものには○、間違えているものには×をつけます。

※1. このプリントは、しながわ・目黒こどもスクールのウェブサイトでダウンロードができます。無断複写・引用はご遠慮ください。

※2. このプリントを活用したオンライン授業のスケジュールは、しながわ・目黒こどもスクールのウェブサイトでご確認ください。



おうちで、やろう。

Study at home. 小学校受験の家庭学習教材

図形：移動 27

上の四角の中がお手本です。それぞれの記号の隣にある矢印の方向へ進みます。左に並んでいる記号を上から見ていき、◎からスタートして最後についた●を丸で囲みます。進んだ道は線をかいてもかかなくてもよいですが、最後についた●を必ず囲みましょう。



○ ○ ☆ ☆		★ ○ ○ ★	
● ★ ● ★		☆ ☆ ○ ○	
☆ ● ● ☆		● ★ ○ ○	
● ☆ ★ ●		● ★ ○ ★	

※1. このプリントは、しながわ・目黒こどもスクールのウェブサイトからダウンロードできます。無断複写・引用はご遠慮ください。

※2. このプリントを活用したオンライン授業のスケジュールは、しながわ・目黒こどもスクールのウェブサイトでご確認ください。







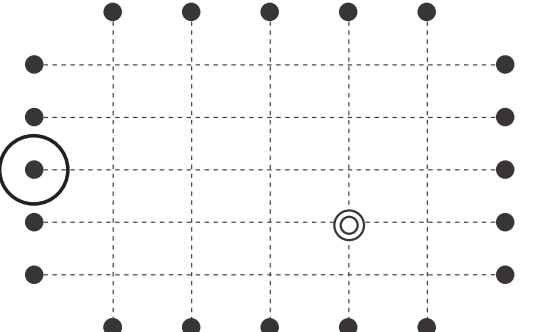




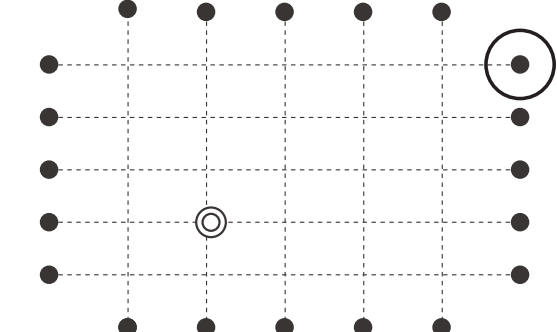




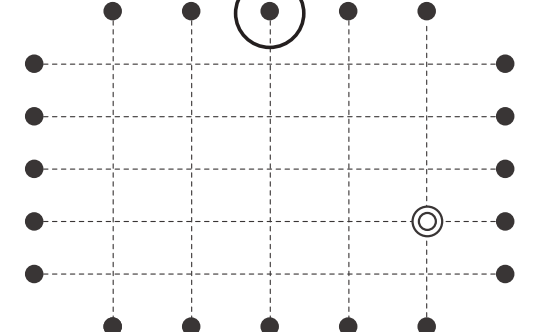




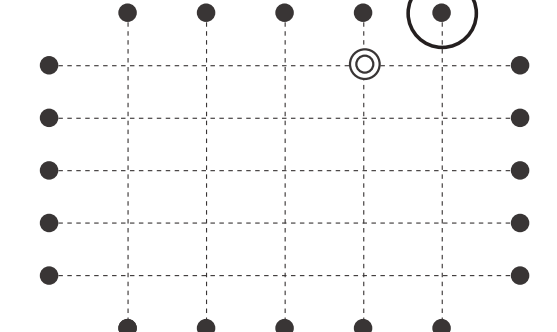




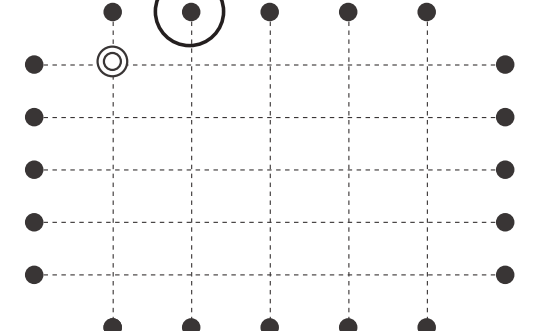




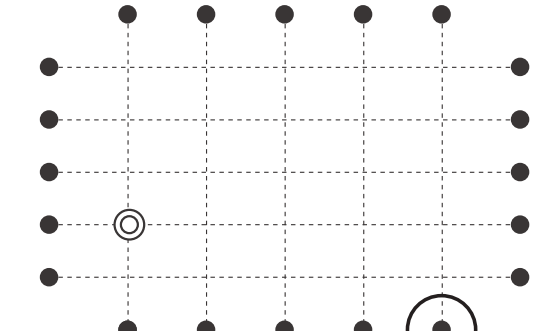




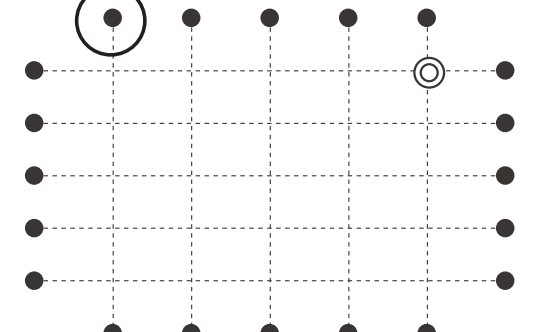




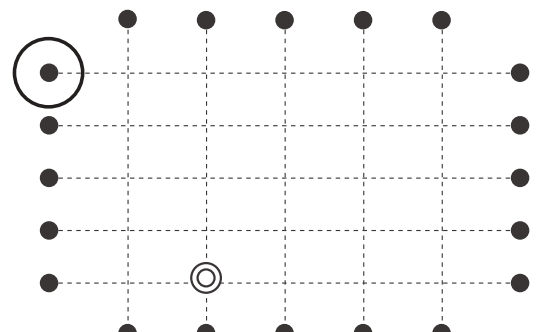
おうちで、やろう。

Study at home. 小学校受験の家庭学習教材

図形：移動 28

上の四角の中がお手本です。それぞれの記号の隣にある矢印の方向へ進みます。左に並んでいる記号を上から見ていき、◎からスタートして最後についた●を丸で囲みます。進んだ道は線をかいてもかかなくてもよいですが、最後についた●を必ず囲みましょう。



※1. このプリントは、しながわ・目黒こどもスクールのウェブサイトでダウンロードができます。無断複写・引用はご遠慮ください。

※2. このプリントを活用したオンライン授業のスケジュールは、しながわ・目黒こどもスクールのウェブサイトでご確認ください。

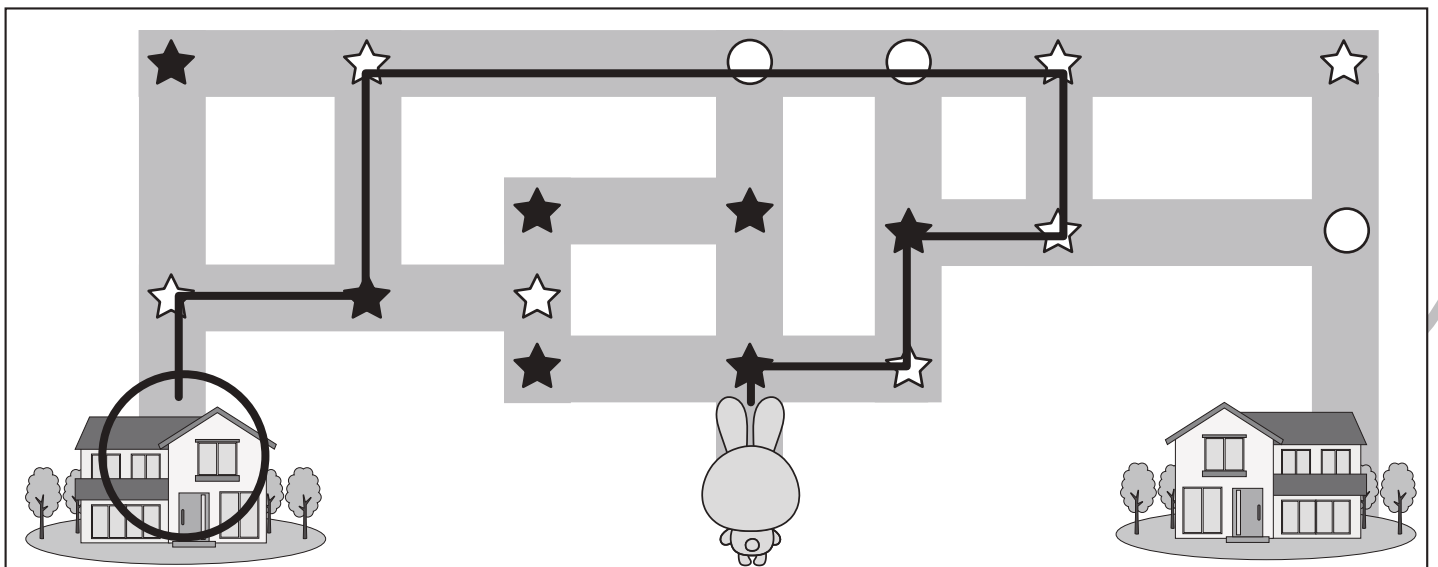
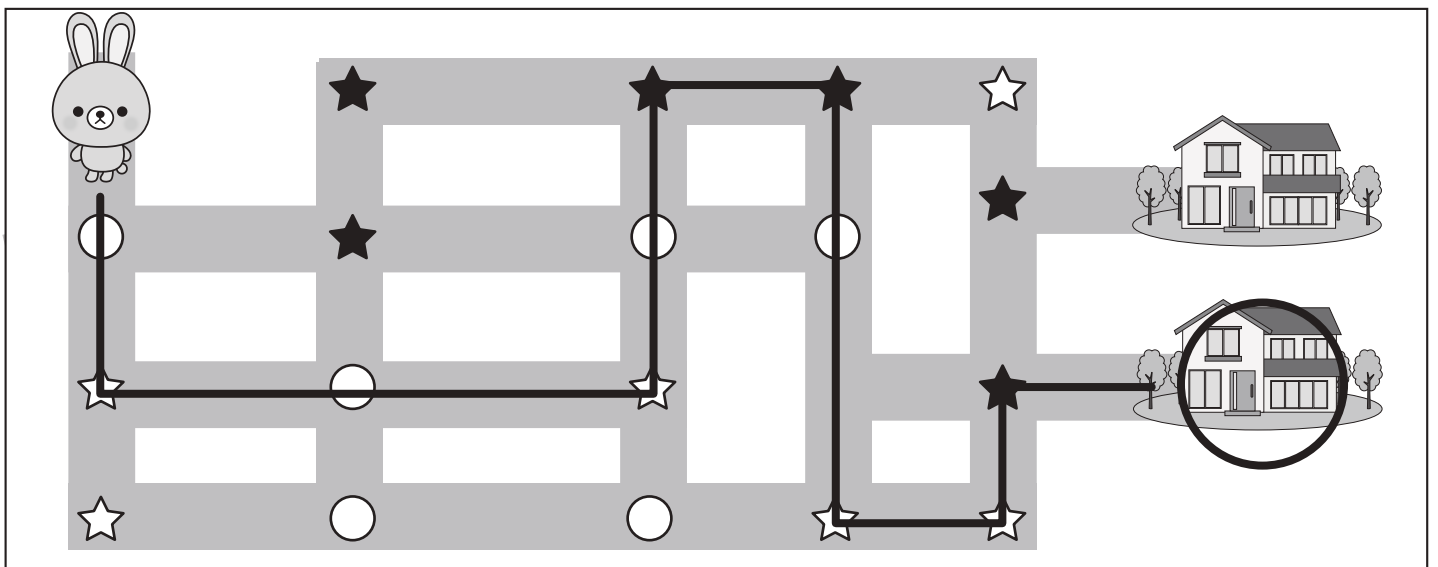
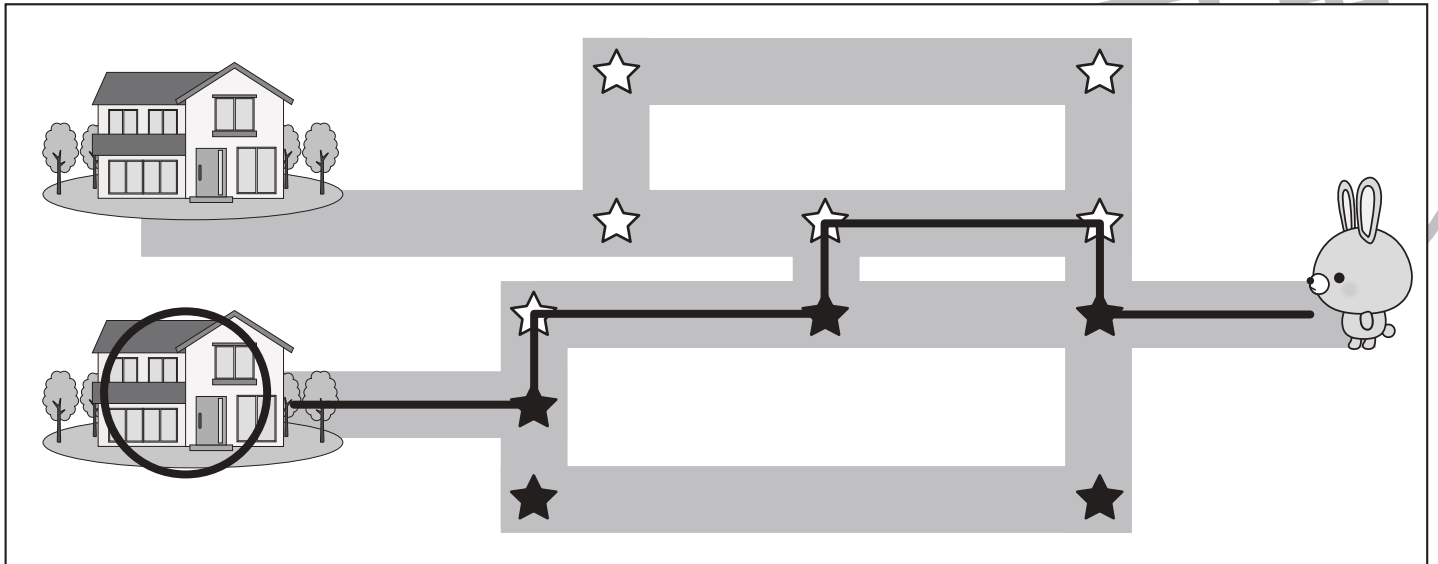


おうちで、やろう。

Study at home. 小学校受験の家庭学習教材

推理：地図の移動 3

ウサギが家まで歩いて帰ります。途中のマークのある曲がり角では約束があります。☆は左に曲がります。★は右に曲がります。○はそのまま真っすぐ進みます。この約束でウサギさんが進んで行ったとき、着いた家にも○をつけます。



※1. このプリントは、しながわ・目黒こどもスクールのウェブサイトでダウンロードができます。無断複写・引用はご遠慮ください。
 ※2. このプリントを活用したオンライン授業のスケジュールは、しながわ・目黒こどもスクールのウェブサイトでご確認ください。

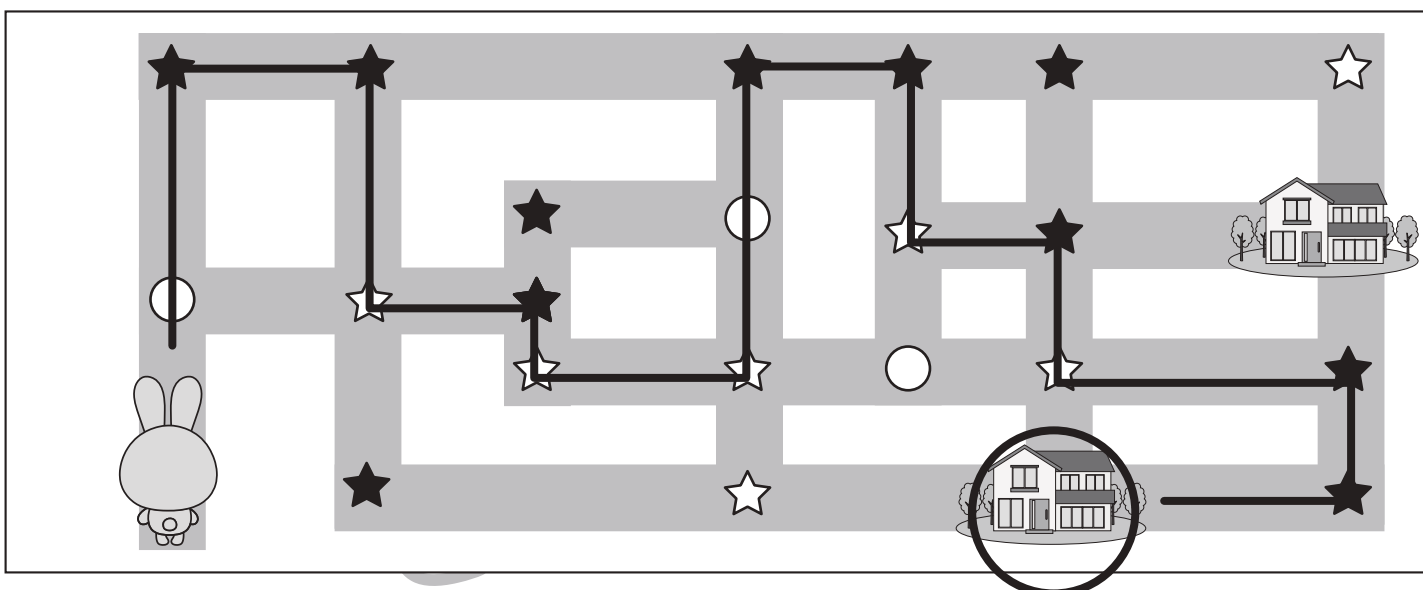

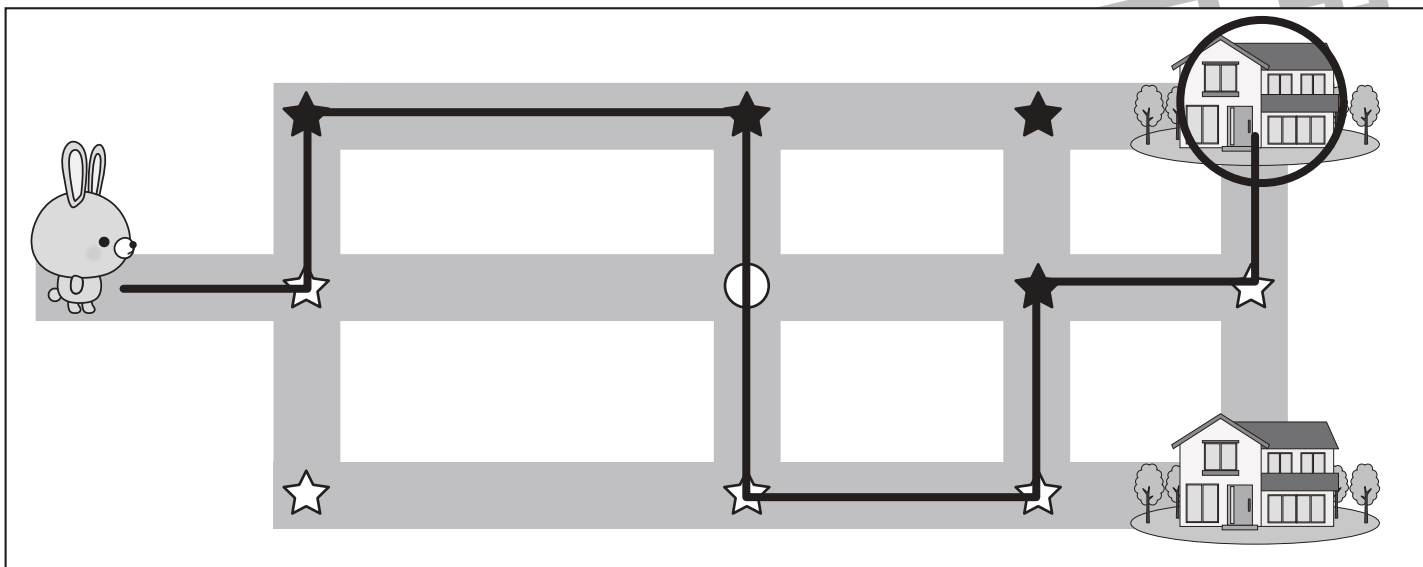


おうちで、やろう。

Study at home. 小学校受験の家庭学習教材

推理：地図の移動4

ウサギが家まで歩いて帰ります。途中のマークのある曲がり角では約束があります。☆は左に曲がります。★は右に曲がります。○はそのまま真っすぐ進みます。この約束でウサギさんが進んで行ったとき、着いた家に○をつけます。



※1. このプリントは、しながわ・目黒こどもスクールのウェブサイトでダウンロードができます。無断複写・引用はご遠慮ください。

※2. このプリントを活用したオンライン授業のスケジュールは、しながわ・目黒こどもスクールのウェブサイトでご確認ください。



おうちで、やろう。

Study at home. 小学校受験の家庭学習教材

数量：加減9

左のサイコロの目の数より3つ多いものを選んで○をつけます。

※1. このプリントは、しながわ・目黒こどもスクールのウェブサイトからダウンロードできます。無断複写・引用はご遠慮ください。

※2. このプリントを活用したオンライン授業のスケジュールは、しながわ・目黒こどもスクールのウェブサイトでご確認ください。



おうちで、やろう。

Study at home. 小学校受験の家庭学習教材

数量：加減 10

左のサイコロの目の数より4つ多いものを選んで○をつけます。

※1. このプリントは、しながわ・目黒こどもスクールのウェブサイトからダウンロードできます。無断複写・引用はご遠慮ください。

※2. このプリントを活用したオンライン授業のスケジュールは、しながわ・目黒こどもスクールのウェブサイトでご確認ください。



おうちで、やろう。

Study at home. 小学校受験の家庭学習教材

数量：同数 17

お友だちが3列に並んでいます。それぞれの列のお友だちの人数を同じにすると、1列に何人のお友だちが並んでいることになりますか。1列に並ぶ人の数だけ矢印の先に○をかきましょう。

	→ ○ × 5
--	---------

	→ ○ × 5
--	---------

	→ ○ × 5
--	---------

	→ ○ × 5
--	---------

	→ ○ × 6
--	---------

※1. このプリントは、しながわ・目黒こどもスクールのウェブサイトでダウンロードができます。無断複写・引用はご遠慮ください。

※2. このプリントを活用したオンライン授業のスケジュールは、しながわ・目黒こどもスクールのウェブサイトでご確認ください。

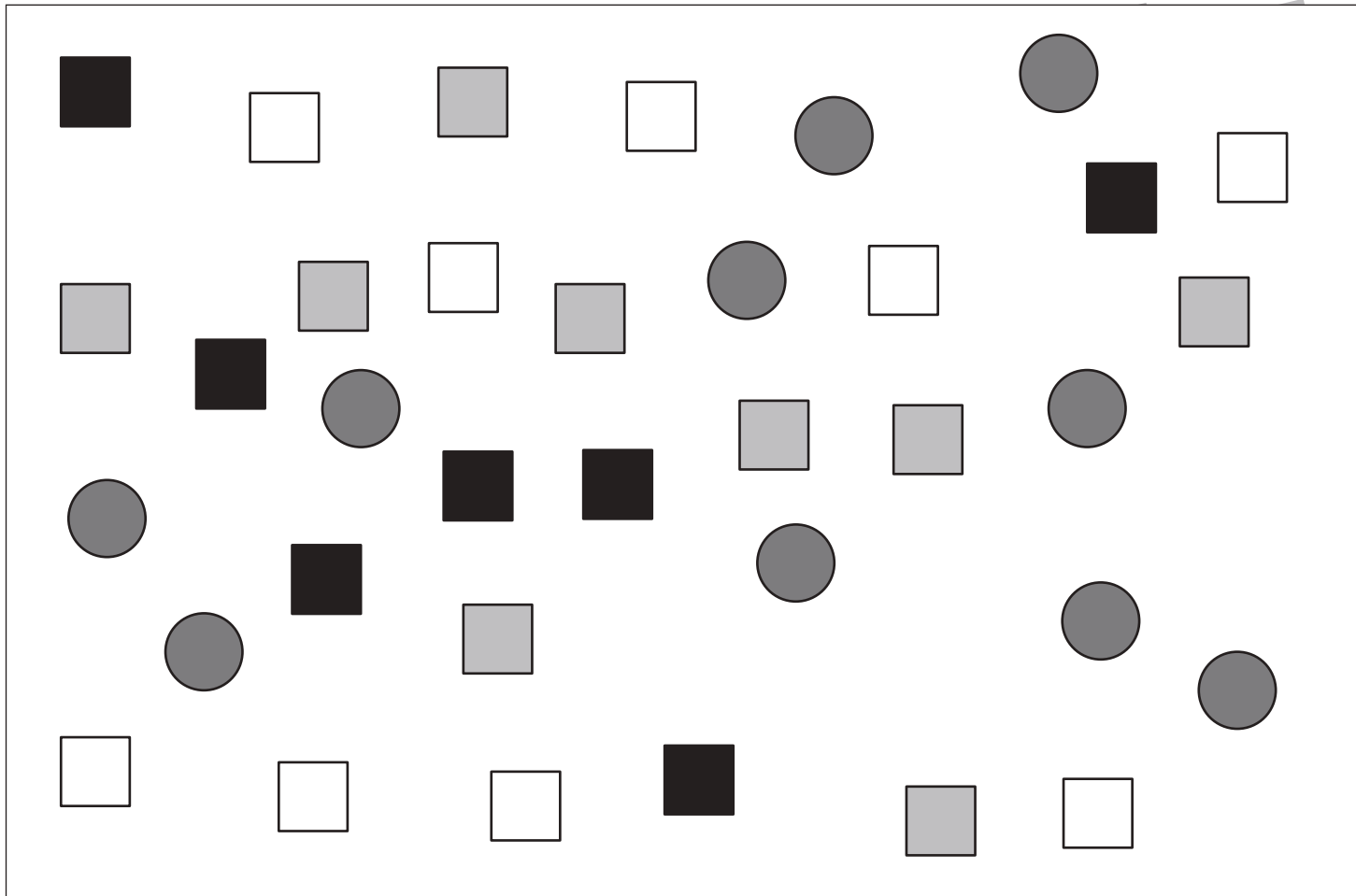


おうちで、やろう。

Study at home. 小学校受験の家庭学習教材

処理：計数 15

上の四角の中の絵の数をかぞえて、下の四角の同じ絵の右にその数より2つ多い数の○をかきます。
この問題はスピードを意識して取り組む練習をしてみましょう。(1分～1分30秒)



○×9



○×11



○×12



○×11