



おうちで、やろう。

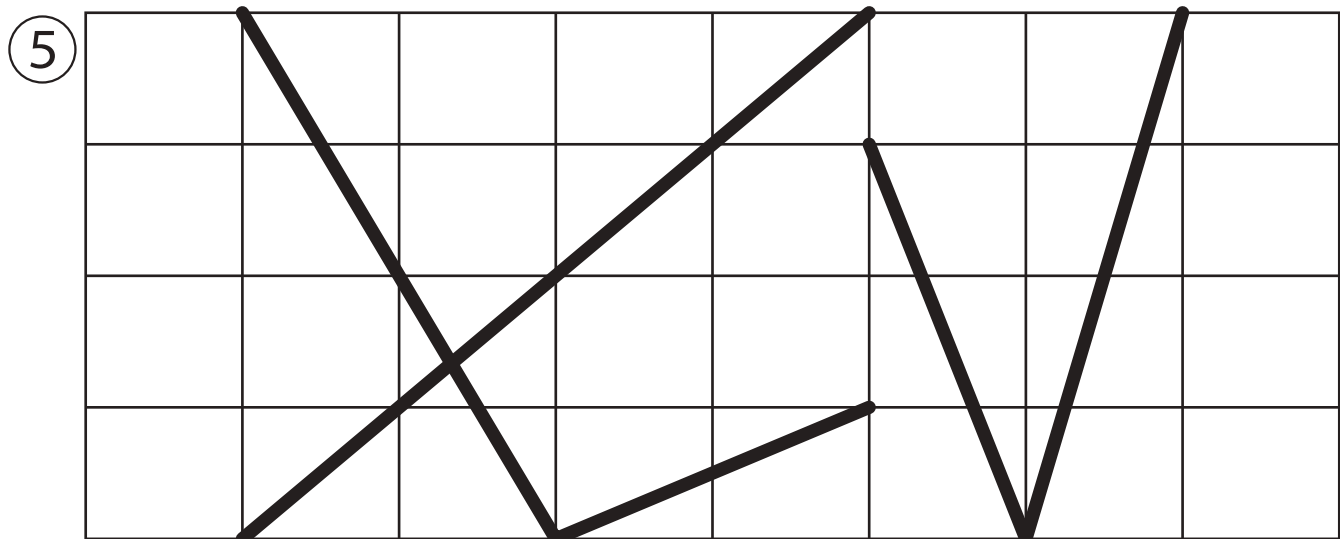
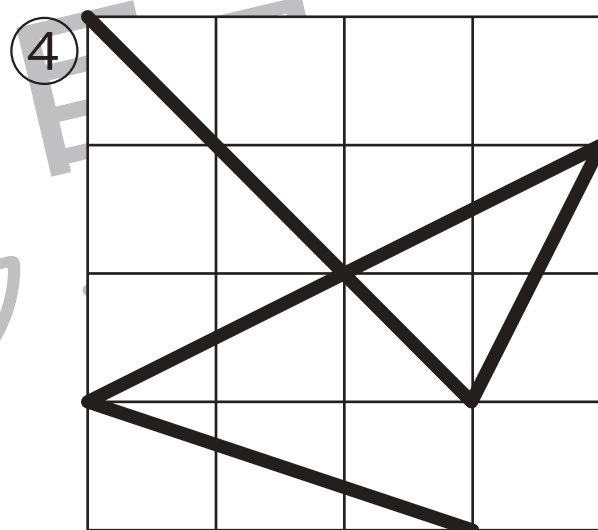
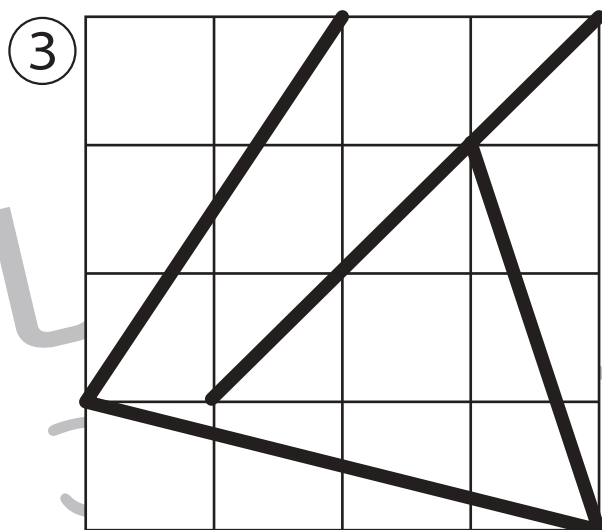
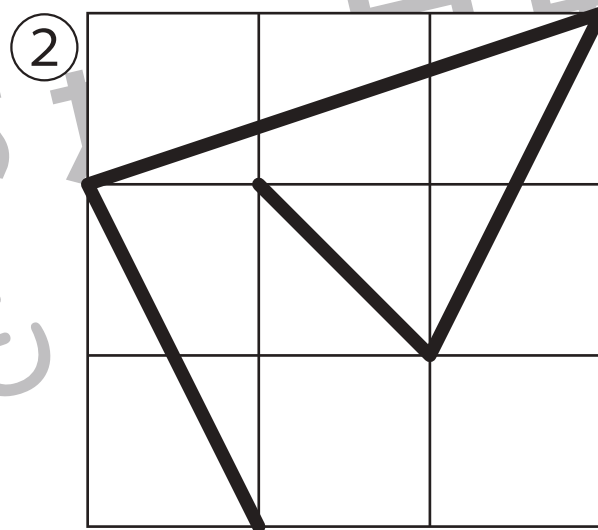
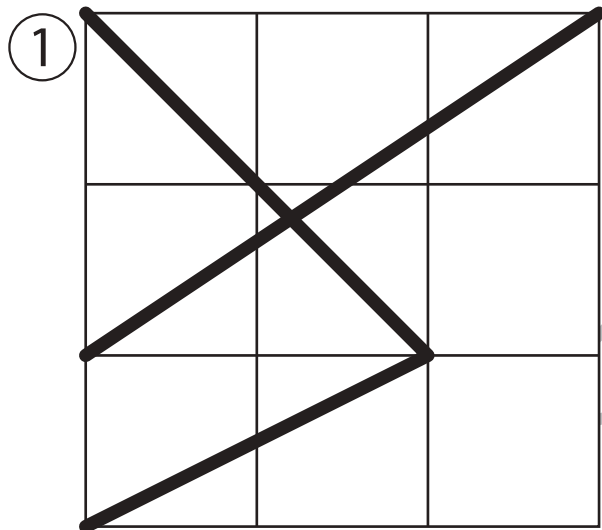
Study at home. 小学校受験の家庭学習教材

運筆：模写8(お手本)

別紙『運筆：模写8』を使用し、お手本と同じになるように描きます。

このプリントを前に掲示して、お手本と同じになるように記号や線をかきます。

※2022年5月12日(木)のオンライン授業ではお手本を1問ずつ画面にうつして取り組みます。



※1. このプリントは、しながわ・目黒こどもスクールのウェブサイトでダウンロードができます。無断複写・引用はご遠慮ください。

※2. このプリントを活用したオンライン授業のスケジュールは、しながわ・目黒こどもスクールのウェブサイトでご確認ください。





おうちで、やろう。

Study at home. 小学校受験の家庭学習教材

運筆：模写8

別紙『運筆：模写8（お手本）』を使用し、お手本と同じになるように描きます。
このプリントには解答はありませんので、お手本のプリントで確認してください。
※2022年5月12日（木）のオンライン授業ではお手本を1問ずつ画面にうつして取り組みます。

①

②

③

④

⑤

※1. このプリントは、しながわ・目黒こどもスクールのウェブサイトでダウンロードができます。無断複写・引用はご遠慮ください。
※2. このプリントを活用したオンライン授業のスケジュールは、しながわ・目黒こどもスクールのウェブサイトでご確認ください。








おうちで、やろう。

Study at home. 小学校受験の家庭学習教材

指示の聞き取り 17

それぞれの設問に答えましょう。

- ①左から5番目の子に○を、右から4番目の子に△をつけます。
- ②右から7番目の子に△を、左から6番目の子に○をつけます。
- ③左から6番目の子に○を、左から9番目の子に△をつけます。
- ④右から6番目の子に△を、そして△をつけた子の左の子に○をつけます。
- ⑤真ん中の子に○を、そして○をつけた子から右に3番目の子に△をつけます。



※1. このプリントは、しながわ・目黒こどもスクールのウェブサイトでダウンロードができます。無断複写・引用はご遠慮ください。
 ※2. このプリントを活用したオンライン授業のスケジュールは、しながわ・目黒こどもスクールのウェブサイトでご確認ください。




おうちで、やろう。


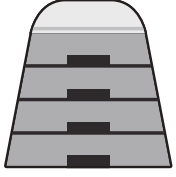
Study at home. 小学校受験の家庭学習教材

言語：音の理解 24



左の四角の中の絵の下には名前の音の数だけ○があります。○は左端がはじめの音で右端が終わりの音の順番で並んでいます。この時、●の場所の音を考えて、その音がはじめの音になっている絵を右の四角の中から見つけて○をつけます。





○ ○ ●



○ ○ ● ○

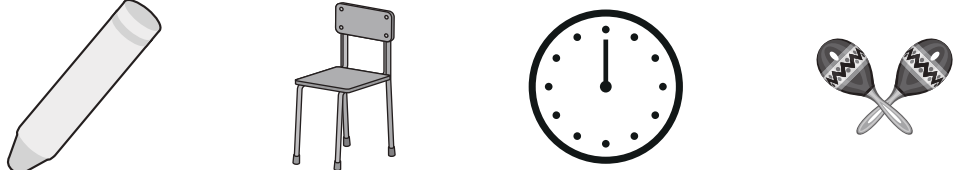
○ ● ○

○ ● ○ ○

○ ○ ○ ● ○



※1. このプリントは、しながわ・目黒こどもスクールのウェブサイトからダウンロードできます。無断複写・引用はご遠慮ください。
 ※2. このプリントを活用したオンライン授業のスケジュールは、しながわ・目黒こどもスクールのウェブサイトでご確認ください。




おうちで、やろう。



Study at home. 小学校受験の家庭学習教材

言語：音の理解 25



左の四角の中の絵の下には名前の音の数だけ○があります。○は左端がはじめの音で右端が終わりの音の順番で並んでいます。この時、●の場所の音を考えて、その音がはじめの音になっている絵を右の四角の中から見つけて○をつけます。





○ ● ○

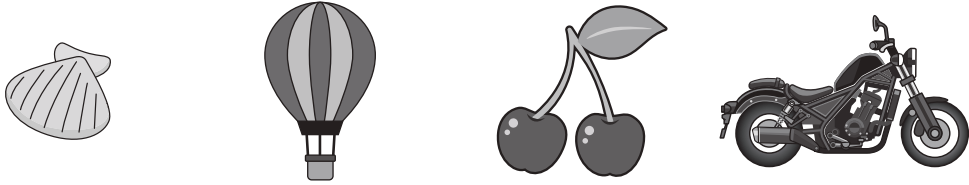

○ ○ ● ○


○ ○ ●

○ ● ○

○ ● ○ ○ ○



※1. このプリントは、しながわ・目黒こどもスクールのウェブサイトからダウンロードできます。無断複写・引用はご遠慮ください。
 ※2. このプリントを活用したオンライン授業のスケジュールは、しながわ・目黒こどもスクールのウェブサイトでご確認ください。

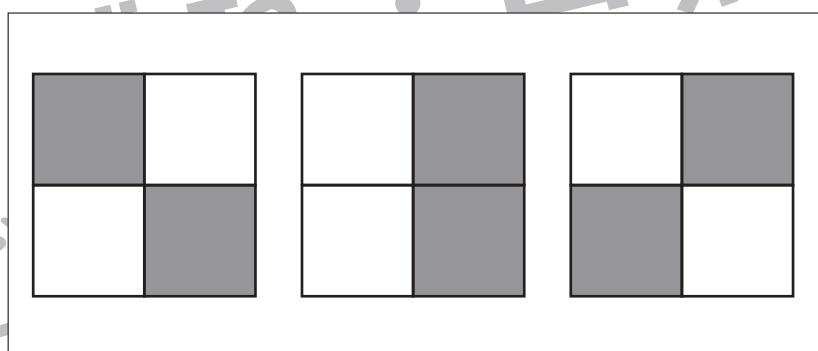
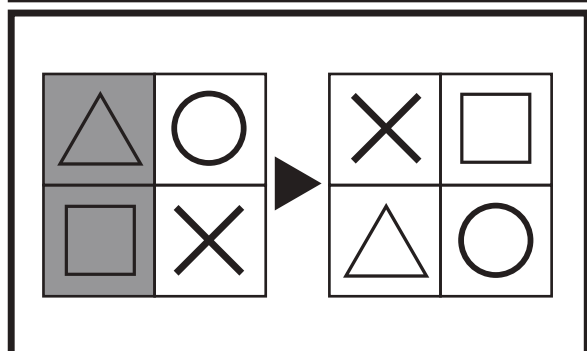
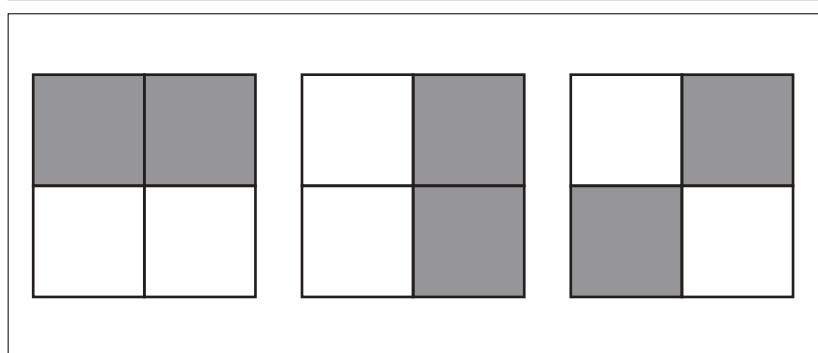
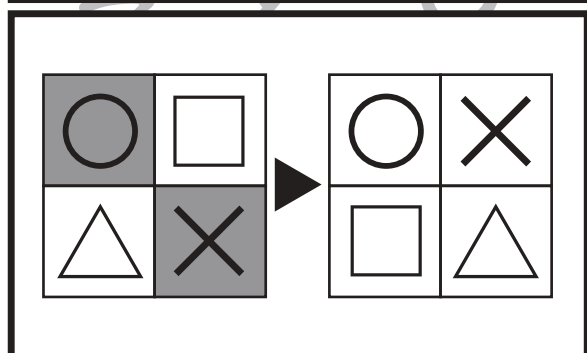
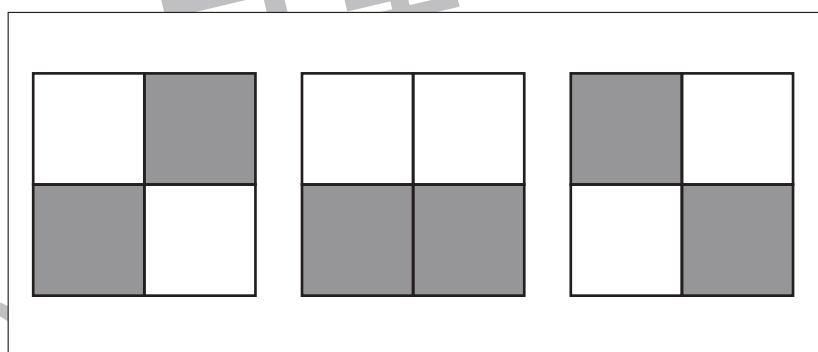
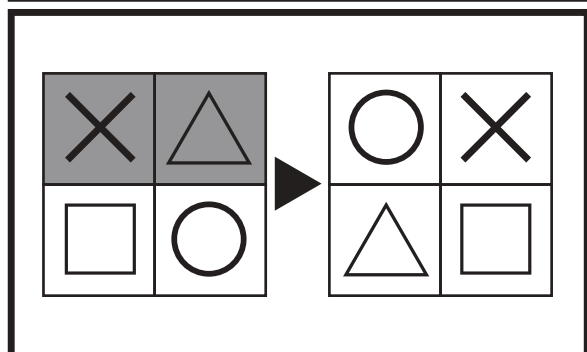
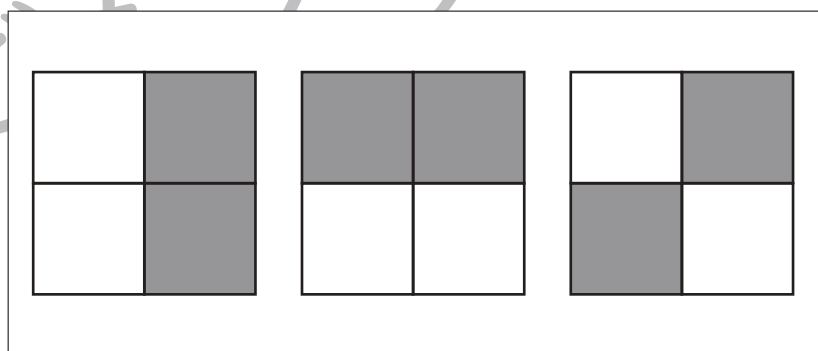
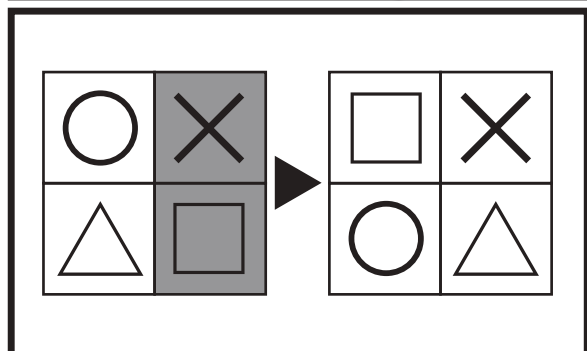
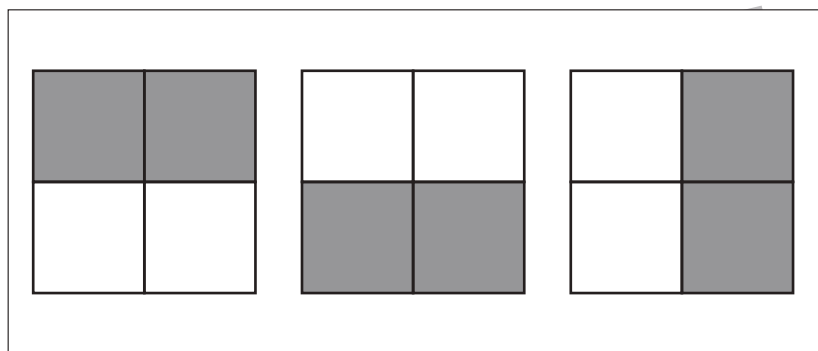
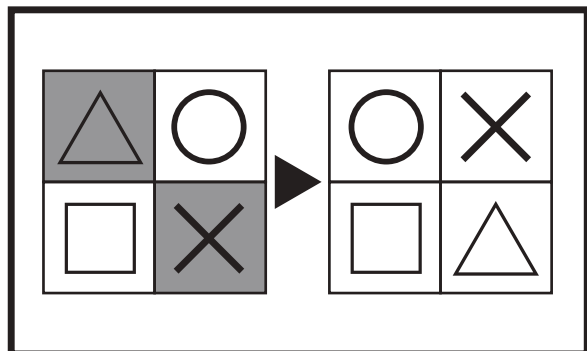


おうちで、やろう。

Study at home. 小学校受験の家庭学習教材

図形：構成 31

太い四角の中の左の四角がお手本です。これは4つのマスを集めて四角を作りました。右の四角は4つのマスを並びかえた四角です。この時、模様がどのようになるのか考えて、正しいもの右の3つの中から選んで○をつけます。



※1. このプリントは、しながわ・目黒こどもスクールのウェブサイトでダウンロードができます。無断複写・引用はご遠慮ください。

※2. このプリントを活用したオンライン授業のスケジュールは、しながわ・目黒こどもスクールのウェブサイトでご確認ください。

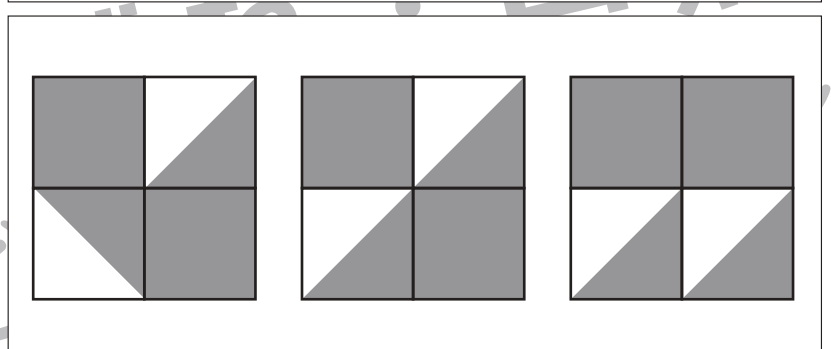
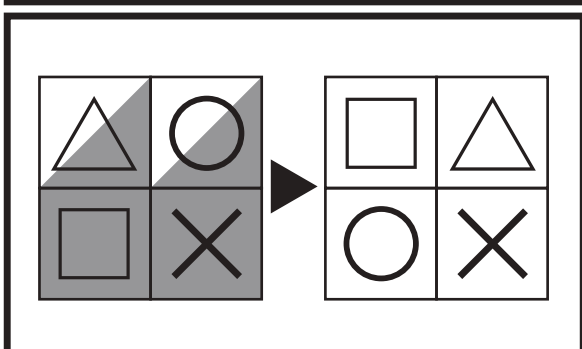
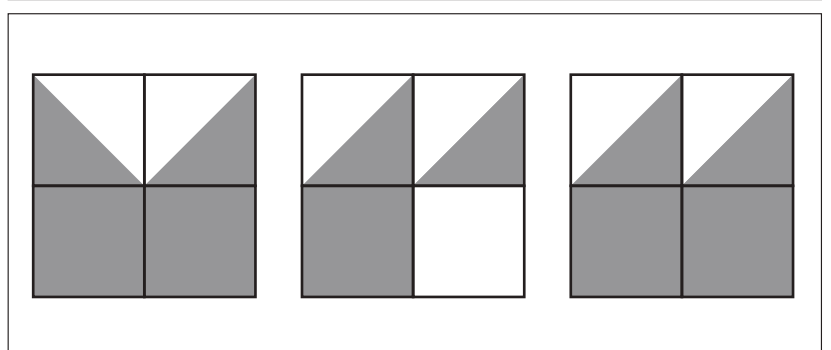
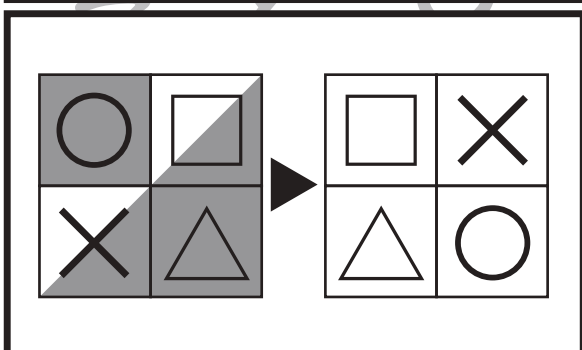
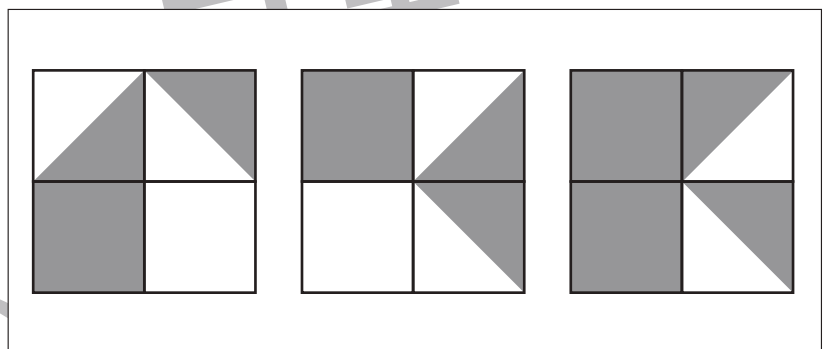
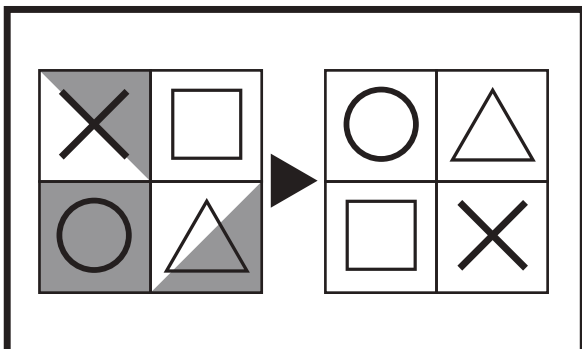
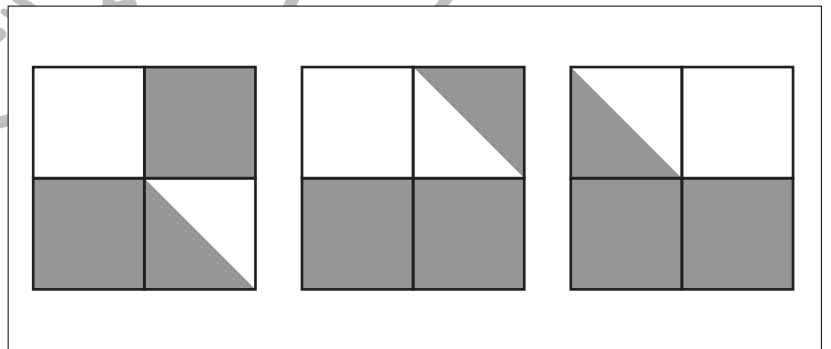
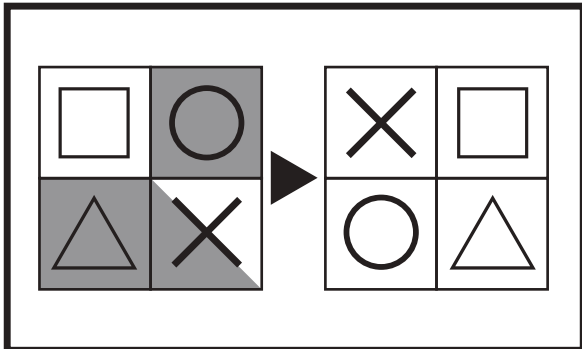
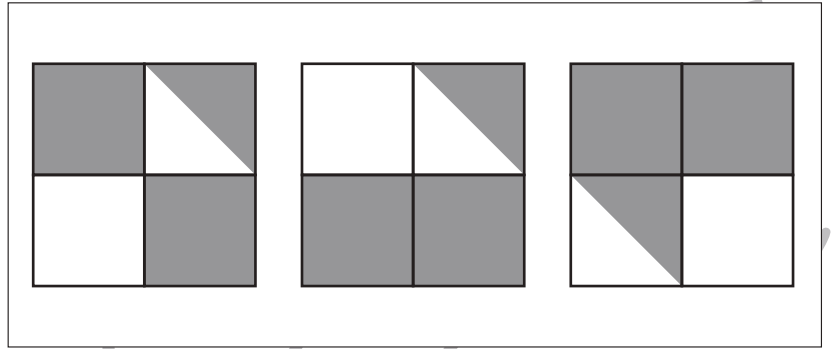
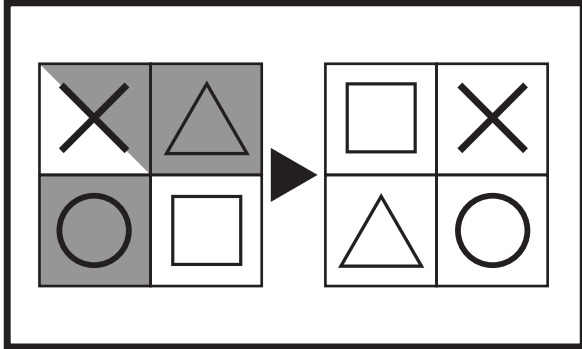


おうちで、やろう。

Study at home. 小学校受験の家庭学習教材

図形：構成 32

太い四角の中の左の四角がお手本です。これは4つのマスを集めて四角を作りました。右の四角は4つのマスを並びかえた四角です。この時、模様がどのようになるのか考えて、正しいもの右の3つの中から選んで○をつけます。マスは並びかえたとき、回転させたり、裏返したりしません。



※1. このプリントは、しながわ・目黒こどもスクールのウェブサイトでダウンロードができます。無断複写・引用はご遠慮ください。
※2. このプリントを活用したオンライン授業のスケジュールは、しながわ・目黒こどもスクールのウェブサイトでご確認ください。



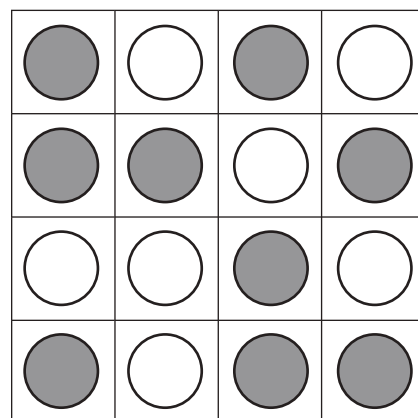








おうちで、やろう。

Study at home. 小学校受験の家庭学習教材

数量：計数 19

それぞれの四角のマスには白丸と灰色の丸が並んでいます。

縦・横・斜めのどこかに灰色の丸が4つ並んでいる四角をすべて見つけて○をつけます。



※1. このプリントは、しながわ・目黒こどもスクールのウェブサイトでダウンロードができます。無断複写・引用はご遠慮ください。

※2. このプリントを活用したオンライン授業のスケジュールは、しながわ・目黒こどもスクールのウェブサイトでご確認ください。












おうちで、やろう。

Study at home. 小学校受験の家庭学習教材

数量：計数 20

それぞれの四角のマスには白丸と灰色の丸が並んでいます。

縦・横・斜めのどこかに灰色の丸が4つ並んでいる列が2つある四角をすべて見つけて○をつけます。



※1. このプリントは、しながわ・目黒こどもスクールのウェブサイトでダウンロードができます。無断複写・引用はご遠慮ください。

※2. このプリントを活用したオンライン授業のスケジュールは、しながわ・目黒こどもスクールのウェブサイトでご確認ください。



おうちで、やろう。

Study at home. 小学校受験の家庭学習教材

数量：計数 21

上の四角の中にはいろいろな形があります。下の四角にかいてある形は上の四角の中にはそれぞれいくつありますか。その数だけ下の四角に○をかきます。

□	□	□	△	□	○	□	□	□
□	☆	△	□	□	□	□	□	□
○	□	□	□	○	□	□	□	△
□	□	□	☆	□	□	○	□	□
□	□	□	□	△	□	□	□	□
□	△	○	△	△	☆	□	△	□
○	□	△	□	□	□	□	□	□
□	□	□	☆	□	△	□	□	□
○	☆	□	□	□	□	□	☆	□
□	□	□	□	○	○	□	□	□

☆	□	○	△

※1. このプリントは、しながわ・目黒こどもスクールのウェブサイトでダウンロードができます。無断複写・引用はご遠慮ください。
※2. このプリントを活用したオンライン授業のスケジュールは、しながわ・目黒こどもスクールのウェブサイトでご確認ください。

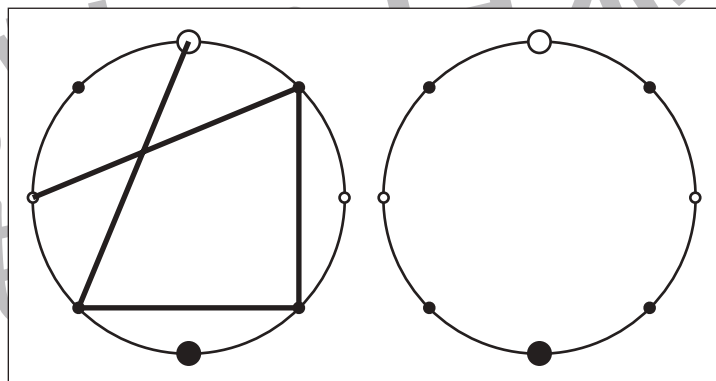
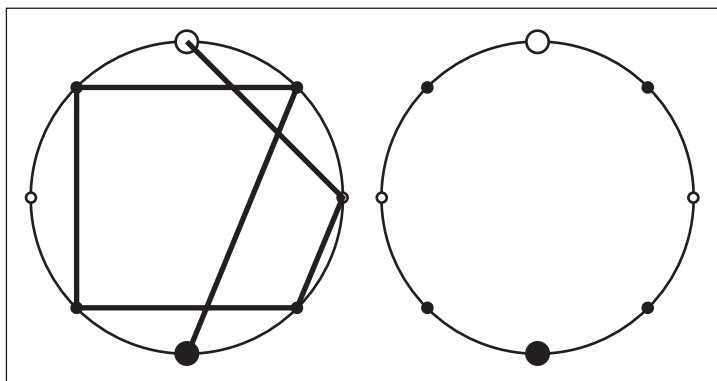
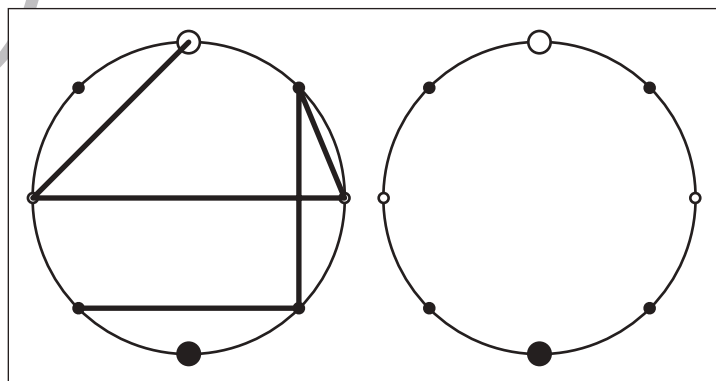
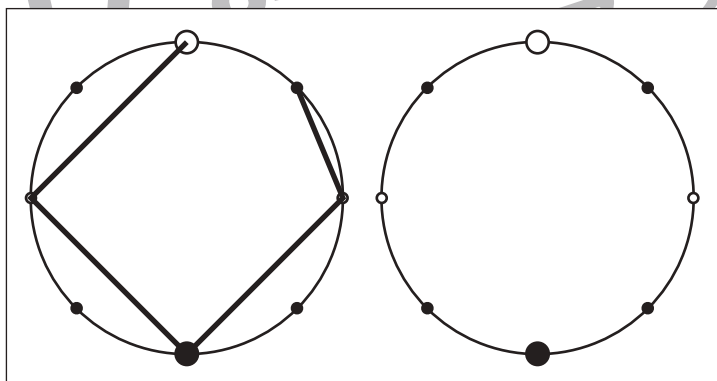
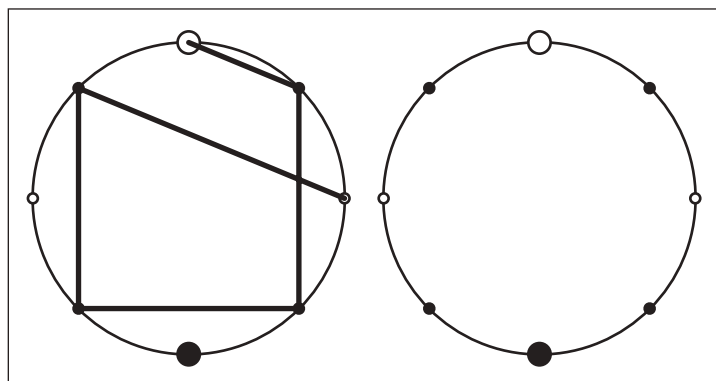
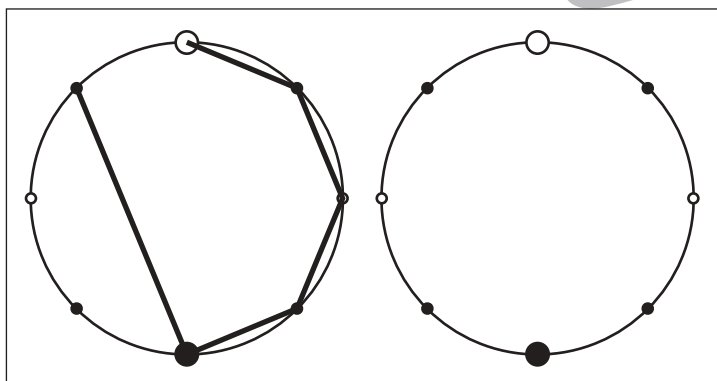
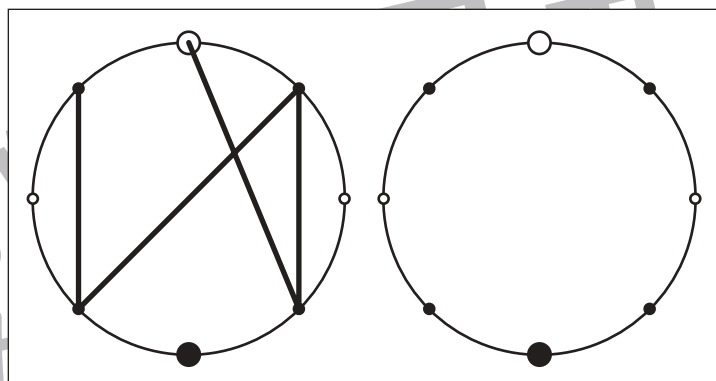
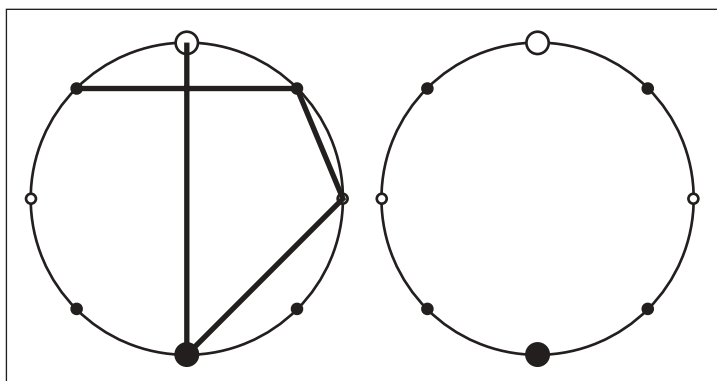


おうちで、やろう。

Study at home. 小学校受験の家庭学習教材

図形：点図形 40

左のお手本を見て、右にそっくり描き写しましょう。※このプリントに解答はありません。



※1. このプリントは、しながわ・目黒こどもスクールのウェブサイトからダウンロードできます。無断複写・引用はご遠慮ください。
※2. このプリントを活用したオンライン授業のスケジュールは、しながわ・目黒こどもスクールのウェブサイトでご確認ください。