



おうちで、やろう。

Study at home. 小学校受験の家庭学習教材

図形：移動 29

丸で囲んである点から上の四角の中の矢印の方向へ進み点と点を線で結びます。そして最後についた点を○で囲みます。
上の四角の矢印は左から順番に見ていきます。

→ → ↑ ↑ ← ↑ → → ↑

↑ → → ↓ ↓ ← ← ↓ →

↓ ← ← ↑ ← ↓ ↓ → →

→ ↓ → ↓ → ↑ ↑ → ↓

※1. このプリントは、しながわ・目黒こどもスクールのウェブサイトダウンロードできます。無断複写・引用はご遠慮ください。
※2. このプリントを活用したオンライン授業のスケジュールは、しながわ・目黒こどもスクールのウェブサイトでご確認ください。



おうちで、やろう。

Study at home. 小学校受験の家庭学習教材

図形：移動 30

丸で囲んである点から上の四角の中の矢印の方向へ進み点と点を線で結びます。そして最後についた点を○で囲みます。
上の四角の矢印は左から順番に見ていきます。

↑ ↗ ↗ ↓ ↘ ↙ ← ↙ ↖

↓ ↙ ↙ ↘ ↗ ↑ ← ← ↑

→ ↓ ↙ ↘ ↗ → ↓ ← ↑

↓ ← ← ↑ ↘ ↘ ↗ ↑ ↑

※1. このプリントは、しながわ・目黒こどもスクールのウェブサイトでダウンロードができます。無断複写・引用はご遠慮ください。
※2. このプリントを活用したオンライン授業のスケジュールは、しながわ・目黒こどもスクールのウェブサイトでご確認ください。



おうちで、やろう。

Study at home. 小学校受験の家庭学習教材

図形：移動 31

丸で囲んである点から上の四角の中の矢印の方向へ進み点と点を線で結びます。そして最後についた点を○で囲みます。
上の四角の矢印は左から順番に見ていきます。

↖ → ↓ ↘ ↘ ↘ ↑ ↖ ↑

↑ ↑ ← ↙ ↙ ↙ ↑ ↗ ↗ →

↗ ← ← ↙ ↓ ↘ ↘ ← ←

← ↑ ↗ ↗ ↓ ↘ ↘ ↓ ↖

※1. このプリントは、しながわ・目黒こどもスクールのウェブサイトでダウンロードができます。無断複写・引用はご遠慮ください。
※2. このプリントを活用したオンライン授業のスケジュールは、しながわ・目黒こどもスクールのウェブサイトでご確認ください。












おうちで、やろう。

Study at home. 小学校受験の家庭学習教材

数量：計数 22

それぞれの四角のマスには白丸と灰色の丸が並んでいます。

縦・横・斜めのどこかに灰色の丸が4つ並んでいる四角をすべて見つけて○をつけます。



※1. このプリントは、しながわ・目黒こどもスクールのウェブサイトでダウンロードができます。無断複写・引用はご遠慮ください。

※2. このプリントを活用したオンライン授業のスケジュールは、しながわ・目黒こどもスクールのウェブサイトでご確認ください。



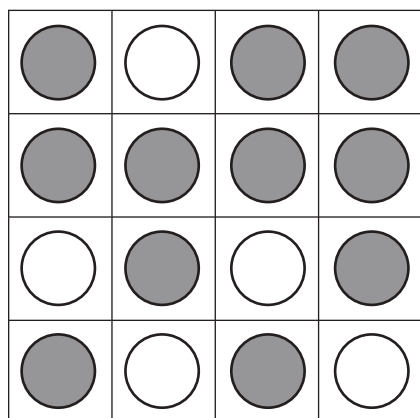








おうちで、やろう。

Study at home. 小学校受験の家庭学習教材

数量：計数 23

それぞれの四角のマスには白丸と灰色の丸が並んでいます。

縦・横・斜めのどこかに灰色の丸が4つ並んでいる列が2つある四角をすべて見つけて○をつけます。



※1. このプリントは、しながわ・目黒こどもスクールのウェブサイトでダウンロードができます。無断複写・引用はご遠慮ください。

※2. このプリントを活用したオンライン授業のスケジュールは、しながわ・目黒こどもスクールのウェブサイトでご確認ください。












おうちで、やろう。

Study at home. 小学校受験の家庭学習教材

数量：計数 24

それぞれの四角のマスには白丸と灰色の丸が並んでいます。

縦・横・斜めのどこかに灰色の丸が4つ並んでいる列が2つある四角をすべて見つけて○をつけます。



※1. このプリントは、しながわ・目黒こどもスクールのウェブサイトでダウンロードができます。無断複写・引用はご遠慮ください。

※2. このプリントを活用したオンライン授業のスケジュールは、しながわ・目黒こどもスクールのウェブサイトでご確認ください。











おうちで、やろう。

Study at home. 小学校受験の家庭学習教材

数量：合わせた数 12

左の白い星と右の灰色の星が合わせて9になるように点と点を線で結びます。



※1. このプリントは、しながわ・目黒こどもスクールのウェブサイトでダウンロードができます。無断複写・引用はご遠慮ください。
※2. このプリントを活用したオンライン授業のスケジュールは、しながわ・目黒こどもスクールのウェブサイトでご確認ください。













おうちで、やろう。

Study at home. 小学校受験の家庭学習教材

数量：合わせた数 13

左の白い星と右の灰色の星が合わせて 11 になるように点と点を線で結びます。



※1. このプリントは、しながわ・目黒こどもスクールのウェブサイトでダウンロードができます。無断複写・引用はご遠慮ください。
※2. このプリントを活用したオンライン授業のスケジュールは、しながわ・目黒こどもスクールのウェブサイトでご確認ください。














おうちで、やろう。

Study at home. 小学校受験の家庭学習教材

数量：合わせた数 14

左の白い星と右の灰色の星が合わせて 12 になるように点と点を線で結びます。



※1. このプリントは、しながわ・目黒こどもスクールのウェブサイトでダウンロードができます。無断複写・引用はご遠慮ください。
※2. このプリントを活用したオンライン授業のスケジュールは、しながわ・目黒こどもスクールのウェブサイトでご確認ください。

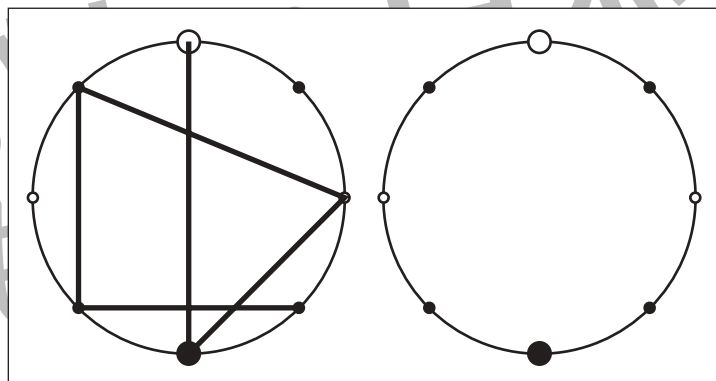
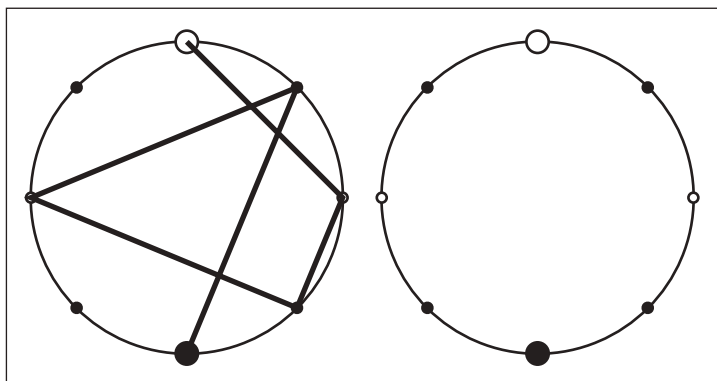
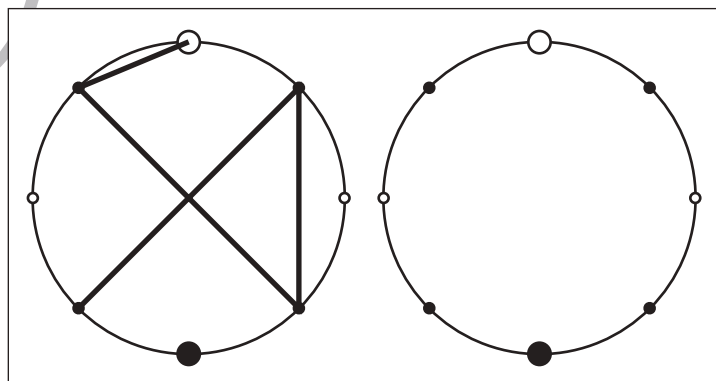
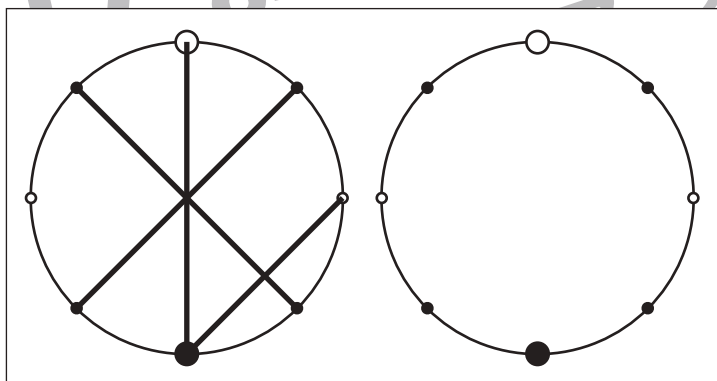
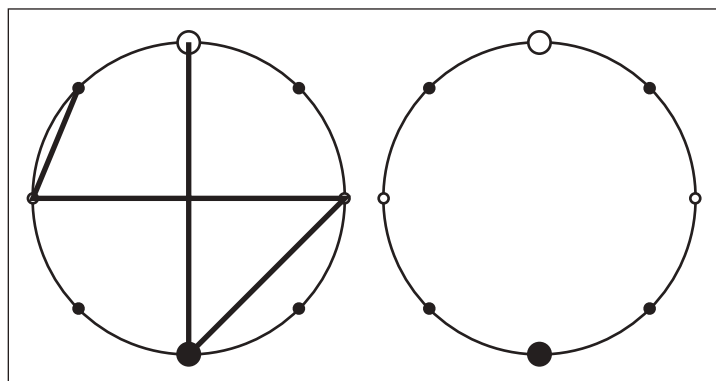
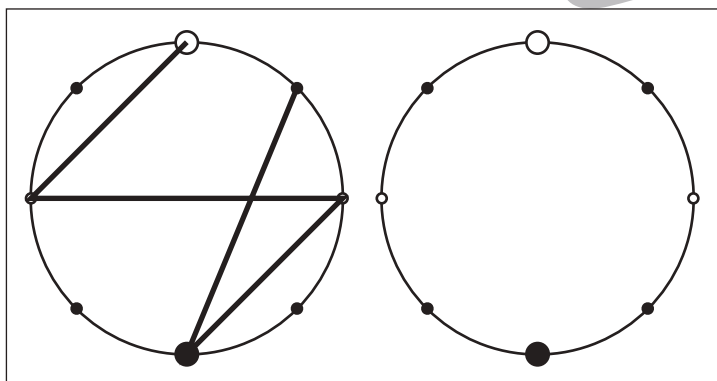
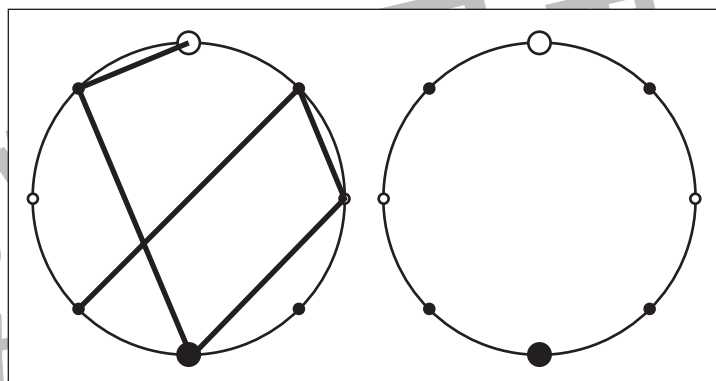
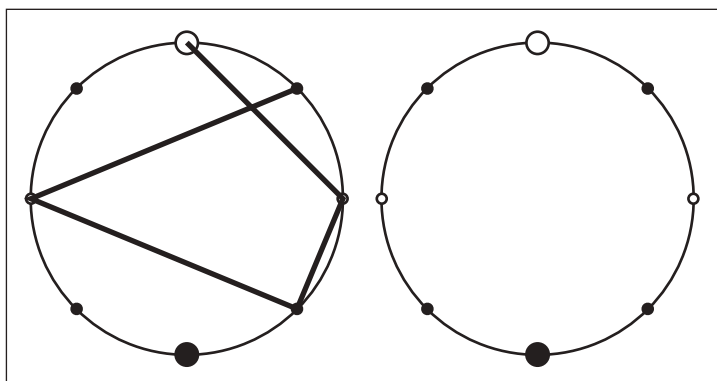


おうちで、やろう。

Study at home. 小学校受験の家庭学習教材

図形：点図形 41

左のお手本を見て、右にそっくり描き写しましょう。※このプリントに解答はありません。



※1. このプリントは、しながわ・目黒こどもスクールのウェブサイトでダウンロードができます。無断複写・引用はご遠慮ください。
※2. このプリントを活用したオンライン授業のスケジュールは、しながわ・目黒こどもスクールのウェブサイトでご確認ください。