



# おうちで、やろう。

Study at home. 小学校受験の家庭学習教材

## 図形：移動 29

丸で囲んである点から上の四角の中の矢印の方向へ進み点と点を線で結びます。そして最後についた点を○で囲みます。  
上の四角の矢印は左から順番に見ていきます。

→ → ↑ ↑ ← ↑ → → ↑

↑ → → ↓ ↓ ← ← ↓ →

↓ ← ← ↑ ← ↓ ↓ → →

→ ↓ → ↓ → ↑ ↑ → ↓

※1. このプリントは、しながわ・目黒こどもスクールのウェブサイトでダウンロードができます。無断複写・引用はご遠慮ください。  
 ※2. このプリントを活用したオンライン授業のスケジュールは、しながわ・目黒こどもスクールのウェブサイトでご確認ください。



# おうちで、やろう。

Study at home. 小学校受験の家庭学習教材

## 図形：移動 30

丸で囲んである点から上の四角の中の矢印の方向へ進み点と点を線で結びます。そして最後についた点を○で囲みます。  
上の四角の矢印は左から順番に見ていきます。

↑ ↗ ↗ ↓ ↘ ↙ ← ↙ ↖

↓ ↙ ↙ ↘ ↗ ↑ ← ← ↑

→ ↓ ↙ ↘ ↗ → ↓ ← ↑

↓ ← ← ↑ ↘ ↘ ↗ ↑ ↑

※1. このプリントは、しながわ・目黒こどもスクールのウェブサイトからダウンロードできます。無断複写・引用はご遠慮ください。  
 ※2. このプリントを活用したオンライン授業のスケジュールは、しながわ・目黒こどもスクールのウェブサイトでご確認ください。



# おうちで、やろう。

Study at home. 小学校受験の家庭学習教材

## 図形：移動 31

丸で囲んである点から上の四角の中の矢印の方向へ進み点と点を線で結びます。そして最後についた点を○で囲みます。  
上の四角の矢印は左から順番に見ていきます。

↖ → ↓ ↘ ↘ ↘ ↘ ↑ ↖ ↑

↑ ↑ ← ↙ ↙ ↙ ↑ ↗ ↗ →

↗ ← ← ↙ ↓ ↘ ↘ ← ←

← ↑ ↗ ↗ ↓ ↘ ↘ ↓ ↖

※1. このプリントは、しながわ・目黒こどもスクールのウェブサイトからダウンロードできます。無断複写・引用はご遠慮ください。  
※2. このプリントを活用したオンライン授業のスケジュールは、しながわ・目黒こどもスクールのウェブサイトでご確認ください。



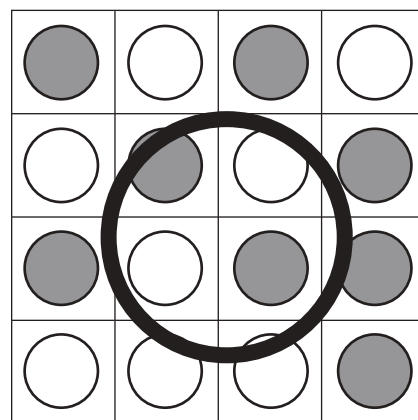




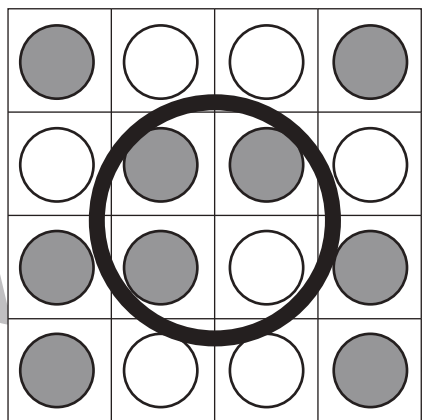
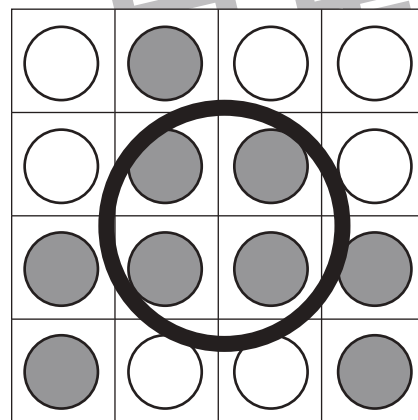
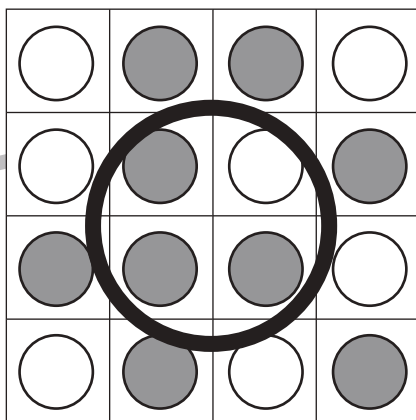

# おうちで、やろう。

Study at home. 小学校受験の家庭学習教材

数量：計数 22

それぞれの四角のマスには白丸と灰色の丸が並んでいます。

縦・横・斜めのどこかに灰色の丸が4つ並んでいる四角をすべて見つけて○をつけます。



※1. このプリントは、しながわ・目黒こどもスクールのウェブサイトでダウンロードができます。無断複写・引用はご遠慮ください。

※2. このプリントを活用したオンライン授業のスケジュールは、しながわ・目黒こどもスクールのウェブサイトでご確認ください。



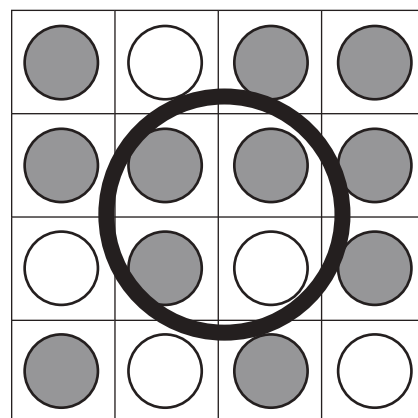
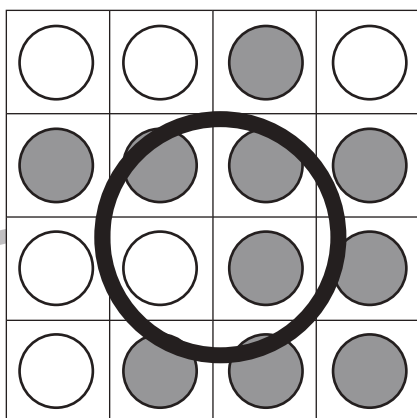



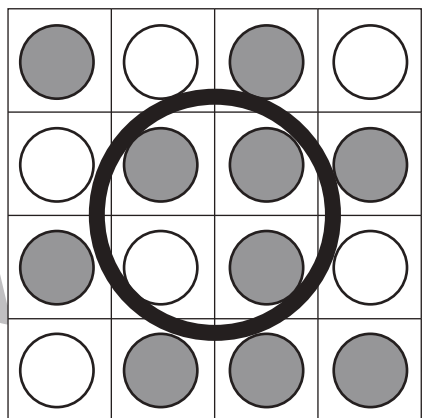


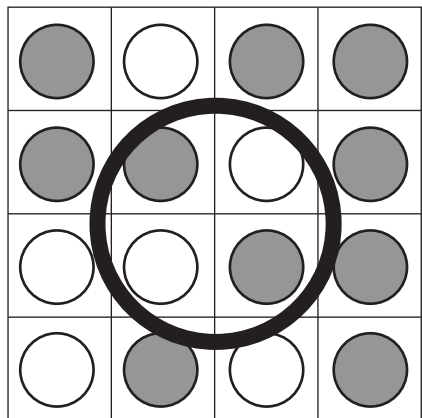
# おうちで、やろう。

Study at home. 小学校受験の家庭学習教材

数量：計数 23

それぞれの四角のマスには白丸と灰色の丸が並んでいます。

縦・横・斜めのどこかに灰色の丸が4つ並んでいる列が2つある四角をすべて見つけて○をつけます。



※1. このプリントは、しながわ・目黒こどもスクールのウェブサイトでダウンロードができます。無断複写・引用はご遠慮ください。  
 ※2. このプリントを活用したオンライン授業のスケジュールは、しながわ・目黒こどもスクールのウェブサイトでご確認ください。




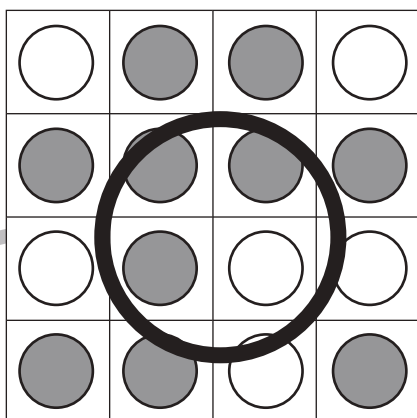
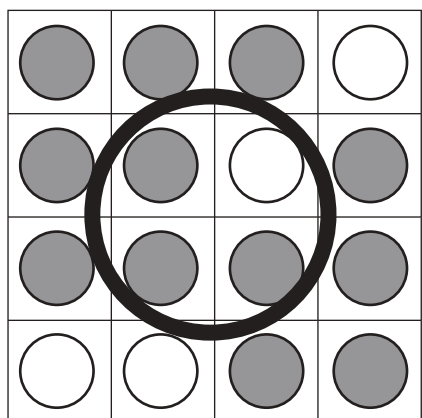


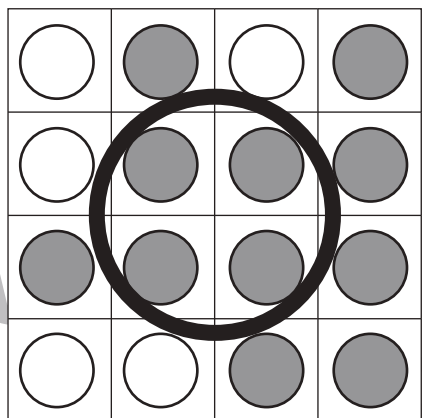
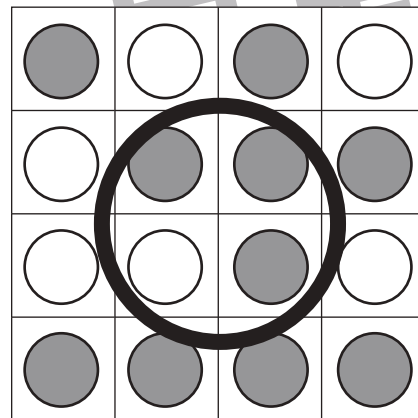


# おうちで、やろう。

Study at home. 小学校受験の家庭学習教材

数量：計数 24

それぞれの四角のマスには白丸と灰色の丸が並んでいます。

縦・横・斜めのどこかに灰色の丸が4つ並んでいる列が2つある四角をすべて見つけて○をつけます。



※1. このプリントは、しながわ・目黒こどもスクールのウェブサイトでダウンロードができます。無断複写・引用はご遠慮ください。  
※2. このプリントを活用したオンライン授業のスケジュールは、しながわ・目黒こどもスクールのウェブサイトでご確認ください。



# おうちで、やろう。

Study at home. 小学校受験の家庭学習教材

数量：合わせた数 12

左の白い星と右の灰色の星が合わせて9になるように点と点を線で結びます。

Left Box (White Stars)	Right Box (Grey Stars)	Sum
3	6	9
5	4	9
2	7	9
1	8	9
6	3	9

※1. このプリントは、しながわ・目黒こどもスクールのウェブサイトでダウンロードができます。無断複写・引用はご遠慮ください。  
※2. このプリントを活用したオンライン授業のスケジュールは、しながわ・目黒こどもスクールのウェブサイトでご確認ください。



# おうちで、やろう。

Study at home. 小学校受験の家庭学習教材

数量：合わせた数 13

左の白い星と右の灰色の星が合わせて 11 になるように点と点を線で結びます。

The matching exercise consists of 10 boxes arranged in two columns of five. The left column contains boxes with 3, 4, 5, 2, and 4 white stars. The right column contains boxes with 5, 6, 9, 4, and 7 grey stars. Lines connect the boxes as follows: the top-left box (3 stars) connects to the top-right box (5 stars); the second box from the top-left (4 stars) connects to the second box from the top-right (6 stars); the third box from the top-left (5 stars) connects to the fourth box from the top-right (4 stars); the fourth box from the top-left (2 stars) connects to the fifth box from the top-right (7 stars); and the bottom-most box from the top-left (4 stars) connects to the third box from the top-right (9 stars). This results in 11 pairs of stars.

※1. このプリントは、しながわ・目黒こどもスクールのウェブサイトでダウンロードができます。無断複写・引用はご遠慮ください。  
 ※2. このプリントを活用したオンライン授業のスケジュールは、しながわ・目黒こどもスクールのウェブサイトでご確認ください。





# おうちで、やろう。

Study at home. 小学校受験の家庭学習教材

数量：合わせた数 14

左の白い星と右の灰色の星が合わせて 12 になるように点と点を線で結びます。

3 white stars	6 grey stars
6 white stars	1 grey star
5 white stars	7 grey stars
8 white stars	8 grey stars
4 white stars	3 grey stars

※1. このプリントは、しながわ・目黒こどもスクールのウェブサイトでダウンロードができます。無断複写・引用はご遠慮ください。  
※2. このプリントを活用したオンライン授業のスケジュールは、しながわ・目黒こどもスクールのウェブサイトでご確認ください。