


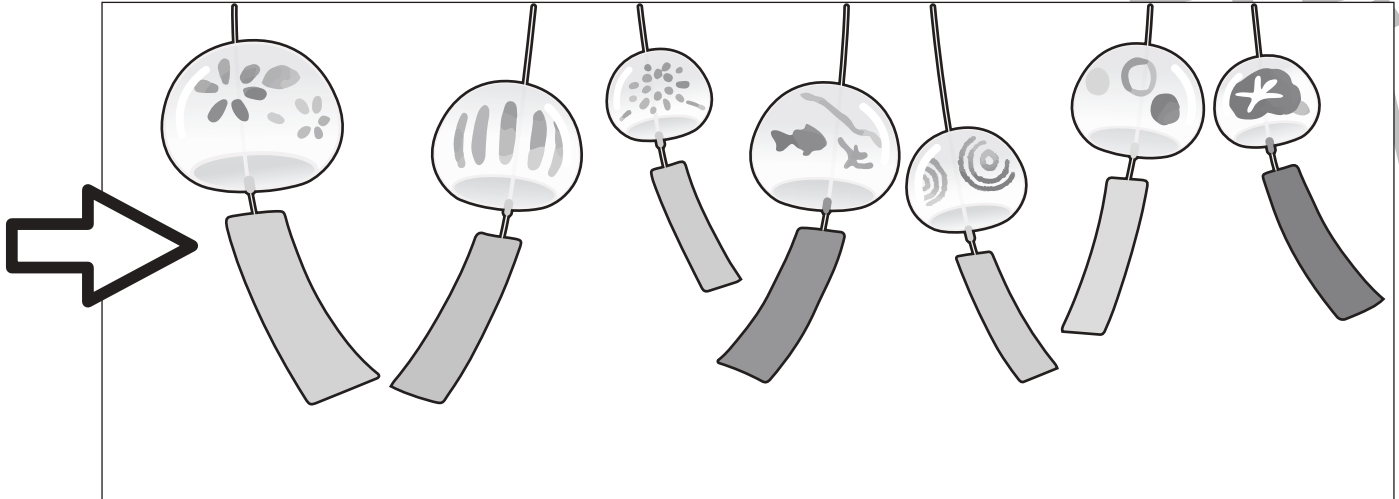


おうちで、やろう。

Study at home. 小学校受験の家庭学習教材

常識：風向き 4

それぞれの絵は風に吹かれている様子の絵です。矢印の方向から風が吹いているとき、間違っている絵はどれですか。その絵を見つけて × をつけます。



※1. このプリントは、しながわ・目黒こどもスクールのウェブサイトでダウンロードができます。無断複写・引用はご遠慮ください。
 ※2. このプリントを活用したオンライン授業のスケジュールは、しながわ・目黒こどもスクールのウェブサイトでご確認ください。





おうちで、やろう。

Study at home. 小学校受験の家庭学習教材

常識：風向き5

それぞれの絵は風に吹かれている様子の絵です。矢印の方向から風が吹いているとき、間違っている絵はどれですか。その絵を見つけて×をつけます。



※1. このプリントは、しながわ・目黒こどもスクールのウェブサイトでダウンロードができます。無断複写・引用はご遠慮ください。
 ※2. このプリントを活用したオンライン授業のスケジュールは、しながわ・目黒こどもスクールのウェブサイトでご確認ください。




おうちで、やろう。

Study at home. 小学校受験の家庭学習教材

図形：反転 16

左のお手本を上矢印の向きに回して裏返した時の見え方を考えて、下の四角にかきます。



※1. このプリントは、しながわ・目黒こどもスクールのウェブサイトでダウンロードができます。無断複写・引用はご遠慮ください。
 ※2. このプリントを活用したオンライン授業のスケジュールは、しながわ・目黒こどもスクールのウェブサイトでご確認ください。

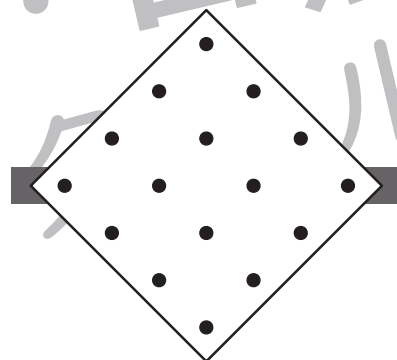
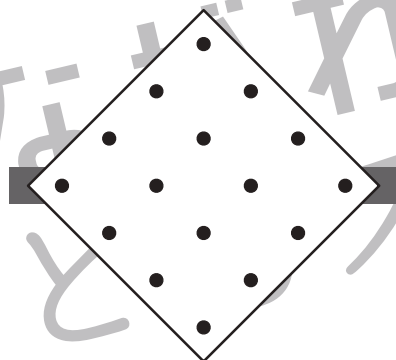
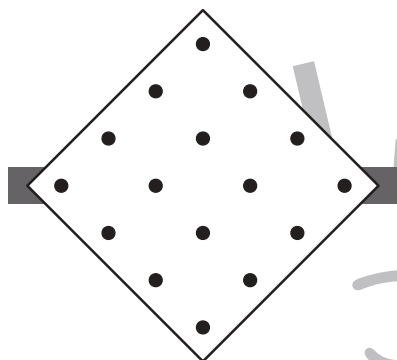
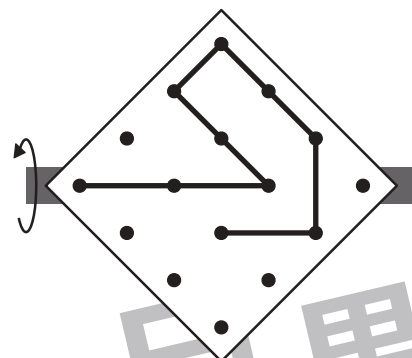
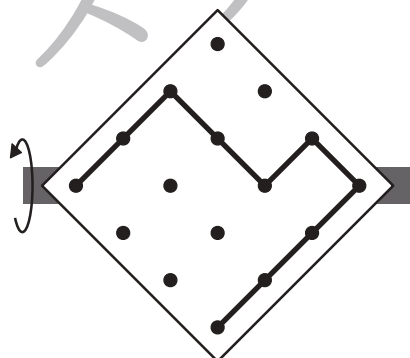
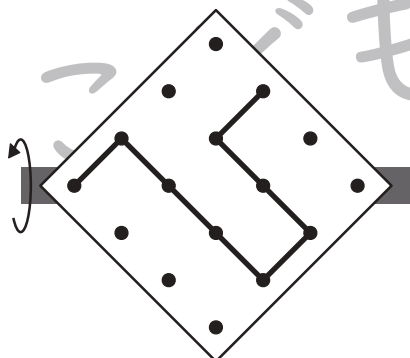
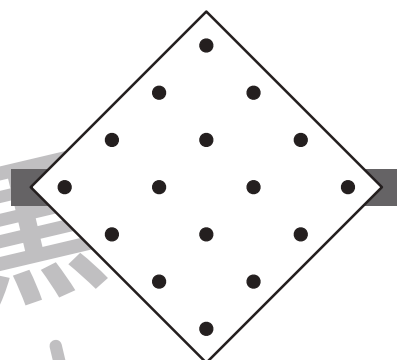
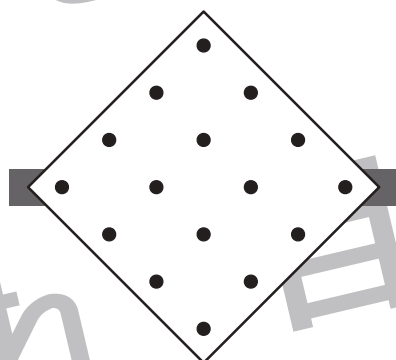
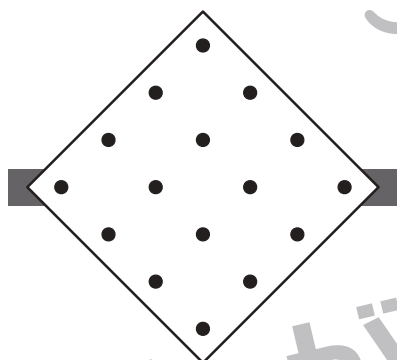
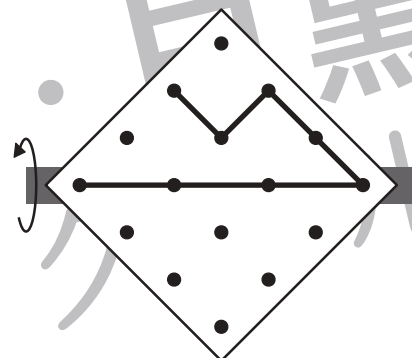
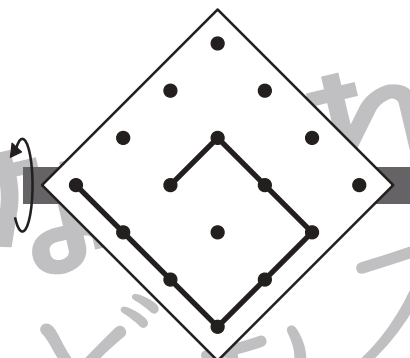
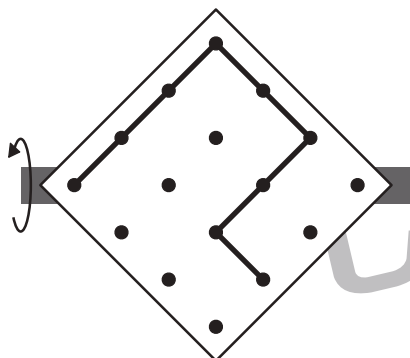


おうちで、やろう。

Study at home. 小学校受験の家庭学習教材

図形：反転 17

左のお手本を上矢印の向きに回して裏返した時の見え方を考えて、下の四角にかきます。



※1. このプリントは、しながわ・目黒こどもスクールのウェブサイトでダウンロードができます。無断複写・引用はご遠慮ください。
※2. このプリントを活用したオンライン授業のスケジュールは、しながわ・目黒こどもスクールのウェブサイトでご確認ください。





おうちで、やろう。

Study at home. 小学校受験の家庭学習教材

図形：反転 18

左のお手本を上への矢印の向きに回して裏返した時の見え方を考えて、下の四角にかきます。

※1. このプリントは、しながわ・目黒こどもスクールのウェブサイトでダウンロードができます。無断複写・引用はご遠慮ください。
 ※2. このプリントを活用したオンライン授業のスケジュールは、しながわ・目黒こどもスクールのウェブサイトでご確認ください。



おうちで、やろう。

Study at home. 小学校受験の家庭学習教材

左の見本と同じになるように右の四角の線の上に○をかきます。

※1. このプリントは、しながわ・目黒こどもスクールのウェブサイトでダウンロードができます。無断複写・引用はご遠慮ください。

※2. このプリントを活用したオンライン授業のスケジュールは、しながわ・目黒こどもスクールのウェブサイトでご確認ください。



おうちで、やろう。

Study at home. 小学校受験の家庭学習教材

左の見本と同じになるように右の四角の線の上に○をかきます。

※1. このプリントは、しながわ・目黒こどもスクールのウェブサイトでダウンロードができます。無断複写・引用はご遠慮ください。

※2. このプリントを活用したオンライン授業のスケジュールは、しながわ・目黒こどもスクールのウェブサイトでご確認ください。








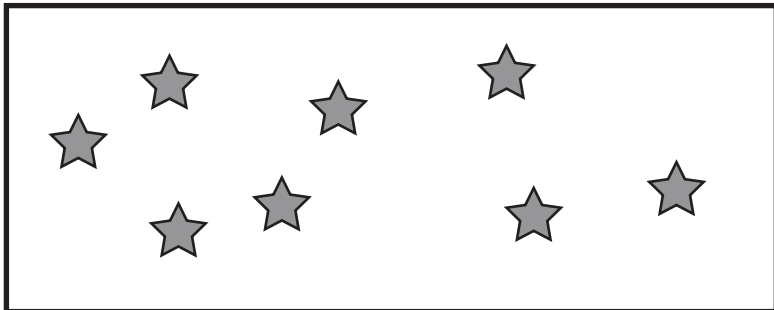


おうちで、やろう。

Study at home. 小学校受験の家庭学習教材

処理：加減4

左の四角の中の数より3つ少ない数だけ右の四角に○をかきます。
この問題はスピードを意識して取り組む練習をしてみましょう。(1分～1分30秒)



※1. このプリントは、しながわ・目黒こどもスクールのウェブサイトからダウンロードできます。無断複写・引用はご遠慮ください。
※2. このプリントを活用したオンライン授業のスケジュールは、しながわ・目黒こどもスクールのウェブサイトでご確認ください。




おうちで、やろう。

Study at home. 小学校受験の家庭学習教材

□頭試問 7

いろいろなお手伝いの絵を見て下の質問に答えましょう。お子さまが答えたことは保護者の方が記入してください。

※この問題に解答はありません。



①上の中であなたがやったことがあるお手伝いは何ですか。

②上の中であなたが大変だと思うお手伝いは何ですか。それはどうしてですか。

③上の中でこれからやってみたいお手伝いは何ですか。

全部やったことがあるときは上の絵にないお手伝いでやってみたいものは何ですか。

④お料理のお手伝いをするときに家族の人と一緒に作ってみたい料理は何ですか。

※1. このプリントは、しながわ・目黒こどもスクールのウェブサイトでダウンロードができます。無断複写・引用はご遠慮ください。

※2. このプリントを活用したオンライン授業のスケジュールは、しながわ・目黒こどもスクールのウェブサイトでご確認ください。












おうちで、やろう。

Study at home. 小学校受験の家庭学習教材

□頭試問8

下の絵は遊園地の乗り物の絵です。下の質問に答えましょう。お子さまが答えたことは保護者の方が記入してください。
※この問題に解答はありません。



①上の中であなたが一番乗ってみたい乗り物は何ですか。それはどうしてですか。

②上の中で乗ったら怖そうだなと思う乗り物は何ですか。それはどうしてですか。

③真ん中にある汽車にお友だちと一緒に乗ることになりました。一緒に乗りたいお友だちを3人教えてください。

④上の乗り物に乗るには1人1枚チケットが必要です。あなたは5枚チケットを持って遊園地にきました。持っているチケットをどうやって使いますか。

※1. このプリントは、しながわ・目黒こどもスクールのウェブサイトでダウンロードができます。無断複写・引用はご遠慮ください。

※2. このプリントを活用したオンライン授業のスケジュールは、しながわ・目黒こどもスクールのウェブサイトでご確認ください。

