






# おうちで、やろう。

Study at home. 小学校受験の家庭学習教材

## 指示の聞き取り 18

それぞれの設問に答えましょう。

- ①キリンとネコを赤のクーピーの線で結びます。
- ②ライオンとウマを青のクーピーの線で結びます。
- ③ブタとラクダをオレンジ色のクーピーの線で結びます。
- ④ゾウとカバを黒のクーピーの線で結びます。
- ⑤リスとコウモリを緑のクーピーの線で結びます。







# おうちで、やろう。

Study at home. 小学校受験の家庭学習教材

## 言語：音の理解 28

- ①絵の名前をはじめてから読んでも、終わってからよんでも同じ名前の絵に○をつけます。  
②絵の名前を終わりにから読んだとき、違う名前になる絵に△をつけます。



※1. このプリントは、しながわ・目黒こどもスクールのウェブサイトからダウンロードできます。無断複写・引用はご遠慮ください。  
※2. このプリントを活用したオンライン授業のスケジュールは、しながわ・目黒こどもスクールのウェブサイトでご確認ください。

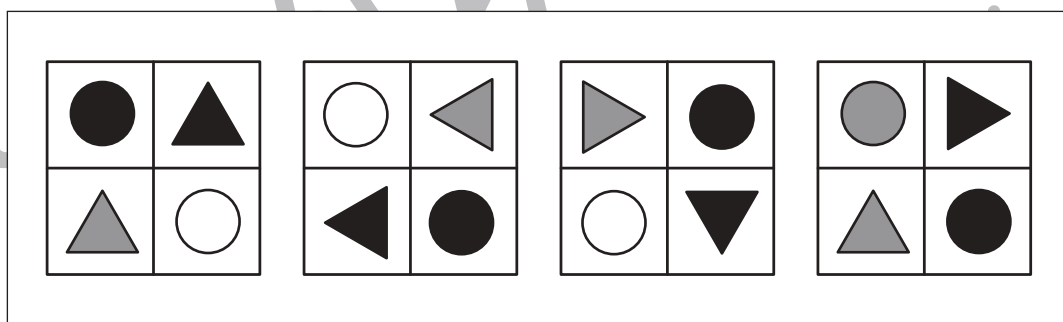
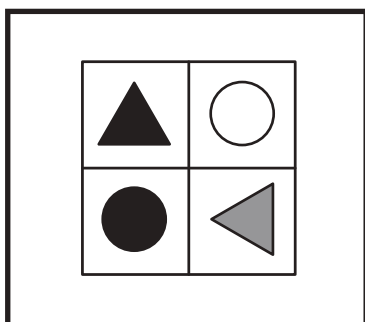
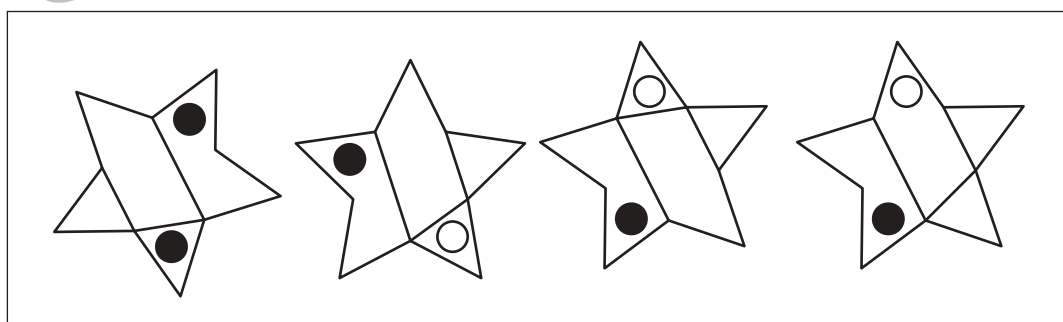
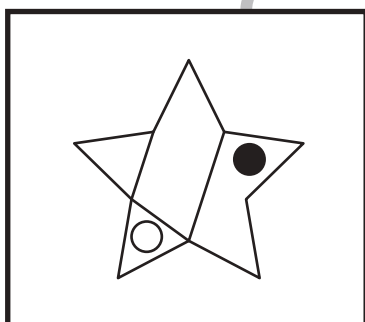
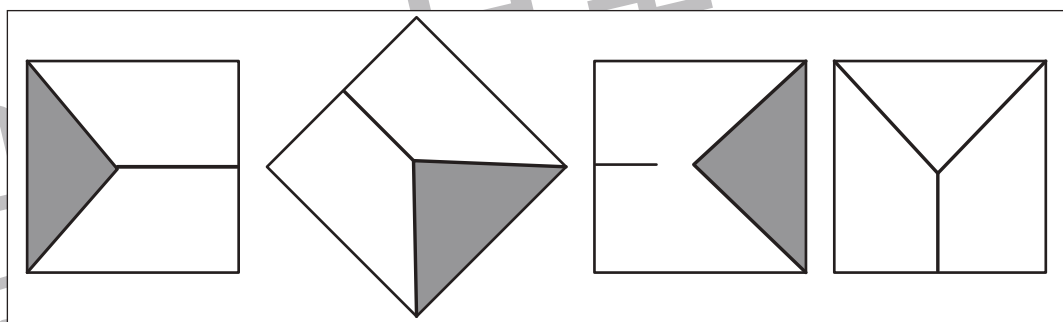
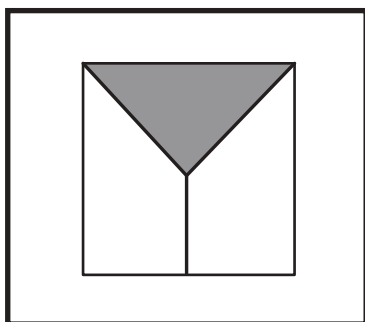
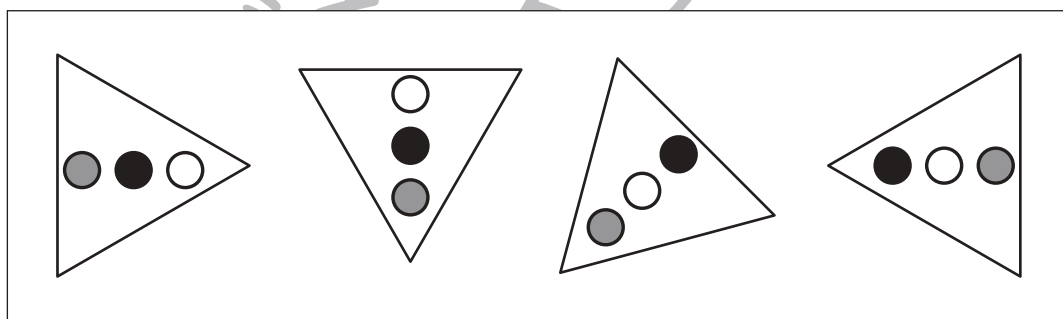
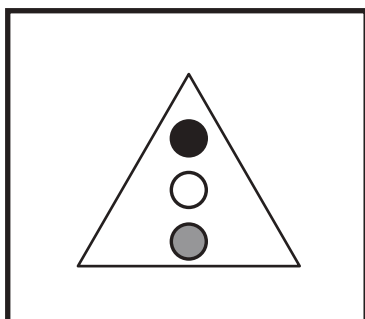
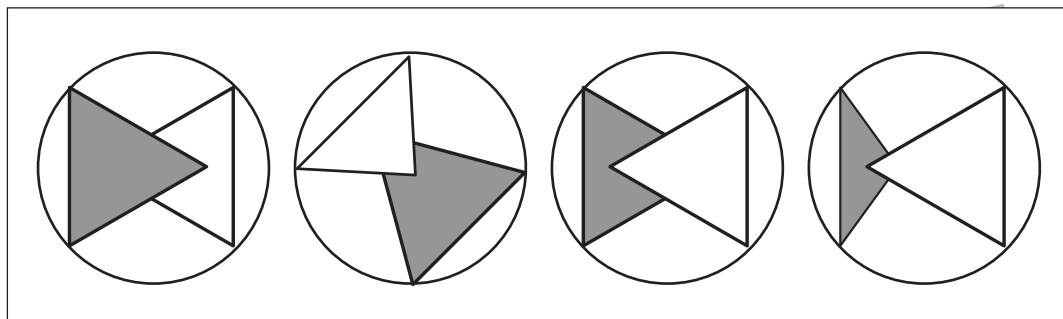
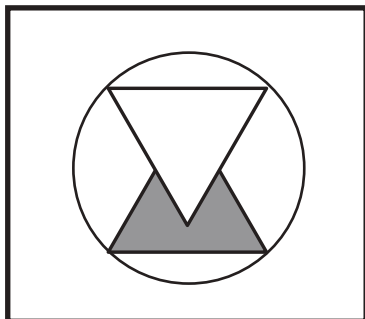


# おうちで、やろう。

Study at home. 小学校受験の家庭学習教材

## 図形：同図形 3

左の太い四角の中がお手本です。このお手本と同じ形を右の4つの中から見つけて○をつけます。



※1. このプリントは、しながわ・目黒こどもスクールのウェブサイトでダウンロードができます。無断複写・引用はご遠慮ください。  
※2. このプリントを活用したオンライン授業のスケジュールは、しながわ・目黒こどもスクールのウェブサイトでご確認ください。






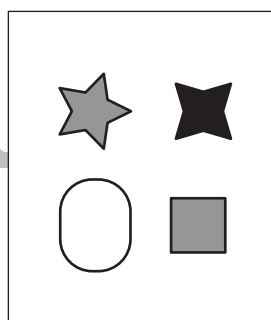

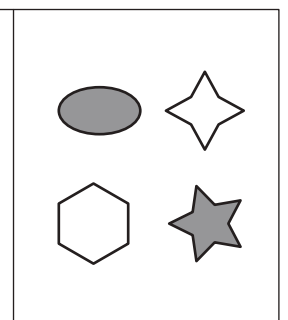
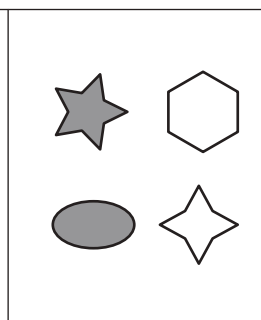
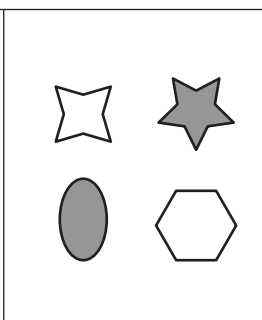
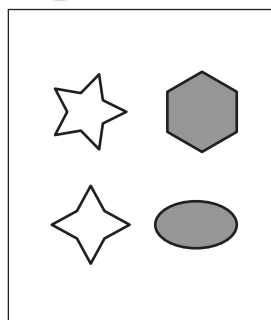
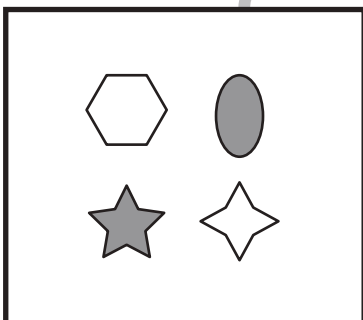
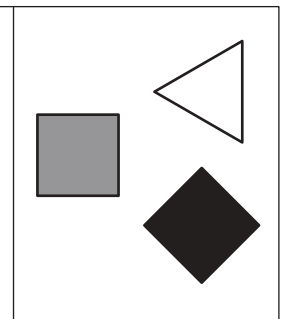
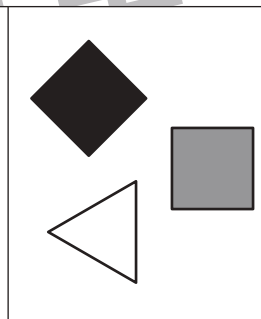
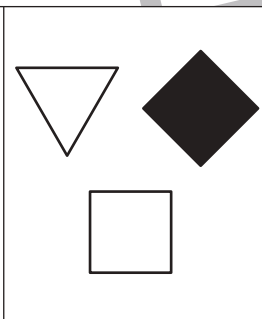
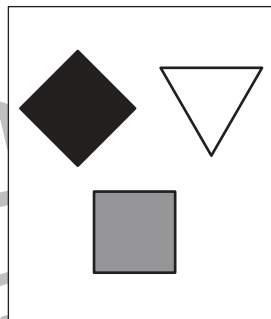
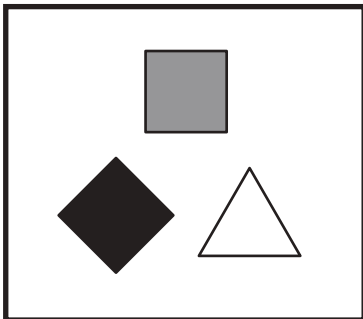
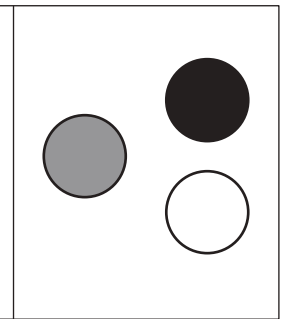
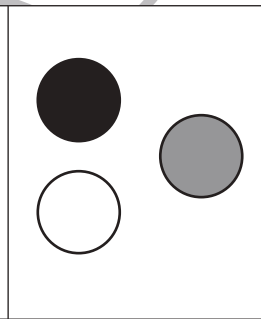
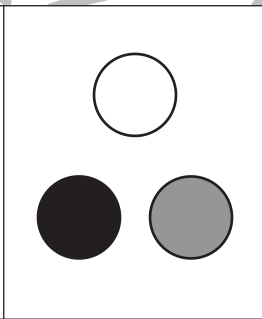
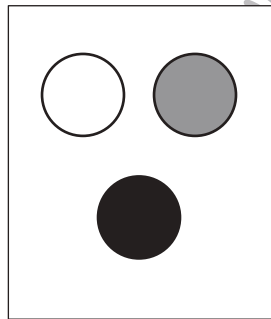
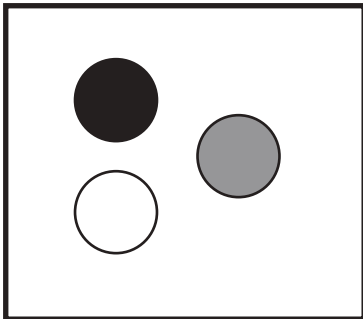
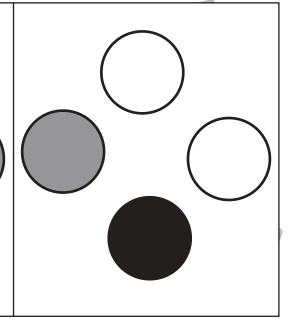
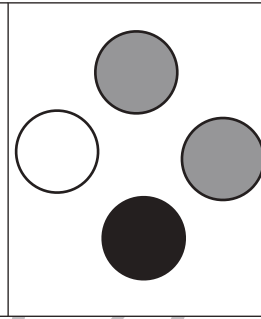
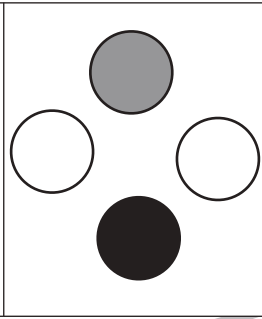
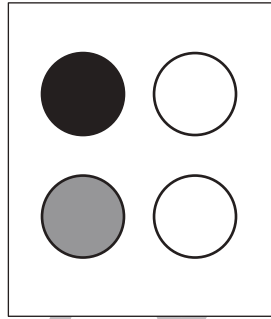



# おうちで、やろう。

Study at home. 小学校受験の家庭学習教材

## 図形：同図形4

左の太い四角の中がお手本です。このお手本と同じ形を右の4つの中から見つけて○をつけます。



※1. このプリントは、しながわ・目黒こどもスクールのウェブサイトでダウンロードができます。無断複写・引用はご遠慮ください。  
※2. このプリントを活用したオンライン授業のスケジュールは、しながわ・目黒こどもスクールのウェブサイトでご確認ください。



# おうちで、やろう。

Study at home. 小学校受験の家庭学習教材

## 推理：四方観察 25

左の四角の中の積み木を男の子の方（右側）から見ると、下のマスの太い四角の形に見えます。このとき、灰色に見える場所を見つけて塗ります。

※1. このプリントは、しながわ・目黒こどもスクールのウェブサイトでダウンロードができます。無断複写・引用はご遠慮ください。

※2. このプリントを活用したオンライン授業のスケジュールは、しながわ・目黒こどもスクールのウェブサイトでご確認ください。



# おうちで、やろう。

Study at home. 小学校受験の家庭学習教材

## 推理：四方観察 26

左の四角の中の積み木を女の子の方（左側）から見ると、下のマスの太い四角の形に見えます。このとき、灰色に見える場所を境つけて塗ります。

※1. このプリントは、しながわ・目黒こどもスクールのウェブサイトでダウンロードができます。無断複写・引用はご遠慮ください。  
 ※2. このプリントを活用したオンライン授業のスケジュールは、しながわ・目黒こどもスクールのウェブサイトでご確認ください。



# おうちで、よろう。

Study at home. 小学校受験の家庭学習教材

数量：分割 19

左の四角の中にあるクッキーを右の四角の中に並んでいるお友だちに分けます。矢印の順番に 1 人に 1 枚ずつ分けたとき、一番最後にもらえる子は誰ですか。その子に○をつけます。

※1. このプリントは、しながわ・目黒こどもスクールのウェブサイトでダウンロードができます。無断複写・引用はご遠慮ください。  
 ※2. このプリントを活用したオンライン授業のスケジュールは、しながわ・目黒こどもスクールのウェブサイトでご確認ください。


















# おうちで、やろう。

Study at home. 小学校受験の家庭学習教材

数量：分割 20

左の四角の中にあるクッキーを右の四角の中に並んでいるお友だちに分けます。矢印の順番に 1 人に 2 枚ずつ分けたとき、一番最後にもらえる子は誰ですか。その子に○をつけます。

※ 1. このプリントは、しながわ・目黒こどもスクールのウェブサイトでダウンロードができます。無断複写・引用はご遠慮ください。

※ 2. このプリントを活用したオンライン授業のスケジュールは、しながわ・目黒こどもスクールのウェブサイトでご確認ください。









# おうちで、やろう。



Study at home. 小学校受験の家庭学習教材



数量：分割 21



左の四角の中にあるクッキーを右の四角の中に並んでいるお友だちに分けます。矢印の順番に女の子には1枚ずつ、男の子には2枚ずつ分けたとき、一番最後にもらえる子は誰ですか。その子に○をつけます。

	 
--	--

	 
--	--

	 
--	--

	 
--	--

	 
--	--

※1. このプリントは、しながわ・目黒こどもスクールのウェブサイトからダウンロードできます。無断複写・引用はご遠慮ください。

※2. このプリントを活用したオンライン授業のスケジュールは、しながわ・目黒こどもスクールのウェブサイトでご確認ください。



# おうちで、やろう。

Study at home. 小学校受験の家庭学習教材

## 図形：点図形 44

左のお手本と同じになるように右の四角の点を囲みます。 ※このプリントに解答はありません。


※1. このプリントは、しながわ・目黒こどもスクールのウェブサイトからダウンロードできます。無断複写・引用はご遠慮ください。  
 ※2. このプリントを活用したオンライン授業のスケジュールは、しながわ・目黒こどもスクールのウェブサイトでご確認ください。