



# おうちで、やろう。

Study at home. 小学校受験の家庭学習教材

## 記憶：絵の記憶 10

別紙『記憶 - 絵の記憶 10 記憶用紙』を使用します。記憶用紙の形を見た後に①、②、③の問題に取り組みましょう。

①ミカンの数だけ○をかきます。


②覚えた絵にあったものに○をつけます。

③覚えた絵になかったものに○をつけます。

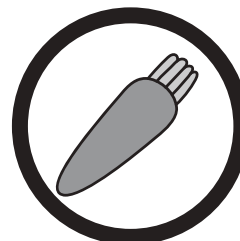


①

○ × 5

②



③



※1. このプリントは、しながわ・目黒こどもスクールのウェブサイトでダウンロードができます。無断複写・引用はご遠慮ください。

※2. このプリントを活用したオンライン授業のスケジュールは、しながわ・目黒こどもスクールのウェブサイトでご確認ください。





# おうちで、やろう。

Study at home. 小学校受験の家庭学習教材

## 図形：重ね回転 1

左の2枚の四角は透明な板です。この2枚の板をぴったり重ねたあと、右に1度倒したときの見え方を考えて、右の四角にかきます。


※1. このプリントは、しながわ・目黒こどもスクールのウェブサイトでダウンロードができます。無断複写・引用はご遠慮ください。

※2. このプリントを活用したオンライン授業のスケジュールは、しながわ・目黒こどもスクールのウェブサイトでご確認ください。



# おうちで、やろう。

Study at home. 小学校受験の家庭学習教材

## 図形：重ね回転 2

左の2枚の四角は透明な板です。この2枚の板をぴったり重ねたあと、右に1度倒したときの見え方を考えて、右の四角にかきます。


※1. このプリントは、しながわ・目黒こどもスクールのウェブサイトからダウンロードができます。無断複写・引用はご遠慮ください。

※2. このプリントを活用したオンライン授業のスケジュールは、しながわ・目黒こどもスクールのウェブサイトでご確認ください。



# おうちで、やろう。

Study at home. 小学校受験の家庭学習教材

## 図形：重ね回転 3

左の2枚の四角は透明な板です。この2枚の板をぴったり重ねたあと、右に1度倒したときの見え方を考えて、右の四角にかきます。


※1. このプリントは、しながわ・目黒こどもスクールのウェブサイトでダウンロードができます。無断複写・引用はご遠慮ください。  
 ※2. このプリントを活用したオンライン授業のスケジュールは、しながわ・目黒こどもスクールのウェブサイトでご確認ください。



# おうちで、よろう。

Study at home. 小学校受験の家庭学習教材

## 推理：系列完成 14

記号がある順番通りに並んでいます。空いている四角に入る記号を考えてその記号をかきます。

○	△	□	○	△	<b>□</b>	○	△	□	○
									△
<b>□</b>	△	○	□	<b>△</b>	○	□	△	<b>○</b>	□

○	△	○	□	○	△	<b>○</b>	□	○	△
									○
○	□	<b>○</b>	<b>△</b>	○	□	○	△	○	<b>□</b>

<b>□</b>	△	○	<b>○</b>	□	△	○	○	□	△
----------	---	---	----------	---	---	---	---	---	---

□	△	○	○	□					○
○									<b>□</b>
○	<b>△</b>	□	○	○	△	□	<b>○</b>	○	△

※1. このプリントは、しながわ・目黒こどもスクールのウェブサイトでダウンロードができます。無断複写・引用はご遠慮ください。  
 ※2. このプリントを活用したオンライン授業のスケジュールは、しながわ・目黒こどもスクールのウェブサイトでご確認ください。


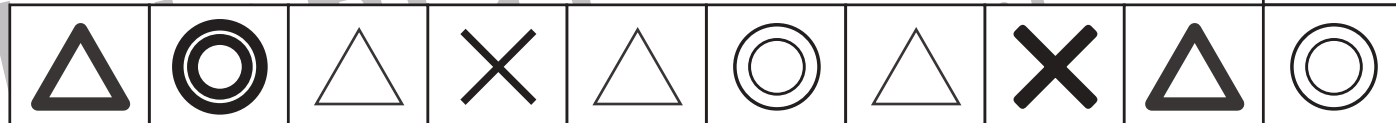
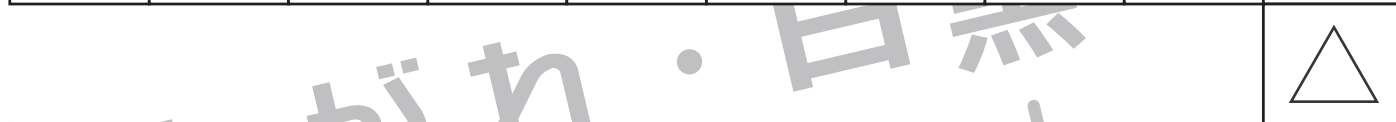


# おうちで、やろう。

Study at home. 小学校受験の家庭学習教材

推理：系列完成 15

記号がある順番通りに並んでいます。空いている四角に入る記号を考えてその記号をかきます。



※1. このプリントは、しながわ・目黒こどもスクールのウェブサイトでダウンロードができます。無断複写・引用はご遠慮ください。  
 ※2. このプリントを活用したオンライン授業のスケジュールは、しながわ・目黒こどもスクールのウェブサイトでご確認ください。




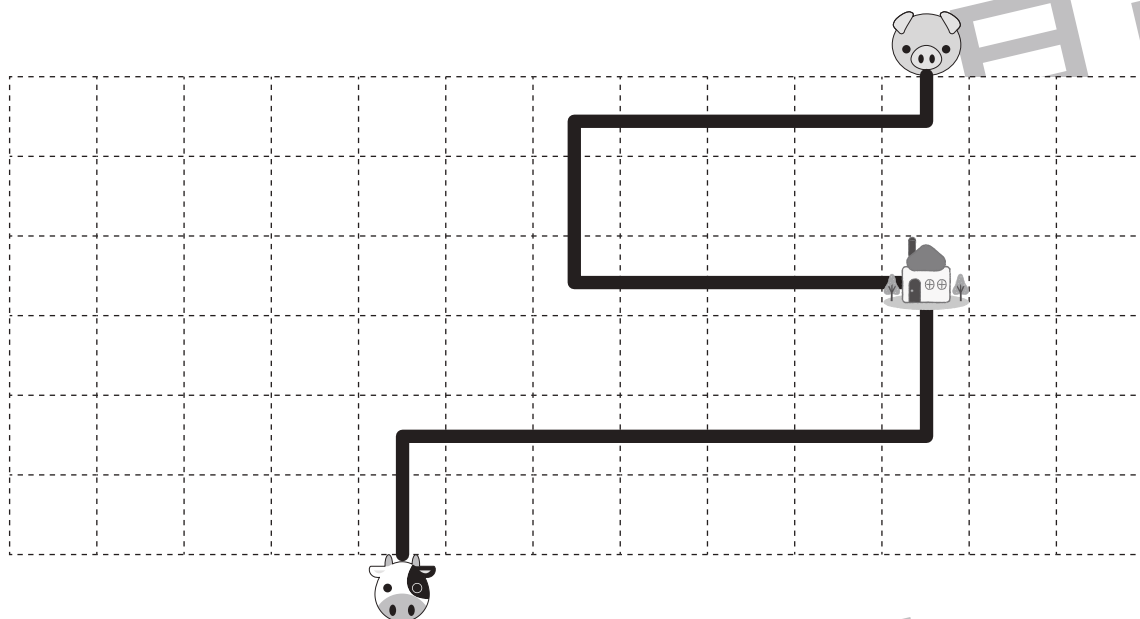
# おうちで、やろう。

Study at home. 小学校受験の家庭学習教材


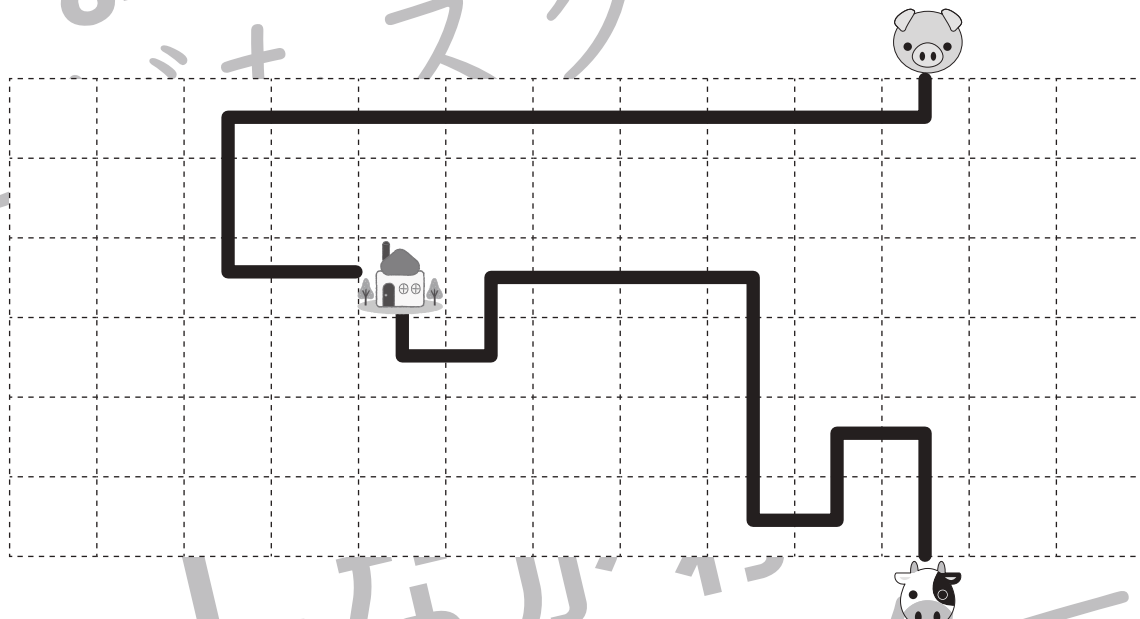
数量：長さ8

動物たちが同じ家に向かってそれぞれの動物から出ている線の通りに進んでいきます。動物たちは一斉にスタートして、みんなが同じ速さで歩いて進んだとき、いちばん早く着く動物に○をつけます。

①



②



※1. このプリントは、しながわ・目黒こどもスクールのウェブサイトでダウンロードができます。無断複写・引用はご遠慮ください。

※2. このプリントを活用したオンライン授業のスケジュールは、しながわ・目黒こどもスクールのウェブサイトでご確認ください。




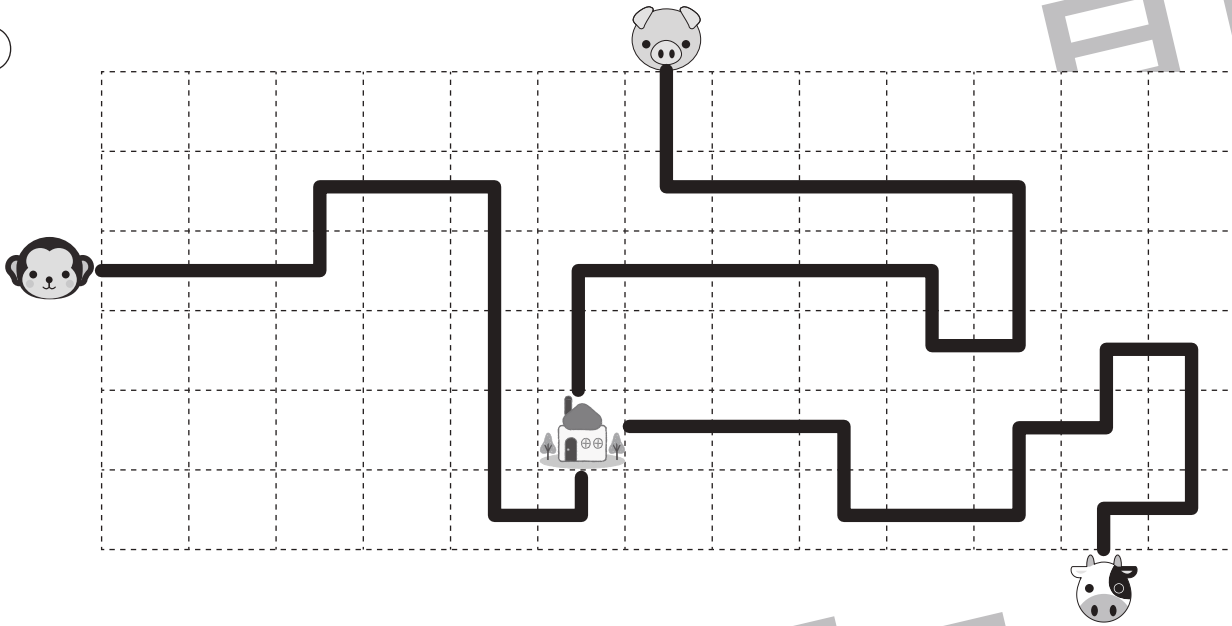
# おうちで、やろう。

Study at home. 小学校受験の家庭学習教材


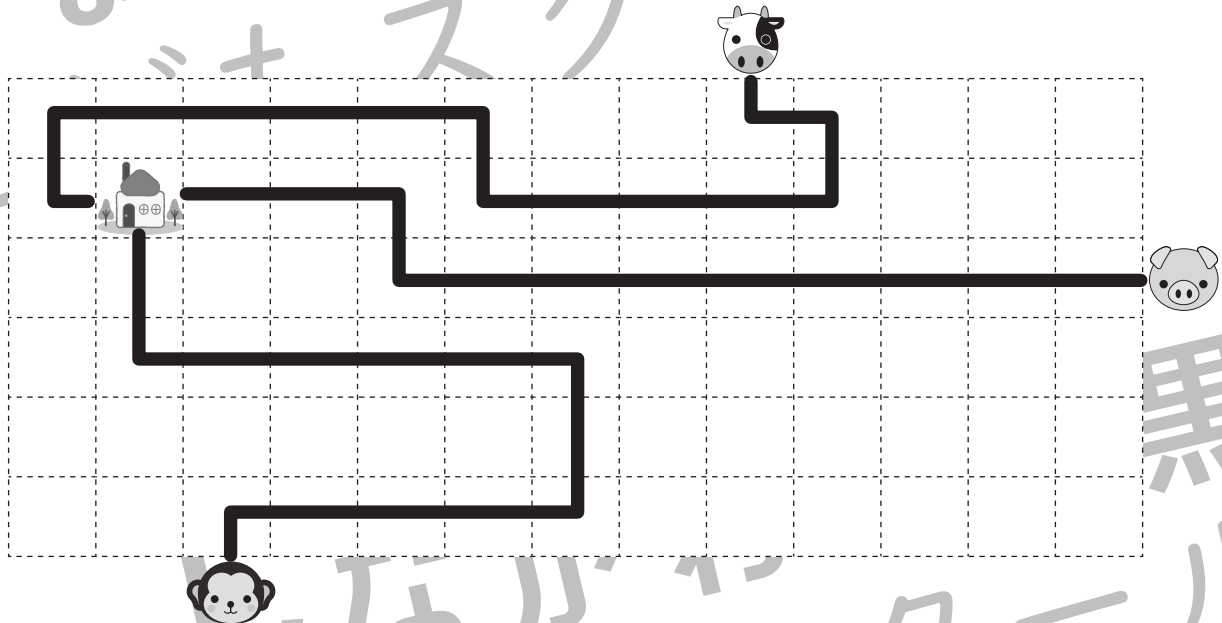
数量：長さ9

動物たちが同じ家に向かってそれぞれの動物から出ている線の通りに進んでいきます。動物たちは一斉にスタートして、みんなが同じ速さで歩いて進んだとき、いちばん早く着く動物に○をつけます。

①



②



※1. このプリントは、しながわ・目黒こどもスクールのウェブサイトでダウンロードができます。無断複写・引用はご遠慮ください。

※2. このプリントを活用したオンライン授業のスケジュールは、しながわ・目黒こどもスクールのウェブサイトでご確認ください。






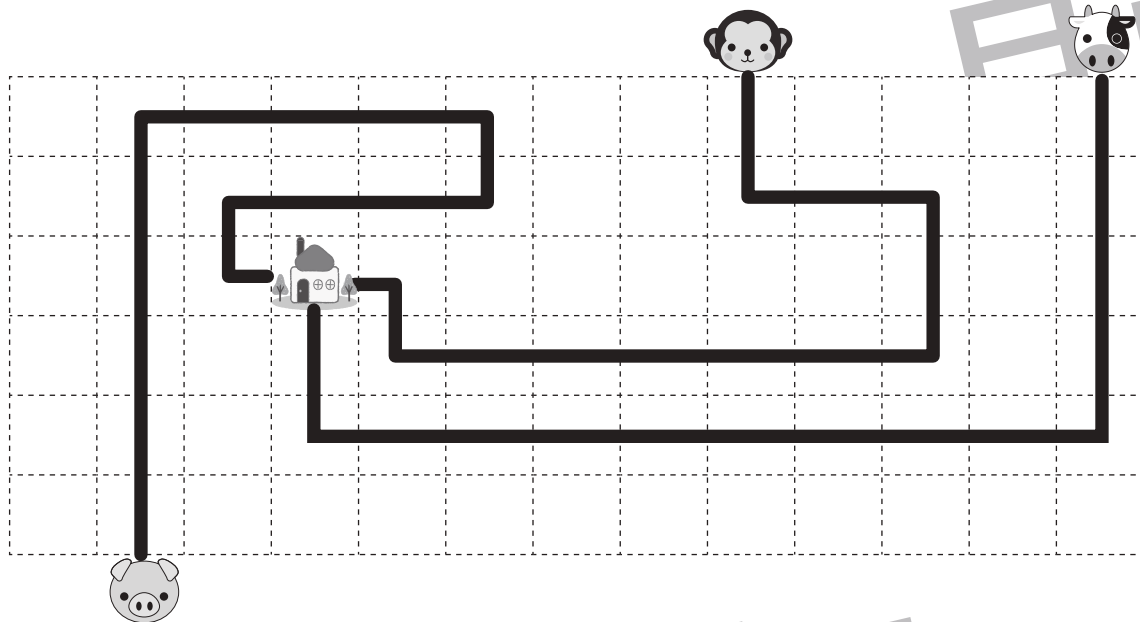
# おうちで、やろう。

Study at home. 小学校受験の家庭学習教材

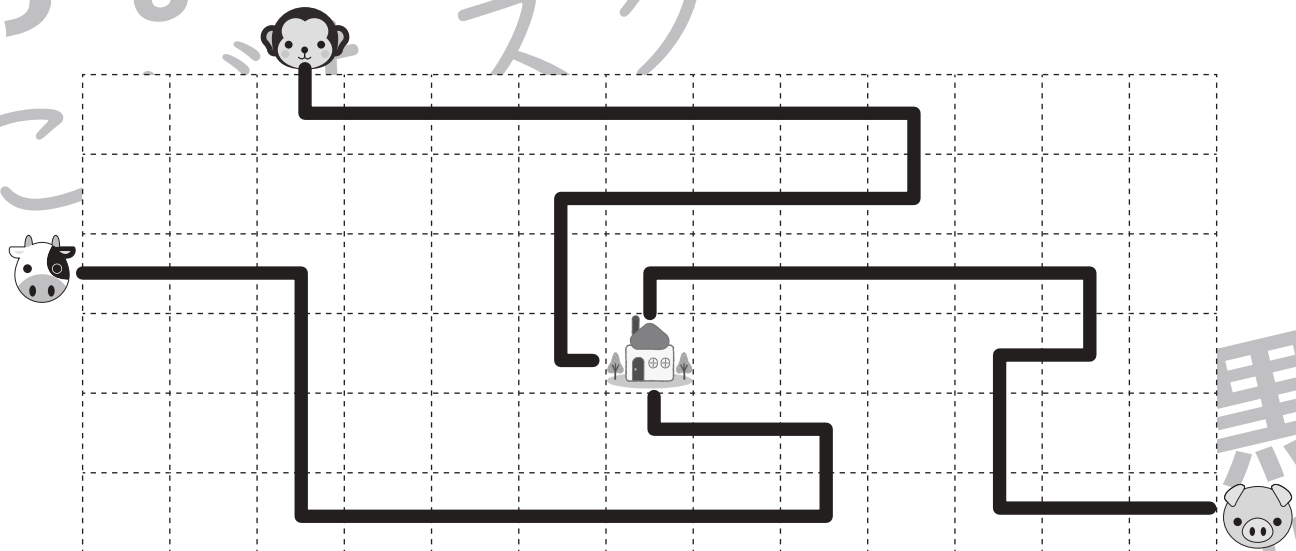
数量：長さ 10

動物たちが同じ家に向かってそれぞれの動物から出ている線の通りに進んでいきます。動物たちは一斉にスタートして、みんなが同じ速さで歩いて進んだとき、同じときに着く動物は誰と誰ですか。その2匹に○をつけます。

①



②



※1. このプリントは、しながわ・目黒こどもスクールのウェブサイトでダウンロードができます。無断複写・引用はご遠慮ください。

※2. このプリントを活用したオンライン授業のスケジュールは、しながわ・目黒こどもスクールのウェブサイトでご確認ください。