

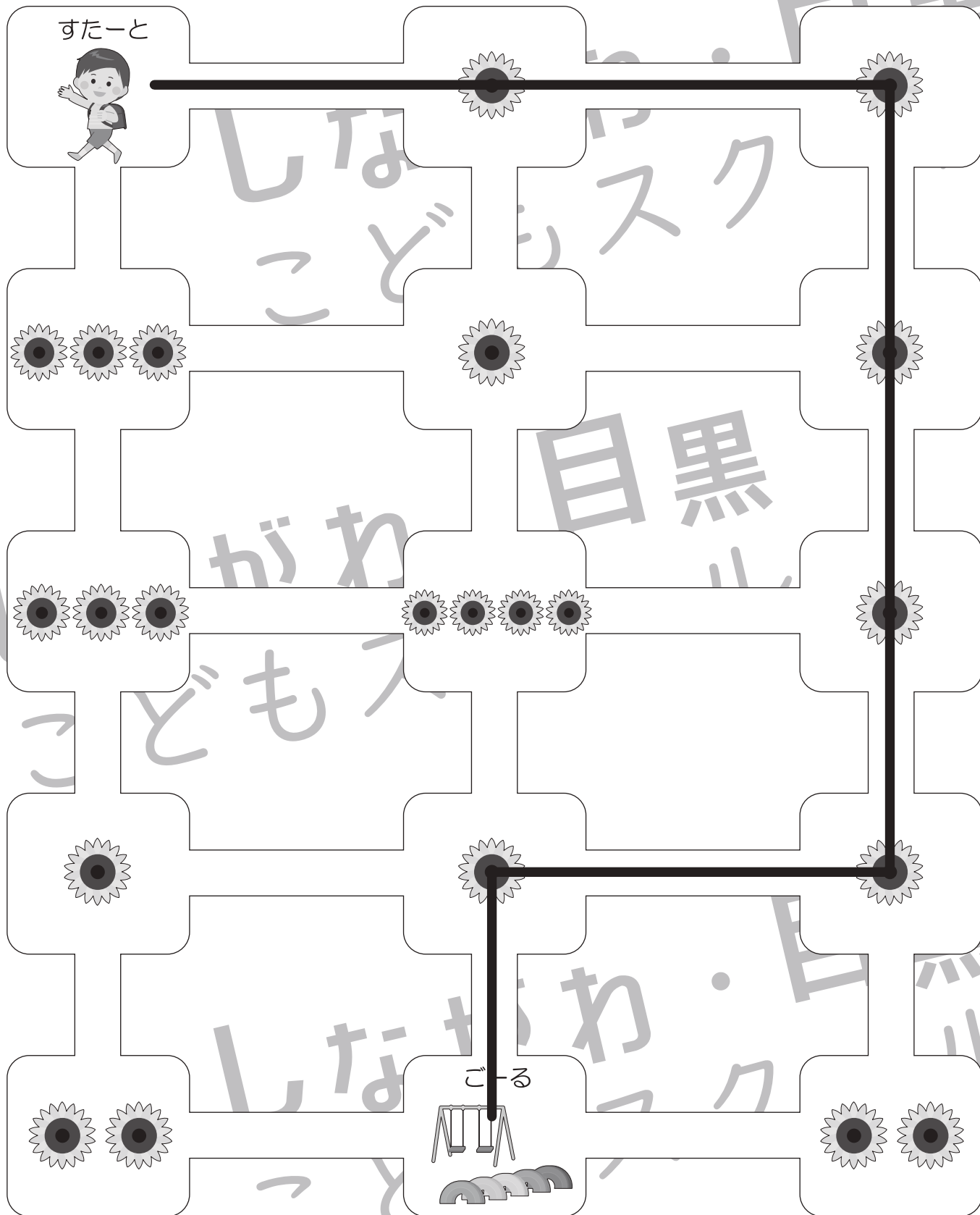


おうちで、やろう。 年中児版

Study at home. 小学校受験の家庭学習教材

数量：計数 8

【すたーと】のたろうくんが花をぜんぶで6本になるようにつんで、【ごーる】の公園まで行きます。指で道を確認してから線をひきましょう。



※1. このプリントは、しながわ・目黒こどもスクールのウェブサイトでダウンロードができます。無断複写・引用はご遠慮ください。
 ※2. このプリントを活用したオンライン授業のスケジュールは、しながわ・目黒こどもスクールのウェブサイトでご確認ください。

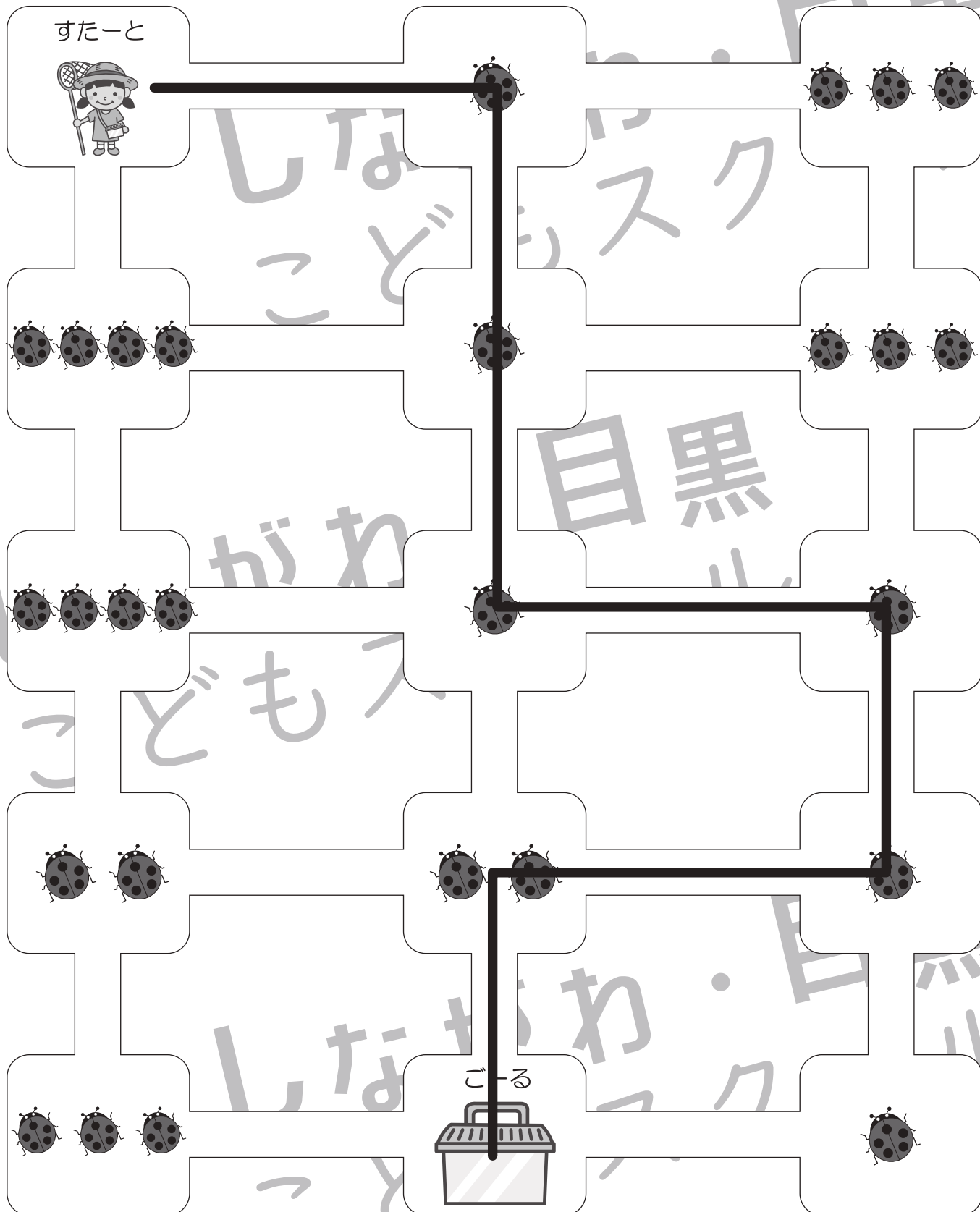


おうちで、やろう。 年中児版

Study at home. 小学校受験の家庭学習教材

数量：計数9

【すたーと】のみきこさんが虫をぜんぶで7匹になるように【ごーる】の虫とりかごまで行きます。
指で道を確認してから線をひきましょう。



※1. このプリントは、しながわ・目黒こどもスクールのウェブサイトで見ることができます。無断複写・引用はご遠慮ください。

※2. このプリントを活用したオンライン授業のスケジュールは、しながわ・目黒こどもスクールのウェブサイトでご確認ください。



おうちで、やろう。 年中児版 推理：ブラックボックス3

Study at home. 小学校受験の家庭学習教材

一番上の四角の中が約束です。パンダの箱に入ると2つ減ります。この約束で下の問題を考えます。
左にある果物が横にあるパンダの箱の中を通るといくつになりますか。その数だけ右の四角の中に○をかきます。

	<p>○×3</p>
	<p>○×1</p>
	<p>○×3</p>
	<p>○×8</p>

※1. このプリントは、しながわ・目黒こどもスクールのウェブサイトでダウンロードができます。無断複写・引用はご遠慮ください。

※2. このプリントを活用したオンライン授業のスケジュールは、しながわ・目黒こどもスクールのウェブサイトでご確認ください。



おうちで、やろう。 年中児版 推理：ブラックボックス4

Study at home. 小学校受験の家庭学習教材

一番上の四角の中が約束です。パンダの箱に入ると3つ増えます。この約束で下の問題を考えます。
左にある果物が横にあるパンダの箱の中を通るといくつになりますか。その数だけ右の四角の中に○をかきます。

	$\bigcirc \times 7$
	$\bigcirc \times 6$
	$\bigcirc \times 8$
	$\bigcirc \times 10$

※1. このプリントは、しながわ・目黒こどもスクールのウェブサイトでダウンロードができます。無断複写・引用はご遠慮ください。
 ※2. このプリントを活用したオンライン授業のスケジュールは、しながわ・目黒こどもスクールのウェブサイトでご確認ください。


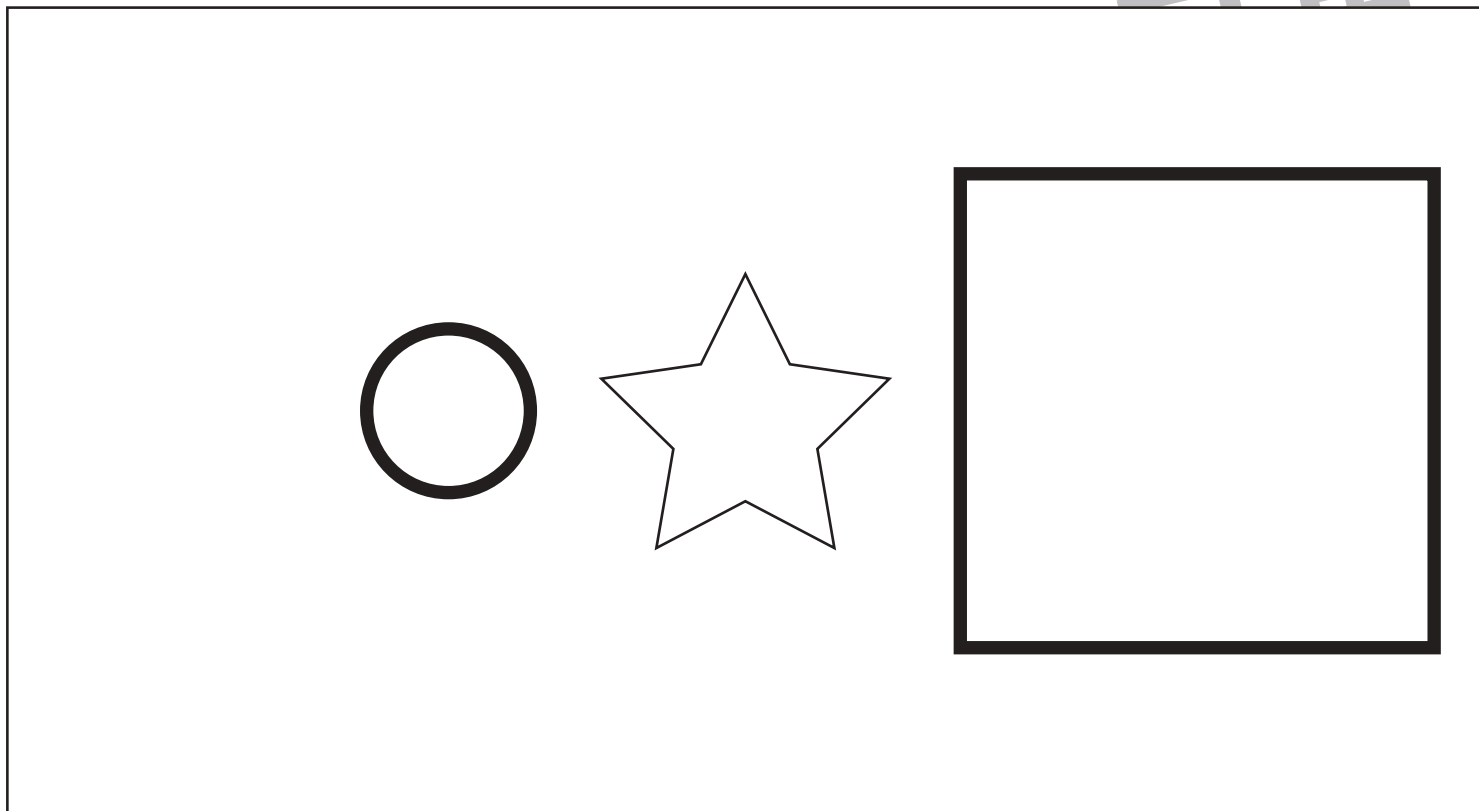


おうちで、やろう。 年中児版

Study at home. 小学校受験の家庭学習教材

推理：比較順位 2

- ①星の右側に星より大きな四角を、星の左側に星より小さな丸をかきます。
- ②左からだんだん短くなるように点線をなぞって4本の線をかきます。一番左が長く、一番右が短くなります。



※1. このプリントは、しながわ・目黒こどもスクールのウェブサイトでダウンロードができます。無断複写・引用はご遠慮ください。
※2. このプリントを活用したオンライン授業のスケジュールは、しながわ・目黒こどもスクールのウェブサイトでご確認ください。

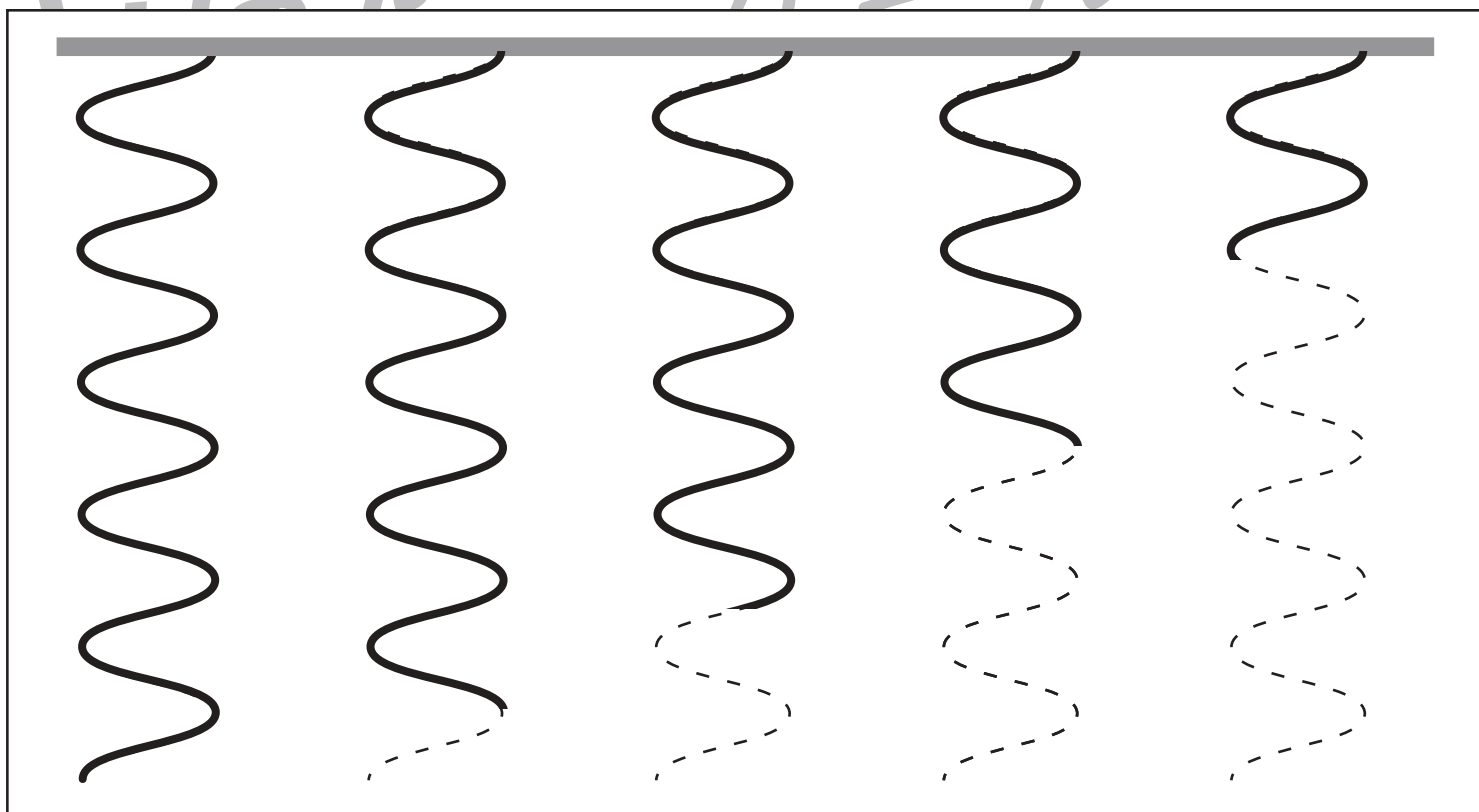
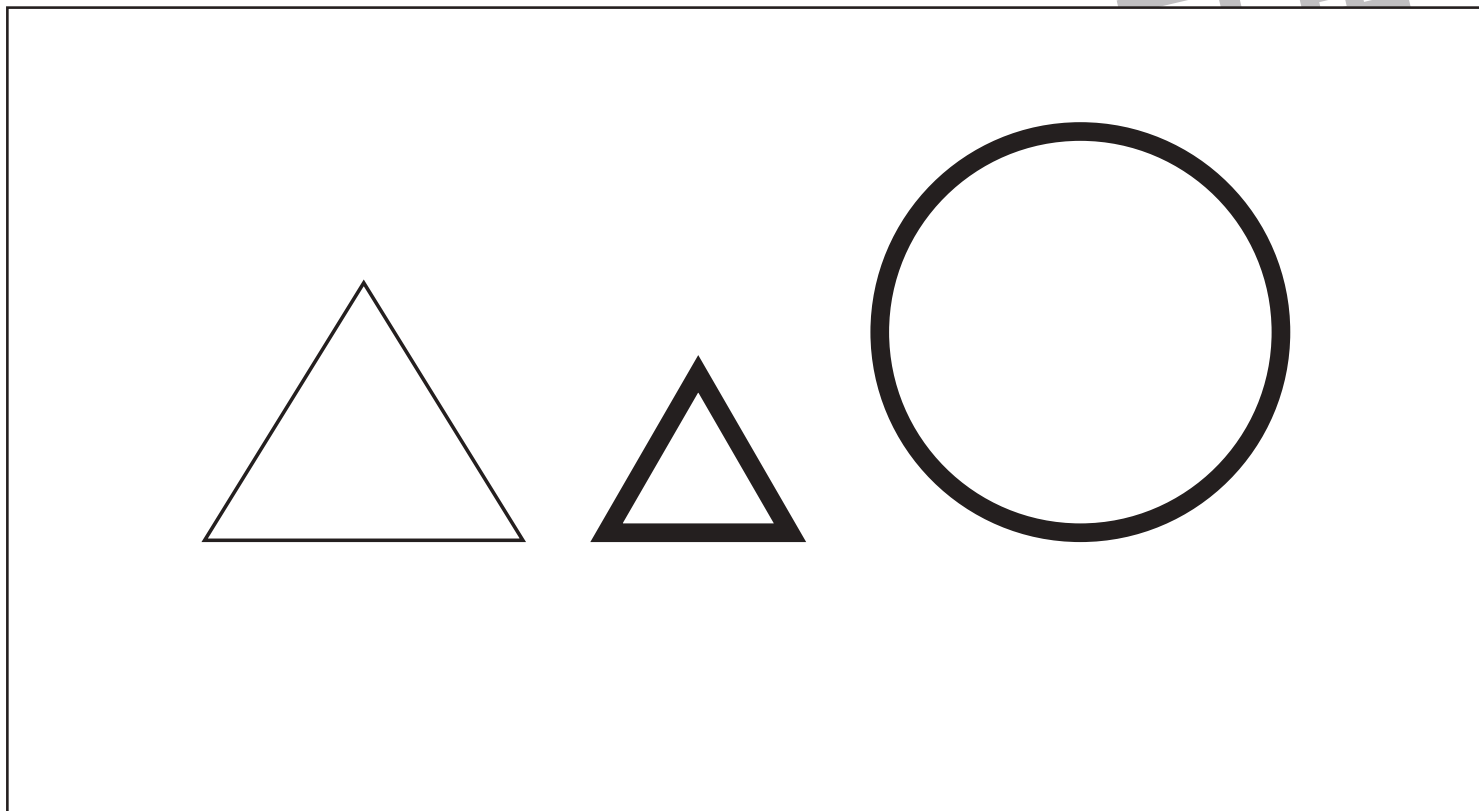


おうちで、やろう。 年中児版

Study at home. 小学校受験の家庭学習教材

推理：比較順位 3

- ①△の右側に△より小さな四角を、さらにその右側に二つの△より大きな○をかきます。
- ②左からだんだん短くなるように点線をなぞって4本の曲線をかきます。一番左が長く、一番右が短くなります。



※1. このプリントは、しながわ・目黒こどもスクールのウェブサイトからダウンロードできます。無断複写・引用はご遠慮ください。
※2. このプリントを活用したオンライン授業のスケジュールは、しながわ・目黒こどもスクールのウェブサイトでご確認ください。



左の2枚の点図形を重ねた形を考えて、矢印の右の四角にかきます。

※1. このプリントは、しながわ・目黒こどもスクールのウェブサイトでダウンロードができます。無断複写・引用はご遠慮ください。

※2. このプリントを活用したオンライン授業のスケジュールは、しながわ・目黒こどもスクールのウェブサイトでご確認ください。



左の2枚の点図形を重ねた形を考えて、矢印の右の四角にかきます。

※1. このプリントは、しながわ・目黒こどもスクールのウェブサイトからダウンロードできます。無断複写・引用はご遠慮ください。

※2. このプリントを活用したオンライン授業のスケジュールは、しながわ・目黒こどもスクールのウェブサイトでご確認ください。