

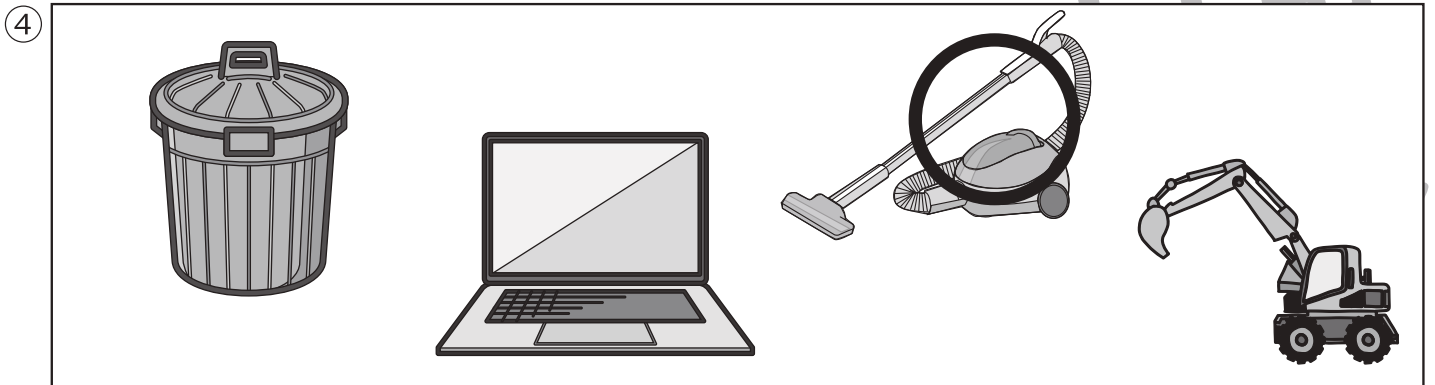


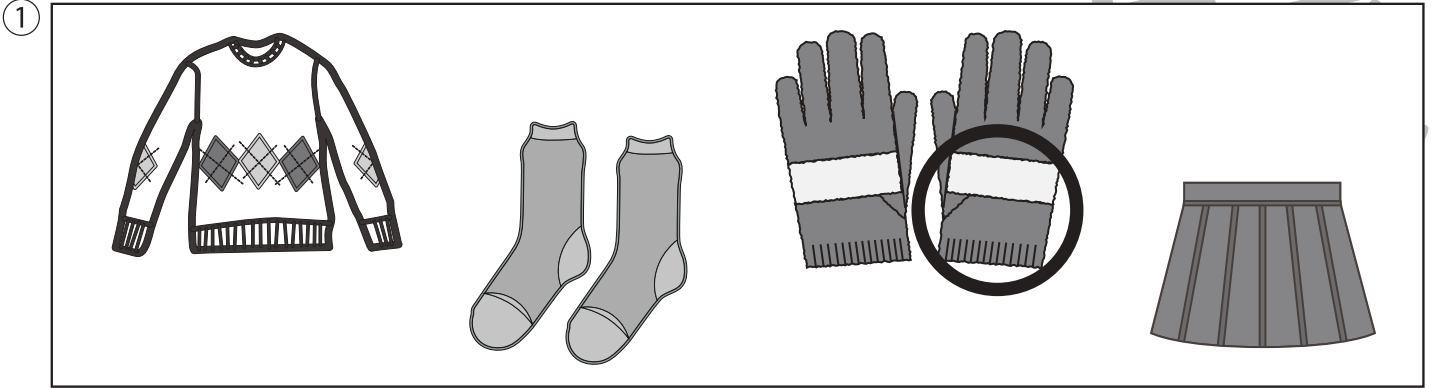


おうちで、やろう。 年中児版

Study at home. 小学校受験の家庭学習教材

推理：なぞなぞ 11

- ①～④のなぞなぞをといて、答えに○をつけます。
- ①いりぐちがひとつで おへやが いくつか あるものは なんでしょう。
- ②くちから 出る くびは なんでしょう。
- ③かきはかきでも かしるときに やくにたつ かきは なんでしょう。
- ④ごみをたべて はたらく きかいは なんでしょう。



※1. このプリントは、しながわ・目黒こどもスクールのウェブサイトからダウンロードできます。無断複写・引用はご遠慮ください。
 ※2. このプリントを活用したオンライン授業のスケジュールは、しながわ・目黒こどもスクールのウェブサイトでご確認ください。









おうちで、やろう。年中児版




Study at home. 小学校受験の家庭学習教材




推理：数の推理 1

四角が4つ横に並んでいます。この四角の中の絵はある約束通りに数が増えたり、減ったりしています。どんな約束があるのかを考えて空いている四角の中に入る絵の数だけ○をかきます。

	$\bigcirc \times 2$		
---	---------------------	--	---

		$\bigcirc \times 4$	
---	--	---------------------	--

	$\bigcirc \times 5$		
---	---------------------	--	---

$\bigcirc \times 6$			
---------------------	---	--	---

※1. このプリントは、しながわ・目黒こどもスクールのウェブサイトでダウンロードができます。無断複写・引用はご遠慮ください。
※2. このプリントを活用したオンライン授業のスケジュールは、しながわ・目黒こどもスクールのウェブサイトでご確認ください。

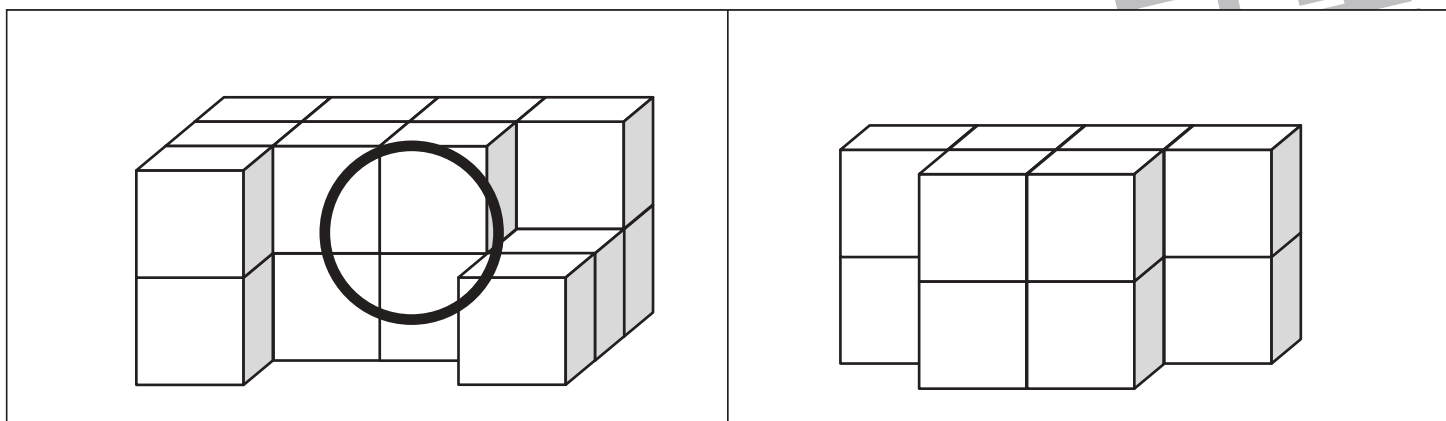
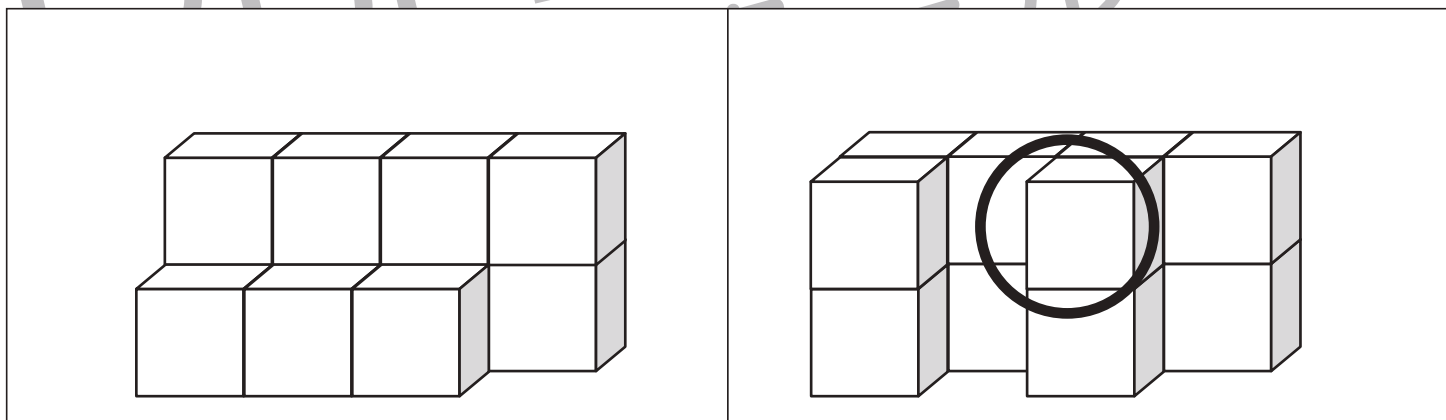
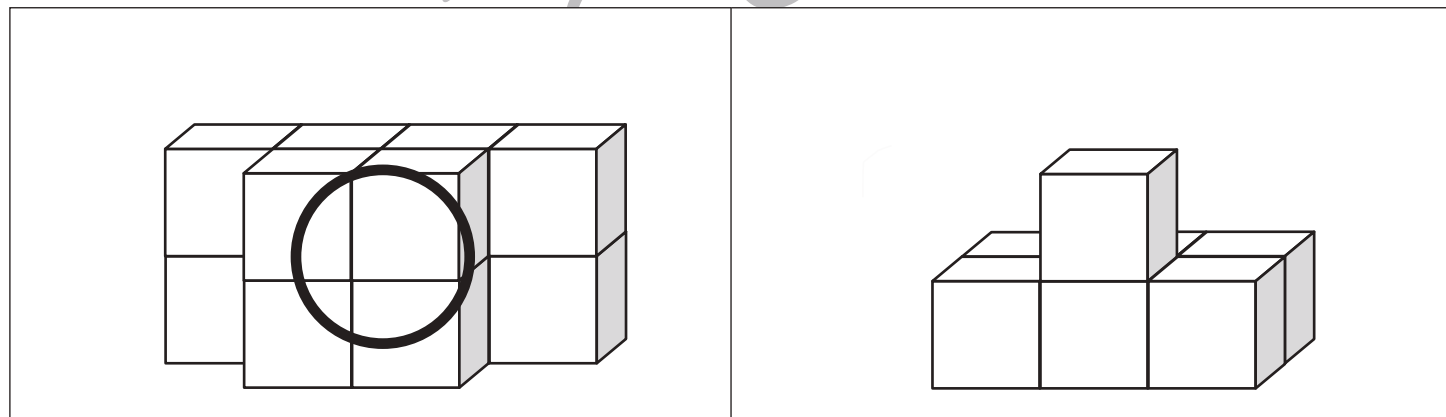
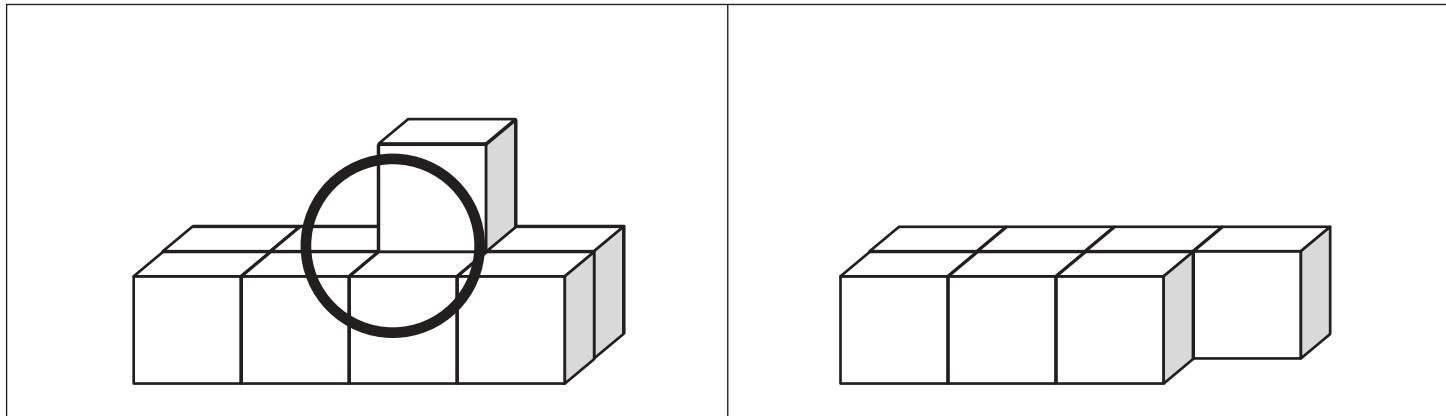


おうちで、よろう。年中児版

Study at home. 小学校受験の家庭学習教材

数量：多少 1

左と右の積み木の数くらべます。数が多い方の積み木に○をつけます。



※1. このプリントは、しながわ・目黒こどもスクールのウェブサイトでダウンロードができます。無断複写・引用はご遠慮ください。
※2. このプリントを活用したオンライン授業のスケジュールは、しながわ・目黒こどもスクールのウェブサイトでご確認ください。

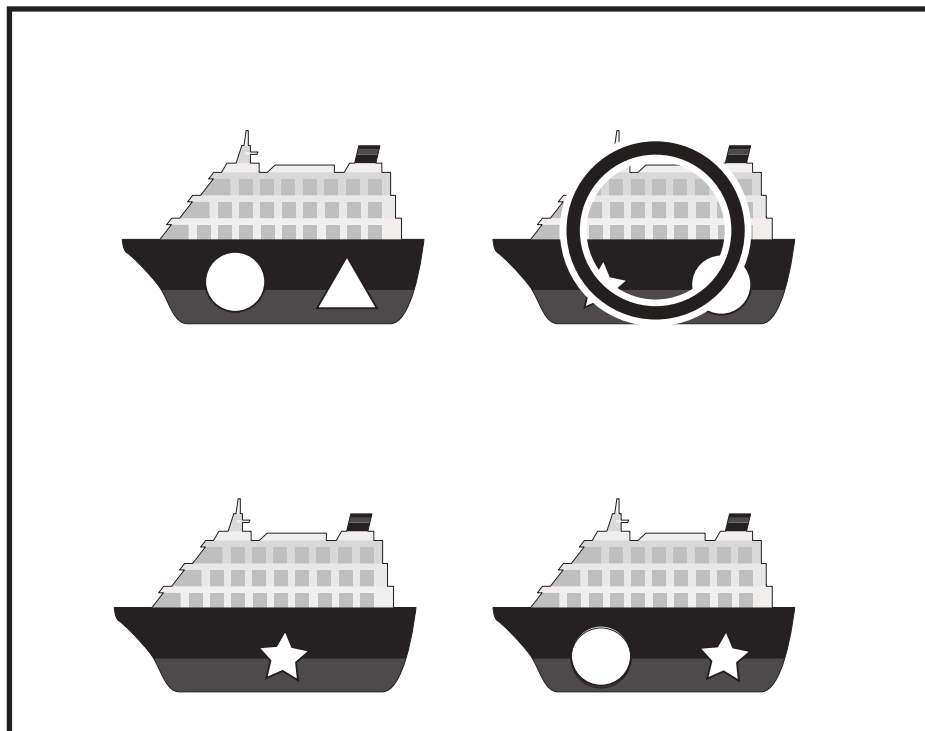
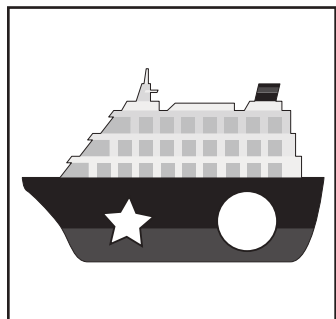
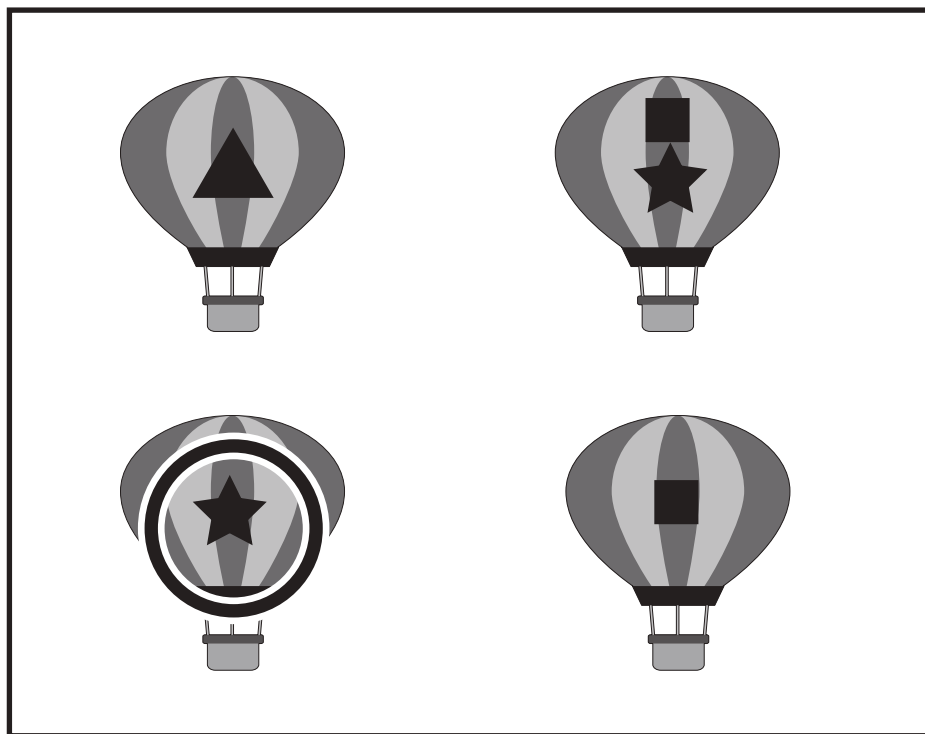



おうちで、よろう。 年中児版

Study at home. 小学校受験の家庭学習教材

図形：同図形 3

左のお手本と同じ絵を右の四角の中から見つけて○をつけます。



ICT 教育の小学校受験

※1. このプリントは、しながわ・目黒こどもスクールのウェブサイトでダウンロードができます。無断複写・引用はご遠慮ください。
※2. このプリントを活用したオンライン授業のスケジュールは、しながわ・目黒こどもスクールのウェブサイトでご確認ください。





おうちで、やろう。 年中児版 推理：まちがいさがし 11

Study at home. 小学校受験の家庭学習教材

上下の絵を見比べて、変わっているところを5つ探します。見つけたら、下の絵の変わっている部分に○をつけます。



ICT教育の小学校受験

※1. このプリントは、しながわ・目黒こどもスクールのウェブサイトでダウンロードができます。無断複写・引用はご遠慮ください。
※2. このプリントを活用したオンライン授業のスケジュールは、しながわ・目黒こどもスクールのウェブサイトでご確認ください。









おうちで、やろう。 年中児版

Study at home. 小学校受験の家庭学習教材

言語：しりとり 1

それぞれ左から右へしりとりをしていきます。絵が2つある場所はしりとりでつながる絵に○をつけます。



※1. このプリントは、しながわ・目黒こどもスクールのウェブサイトからダウンロードできます。無断複写・引用はご遠慮ください。
※2. このプリントを活用したオンライン授業のスケジュールは、しながわ・目黒こどもスクールのウェブサイトでご確認ください。



同じ季節の花どうしを、線で結びます。

※1. このプリントは、しながわ・目黒こどもスクールのウェブサイトでダウンロードができます。無断複写・引用はご遠慮ください。
 ※2. このプリントを活用したオンライン授業のスケジュールは、しながわ・目黒こどもスクールのウェブサイトでご確認ください。