



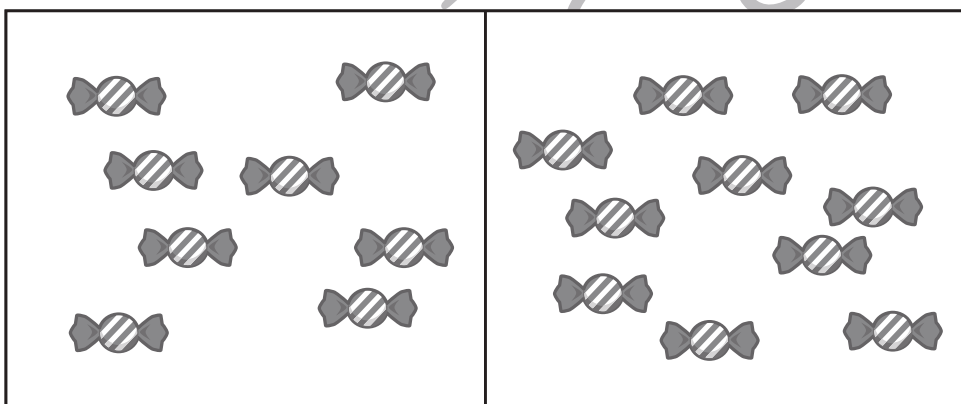



おうちで、やろう。 年中児版

Study at home. 小学校受験の家庭学習教材

数量：同数 2

四角の中の絵が同じ数のときは○を、違う数のときは×を、一番右の四角にかきます。



※1. このプリントは、しながわ・目黒こどもスクールのウェブサイトでダウンロードができます。無断複写・引用はご遠慮ください。
※2. このプリントを活用したオンライン授業のスケジュールは、しながわ・目黒こどもスクールのウェブサイトでご確認ください。




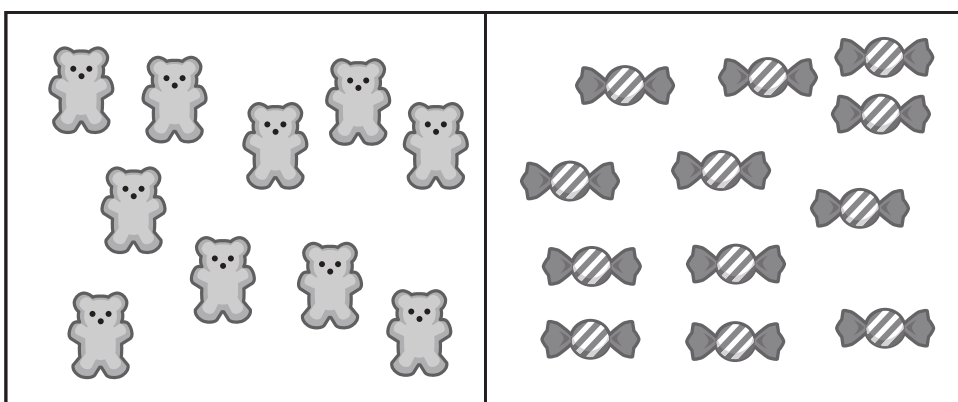





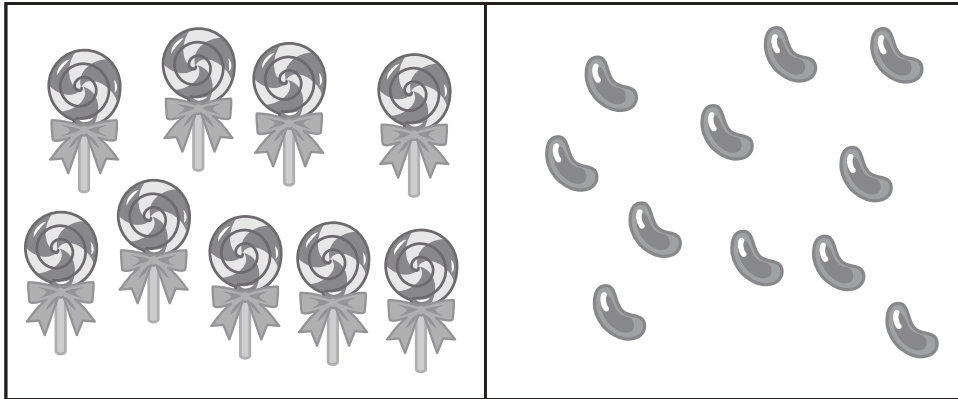


おうちで、やろう。 年中児版

Study at home. 小学校受験の家庭学習教材

数量：同数 3

左と真ん中の四角の中の絵が同じ数のときは○を、違う数のときは×を、一番右の四角にかきます。



※1. このプリントは、しながわ・目黒こどもスクールのウェブサイトでダウンロードができます。無断複写・引用はご遠慮ください。
 ※2. このプリントを活用したオンライン授業のスケジュールは、しながわ・目黒こどもスクールのウェブサイトでご確認ください。


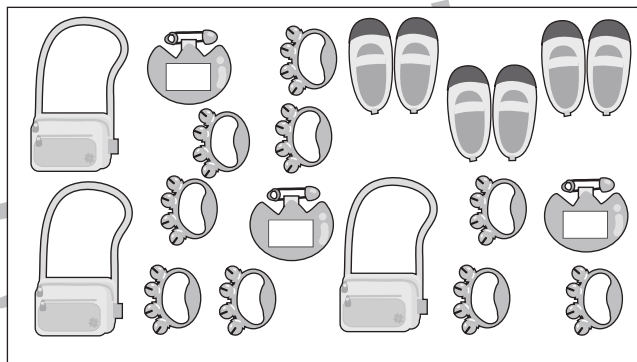

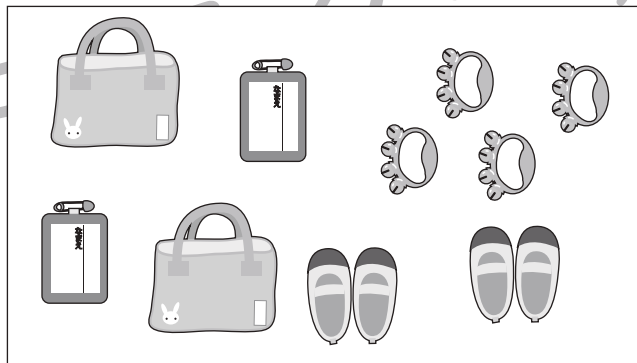

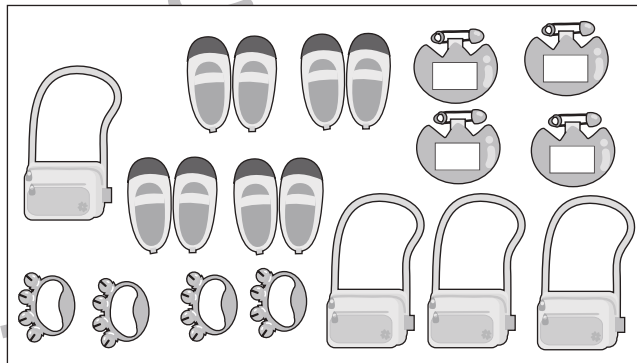




おうちで、やろう。 年中児版

Study at home. 小学校受験の家庭学習教材

数量：分割 6

左の四角の中の靴や道具が一人分の荷物です。真ん中の四角の中には何人分の荷物がありますか。その数だけ、右の四角の中に○をかきます。



※1. このプリントは、しながわ・目黒こどもスクールのウェブサイトでダウンロードができます。無断複写・引用はご遠慮ください。
※2. このプリントを活用したオンライン授業のスケジュールは、しながわ・目黒こどもスクールのウェブサイトでご確認ください。


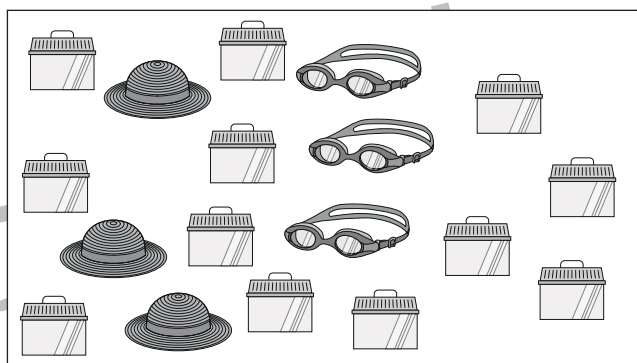


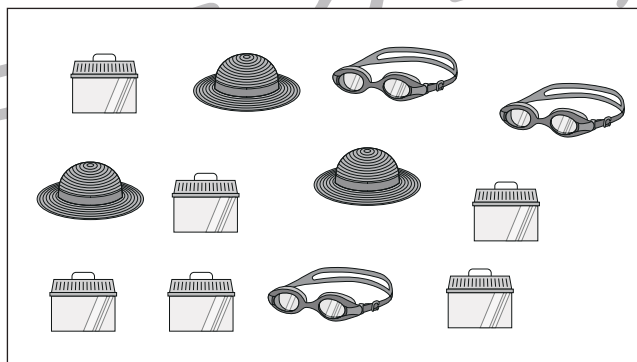


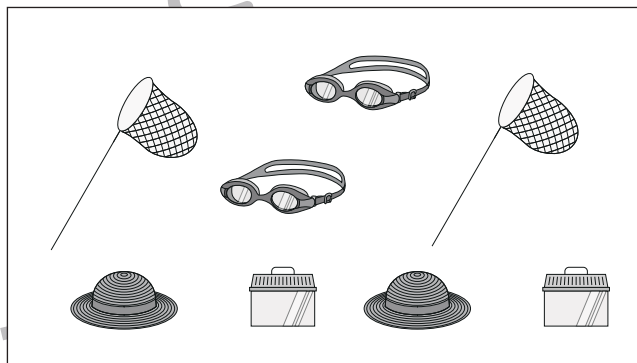

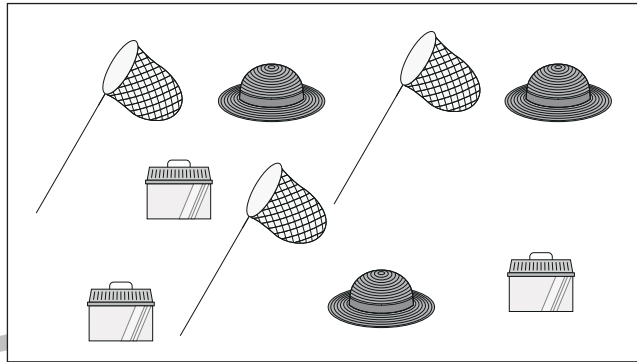
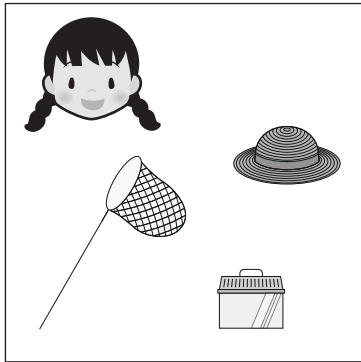


おうちで、やろう。 年中児版

Study at home. 小学校受験の家庭学習教材

数量：分割 7

左の四角の中の鞆や道具が一人分の荷物です。真ん中の四角の中には何人分の荷物がありますか。その数だけ、右の四角の中に○をかきます。



※1. このプリントは、しながわ・目黒こどもスクールのウェブサイトでダウンロードができます。無断複写・引用はご遠慮ください。
※2. このプリントを活用したオンライン授業のスケジュールは、しながわ・目黒こどもスクールのウェブサイトでご確認ください。

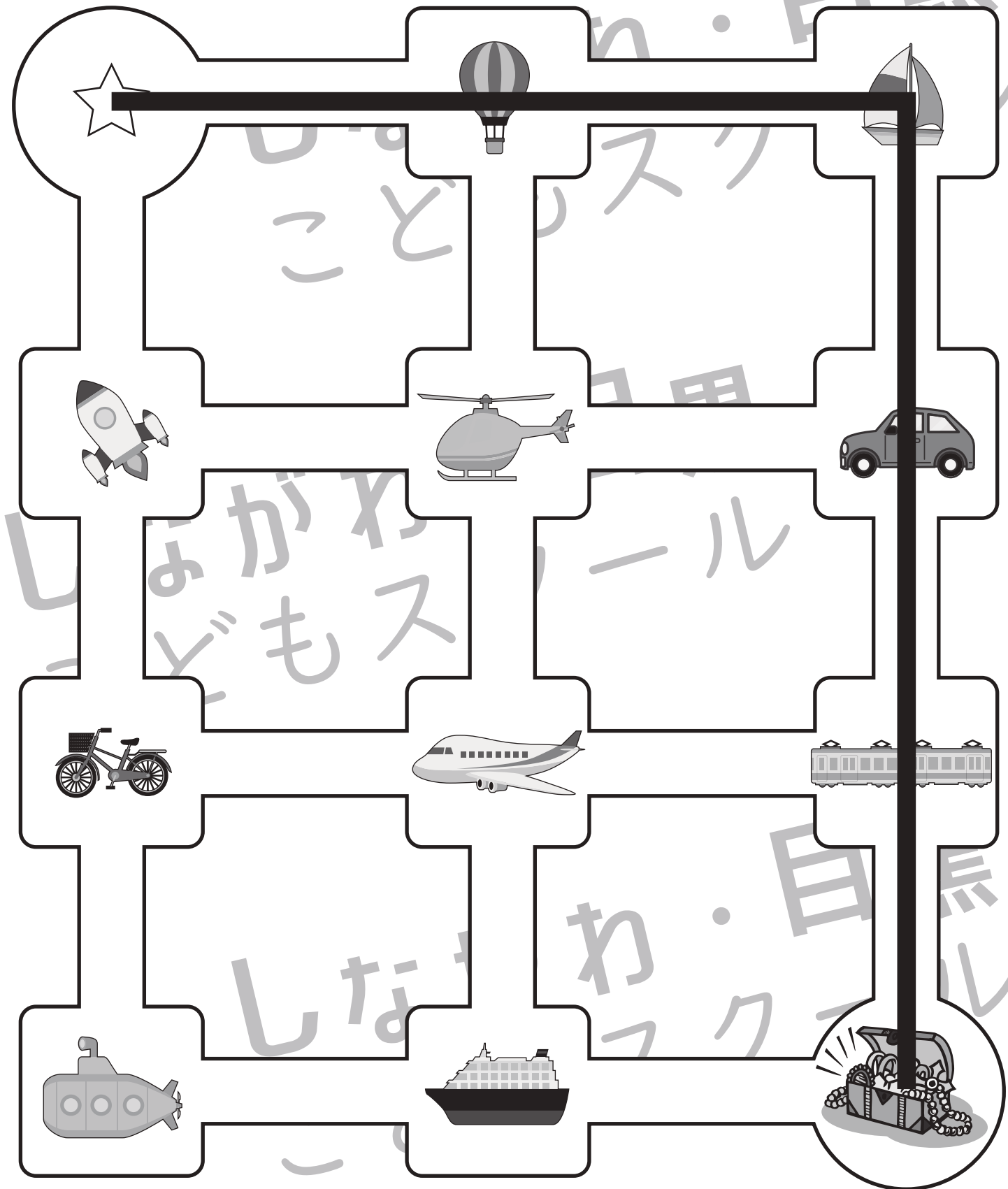


おうちで、やろう。 年中児版

Study at home. 小学校受験の家庭学習教材

推理：条件迷路5

左上の☆から右下の宝箱までの3つの音のものを全て通って進みます。まずは指で進む道をなぞってから、線をひきましょう。



※1. このプリントは、しながわ・目黒こどもスクールのウェブサイトでダウンロードができます。無断複写・引用はご遠慮ください。

※2. このプリントを活用したオンライン授業のスケジュールは、しながわ・目黒こどもスクールのウェブサイトでご確認ください。




おうちで、やろう。 年中児版

Study at home. 小学校受験の家庭学習教材

推理：条件迷路 6

左上の☆から右下の宝箱までの3つの音のものを全て通って進みます。まずは指で進む道をなぞってから、線をひきましょう。



※1. このプリントは、しながわ・目黒こどもスクールのウェブサイトからダウンロードできます。無断複写・引用はご遠慮ください。
 ※2. このプリントを活用したオンライン授業のスケジュールは、しながわ・目黒こどもスクールのウェブサイトでご確認ください。