


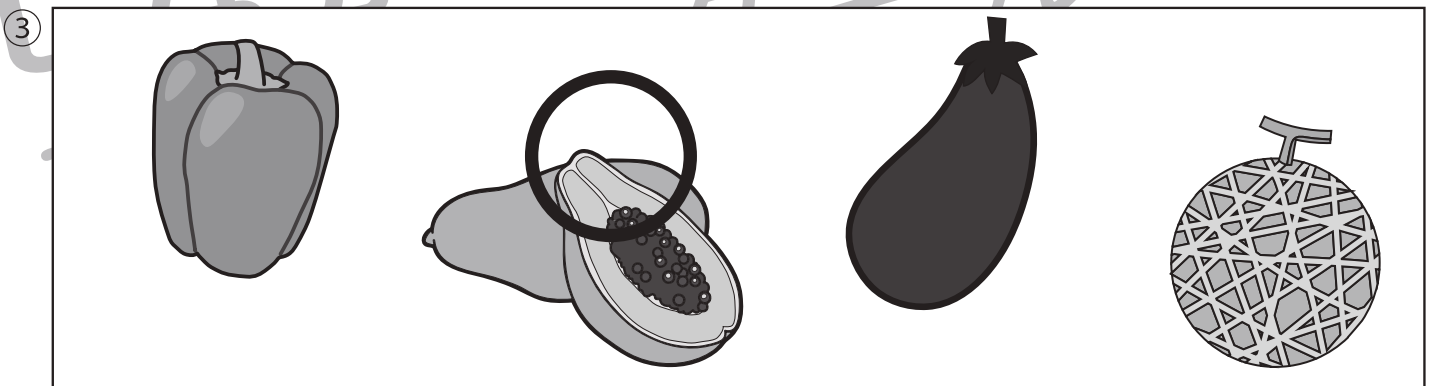




おうちで、やろう。 年中児版

Study at home. 小学校受験の家庭学習教材

推理：なぜなぜ 13

- ①～④のなぜなぜをとりて、答えに○をつけましょう。
- ①ばい金を やっつける けんは どんなけんでしょう。
 - ②おにが いつも にぎっているものは なんでしょう。
 - ③おとうさんが きらいな たべものは なんでしょう。
 - ④まっすぐあるいても まわってしまう ひとは だれでしょう。



※1. このプリントは、しながわ・目黒こどもスクールのウェブサイトダウンロードができます。無断複写・引用はご遠慮ください。
 ※2. このプリントを活用したオンライン授業のスケジュールは、しながわ・目黒こどもスクールのウェブサイトでご確認ください。

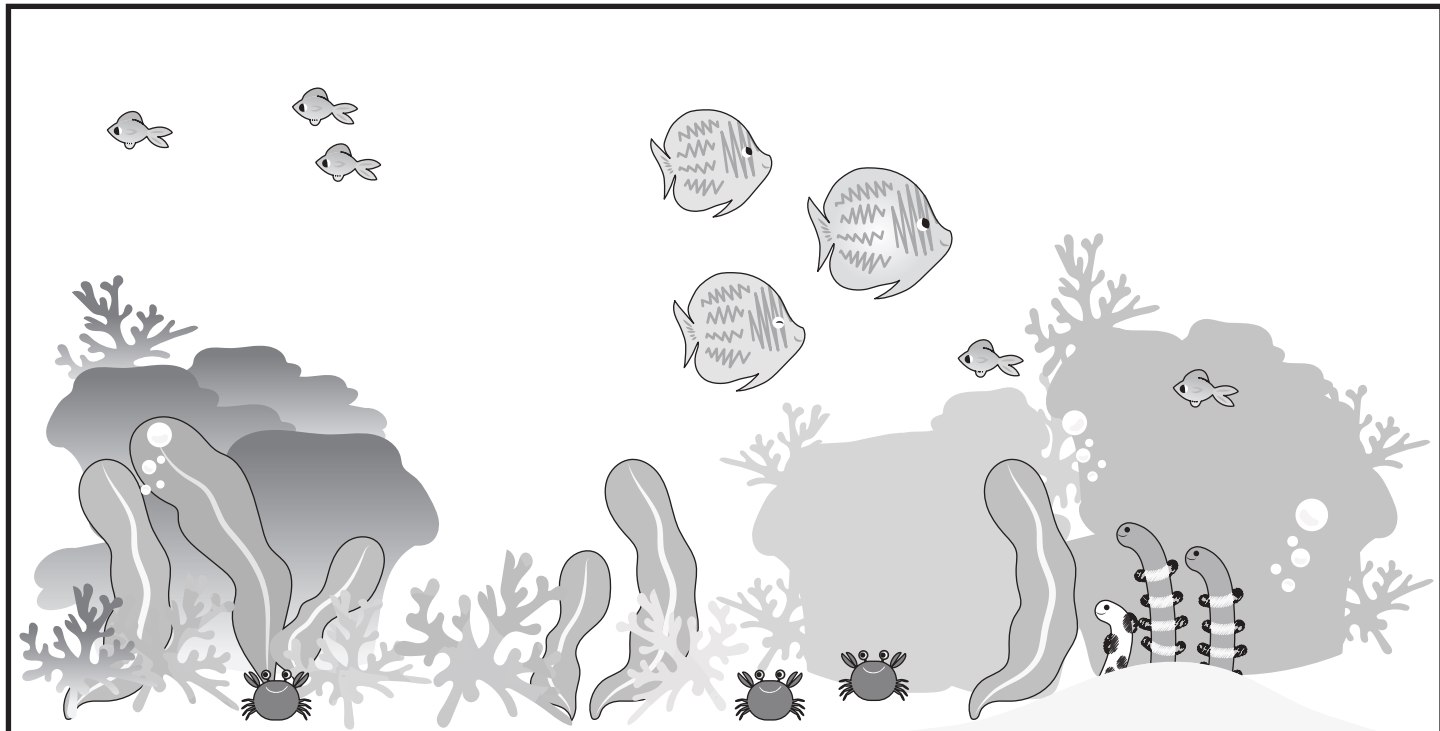






















おうちで、やろう。 年中児版

Study at home. 小学校受験の家庭学習教材

図形：計数 1

上の太い四角の中に下の絵がそれぞれいくつあるかをかぞえて、下のマスの中にその数だけ〇をかきます。



※1. このプリントは、しながわ・目黒こどもスクールのウェブサイトからダウンロードできます。無断複写・引用はご遠慮ください。

※2. このプリントを活用したオンライン授業のスケジュールは、しながわ・目黒こどもスクールのウェブサイトでご確認ください。







おうちで、やろう。 年中児版

Study at home. 小学校受験の家庭学習教材

数量：差 1

太い四角の中がお手本です。右の四角の中の絵をお手本のように組み合わせた時、下の四角の中の絵はいくつ足りないですか。その数だけ下の四角の絵の横に○をかきます。



※1. このプリントは、しながわ・目黒こどもスクールのウェブサイトでダウンロードができます。無断複写・引用はご遠慮ください。

※2. このプリントを活用したオンライン授業のスケジュールは、しながわ・目黒こどもスクールのウェブサイトでご確認ください。



おうちで、やろう。 年中児版

Study at home. 小学校受験の家庭学習教材

図形：移動5

○で囲んである年からはじめて、上の四角の中に並んだ矢印の方向へ点をひとつずつ移動していきます。最後に着く点を考えて、その点を○で囲みます。通る点は線でもつないでも構いません。矢印は左から順番に見ていきます。

↓ → ↑ ↑ → ↑ ←

↑ ↑ → → ↑ ← ↑

↓ → → ↑ → ↑ ←

↘ → ↑ ← ↖ ← ↓



※1. このプリントは、しながわ・目黒こどもスクールのウェブサイトでダウンロードができます。無断複写・引用はご遠慮ください。
 ※2. このプリントを活用したオンライン授業のスケジュールは、しながわ・目黒こどもスクールのウェブサイトでご確認ください。



おうちで、やろう。 年中児版 推理：まちがいさがし 13

Study at home. 小学校受験の家庭学習教材

上下の絵を見比べて、変わっているところを5つ探します。見つけたら、下の絵の変わっている部分に丸をつけます。



○は1つでも
2つでも可です。

ICT 教育の小学校受験

※1. このプリントは、しながわ・目黒こどもスクールのウェブサイトでダウンロードができます。無断複写・引用はご遠慮ください。
 ※2. このプリントを活用したオンライン授業のスケジュールは、しながわ・目黒こどもスクールのウェブサイトでご確認ください。

