








おうちで、やろう。

Study at home. 小学校受験の家庭学習教材

推理：歯車1

歯車がいくつか並んでいます。その中の1つが矢印の方向に進んだ時、四角の近くにある歯車は右回り、左回りどちらに動きますか。動く向きに矢印をかきます。



※1. このプリントは、しながわ・目黒こどもスクールのウェブサイトからダウンロードできます。無断複写・引用はご遠慮ください。
※2. このプリントを活用したオンライン授業のスケジュールは、しながわ・目黒こどもスクールのウェブサイトでご確認ください。






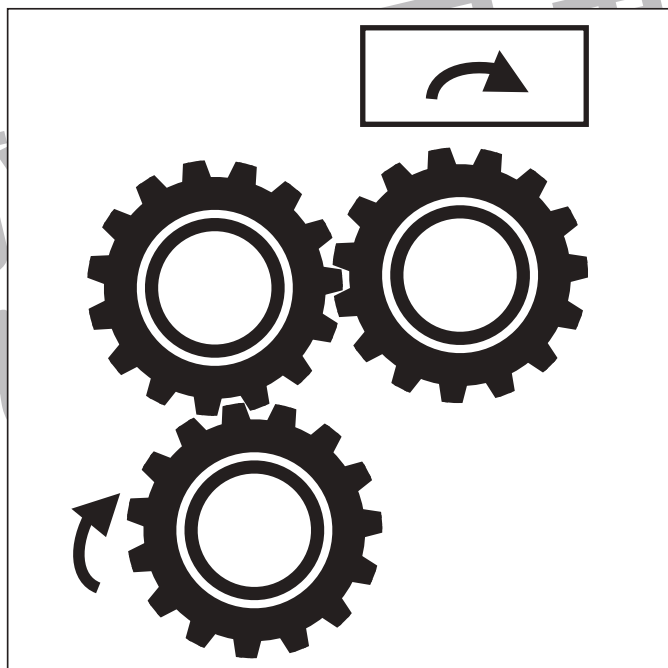



おうちで、やろう。

Study at home. 小学校受験の家庭学習教材

推理：歯車2

歯車がいくつか並んでいます。その中の1つが矢印の方向に進んだ時、四角の近くにある歯車は右回り、左回りどちらに動きますか。動く向きに矢印をかきます。



※1. このプリントは、しながわ・目黒こどもスクールのウェブサイトダウンロードができます。無断複写・引用はご遠慮ください。

※2. このプリントを活用したオンライン授業のスケジュールは、しながわ・目黒こどもスクールのウェブサイトでご確認ください。










おうちで、やろう。

Study at home. 小学校受験の家庭学習教材

推理：歯車3

歯車がいくつか並んでいます。その中の1つが矢印の方向に進んだ時、四角の近くにある歯車は右回り、左回りどちらに動きますか。動く向きに矢印をかきます。



※1. このプリントは、しながわ・目黒こどもスクールのウェブサイトからダウンロードできます。無断複写・引用はご遠慮ください。

※2. このプリントを活用したオンライン授業のスケジュールは、しながわ・目黒こどもスクールのウェブサイトでご確認ください。



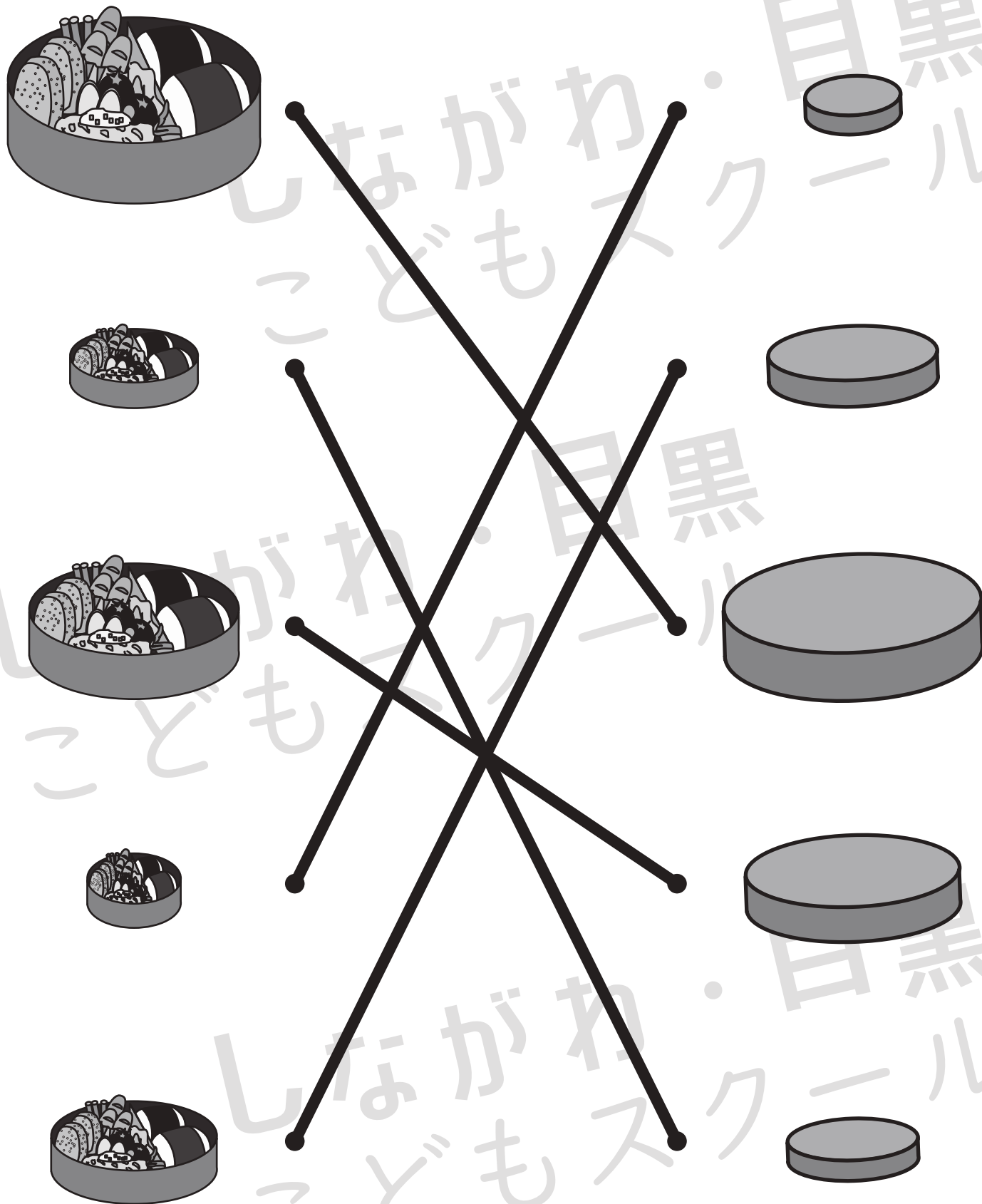


おうちで、やろう。

Study at home. 小学校受験の家庭学習教材

推理：順位付け1

左のお弁当箱の大きさにぴったり合う蓋を右から選び線で結びましょう。



※1. このプリントは、しながわ・目黒こどもスクールのウェブサイトでダウンロードができます。無断複写・引用はご遠慮ください。
※2. このプリントを活用したオンライン授業のスケジュールは、しながわ・目黒こどもスクールのウェブサイトでご確認ください。



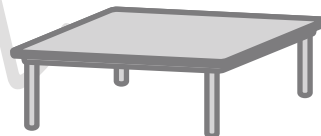




おうちで、やろう。

Study at home. 小学校受験の家庭学習教材

推理：順位付け2

家族そろって食事をします。どの家族がどのテーブルに座ればいいかを考えて線で結びましょう。



※1. このプリントは、しながわ・目黒こどもスクールのウェブサイトでダウンロードができます。無断複写・引用はご遠慮ください。
※2. このプリントを活用したオンライン授業のスケジュールは、しながわ・目黒こどもスクールのウェブサイトでご確認ください。



おうちで、やろう。

Study at home. 小学校受験の家庭学習教材

推理：順位付け3

左のケーキを右のお皿にのせます。どのお皿にのせたらよいか考えて点と点を線で結びます。



※1. このプリントは、しながわ・目黒こどもスクールのウェブサイトでダウンロードができます。無断複写・引用はご遠慮ください。
 ※2. このプリントを活用したオンライン授業のスケジュールは、しながわ・目黒こどもスクールのウェブサイトでご確認ください。