



おうちで、やろう。


Study at home. 小学校受験の家庭学習教材

推理：じゃんけん 18

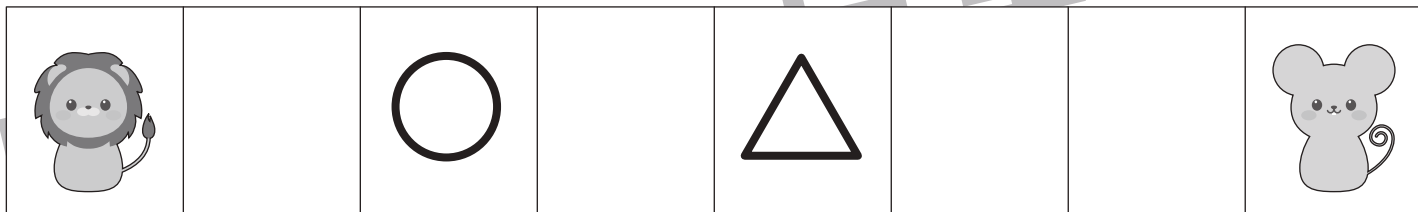
ライオンとネズミがじゃんけんゲームをします。上の太い四角が約束です。じゃんけんを2回してじゃんけんで勝つとその手の右にある○の数だけ真ん中に向かって進みます。①～⑤の問題を聞いて、ライオンが着いた場所に○、ネズミがついた場所に△をつけます。2回とも負けたときは進めないで印はつけません。 ※問題は1度しか読みません。



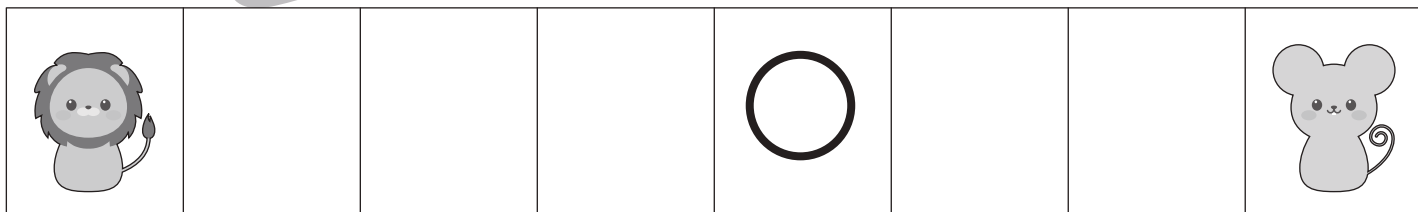
① 1回目はライオンがグーで勝ちました。2回目はネズミがチョキで勝ちました。




② 1回目はライオンがチョキで勝ちました。2回目はネズミがパーで勝ちました。



③ 1回目はライオンがパーで勝ちました。2回目はライオンがグーで勝ちました。



④ 1回目はネズミがチョキで勝ちました。2回目はネズミがパーで勝ちました。



※1. このプリントは、しながわ・目黒こどもスクールのウェブサイトでダウンロードができます。無断複写・引用はご遠慮ください。
※2. このプリントを活用したオンライン授業のスケジュールは、しながわ・目黒こどもスクールのウェブサイトでご確認ください。



おうちで、やろう。

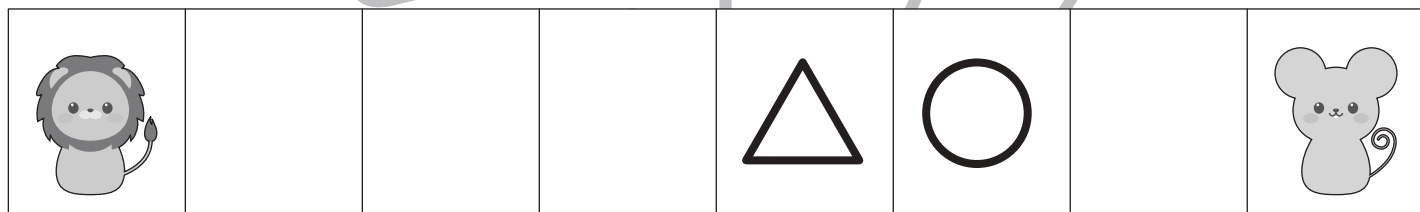
Study at home. 小学校受験の家庭学習教材

推理：じゃんけん 19

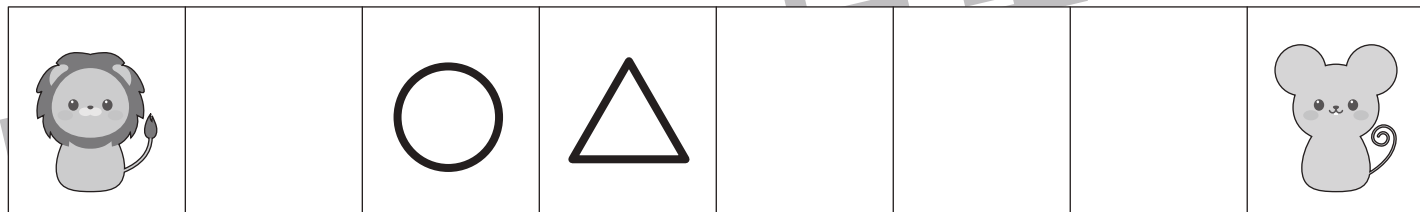
ライオンとネズミがじゃんけんゲームをします。上の太い四角が約束です。じゃんけんを3回してじゃんけんで勝つとその手の右にある○の数だけ真ん中に向かって進みます。①～⑤の問題を聞いて、ライオンが着いた場所に○、ネズミがついた場所に△をつけます。3回とも負けたときは進めないで印はつけません。 ※問題は1度しか読みません。



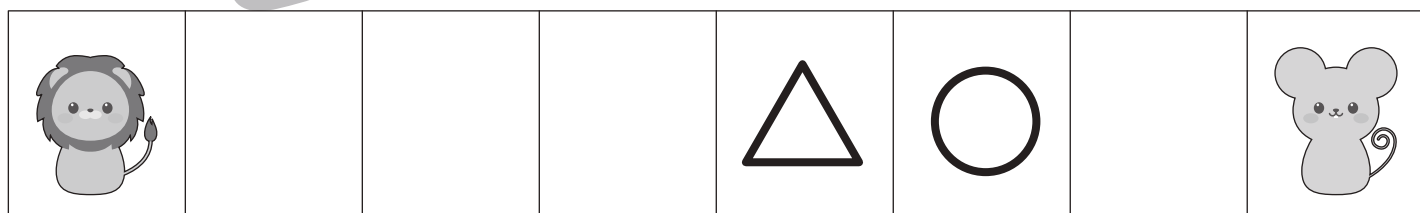
① 1回目はライオンがチョキで勝ちました。2回目はネズミがチョキで勝ちました。3回目はライオンがグーで勝ちました。




② 1回目はネズミがパーで勝ちました。2回目はネズミがチョキで勝ちました。3回目はライオンがグーで勝ちました。



③ 1回目はライオンがグーで勝ちました。2回目はネズミがチョキで勝ちました。3回目はライオンがチョキで勝ちました。



④ 1回目はネズミがチョキで勝ちました。2回目はネズミがパーで勝ちました。3回目はネズミがパーで勝ちました。



※1. このプリントは、しながわ・目黒こどもスクールのウェブサイトでダウンロードができます。無断複写・引用はご遠慮ください。
 ※2. このプリントを活用したオンライン授業のスケジュールは、しながわ・目黒こどもスクールのウェブサイトでご確認ください。




おうちで、やろう。

Study at home. 小学校受験の家庭学習教材

推理：回転6

上の観覧車が矢印の方向に回ったとき、黒マルの場所にどの動物が入るか考えて右の四角から選び○をつけます。



目黒
スクール

--	--	--	--

--	--	--	--

※1. このプリントは、しながわ・目黒こどもスクールのウェブサイトでダウンロードができます。無断複写・引用はご遠慮ください。
 ※2. このプリントを活用したオンライン授業のスケジュールは、しながわ・目黒こどもスクールのウェブサイトでご確認ください。




おうちで、やろう。

Study at home. 小学校受験の家庭学習教材

推理：回転7

上の観覧車が矢印の方向に回ったとき、黒マルの場所にどの動物が入るか考えて下の四角から選び○をつけます。



目黒
ール

※1. このプリントは、しながわ・目黒こどもスクールのウェブサイトからダウンロードできます。無断複写・引用はご遠慮ください。
 ※2. このプリントを活用したオンライン授業のスケジュールは、しながわ・目黒こどもスクールのウェブサイトでご確認ください。




おうちで、やろう。

Study at home. 小学校受験の家庭学習教材

推理：回転8

上の観覧車が矢印の方向に回ったとき、黒マルの場所にどの動物が入るか考えて下の四角から選び○をつけます。



目黒
ール

※1. このプリントは、しながわ・目黒こどもスクールのウェブサイトからダウンロードできます。無断複写・引用はご遠慮ください。
 ※2. このプリントを活用したオンライン授業のスケジュールは、しながわ・目黒こどもスクールのウェブサイトでご確認ください。








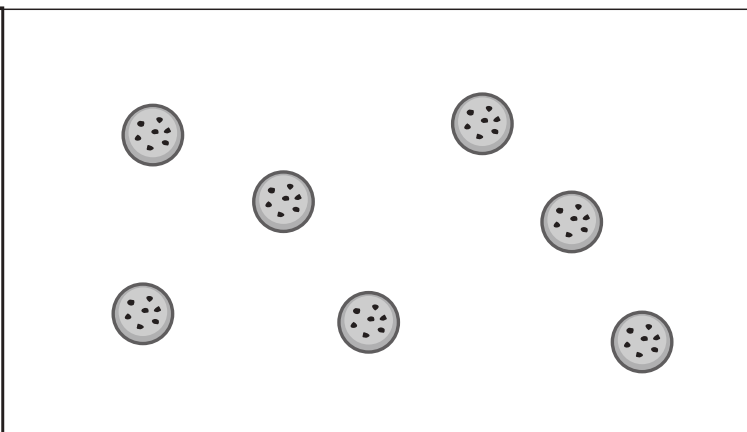


おうちで、やろう。

Study at home. 小学校受験の家庭学習教材

数量：余る数4

左の四角の中の袋がお手本です。真ん中の大きな四角の中のクッキーでお手本の袋をできるだけ作ります。
このとき、余るクッキーはいくつですか。その数だけ一番右の四角に○をかきます。



※1. このプリントは、しながわ・目黒こどもスクールのウェブサイトでダウンロードができます。無断複写・引用はご遠慮ください。
※2. このプリントを活用したオンライン授業のスケジュールは、しながわ・目黒こどもスクールのウェブサイトでご確認ください。











おうちで、やろう。

Study at home. 小学校受験の家庭学習教材

数量：余る数5

左の四角の中の袋がお手本です。真ん中の大きな四角の中のお菓子でお手本の袋をできるだけ作ります。
このとき、余るお菓子はそれぞれいくつですか。その数だけ一番右の四角に○をかきます。余らない場合は何も書きません。

		 <hr/>  ○ × 1
		 <hr/>  ○ × 1
		 ○ × 1 <hr/>  ○ × 1
		 ○ × 2 <hr/>  ○ × 1

※1. このプリントは、しながわ・目黒こどもスクールのウェブサイトでダウンロードができます。無断複写・引用はご遠慮ください。

※2. このプリントを活用したオンライン授業のスケジュールは、しながわ・目黒こどもスクールのウェブサイトでご確認ください。











おうちで、やろう。

Study at home. 小学校受験の家庭学習教材

数量：余る数6

左の四角の中の袋がお手本です。真ん中の大きな四角の中の果物でお手本の袋をできるだけ作ります。
このとき、余る果物はそれぞれいくつですか。その数だけ一番右の四角に○をかきます。余らない場合は何も書きません。

		 ○ × 1 <hr/>  ○ × 1
		 ○ × 1 <hr/>  ○ × 2
		 ○ × 0 <hr/>  ○ × 1
		 ○ × 2 <hr/>  ○ × 1

※1. このプリントは、しながわ・目黒こどもスクールのウェブサイトでダウンロードができます。無断複写・引用はご遠慮ください。

※2. このプリントを活用したオンライン授業のスケジュールは、しながわ・目黒こどもスクールのウェブサイトでご確認ください。