



おうちで、やろう。

Study at home. 小学校受験の家庭学習教材

図形：移動 32

左の太い四角がお手本です。右の真ん中のマスの中には色々な記号がありますね。このマスを一段ずつ右と左どちらかに動かすと太い四角の中の並び方がお手本と同じになります。右と左のどちらに何マス動かせばよいかを考えて、動かすほうの矢印の先にある四角のなかに動かすマスの数だけ○をかきます。

<div style="border: 2px solid black; padding: 5px;">△</div> <div style="border: 2px solid black; padding: 5px;">○</div> <div style="border: 2px solid black; padding: 5px;">△</div>	○	←	◎	☆	○	△	□	→	
		←	△	○	◎	□	☆	→	○
		←	△	◎	□	☆	○	→	○ ○

<div style="border: 2px solid black; padding: 5px;">☆</div> <div style="border: 2px solid black; padding: 5px;">◎</div> <div style="border: 2px solid black; padding: 5px;">△</div>		←	☆	△	◇	○	▽	→	○
	○	←	△	◇	◎	▽	☆	→	
	○ ○ ○	←	▽	◎	○	☆	△	→	

<div style="border: 2px solid black; padding: 5px;">★</div> <div style="border: 2px solid black; padding: 5px;">◎</div> <div style="border: 2px solid black; padding: 5px;">△</div> <div style="border: 2px solid black; padding: 5px;">☆</div>	○ ○	←	▷	□	☆	◎	★	→	
		←	◎	▷	★	◁	□	→	○ ○
		←	□	◁	☆	▽	◎	→	○
		←	☆	□	△	★	◁	→	○ ○

<div style="border: 2px solid black; padding: 5px;">▷</div> <div style="border: 2px solid black; padding: 5px;">◁</div> <div style="border: 2px solid black; padding: 5px;">◎</div> <div style="border: 2px solid black; padding: 5px;">□</div>		←	▷	□	☆	◎	★	→	○ ○ ○
		←	◎	▷	☆	◁	□	→	
	○	←	□	◁	☆	▽	◎	→	
		←	★	□	△	☆	◁	→	○ ○

※1. このプリントは、しながわ・目黒こどもスクールのウェブサイトでダウンロードができます。無断複写・引用はご遠慮ください。
※2. このプリントを活用したオンライン授業のスケジュールは、しながわ・目黒こどもスクールのウェブサイトでご確認ください。



おうちで、やろう。

Study at home. 小学校受験の家庭学習教材

図形：重なり 16

下の①～④の四角の中には、いろいろな形がありますね。お話をよく聞き、その場所に色を塗りましょう。

- ①丸と三角が重なっている場所を塗ります。
- ②長四角と丸が重なっている場所を塗ります。
- ③長四角の中で他の形が重なっていない場所塗ります。
- ④三角と三角が重なっているところをすべて塗ります。

<p>①</p>	<p>②</p>
<p>③</p>	<p>④</p>

※1. このプリントは、しながわ・目黒こどもスクールのウェブサイトでダウンロードができます。無断複写・引用はご遠慮ください。

※2. このプリントを活用したオンライン授業のスケジュールは、しながわ・目黒こどもスクールのウェブサイトでご確認ください。



おうちで、やろう。

Study at home. 小学校受験の家庭学習教材

図形：重ね回転7

左の四角の中は透明な板です。この2枚の板を角にある白と黒の点が同じ場所になるように重ねたときの見え方を右の四角の中から見つけて○をつけます。

--	--	--	--	--

--	--	--	--	--

--	--	--	--	--

--	--	--	--	--

--	--	--	--	--

※1. このプリントは、しながわ・目黒こどもスクールのウェブサイトでダウンロードができます。無断複写・引用はご遠慮ください。
 ※2. このプリントを活用したオンライン授業のスケジュールは、しながわ・目黒こどもスクールのウェブサイトでご確認ください。



おうちで、やろう。

Study at home.

推理：ブラックボックス 10

上の太い四角の中が約束です。イルカの絵の箱の中に○や△を入れると2つ増えて出てきます。カモメの絵の箱の中にや○を△入れると1つ減って出てきます。カニの絵の箱の中に白い○を入れると△に、△を入れると○に形が変わって出てきます。このお約束の通りに左にある形を矢印の順番に箱の中に入れていきます。最後に出てきた形をかんがえて右の四角から選び○をつけます。

○ → [イルカ] → ○ ○	○ → [カニ] → △
△ △ △ → [カモメ] → △ △	△ → [カニ] → ○

○ ○	→ [イルカ]	→ [カモメ]	→	○ ○ ○ ○	△ △ △
				○ ○ ○ ○	○ ○ ○ ○

△ △ △ △	→ [カモメ]	→ [カモメ]	→	△ △ △ △	○ ○ ○
				△ △ △ △	○ ○ ○

○ ○ ○	→ [カニ]	→ [カモメ]	→ [イルカ]	→	△ △ △ △	△ △ △ △
					○ ○ ○ ○	○ ○ ○ ○

△ △ △	→ [イルカ]	→ [カニ]	→ [カニ]	→	△ △ △	△ △ △ △
					○ ○ ○ ○	○ ○ ○ ○

※1. このプリントは、しながわ・目黒こどもスクールのウェブサイトでダウンロードができます。無断複写・引用はご遠慮ください。

※2. このプリントを活用したオンライン授業のスケジュールは、しながわ・目黒こどもスクールのウェブサイトでご確認ください。










おうちで、やろう。




Study at home.




推理：ブラックボックス 11




上の太い四角の中が約束です。イルカの絵の箱の中に○や△を入れると1つ増えて出てきます。カモメの絵の箱の中にや○を△入れると2つ減って出てきます。カニの絵の箱の中に白い○を入れると△に、△を入れると○に形が変わって出てきます。このお約束の通りに左にある形を矢印の順番に箱の中に入れていきます。最後に出てきた形をかんがえて右の四角から選び○をつけます。

○ →  → ○ ○	○ →  → △
△ △ △ →  → △	△ →  → ○

△ △ →  →  →  → △ △

○ ○ ○ ○ →  →  →  → △

△ △ △ △ →  →  →  → △ △ △ △

○ ○ ○ ○ →  →  →  → △ △ △

※1. このプリントは、しながわ・目黒こどもスクールのウェブサイトからダウンロードできます。無断複写・引用はご遠慮ください。
 ※2. このプリントを活用したオンライン授業のスケジュールは、しながわ・目黒こどもスクールのウェブサイトでご確認ください。


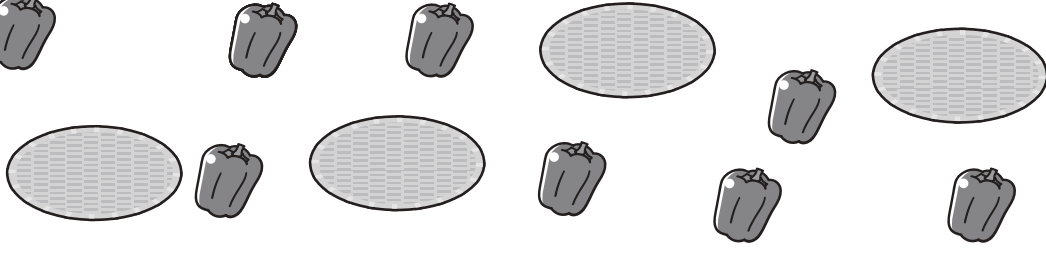



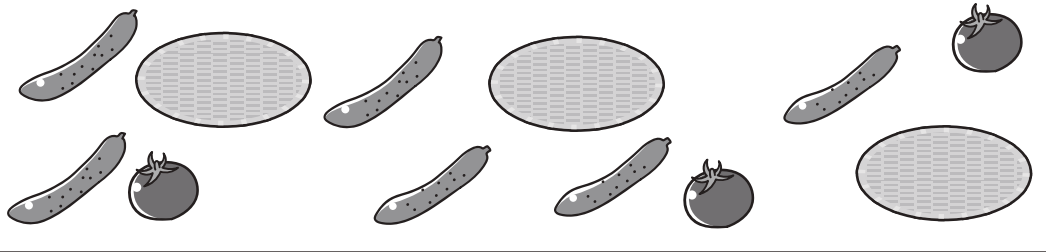
おうちで、やろう。



Study at home. 小学校受験の家庭学習教材

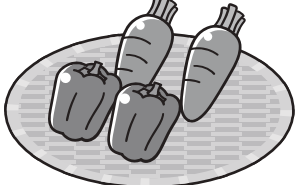
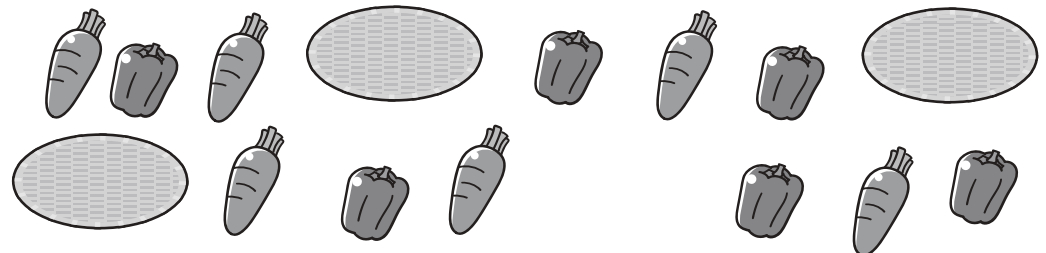
数量：セットの数4

左の四角の中はお手本です。この左の四角の中のセットはいくつできるかを考えて、下の四角にその数だけ〇をかきます。

	
$\bigcirc \times 4$	

	
$\bigcirc \times 3$	

	
$\bigcirc \times 2$	

	
$\bigcirc \times 3$	

※1. このプリントは、しながわ・目黒こどもスクールのウェブサイトからダウンロードできます。無断複写・引用はご遠慮ください。

※2. このプリントを活用したオンライン授業のスケジュールは、しながわ・目黒こどもスクールのウェブサイトでご確認ください。


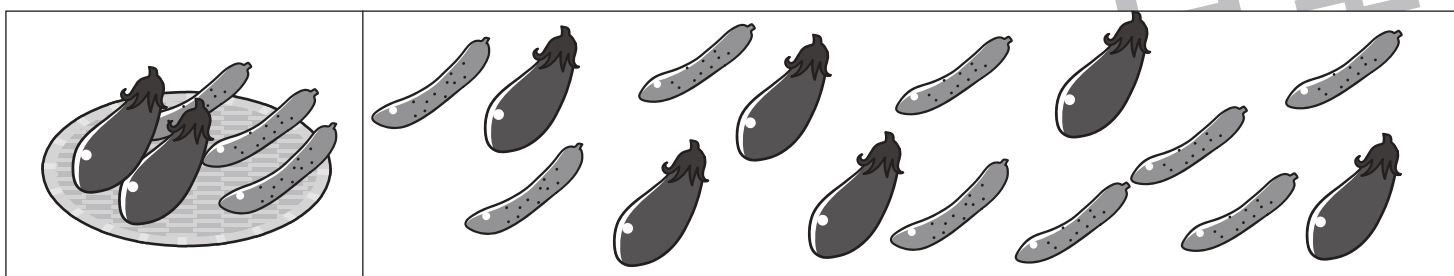
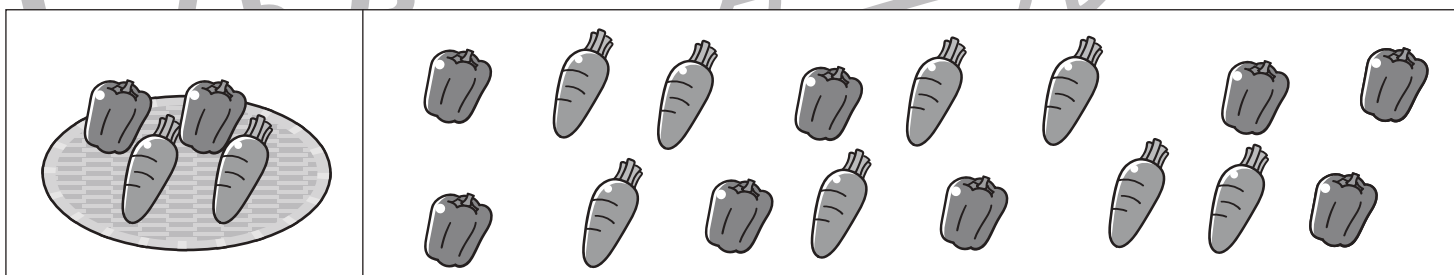
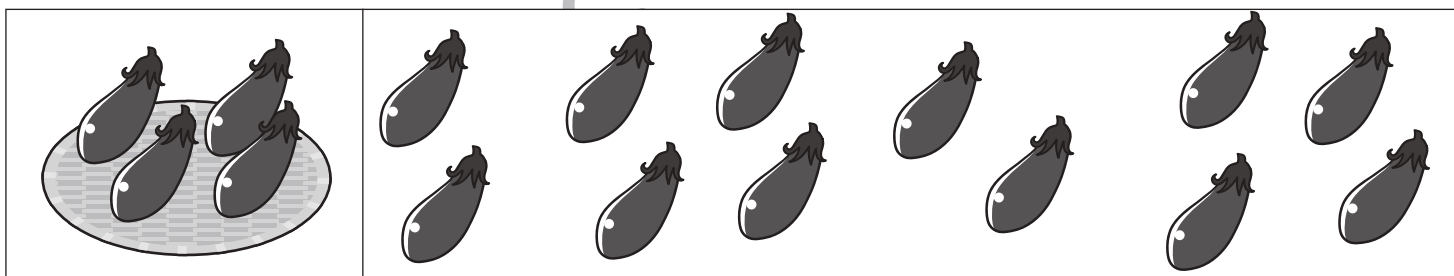
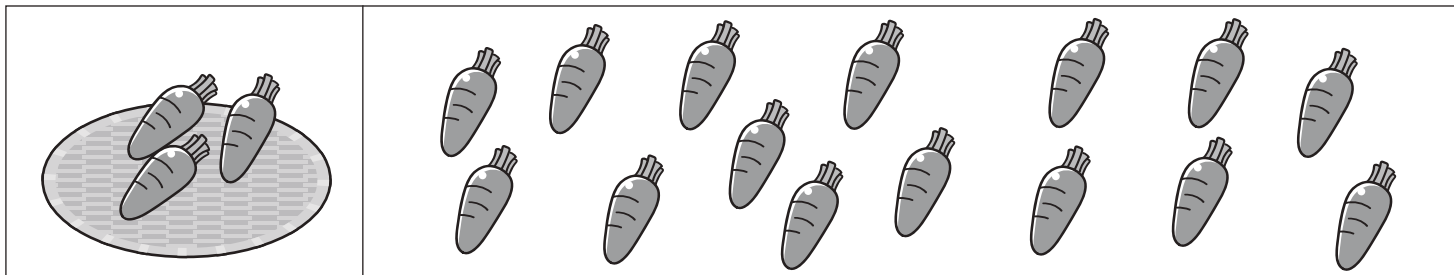


おうちで、やろう。

Study at home. 小学校受験の家庭学習教材

数量：セットの数5

左の四角の中はお手本です。この左の四角の中の野菜のセットはいくつできるかを考えて、下の四角に必要なザルの数だけ〇をかきます。



※1. このプリントは、しながわ・目黒こどもスクールのウェブサイトでダウンロードができます。無断複写・引用はご遠慮ください。
※2. このプリントを活用したオンライン授業のスケジュールは、しながわ・目黒こどもスクールのウェブサイトでご確認ください。

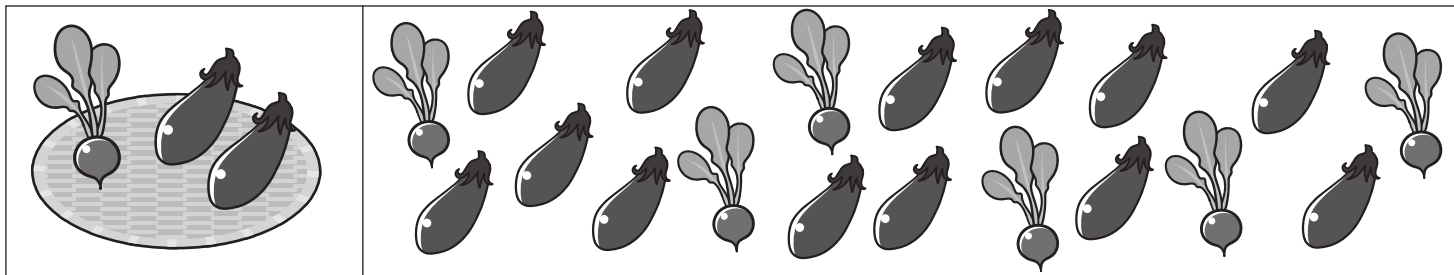


おうちで、やろう。

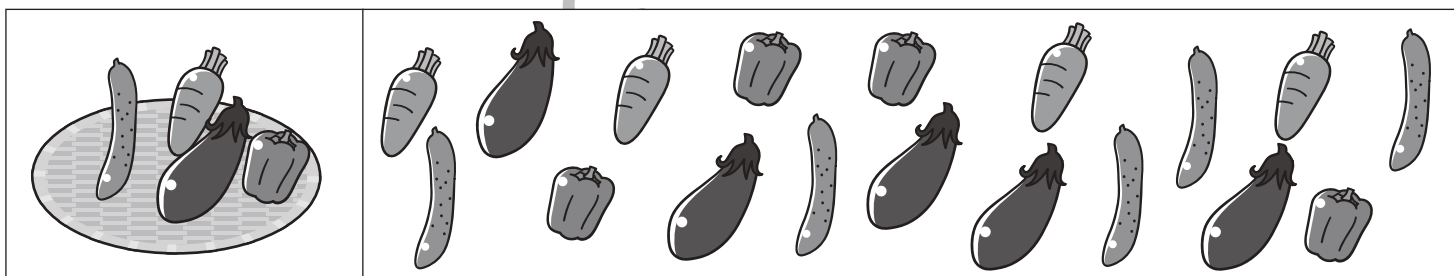
Study at home. 小学校受験の家庭学習教材

数量：セットの数6

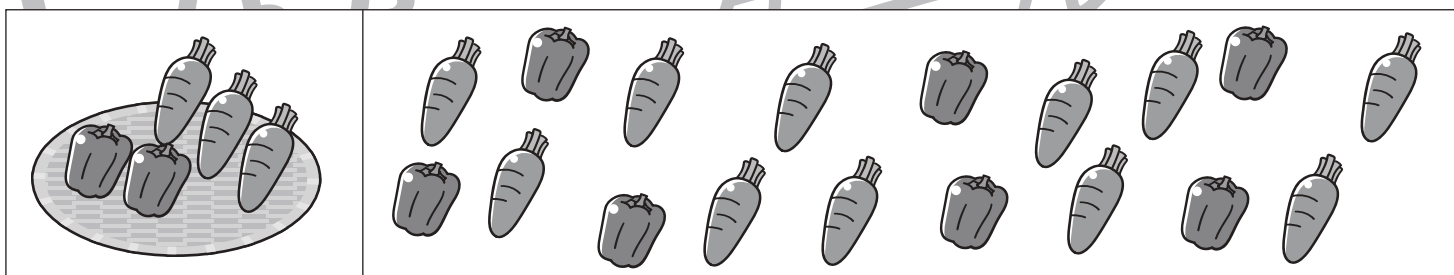
左の四角の中はお手本です。この左の四角の中の野菜のセットはいくつできるかを考えて、下の四角に必要なザルの数だけ〇をかきます。余る野菜もあります。



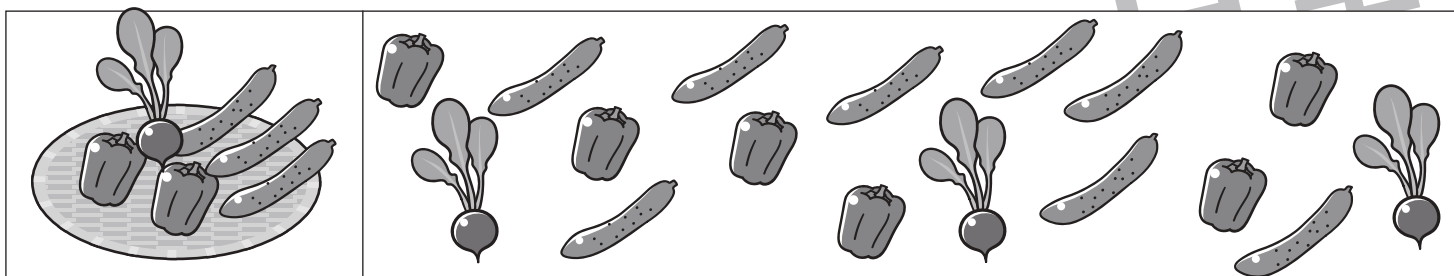
$\bigcirc \times 6$



$\bigcirc \times 4$



$\bigcirc \times 3$



$\bigcirc \times 2$

※1. このプリントは、しながわ・目黒こどもスクールのウェブサイトでダウンロードができます。無断複写・引用はご遠慮ください。
※2. このプリントを活用したオンライン授業のスケジュールは、しながわ・目黒こどもスクールのウェブサイトでご確認ください。


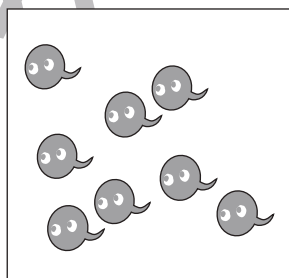
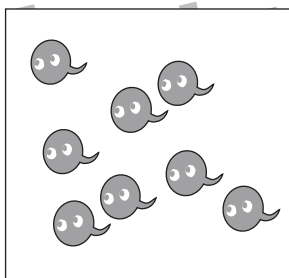
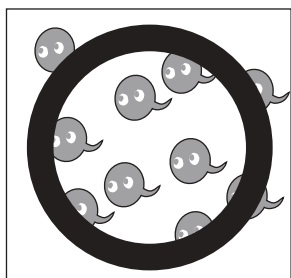
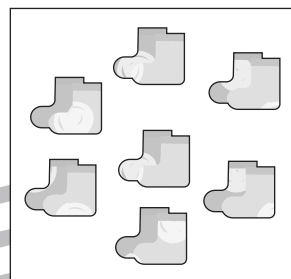












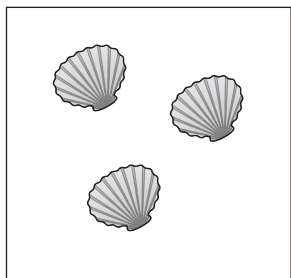


おうちで、やろう。

Study at home. 小学校受験の家庭学習教材

処理：多少7

左の四角と右の四角を比べて、四角の中の絵の数が多い方に○をつけます。ただし、どちらも同じ数のときは両方の四角に△をつけます。



※1. このプリントは、しながわ・目黒こどもスクールのウェブサイトでダウンロードができます。無断複写・引用はご遠慮ください。
※2. このプリントを活用したオンライン授業のスケジュールは、しながわ・目黒こどもスクールのウェブサイトでご確認ください。

