



# おうちで、やろう。

Study at home. 小学校受験の家庭学習教材

## 図形：重ね 36

左の四角の中のマスは透明な板です。この3枚の板を重ねますが、白丸が2つ重なると黒丸になります。この約束で3枚の板を重ねたときの見え方を考えて一番右のマスにかきます。


※1. このプリントは、しながわ・目黒こどもスクールのウェブサイトでダウンロードができます。無断複写・引用はご遠慮ください。

※2. このプリントを活用したオンライン授業のスケジュールは、しながわ・目黒こどもスクールのウェブサイトでご確認ください。



# おうちで、やろう。

Study at home. 小学校受験の家庭学習教材

## 図形：重ね 37

左の四角の中のマスは透明な板です。この3枚の板を重ねますが、白丸が2つ重なると黒丸になります。この約束で3枚の板を重ねたときの見え方を考えて一番右のマスにかきます。


※1. このプリントは、しながわ・目黒こどもスクールのウェブサイトでダウンロードができます。無断複写・引用はご遠慮ください。

※2. このプリントを活用したオンライン授業のスケジュールは、しながわ・目黒こどもスクールのウェブサイトでご確認ください。



# おうちで、やろう。

Study at home. 小学校受験の家庭学習教材

## 図形：重ね 38

左の四角の中のマスは透明な板です。この3枚の板を重ねますが、白丸が2つ重なると黒丸になります。この約束で3枚の板を重ねたときの見え方を考えて一番右のマスにかきます。


※1. このプリントは、しながわ・目黒こどもスクールのウェブサイトでダウンロードができます。無断複写・引用はご遠慮ください。

※2. このプリントを活用したオンライン授業のスケジュールは、しながわ・目黒こどもスクールのウェブサイトでご確認ください。



# おうちで、やろう。

Study at home. 小学校受験の家庭学習教材

数量：条件推理 12

大きな牛乳パックには3人分の牛乳が入っています。瓶の中には1人分の牛乳が入っています。左の四角の中にある牛乳を右の子どもたちで飲みました。何人分の牛乳が残るか考えて右の四角の中にその人数分だけ〇を付けます。

--	--	--

--	--	--

--	--	--

--	--	--

--	--	--

※1. このプリントは、しながわ・目黒こどもスクールのウェブサイトからダウンロードできます。無断複写・引用はご遠慮ください。

※2. このプリントを活用したオンライン授業のスケジュールは、しながわ・目黒こどもスクールのウェブサイトでご確認ください。



# おうちで、やろう。

Study at home. 小学校受験の家庭学習教材

## 数量：条件推理 13

大きな牛乳パックには4匹分の牛乳が入っています。小さな瓶の中には2匹分の牛乳が入っています。左の四角の中にある牛乳を右の動物たちで飲みました。ゾウは2匹分、ウサギは1匹分の牛乳を飲みます。何匹分の牛乳が残るか考えて右の四角の中にその数だけ〇をつけます。

		<table border="1"> <tr> <td>○</td><td>○</td><td>○</td><td>○</td> </tr> <tr> <td>○</td><td>○</td><td></td><td></td> </tr> <tr> <td></td><td></td><td></td><td></td> </tr> </table>	○	○	○	○	○	○						
○	○	○	○											
○	○													

		<table border="1"> <tr> <td>○</td><td>○</td><td>○</td><td></td> </tr> <tr> <td></td><td></td><td></td><td></td> </tr> <tr> <td></td><td></td><td></td><td></td> </tr> </table>	○	○	○									
○	○	○												

		<table border="1"> <tr> <td>○</td><td>○</td><td>○</td><td>○</td> </tr> <tr> <td>○</td><td>○</td><td></td><td></td> </tr> <tr> <td></td><td></td><td></td><td></td> </tr> </table>	○	○	○	○	○	○						
○	○	○	○											
○	○													

		<table border="1"> <tr> <td>○</td><td>○</td><td>○</td><td>○</td> </tr> <tr> <td></td><td></td><td></td><td></td> </tr> <tr> <td></td><td></td><td></td><td></td> </tr> </table>	○	○	○	○								
○	○	○	○											

		<table border="1"> <tr> <td>○</td><td>○</td><td>○</td><td>○</td> </tr> <tr> <td></td><td></td><td></td><td></td> </tr> <tr> <td></td><td></td><td></td><td></td> </tr> </table>	○	○	○	○								
○	○	○	○											

※1. このプリントは、しながわ・目黒こどもスクールのウェブサイトでダウンロードができます。無断複写・引用はご遠慮ください。

※2. このプリントを活用したオンライン授業のスケジュールは、しながわ・目黒こどもスクールのウェブサイトでご確認ください。



# おうちで、やろう。

Study at home. 小学校受験の家庭学習教材

数量：条件推理 14

サイコロが矢印の方向に進んで行くとサイコロの目が1つ増えます。この約束のとき、空いている四角に入るサイコロの目の数を考えてかきます。

※1. このプリントは、しながわ・目黒こどもスクールのウェブサイトでダウンロードができます。無断複写・引用はご遠慮ください。  
 ※2. このプリントを活用したオンライン授業のスケジュールは、しながわ・目黒こどもスクールのウェブサイトでご確認ください。

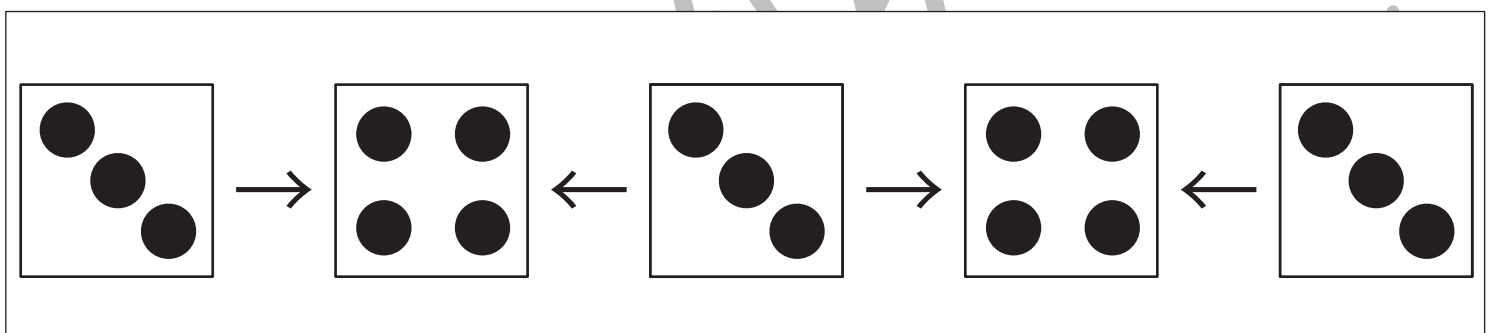
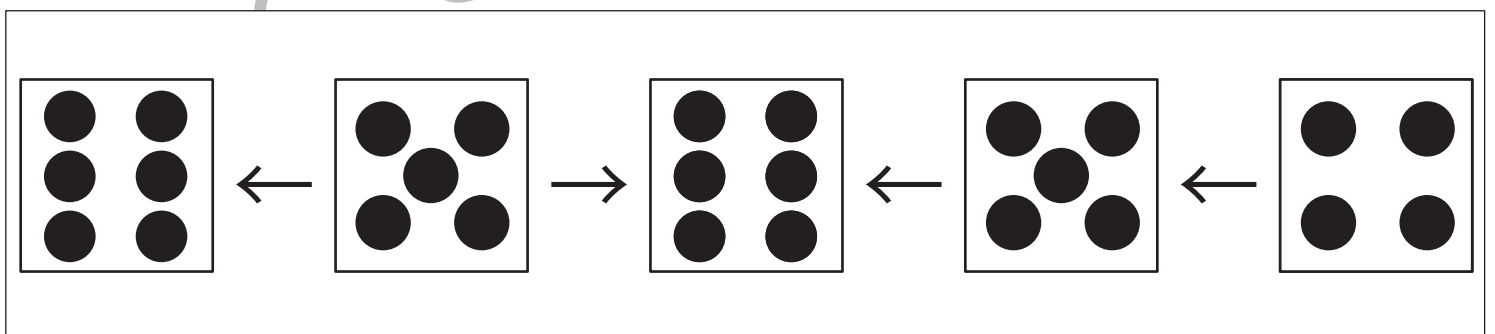
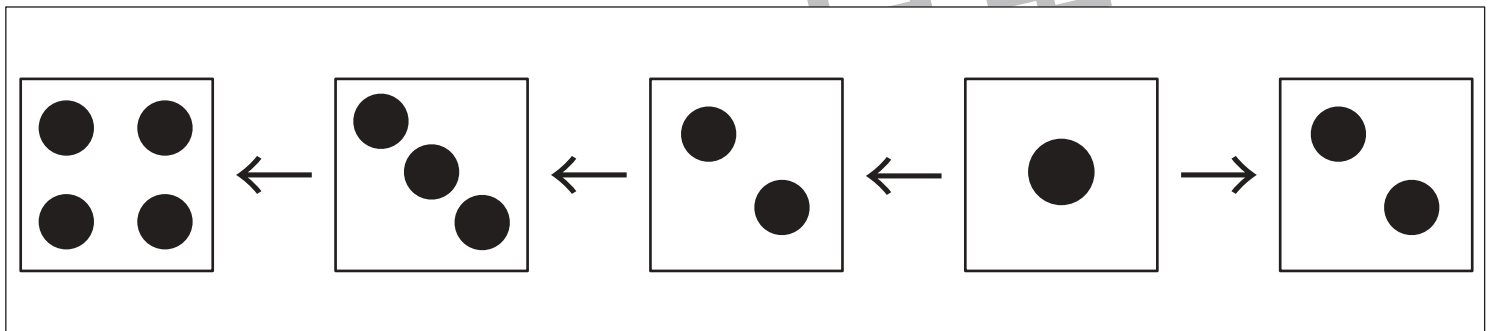
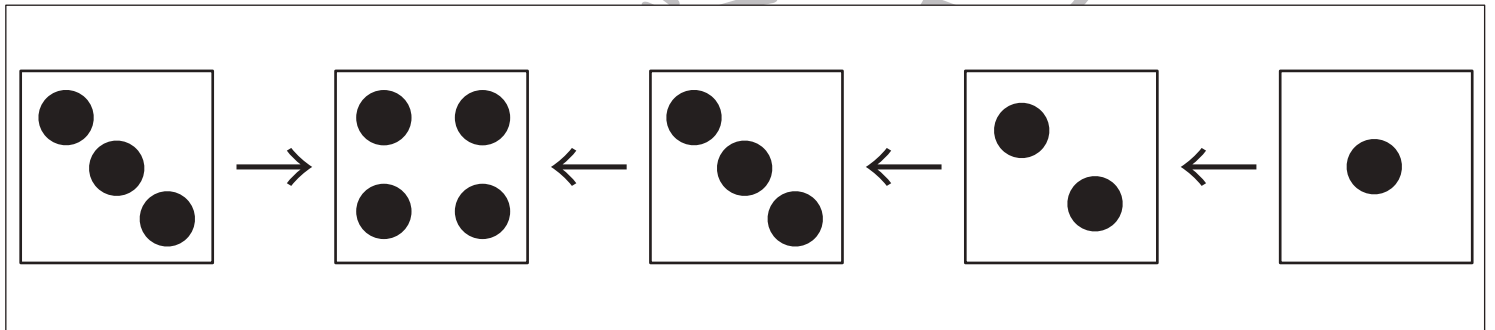
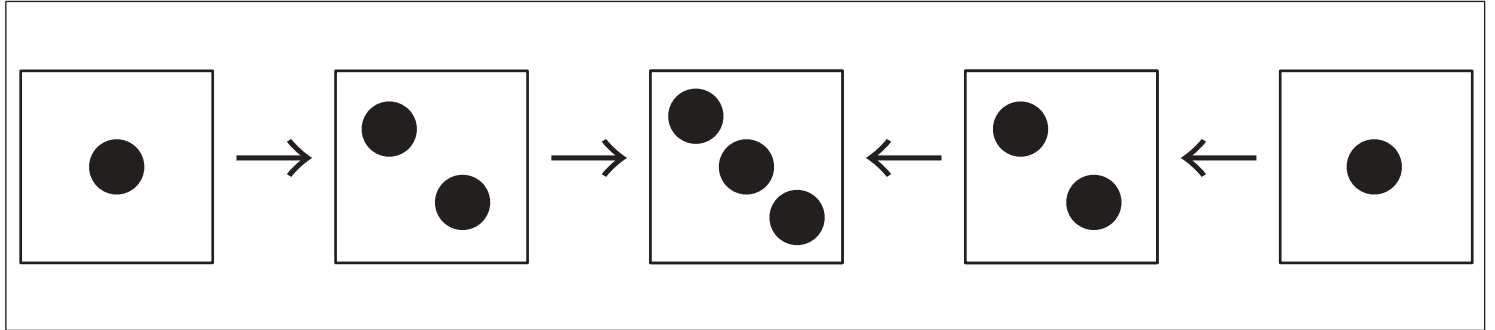


# おうちで、やろう。

Study at home. 小学校受験の家庭学習教材

数量：条件推理 15

サイコロが矢印の方向に進んで行くとサイコロの目が1つ増えます。この約束のとき、空いている四角に入るサイコロの目の数を考えてかきます。



※1. このプリントは、しながわ・目黒こどもスクールのウェブサイトでダウンロードができます。無断複写・引用はご遠慮ください。  
 ※2. このプリントを活用したオンライン授業のスケジュールは、しながわ・目黒こどもスクールのウェブサイトでご確認ください。



# おうちで、やろう。

Study at home. 小学校受験の家庭学習教材

数量：長さ14

それぞれのマスには太い線が描かれています。横に並んだ3つのマスの中で線が一番長いものを見つけます。答えが一番長い線のマスの上にある記号を右の四角の中にかきます。




○ 3	△ 4	□ 5

○ 5	△ 4	□ 4


○ 4	△ 6	□ 5

○ 6	△ 6	□ 7

目黒



目黒



※1. このプリントは、しながわ・目黒こどもスクールのウェブサイトでダウンロードができます。無断複写・引用はご遠慮ください。  
※2. このプリントを活用したオンライン授業のスケジュールは、しながわ・目黒こどもスクールのウェブサイトでご確認ください。








# おうちで、やろう。

Study at home. 小学校受験の家庭学習教材


数量：長さ 15

それぞれのマスには太い線が描かれています。横に並んだ3つのマスの中で線が一番長いものを見つけます。答えは一番長い線の上にある記号を右の四角の中にかきます。


○ 7	△ 5	□ 6



○ 7	△ 7	□ 8



○ 8	△ 7	□ 6



○ 8	△ 9	□ 7



※1. このプリントは、しながわ・目黒こどもスクールのウェブサイトでダウンロードができます。無断複写・引用はご遠慮ください。  
※2. このプリントを活用したオンライン授業のスケジュールは、しながわ・目黒こどもスクールのウェブサイトでご確認ください。