

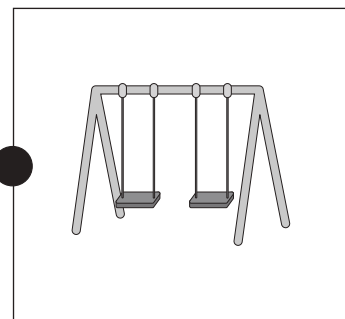


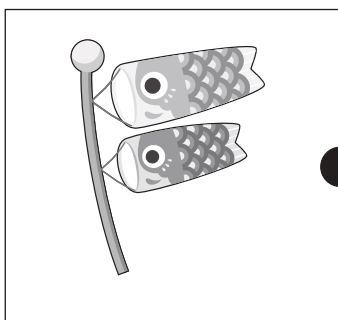

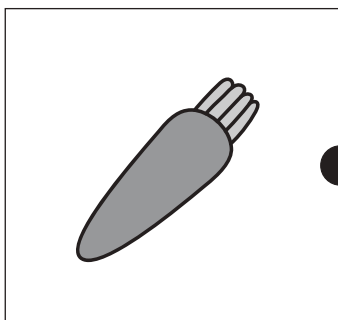


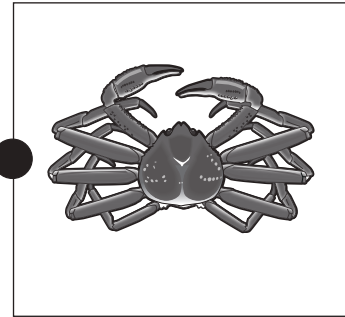



おうちで、やろう。

Study at home. 小学校受験の家庭学習教材

言語：音の理解 32

左の四角の中の絵のはじめの音と、右の四角の中の絵の終わりの音が同じもの同士を線で結びます。



※1. このプリントは、しながわ・目黒こどもスクールのウェブサイトでダウンロードができます。無断複写・引用はご遠慮ください。

※2. このプリントを活用したオンライン授業のスケジュールは、しながわ・目黒こどもスクールのウェブサイトでご確認ください。









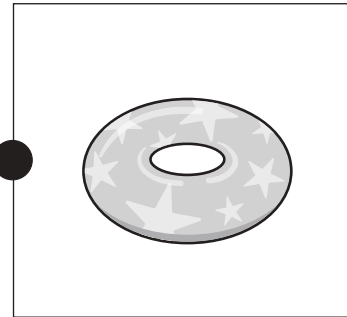




おうちで、やろう。

Study at home. 小学校受験の家庭学習教材

言語：音の理解 33

左の四角の中の絵のはじめの音と、右の四角の中の絵の終わりの音が同じもの同士を線で結びます。



※1. このプリントは、しながわ・目黒こどもスクールのウェブサイトでダウンロードができます。無断複写・引用はご遠慮ください。

※2. このプリントを活用したオンライン授業のスケジュールは、しながわ・目黒こどもスクールのウェブサイトでご確認ください。




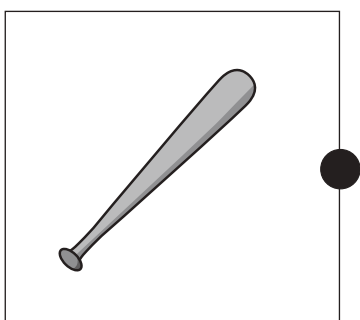







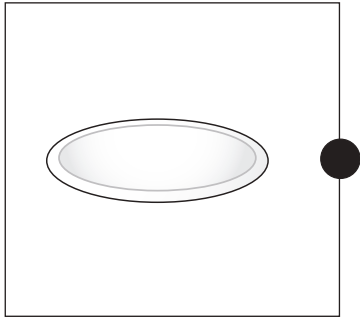


おうちで、やろう。

Study at home. 小学校受験の家庭学習教材

言語：数え方5

左と右の絵で同じ数え方をするもの同士をみつけて点と点を線で結びます。



※1. このプリントは、しながわ・目黒こどもスクールのウェブサイトでダウンロードができます。無断複写・引用はご遠慮ください。

※2. このプリントを活用したオンライン授業のスケジュールは、しながわ・目黒こどもスクールのウェブサイトでご確認ください。





おうちで、やろう。

Study at home. 小学校受験の家庭学習教材

図形：構成 33

左の太い四角の中の形は3つの四角いパズルで作ったお手本です。右の四角の中にはお手本のパズルを1つ動かした形が並んでいます。この中で白丸を動かした形を見つけて○をつけます。

※1. このプリントは、しながわ・目黒こどもスクールのウェブサイトでダウンロードができます。無断複写・引用はご遠慮ください。

※2. このプリントを活用したオンライン授業のスケジュールは、しながわ・目黒こどもスクールのウェブサイトでご確認ください。

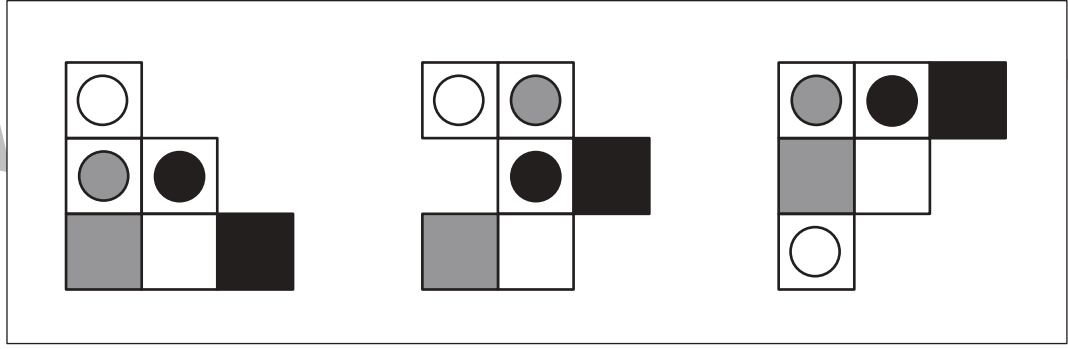
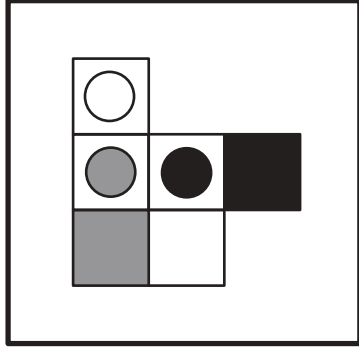
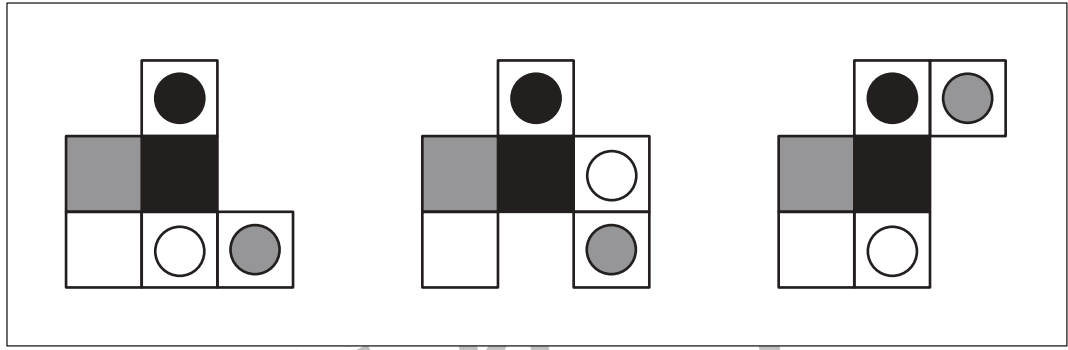
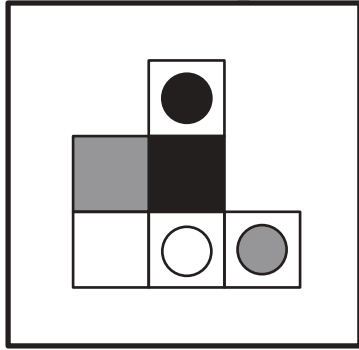
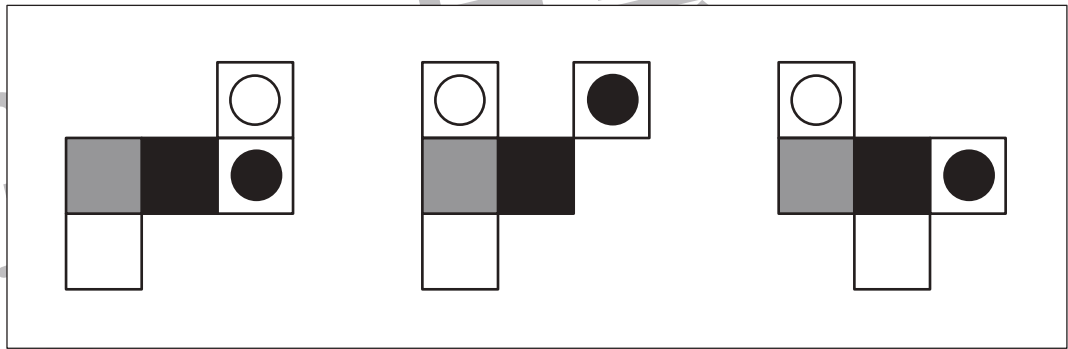
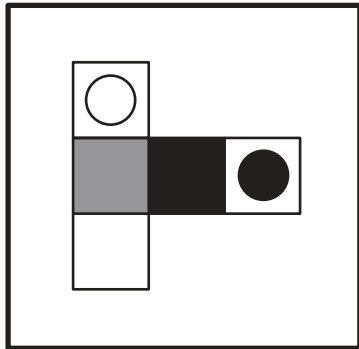
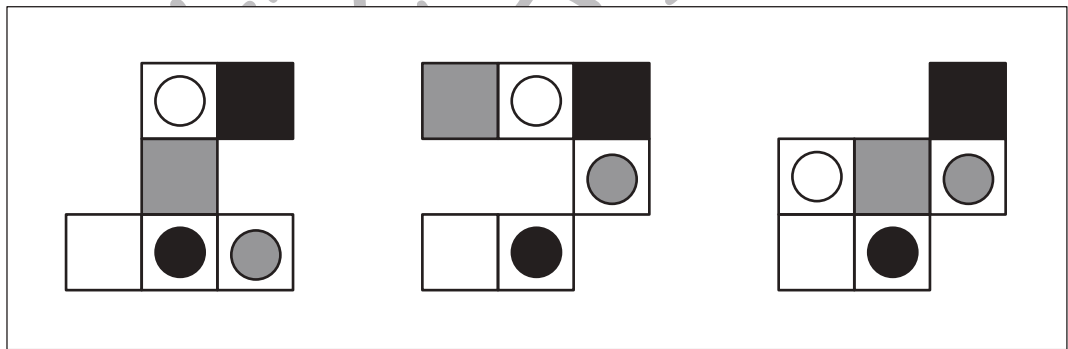
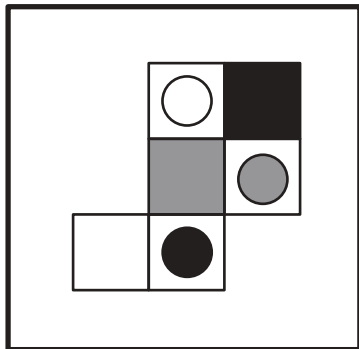
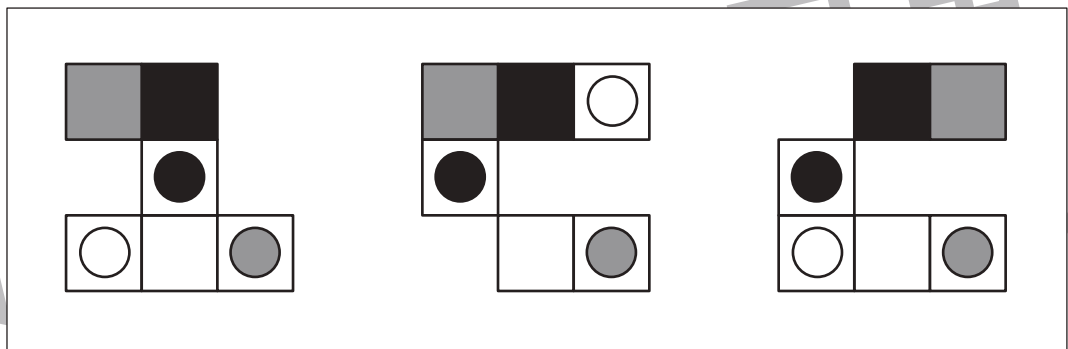
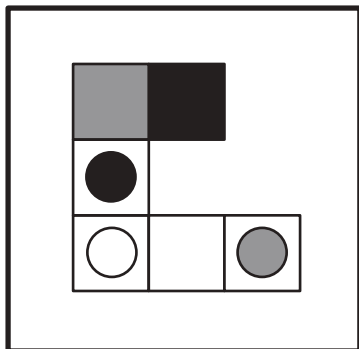


おうちで、やろう。

Study at home. 小学校受験の家庭学習教材

図形：構成 34

左の太い四角の中の形はいくつかのパズルで作ったお手本です。右の四角の中にはお手本のパズルを1つ動かした形が並んでいます。この中で白丸を動かした形を見つけて○をつけます。



※1. このプリントは、しながわ・目黒こどもスクールのウェブサイトでダウンロードができます。無断複写・引用はご遠慮ください。
※2. このプリントを活用したオンライン授業のスケジュールは、しながわ・目黒こどもスクールのウェブサイトでご確認ください。

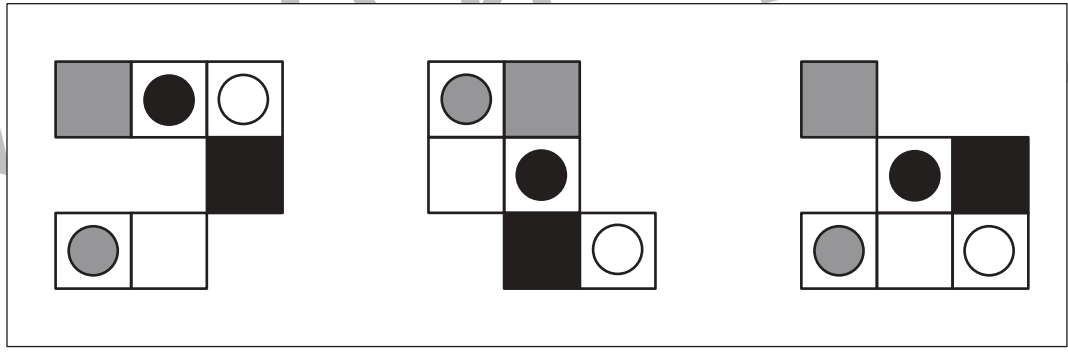
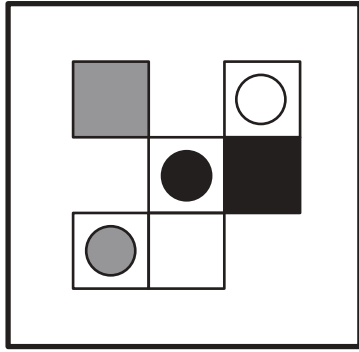
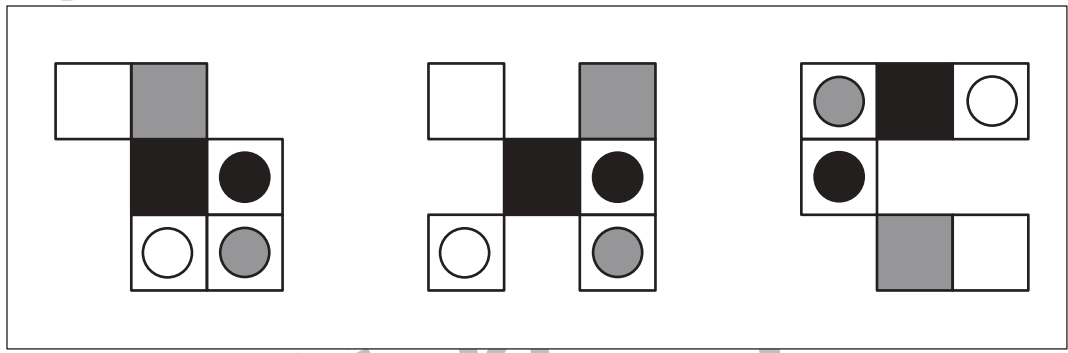
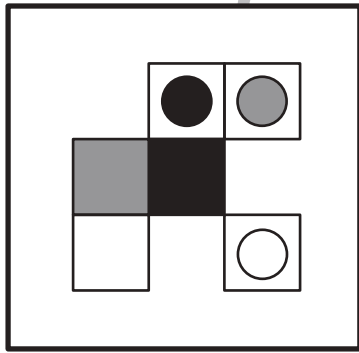
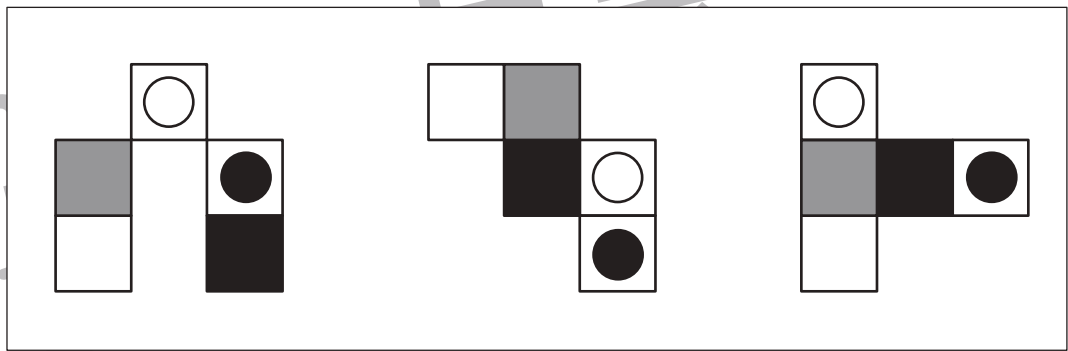
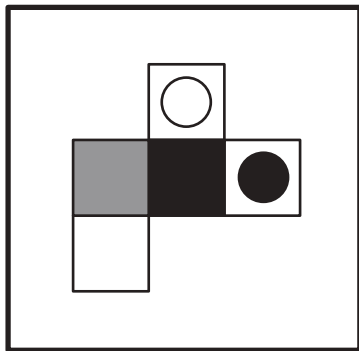
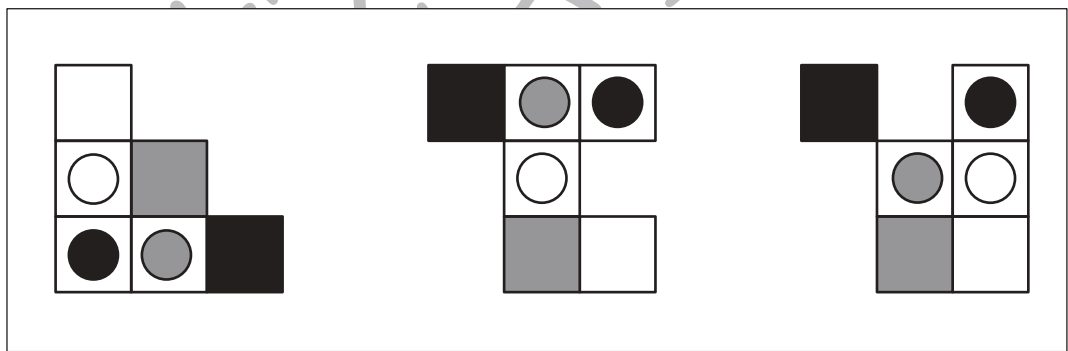
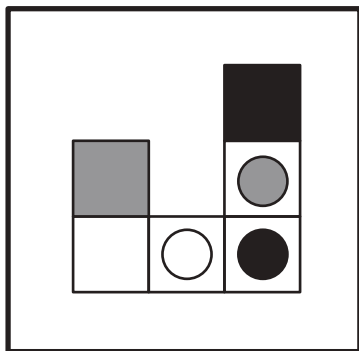
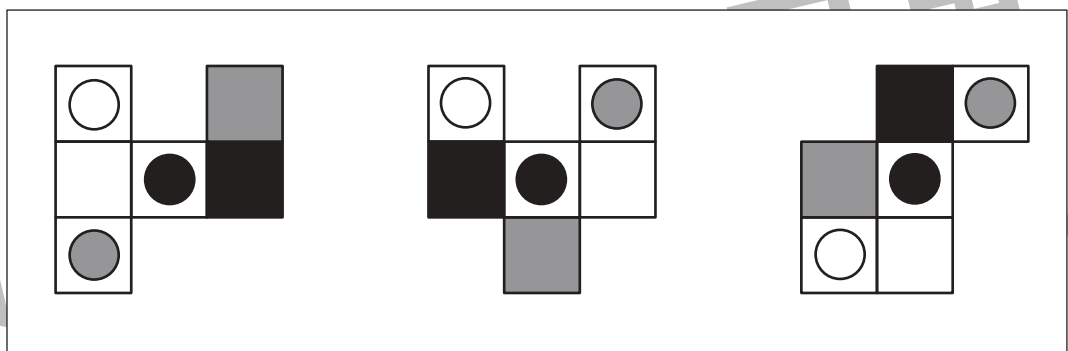
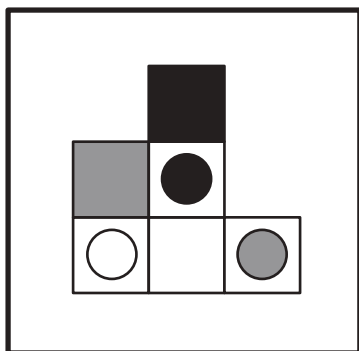


おうちで、やろう。

Study at home. 小学校受験の家庭学習教材

図形：構成 35

左の太い四角の中の形はいくつかのパズルで作ったお手本です。右の四角の中にはお手本のパズルを1つ動かした形が並んでいます。この中で白丸を動かした形を見つけて○をつけます。右の形は回っているものもあります。



※1. このプリントは、しながわ・目黒こどもスクールのウェブサイトでダウンロードができます。無断複写・引用はご遠慮ください。
※2. このプリントを活用したオンライン授業のスケジュールは、しながわ・目黒こどもスクールのウェブサイトでご確認ください。




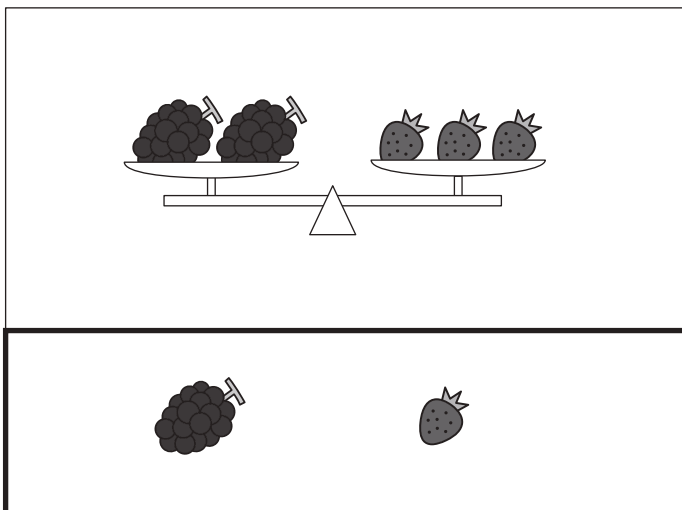






おうちで、やろう。

Study at home. 小学校受験の家庭学習教材

推理：重さ 13

天秤に果物をのせて重さ比べをしました。それぞれの四角の中のシーソーはつり合っています。それぞれの四角の中のシーソーの果物を1つずつにしたとき、1つの果物の重さが重いものはどちらですか。重い果物を下の太い線の中から選んで○をつけます。



※1. このプリントは、しながわ・目黒こどもスクールのウェブサイトでダウンロードができます。無断複写・引用はご遠慮ください。
 ※2. このプリントを活用したオンライン授業のスケジュールは、しながわ・目黒こどもスクールのウェブサイトでご確認ください。









おうちで、よろう。

Study at home. 小学校受験の家庭学習教材

推理：重さ 14

天秤に果物をのせて重さ比べをしました。それぞれの四角の中のシーソーはつり合っています。それぞれの四角の中のシーソーの果物を1つずつにしたとき、1つの果物の重さが2番目に重いものはどちらですか。2番目に重い果物を下の太い線の中から選んで○をつけます。



※1. このプリントは、しながわ・目黒こどもスクールのウェブサイトでダウンロードができます。無断複写・引用はご遠慮ください。
 ※2. このプリントを活用したオンライン授業のスケジュールは、しながわ・目黒こどもスクールのウェブサイトでご確認ください。




おうちで、やろう。

Study at home. 小学校受験の家庭学習教材

処理：計数 16

上の四角の中の絵の数をかぞえて、下の四角の同じ絵の右にその数だけ〇をかきます。
この問題はスピードを意識して取り組む練習をしてみましょう。(1分～1分30秒)



※1. このプリントは、しながわ・目黒こどもスクールのウェブサイトでダウンロードができます。無断複写・引用はご遠慮ください。
※2. このプリントを活用したオンライン授業のスケジュールは、しながわ・目黒こどもスクールのウェブサイトでご確認ください。



おうちで、やろう。

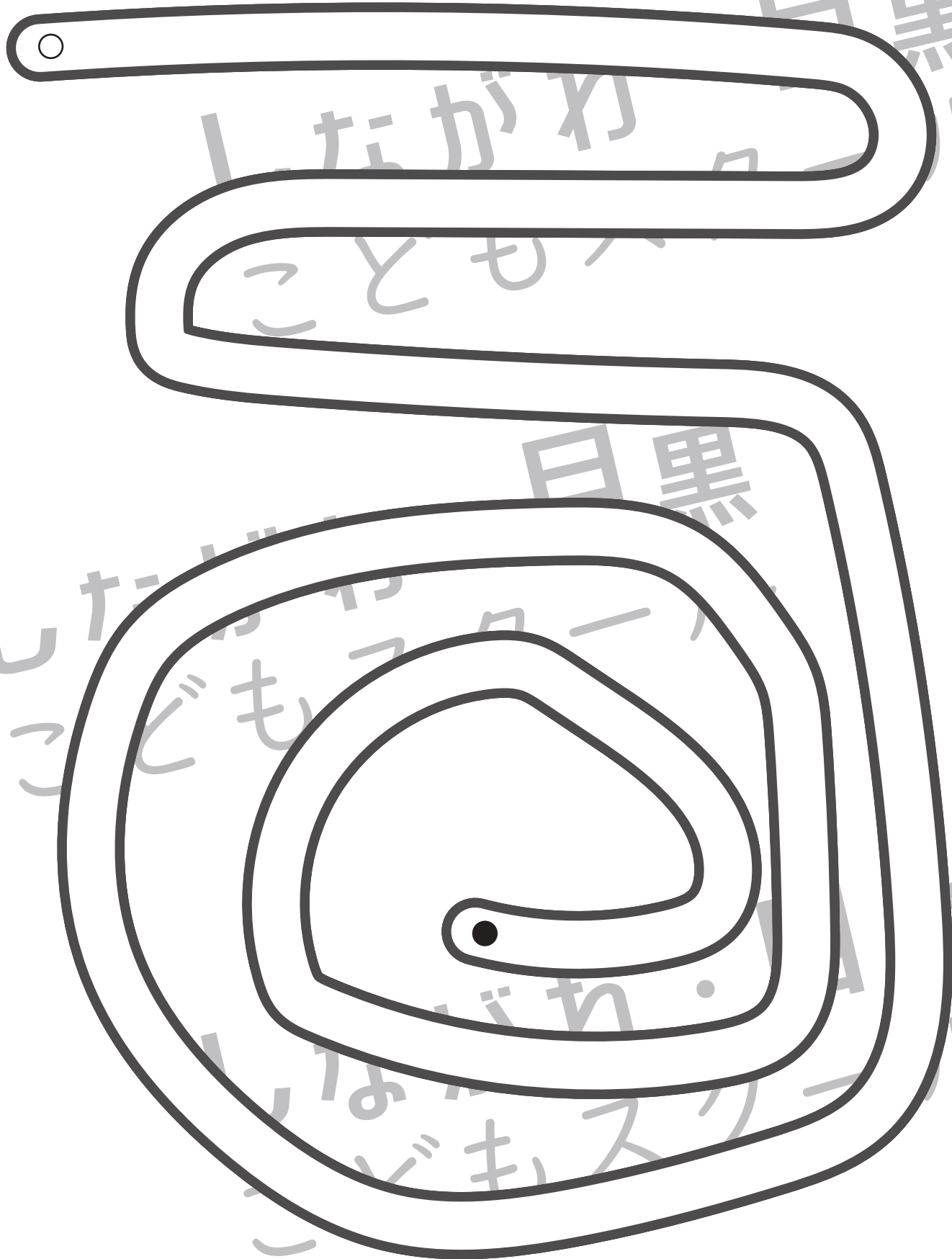
Study at home. 小学校受験の家庭学習教材

処理：運筆 20

白い丸から黒い丸まで一本の線をかきます。壁にぶつからないようにきれいに素早く線をかきましょう。

この問題はスピードを意識して取り組む練習をしてみましょう。(30秒～1分)

※えんぴつ、クーピー、水性ペンなどを使用しましょう。 ※この問題に解答はありません。



※1. このプリントは、しながわ・目黒こどもスクールのウェブサイトでダウンロードができます。無断複写・引用はご遠慮ください。

※2. このプリントを活用したオンライン授業のスケジュールは、しながわ・目黒こどもスクールのウェブサイトでご確認ください。

