

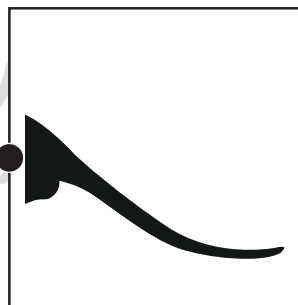











おうちで、やろう。

Study at home. 小学校受験の家庭学習教材

常識：生き物 3

左の四角と右の四角にはそれぞれある生き物のシルエットがあります。
同じ生き物の点と点を線で結びます。



※1. このプリントは、しながわ・目黒こどもスクールのウェブサイトでダウンロードができます。無断複写・引用はご遠慮ください。
※2. このプリントを活用したオンライン授業のスケジュールは、しながわ・目黒こどもスクールのウェブサイトでご確認ください。











おうちで、やろう。

Study at home. 小学校受験の家庭学習教材

常識：生き物 4

左の四角と右の四角にはそれぞれある生き物のシルエットがあります。
同じ生き物の点と点を線で結びます。



※1. このプリントは、しながわ・目黒こどもスクールのウェブサイトでダウンロードができます。無断複写・引用はご遠慮ください。
※2. このプリントを活用したオンライン授業のスケジュールは、しながわ・目黒こどもスクールのウェブサイトでご確認ください。







おうちで、やろう。

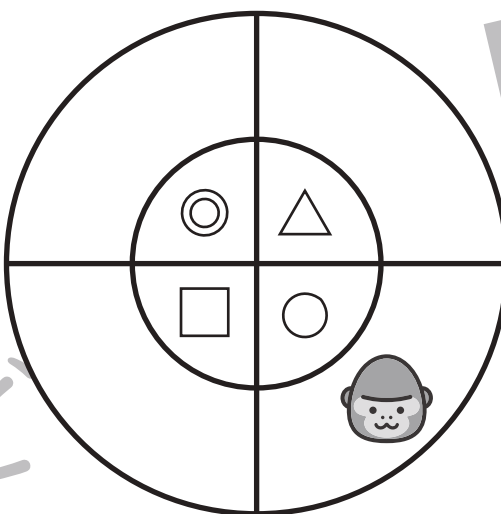

Study at home. 小学校受験の家庭学習教材

推理：観覧車 11

大きな丸の中には動物が、その中の小さな丸の中にはマークが描かれています。1匹の動物が矢印の方向に進んだとき、他の動物はどのマークの場所に止まるかを考えて、右の四角の中にマークをかきましょう。







※1. このプリントは、しながわ・目黒こどもスクールのウェブサイトでダウンロードができます。無断複写・引用はご遠慮ください。

※2. このプリントを活用したオンライン授業のスケジュールは、しながわ・目黒こどもスクールのウェブサイトでご確認ください。







おうちで、やろう。



Study at home. 小学校受験の家庭学習教材

推理：観覧車 12

大きな丸の中には動物が、その中の小さな丸の中にはマークが描かれています。1匹の動物が矢印の方向に進んだとき、他の動物はどのマークの場所に止まるかを考えて、右の四角の中にマークをかきましょう。







※1. このプリントは、しながわ・目黒こどもスクールのウェブサイトでダウンロードができます。無断複写・引用はご遠慮ください。

※2. このプリントを活用したオンライン授業のスケジュールは、しながわ・目黒こどもスクールのウェブサイトでご確認ください。

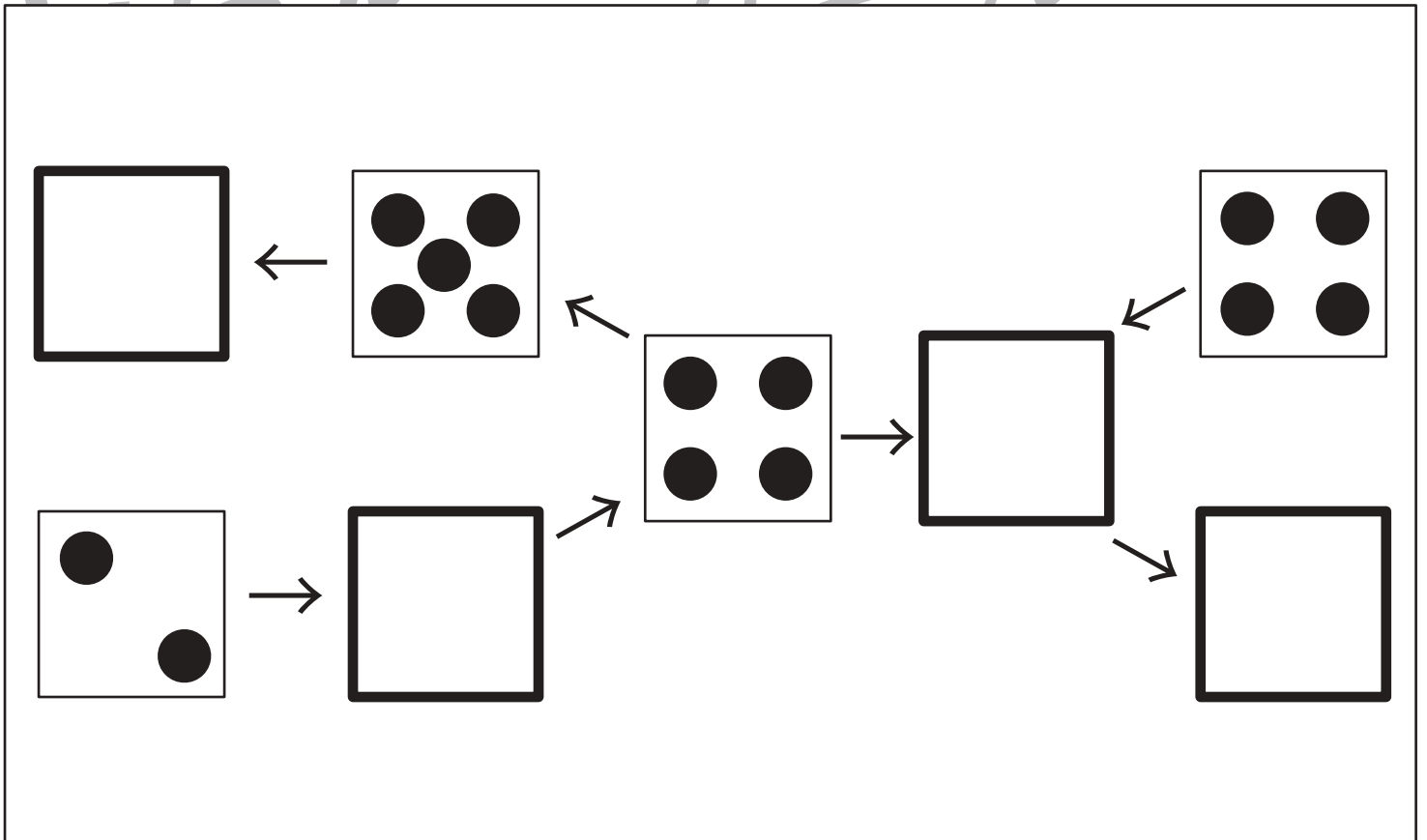
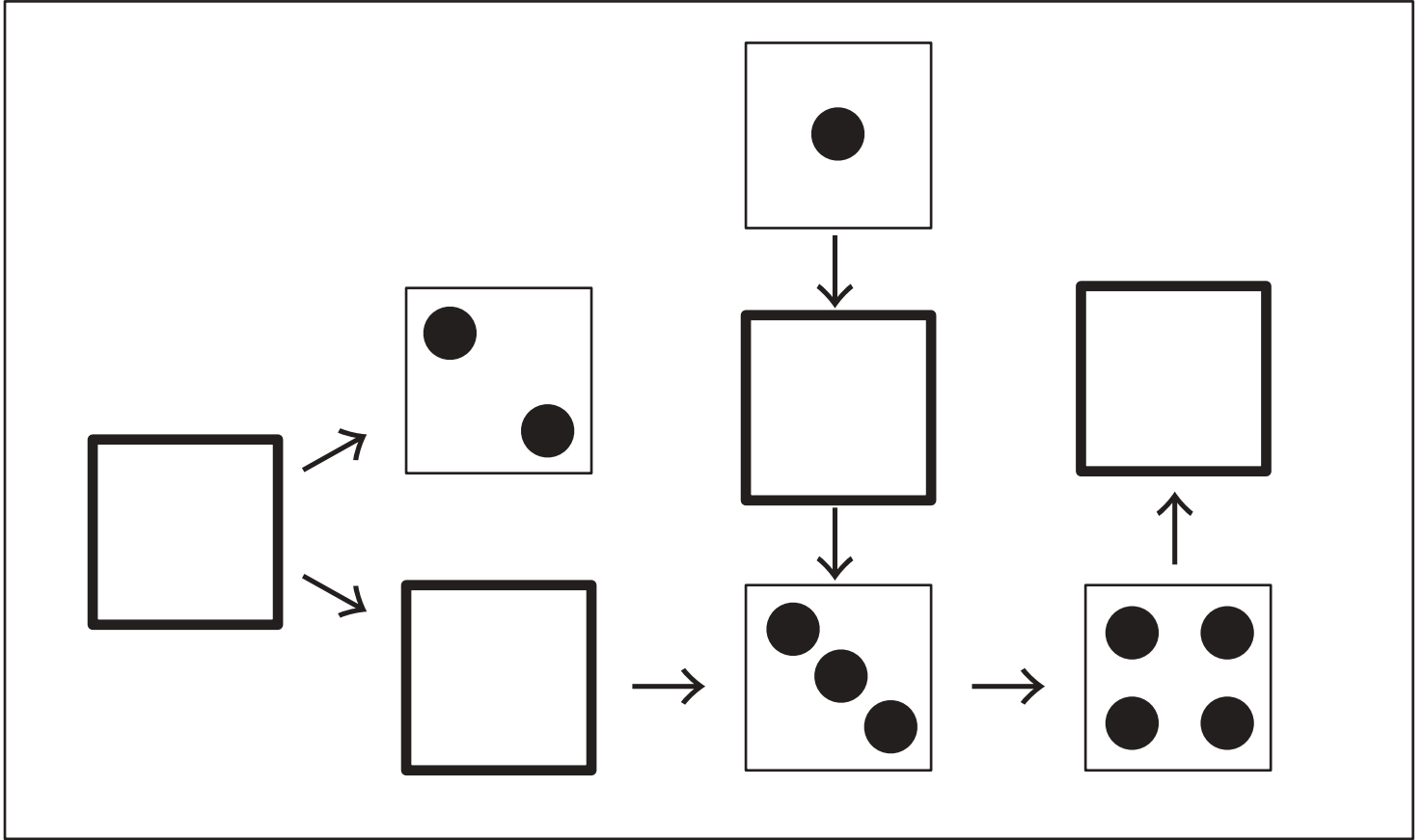


おうちで、やろう。

Study at home. 小学校受験の家庭学習教材

数量：サイコロ 11

サイコロが矢印の方向に進んで行くとサイコロの目が一つ増える約束です。空いている四角に入るサイコロの目の数を考えてサイコロの目をかきます。



※1. このプリントは、しながわ・目黒こどもスクールのウェブサイトからダウンロードできます。無断複写・引用はご遠慮ください。
 ※2. このプリントを活用したオンライン授業のスケジュールは、しながわ・目黒こどもスクールのウェブサイトでご確認ください。

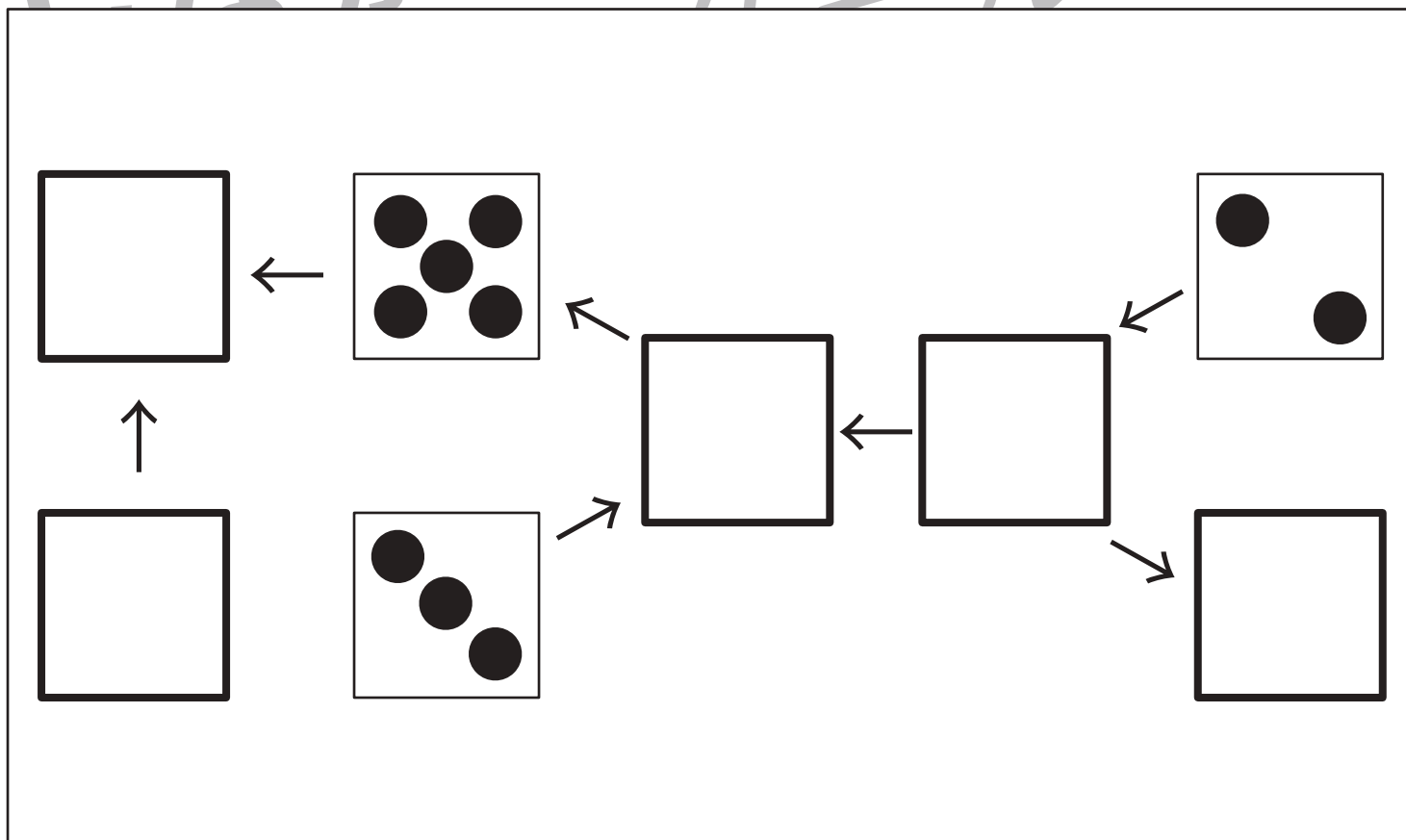
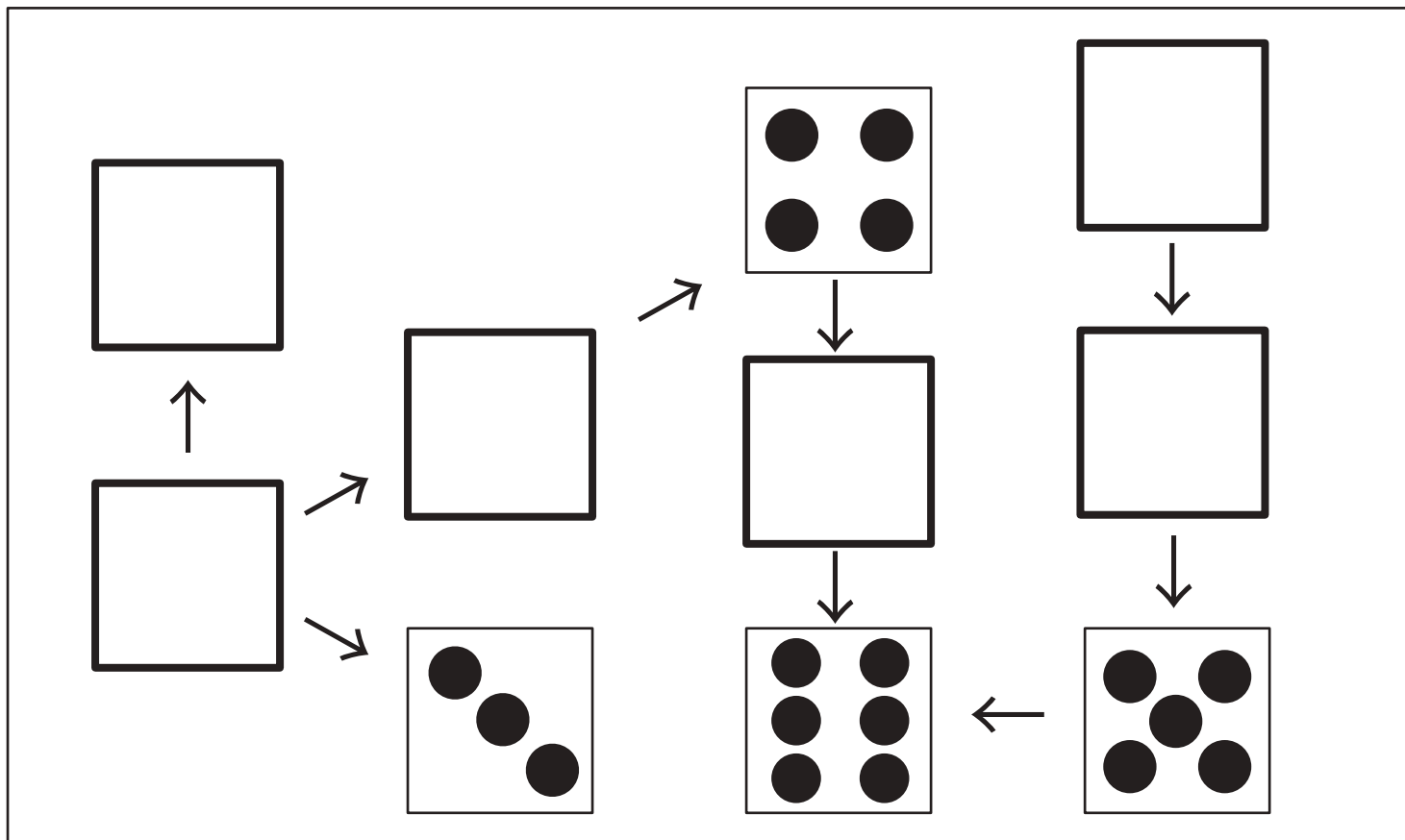


おうちで、やろう。

Study at home. 小学校受験の家庭学習教材

数量：サイコロ 12

サイコロが矢印の方向に進んで行くとサイコロの目が一つ増える約束です。空いている四角に入るサイコロの目の数を考えてサイコロの目をかきます。



※1. このプリントは、しながわ・目黒こどもスクールのウェブサイトでダウンロードができます。無断複写・引用はご遠慮ください。
 ※2. このプリントを活用したオンライン授業のスケジュールは、しながわ・目黒こどもスクールのウェブサイトでご確認ください。






おうちで、やろう。

Study at home. 小学校受験の家庭学習教材

数量：隠れた数 1

すべてのマスの中に絵があります。このとき、黒い場所に隠れている絵はいくつありますか。その数だけ下のマスに○をかきます。





※1. このプリントは、しながわ・目黒こどもスクールのウェブサイトでダウンロードができます。無断複写・引用はご遠慮ください。
※2. このプリントを活用したオンライン授業のスケジュールは、しながわ・目黒こどもスクールのウェブサイトでご確認ください。

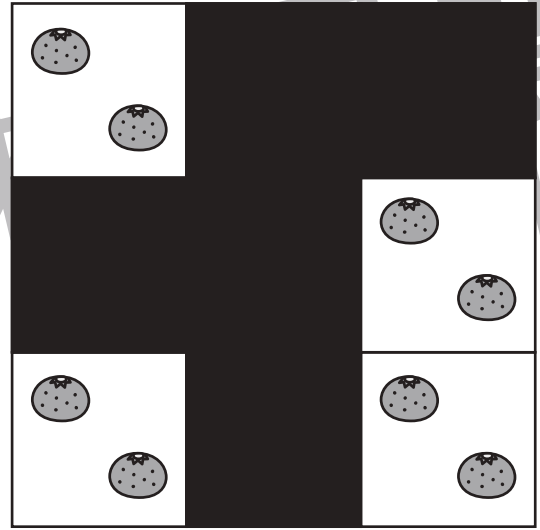
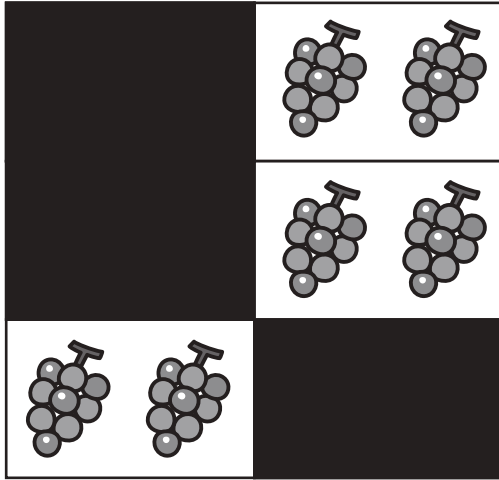



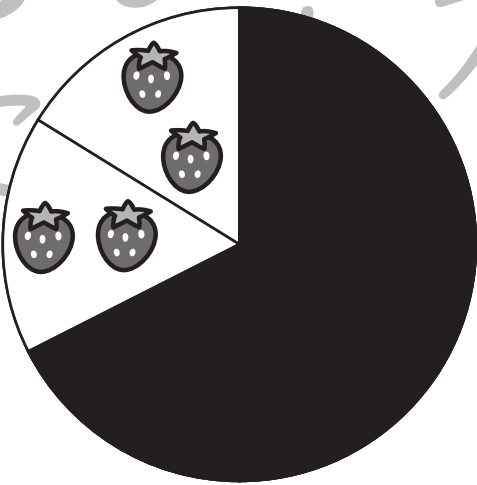
おうちで、やろう。

Study at home. 小学校受験の家庭学習教材

数量：隠れた数2

それぞれの形の中にはある決まりで絵がいくつか並んでいます。このとき、黒い場所に隠れている絵はいくつありますか。その数だけ下のマスに○をかきます。





※1. このプリントは、しながわ・目黒こどもスクールのウェブサイトでダウンロードができます。無断複写・引用はご遠慮ください。
※2. このプリントを活用したオンライン授業のスケジュールは、しながわ・目黒こどもスクールのウェブサイトでご確認ください。



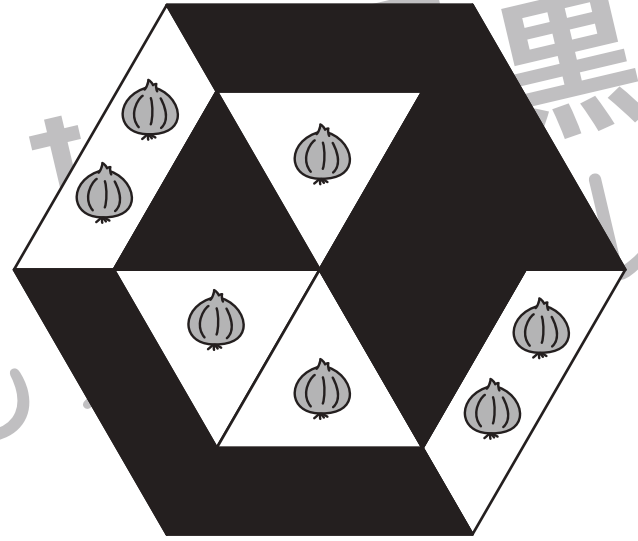
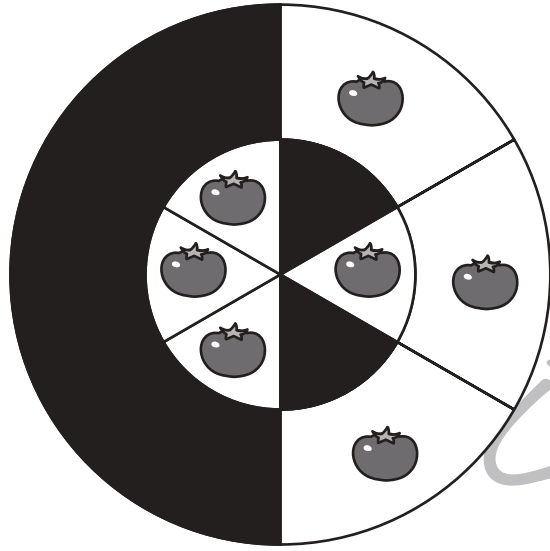


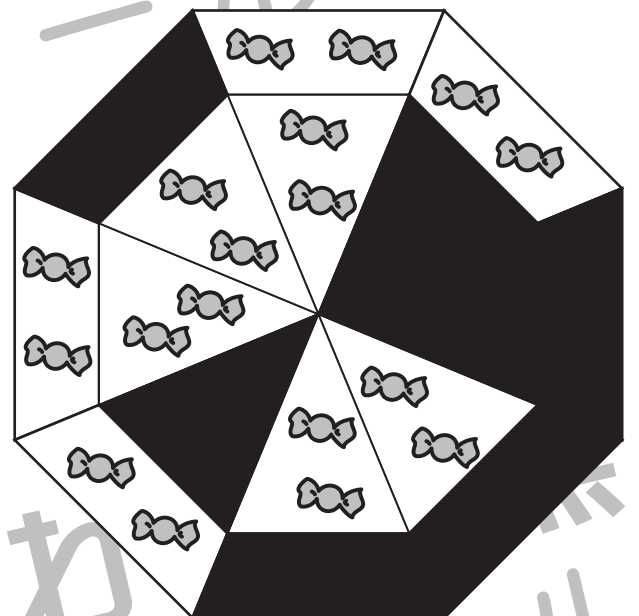
おうちで、やろう。

Study at home. 小学校受験の家庭学習教材

数量：隠れた数3

それぞれの形の中にはある決まりで絵がいくつか並んでいます。このとき、黒い場所に隠れている絵はいくつありますか。その数だけ下のマスに○をかきます。





※1. このプリントは、しながわ・目黒こどもスクールのウェブサイトでダウンロードができます。無断複写・引用はご遠慮ください。
※2. このプリントを活用したオンライン授業のスケジュールは、しながわ・目黒こどもスクールのウェブサイトでご確認ください。


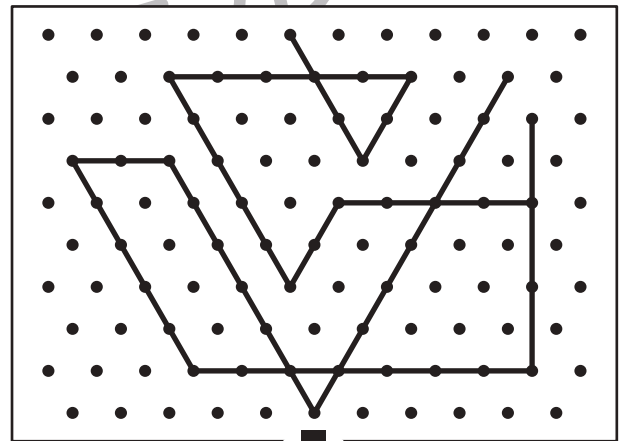

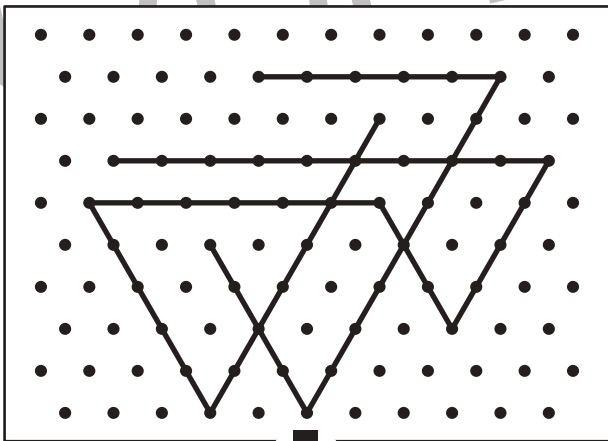

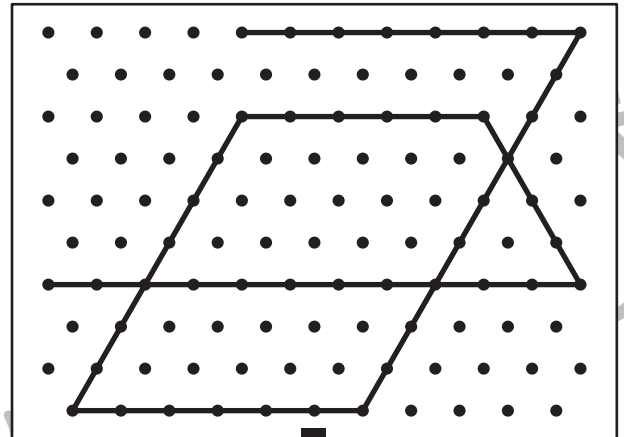

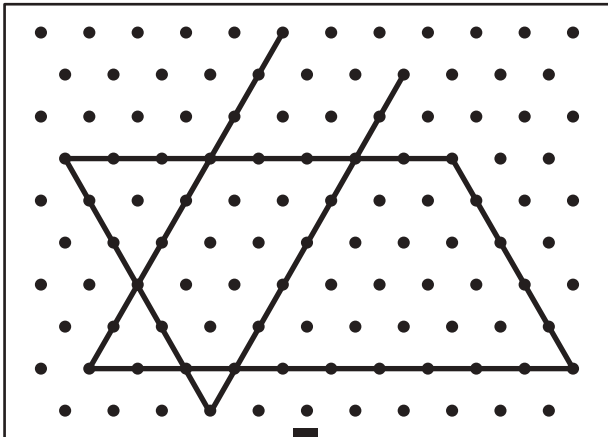


おうちで、よろう。

Study at home. 小学校受験の家庭学習教材

図形：点図形 55

上のお手本と同じになるように下の四角の点と点を結びます。※このプリントに解答はありません。



※1. このプリントは、しながわ・目黒こどもスクールのウェブサイトでダウンロードができます。無断複写・引用はご遠慮ください。

※2. このプリントを活用したオンライン授業のスケジュールは、しながわ・目黒こどもスクールのウェブサイトでご確認ください。

