

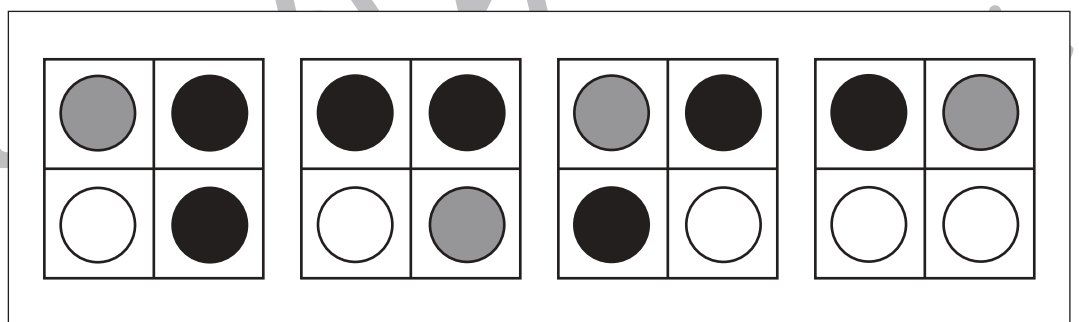
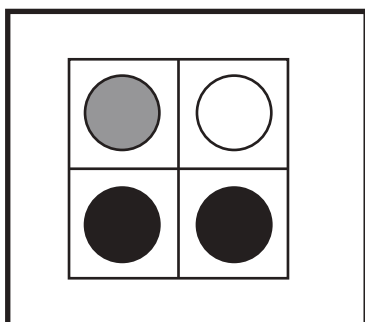
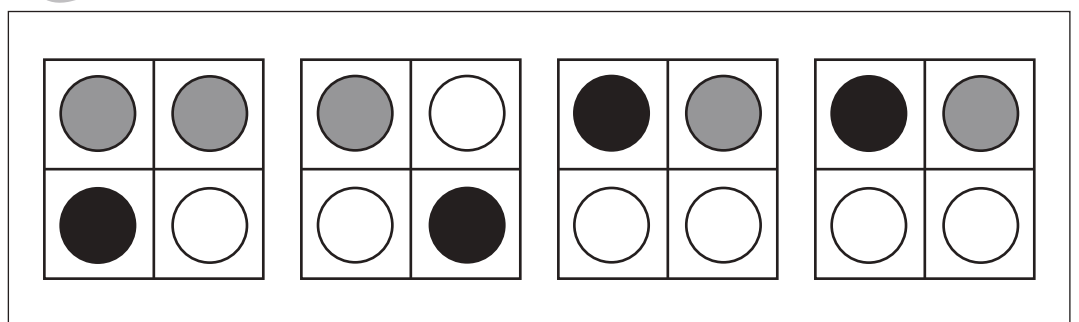
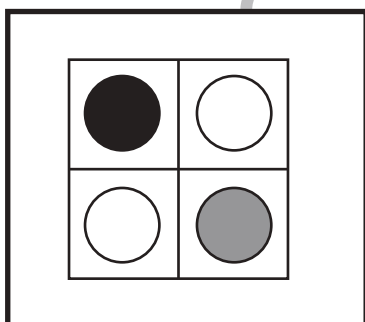
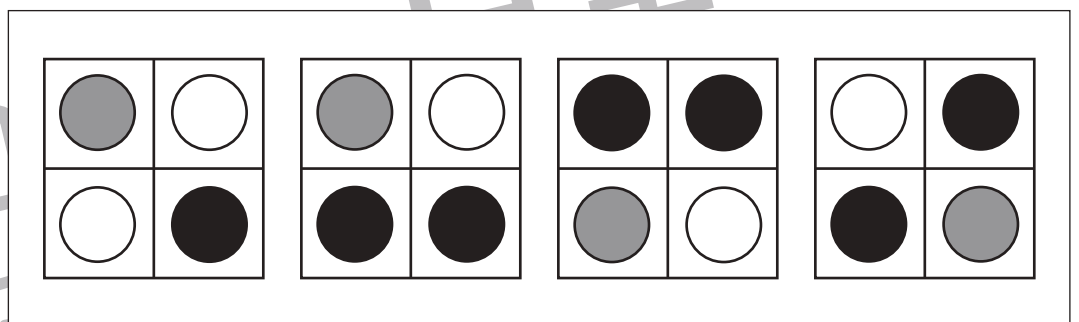
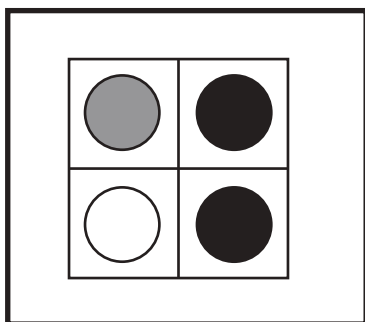
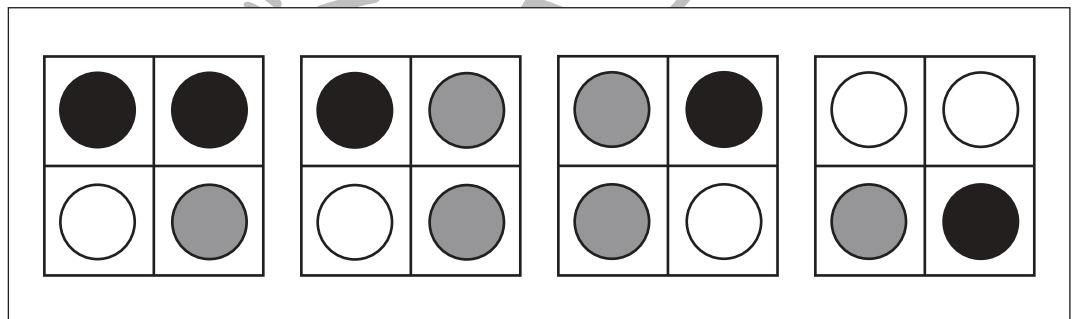
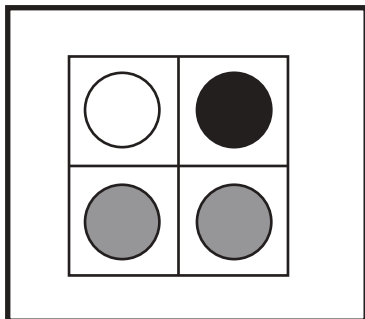
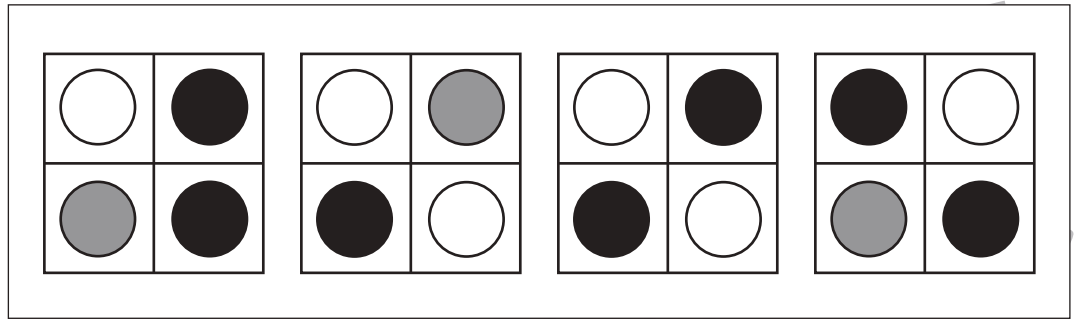
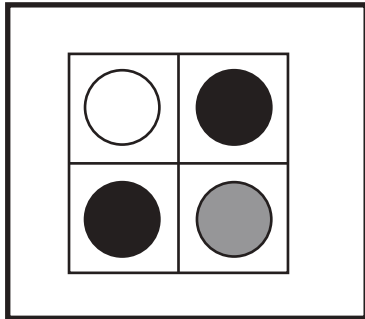


# おうちで、やろう。

Study at home. 小学校受験の家庭学習教材

## 図形：同図形5

左の太い四角の中がお手本です。このお手本と同じ形を右の4つの中から見つけて○をつけます。右の形は回っているものもあります。



※1. このプリントは、しながわ・目黒こどもスクールのウェブサイトでダウンロードができます。無断複写・引用はご遠慮ください。  
 ※2. このプリントを活用したオンライン授業のスケジュールは、しながわ・目黒こどもスクールのウェブサイトでご確認ください。

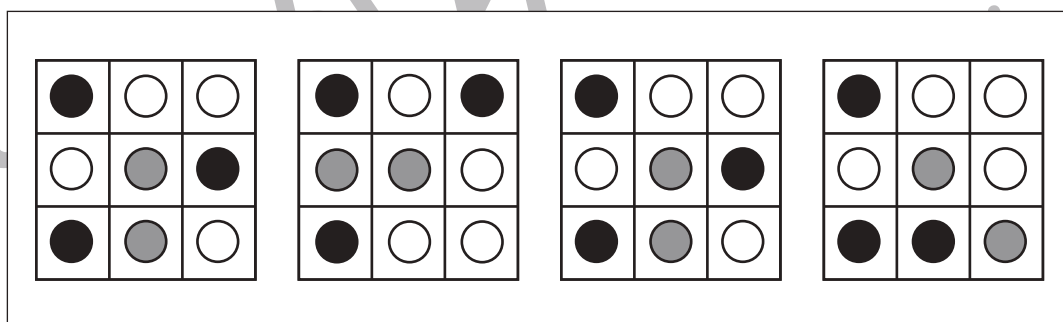
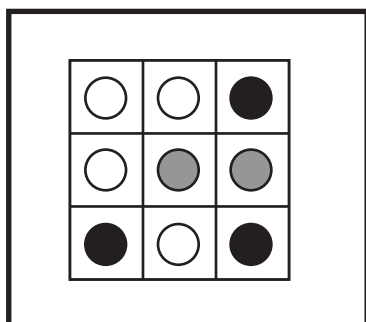
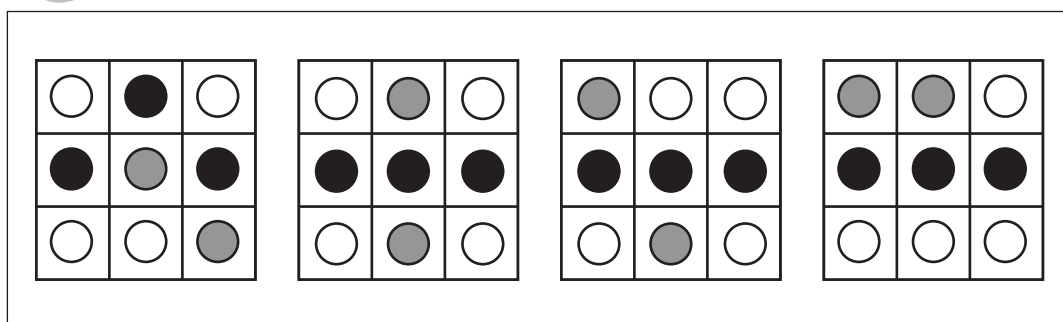
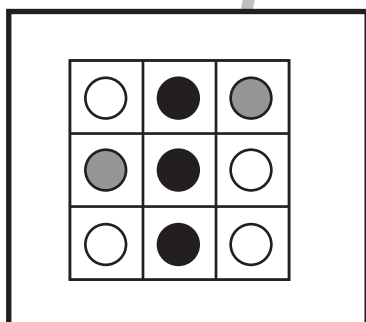
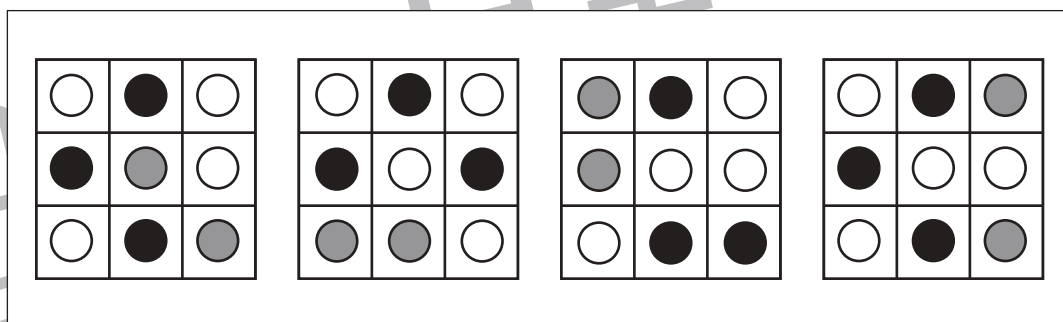
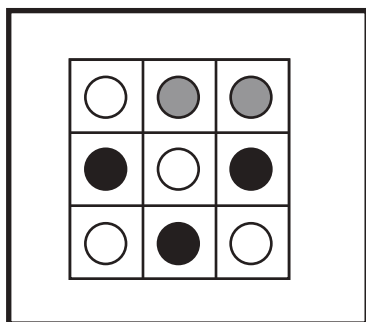
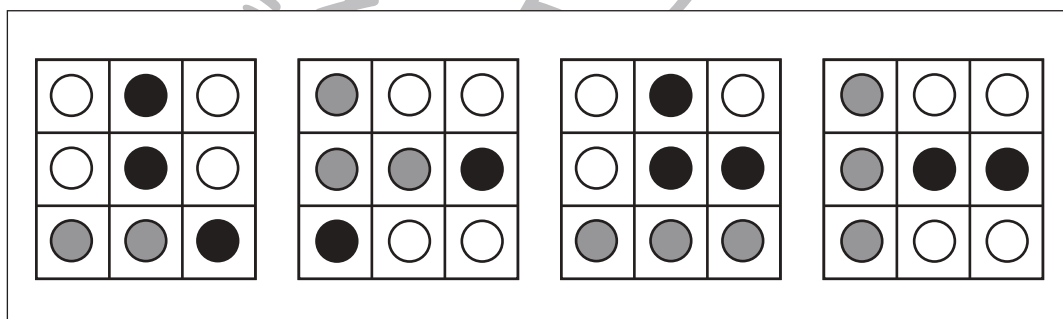
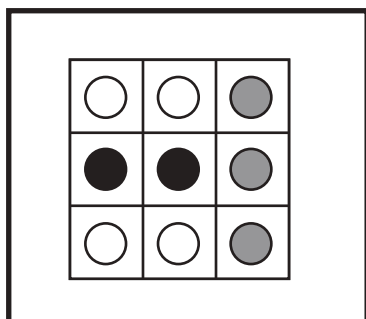
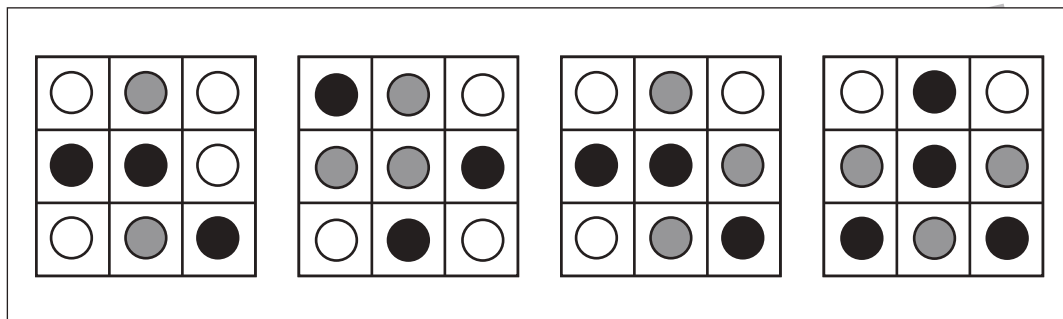
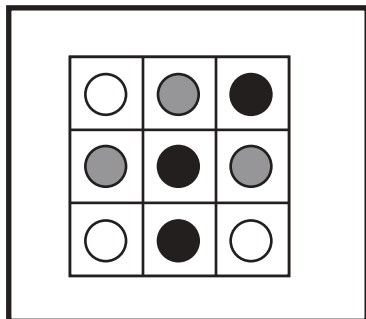


# おうちで、やろう。

Study at home. 小学校受験の家庭学習教材

## 図形：同図形 6

左の太い四角の中がお手本です。このお手本とそっくり同じ形を右の4つの中から見つけて○をつけます。



※1. このプリントは、しながわ・目黒こどもスクールのウェブサイトでダウンロードができます。無断複写・引用はご遠慮ください。  
 ※2. このプリントを活用したオンライン授業のスケジュールは、しながわ・目黒こどもスクールのウェブサイトでご確認ください。

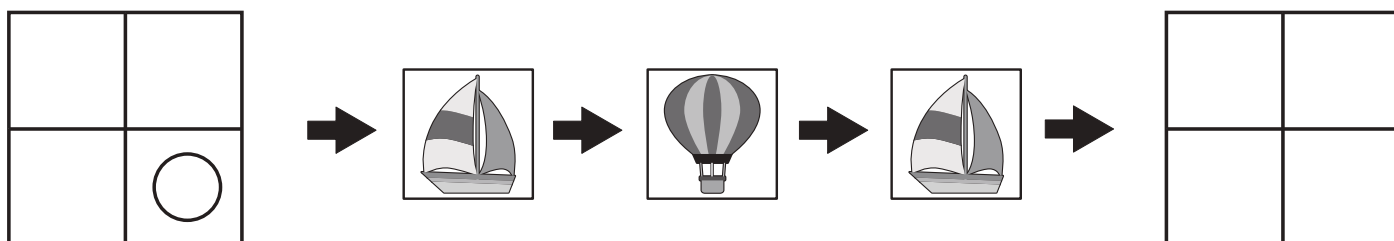
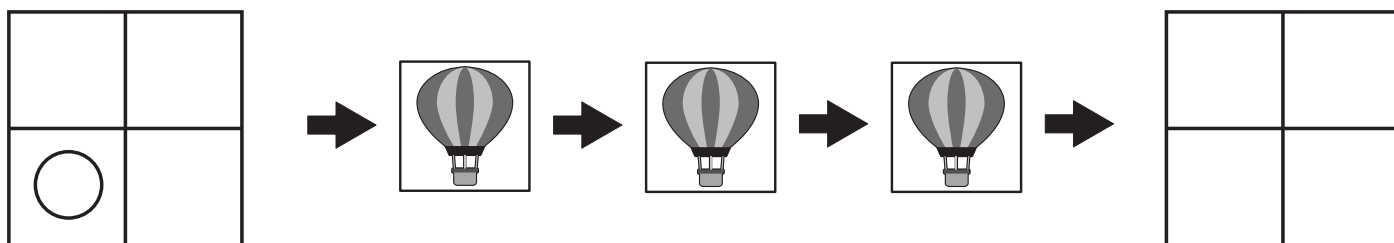
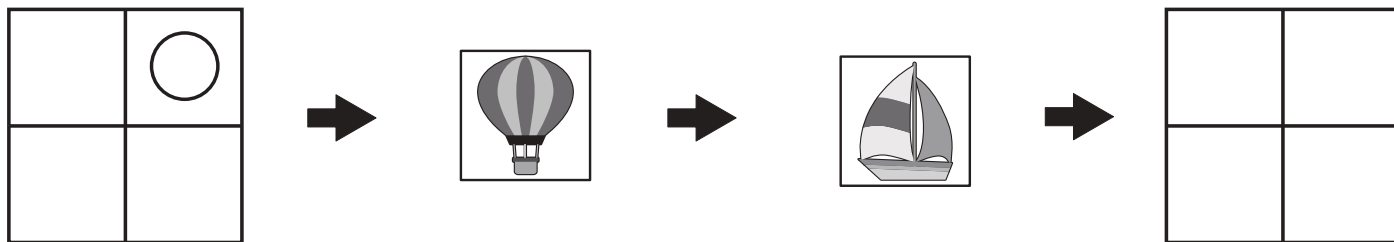
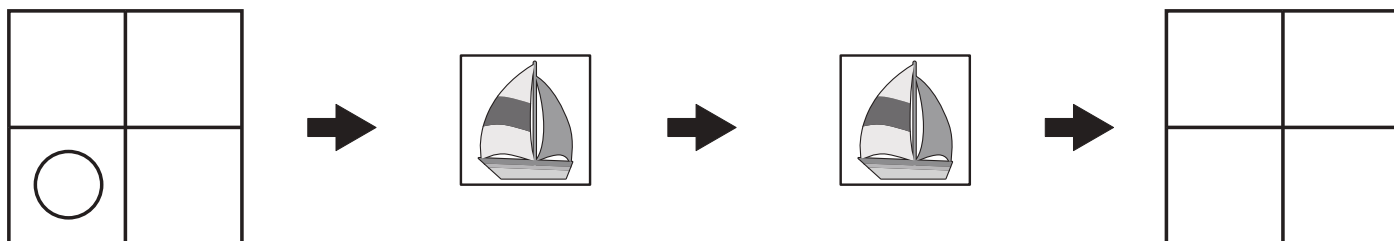
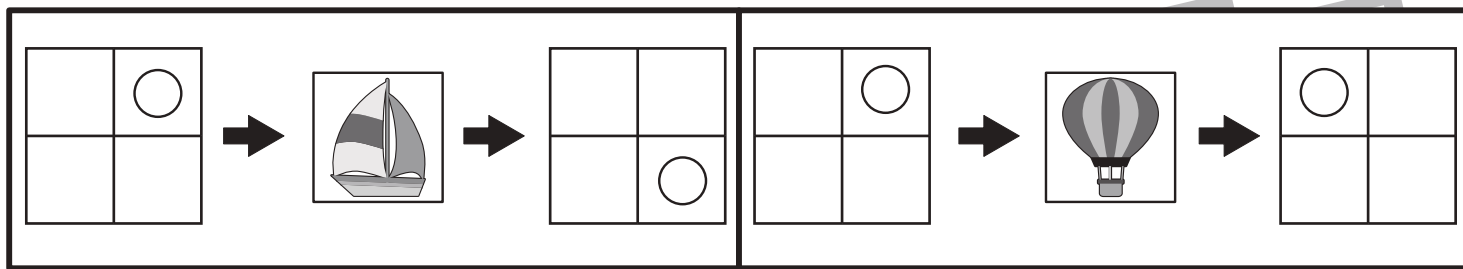


# おうちで、やろう。

Study at home.

## 推理：ブラックボックス 12

上の太い四角の中が約束です。乗り物の箱の中に左の四角を入れるとOがマスの中を回って移動し右の四角のようになって出てきます。このお約束で左にある四角を矢印の順番に箱の中に入れいき、最後に出てきた四角のOの位置を考えて、右の四角にOをかきます。



※1. このプリントは、しながわ・目黒こどもスクールのウェブサイトでダウンロードができます。無断複写・引用はご遠慮ください。  
 ※2. このプリントを活用したオンライン授業のスケジュールは、しながわ・目黒こどもスクールのウェブサイトでご確認ください。

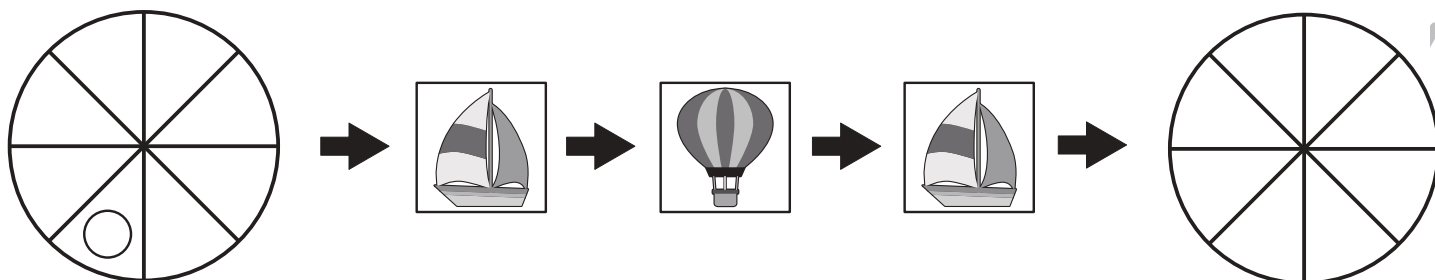
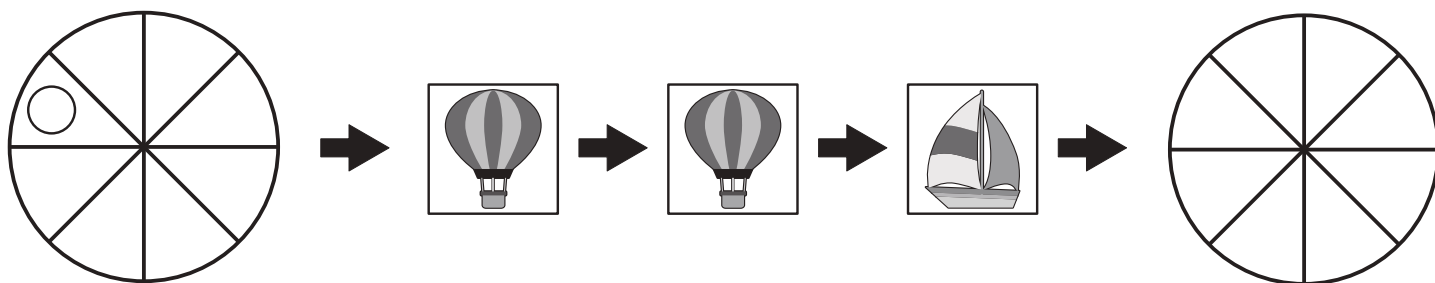
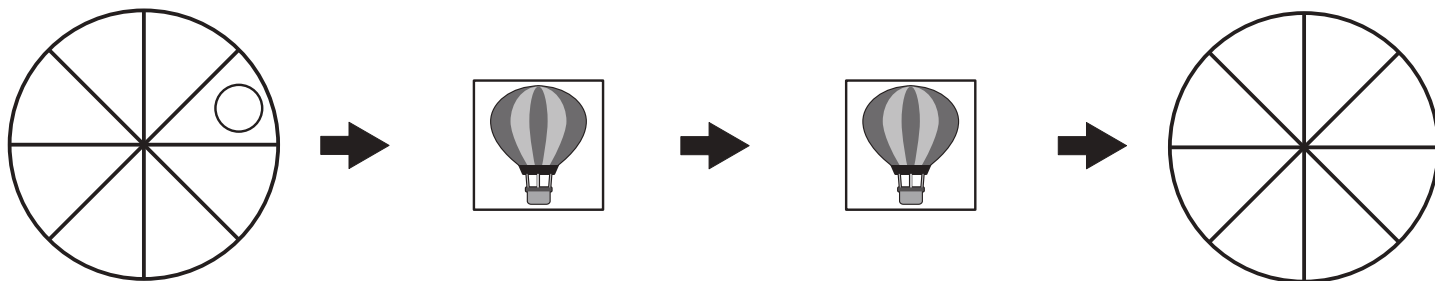
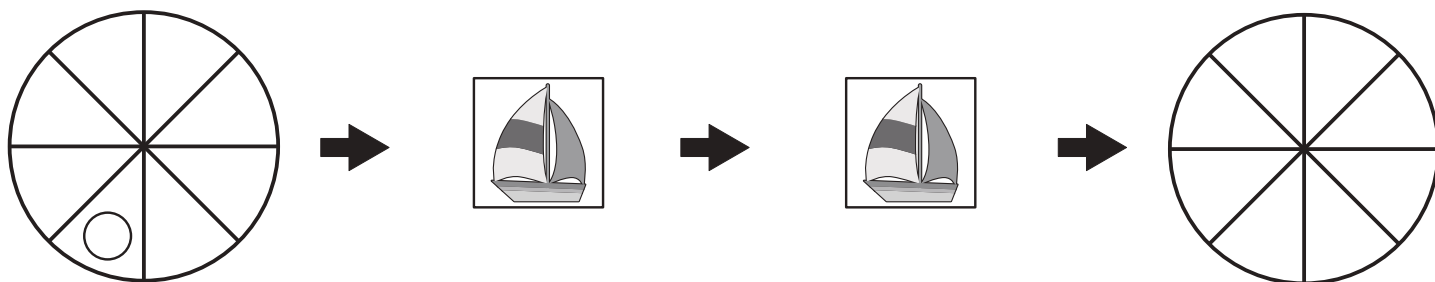
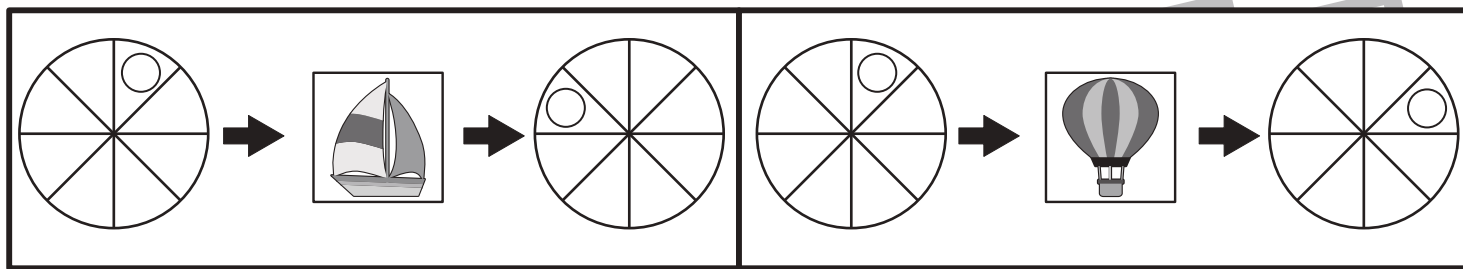


# おうちで、やろう。

Study at home.

## 推理：ブラックボックス 13

上の太い四角の中が約束です。乗り物の箱の中に左の丸を入れるとOがマスの中を回って移動し右のようになって出てきます。この約束で左にある丸を矢印の順番に箱の中に入れいき、最後に出てきたOの位置を考えて、右の場所にOをかきます。



※1. このプリントは、しながわ・目黒こどもスクールのウェブサイトでダウンロードができます。無断複写・引用はご遠慮ください。  
 ※2. このプリントを活用したオンライン授業のスケジュールは、しながわ・目黒こどもスクールのウェブサイトでご確認ください。

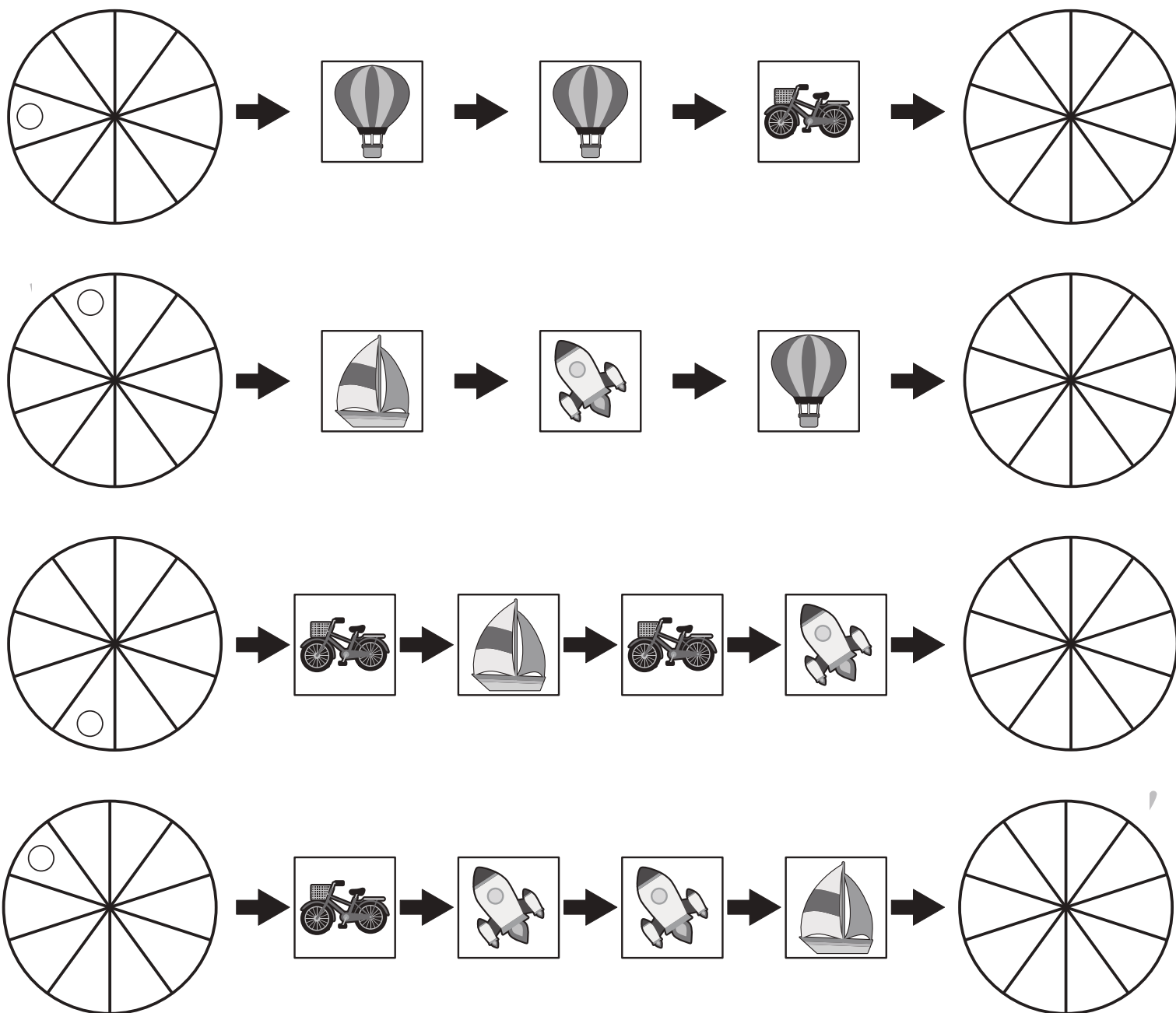
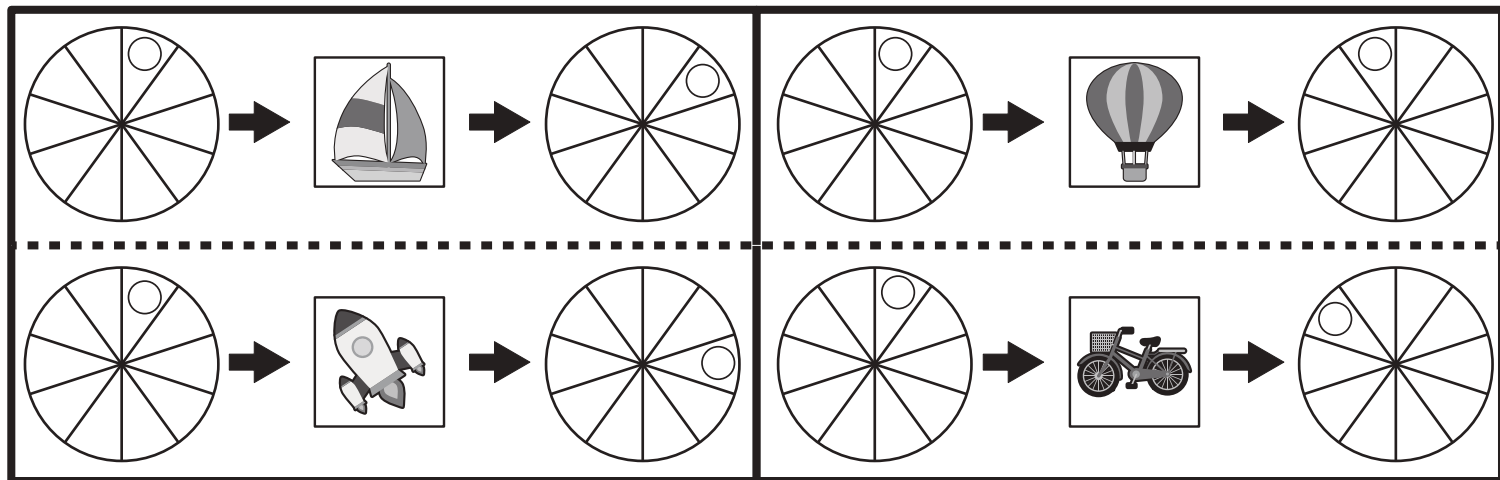


# おうちで、やろう。

Study at home.

## 推理：ブラックボックス 14

上の太い四角の中が約束です。乗り物の箱の中に左の丸を入れるとOがマスの中を回って移動し右のようになって出てきます。この約束で左にある丸を矢印の順番に箱の中に入れいき、最後に出てきたOの位置を考えて、右の場所にOをかきます。



※1. このプリントは、しながわ・目黒こどもスクールのウェブサイトでダウンロードができます。無断複写・引用はご遠慮ください。

※2. このプリントを活用したオンライン授業のスケジュールは、しながわ・目黒こどもスクールのウェブサイトでご確認ください。






# おうちで、やろう。

Study at home. 小学校受験の家庭学習教材

数量：ならびかた1

四角の中の絵の並び方を考えます。黒い矢印のついている方が前、白い矢印は後ろです。それぞれお話のとおりにならびかたをつけてみましょう。

- ① 前から4番目の絵に○をつけましょう。
- ② 前から3番目の絵に○をつけましょう。
- ③ 前から4番目と5番目の絵を○で囲みましょう。
- ④ 後ろから3番目から5番目までの絵を○で囲みましょう。
- ⑤ いちばん前から5番目までの絵を○で囲みましょう。



※1. このプリントは、しながわ・目黒こどもスクールのウェブサイトでダウンロードができます。無断複写・引用はご遠慮ください。  
 ※2. このプリントを活用したオンライン授業のスケジュールは、しながわ・目黒こどもスクールのウェブサイトでご確認ください。








# おうちで、やろう。

Study at home. 小学校受験の家庭学習教材

数量：ならびかた2

四角の中の絵の並び方を考えます。黒い矢印のついている方が前、白い矢印は後ろです。それぞれお話のとおりにならびかたを答えをつけましょう。

- ① 先頭の絵に○を、一番後ろの絵に△つけましょう。
- ② 後ろから4番目の絵に○を、前から4番目の絵に△をつけましょう。
- ③ 上の段の前から3番目の絵に○を、下の段の後ろから3番目の絵に△をつけましょう。
- ④ 上の段の真ん中の絵に○を、下の段の前からも後ろからも同じ数の絵に△をつけましょう。
- ⑤ 前から10番目の絵に○を、後ろから9番目の絵に△をつけましょう。



※1. このプリントは、しながわ・目黒こどもスクールのウェブサイトでダウンロードができます。無断複写・引用はご遠慮ください。  
 ※2. このプリントを活用したオンライン授業のスケジュールは、しながわ・目黒こどもスクールのウェブサイトでご確認ください。




# おうちで、やろう。

Study at home. 小学校受験の家庭学習教材

数量：加減 17

上の四角の中の絵の数をかぞえて、その数より2つ多い数だけ下の四角の同じ絵の右に○をかきます。



※1. このプリントは、しながわ・目黒こどもスクールのウェブサイトからダウンロードができます。無断複写・引用はご遠慮ください。  
※2. このプリントを活用したオンライン授業のスケジュールは、しながわ・目黒こどもスクールのウェブサイトでご確認ください。






# おうちで、やろう。

Study at home. 小学校受験の家庭学習教材

数量：加減 18

上の四角の中の絵の数をかぞえて、その数より2つ少ない数だけ下の四角の同じ絵の右に○をかきます。



※1. このプリントは、しながわ・目黒こどもスクールのウェブサイトからダウンロードできます。無断複写・引用はご遠慮ください。  
 ※2. このプリントを活用したオンライン授業のスケジュールは、しながわ・目黒こどもスクールのウェブサイトでご確認ください。

