



おうちで、やろう。

Study at home. 小学校受験の家庭学習教材

図形：折り重ね 37

左のマスは透明です。このマス我真ん中の太い線で矢印の方向へ折り重ねます。重ねた後の見え方を考えて、灰色のマスになる場所を考えて、下のマスを塗ります。

The image shows a sequence of 32 3x3 grids arranged in four rows of eight. Each grid has a horizontal fold line across the middle row and an arrow pointing to the right. The top 3x3 grid in each set has some cells shaded gray, representing the pattern after folding. The bottom 3x3 grid is empty, intended for the student to shade the cells that would be visible after the fold.

※1. このプリントは、しながわ・目黒こどもスクールのウェブサイトでダウンロードができます。無断複写・引用はご遠慮ください。
※2. このプリントを活用したオンライン授業のスケジュールは、しながわ・目黒こどもスクールのウェブサイトでご確認ください。



おうちで、やろう。

Study at home. 小学校受験の家庭学習教材

図形：折り重ね 38

左のマスは透明です。このマス我真ん中の太い線で矢印の方向へ折り重ねます。重ねた後の見え方を考えて、灰色のマスになる場所を考えて、下のマスを塗ります。

※1. このプリントは、しながわ・目黒こどもスクールのウェブサイトでダウンロードができます。無断複写・引用はご遠慮ください。
 ※2. このプリントを活用したオンライン授業のスケジュールは、しながわ・目黒こどもスクールのウェブサイトでご確認ください。



おうちで、やろう。

Study at home. 小学校受験の家庭学習教材

図形：折り重ね 39

左のマスは透明です。このマス我真ん中の太い線で矢印の方向へ折り重ねます。重ねた後の見え方を考えて、灰色のマスになる場所を考えて、下のマスを塗ります。

※1. このプリントは、しながわ・目黒こどもスクールのウェブサイトでダウンロードができます。無断複写・引用はご遠慮ください。
 ※2. このプリントを活用したオンライン授業のスケジュールは、しながわ・目黒こどもスクールのウェブサイトでご確認ください。

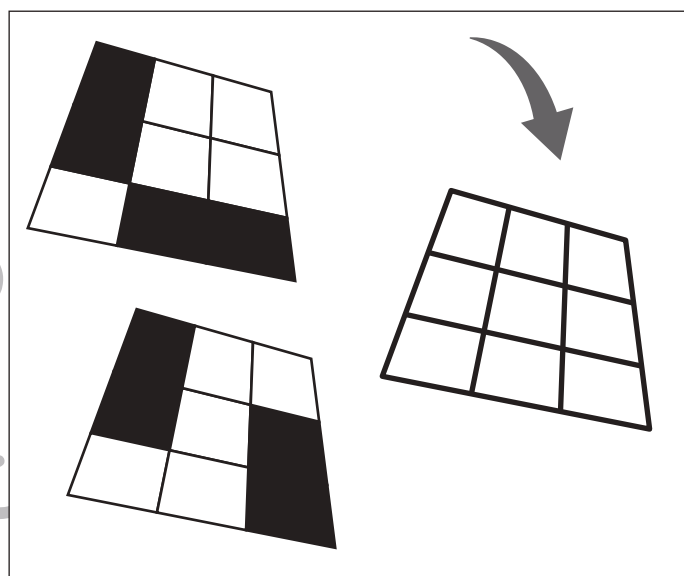
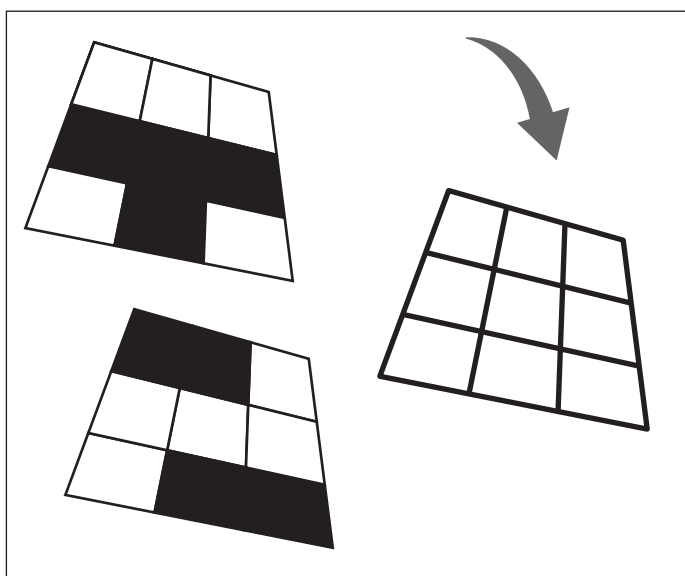
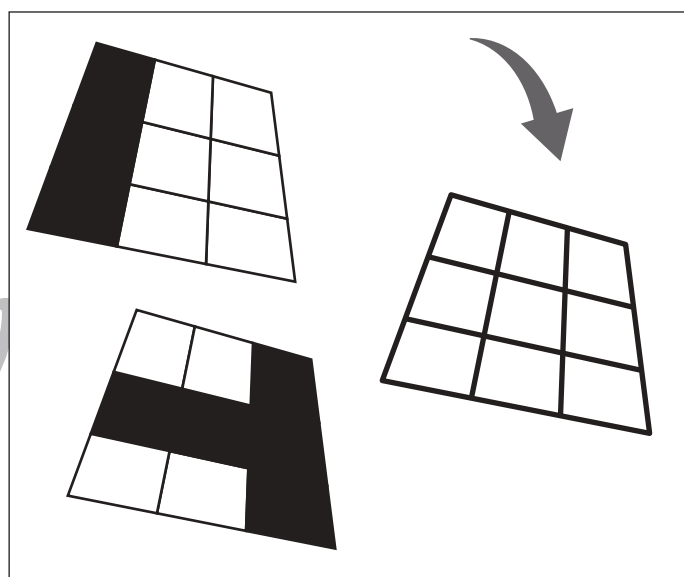
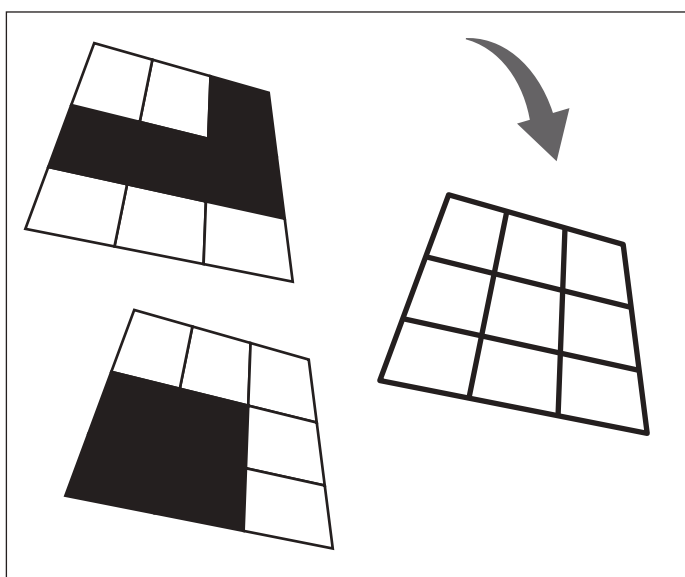
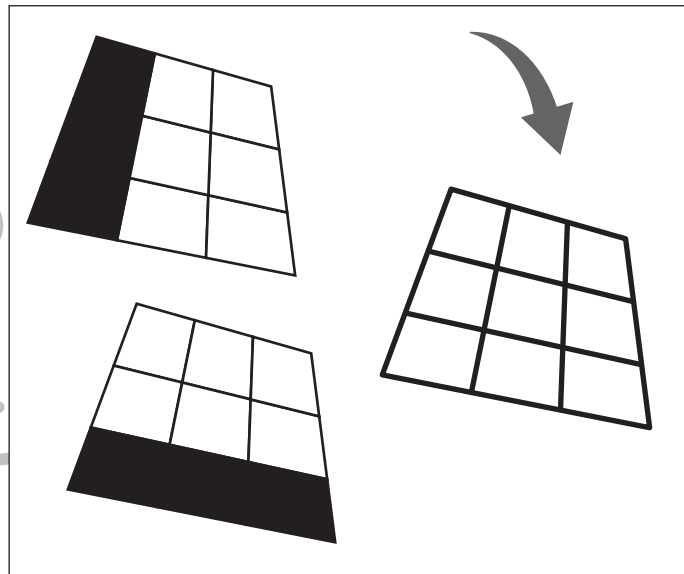
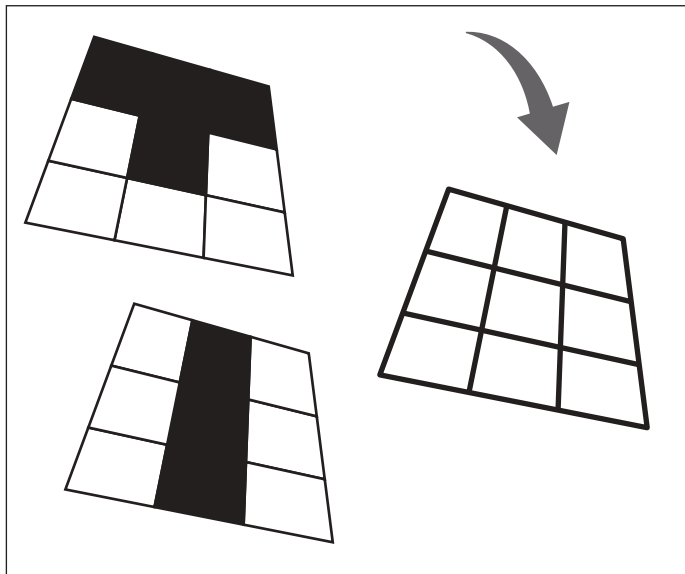


おうちで、やろう。

Study at home. 小学校受験の家庭学習教材

推理：パネルあわせ1

左の2枚のパネルの白いマスは透けて見えていて、黒い模様が重なると黒く見えます。この約束のとき、2枚のパネルをぴったり重ねました。重なったパネルを「上から」覗くと、どのように見えますか。黒く見える箇所を考えて右のマスの中の正しい場所に○をつけましょう。



※1. このプリントは、しながわ・目黒こどもスクールのウェブサイトでダウンロードができます。無断複写・引用はご遠慮ください。

※2. このプリントを活用したオンライン授業のスケジュールは、しながわ・目黒こどもスクールのウェブサイトでご確認ください。

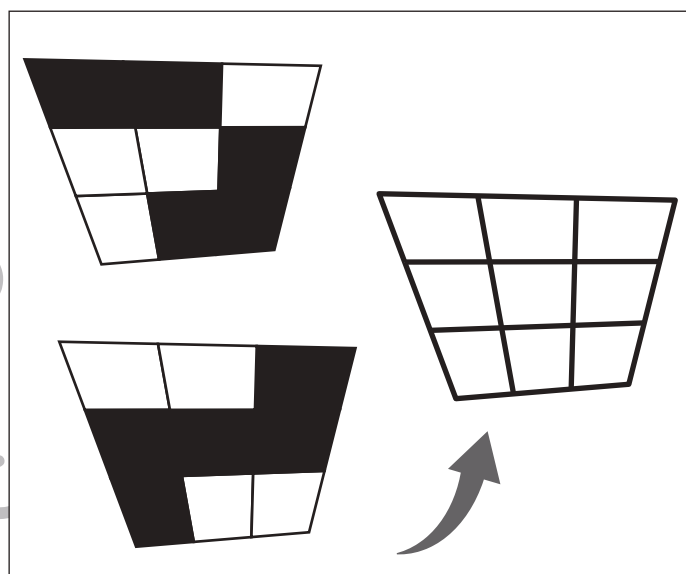
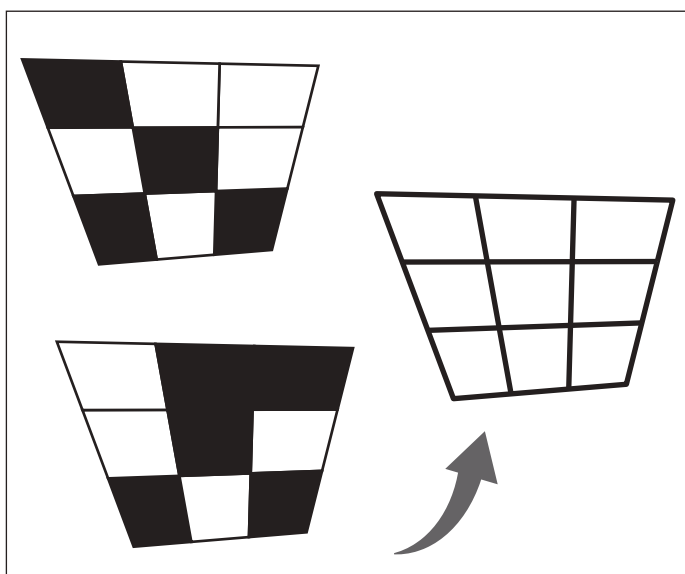
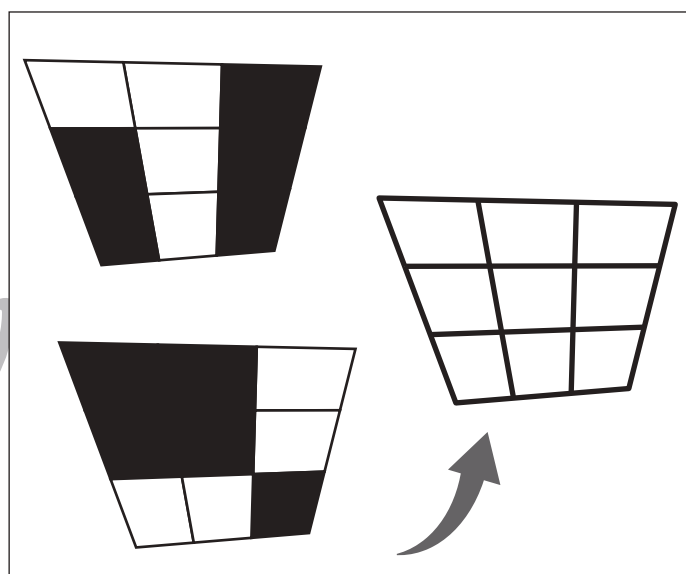
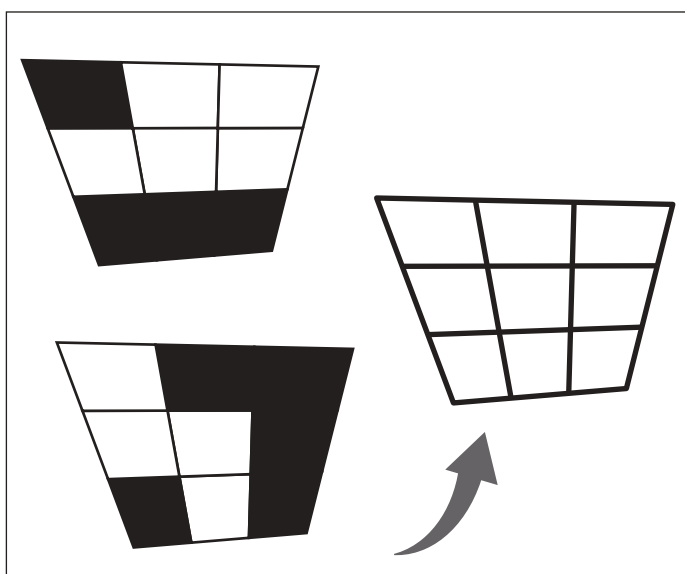
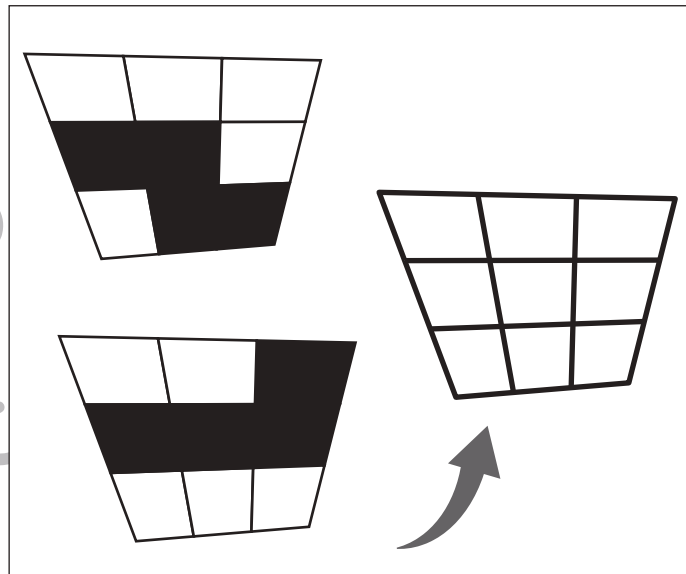
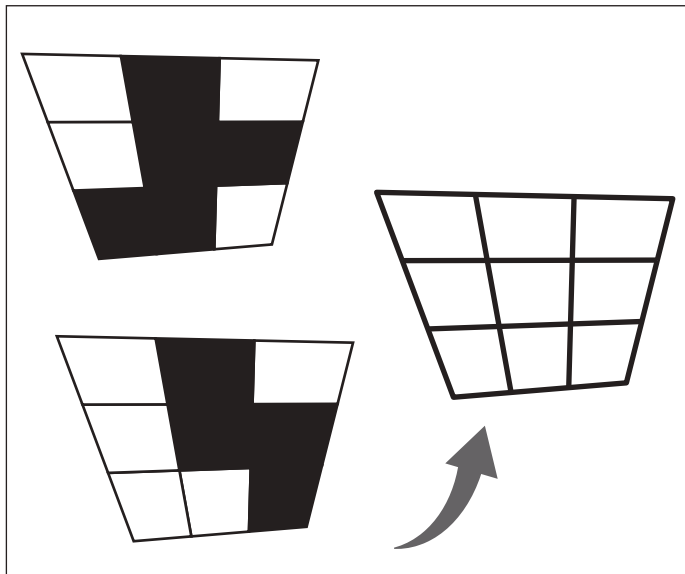


おうちで、やろう。

Study at home. 小学校受験の家庭学習教材

推理：パネルあわせ2

左の2枚のパネルの白いマスは透けて見えていて、黒い模様が重なると黒く見えます。この約束のとき、2枚のパネルをぴったり重ねました。重なったパネルを「下から」覗くと、どのように見えますか。黒く見える箇所を考えて右のマスの中の正しい場所に○をつけましょ



※1. このプリントは、しながわ・目黒こどもスクールのウェブサイトからダウンロードができます。無断複写・引用はご遠慮ください。

※2. このプリントを活用したオンライン授業のスケジュールは、しながわ・目黒こどもスクールのウェブサイトでご確認ください。

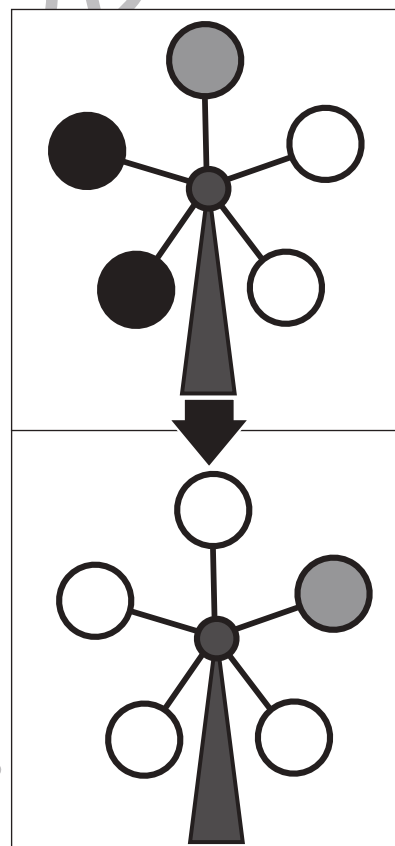
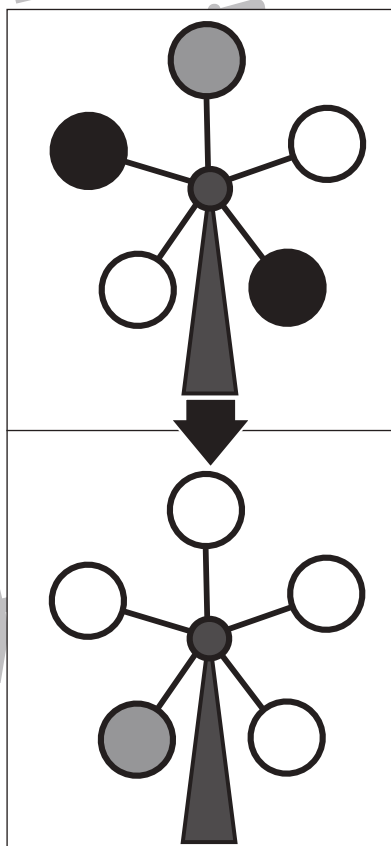
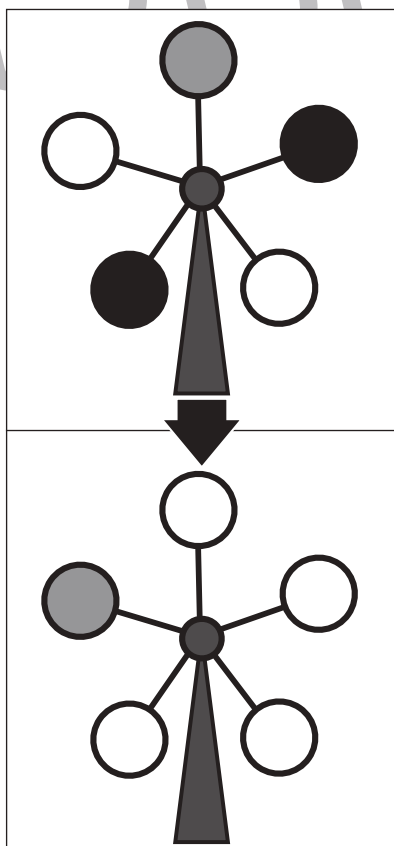
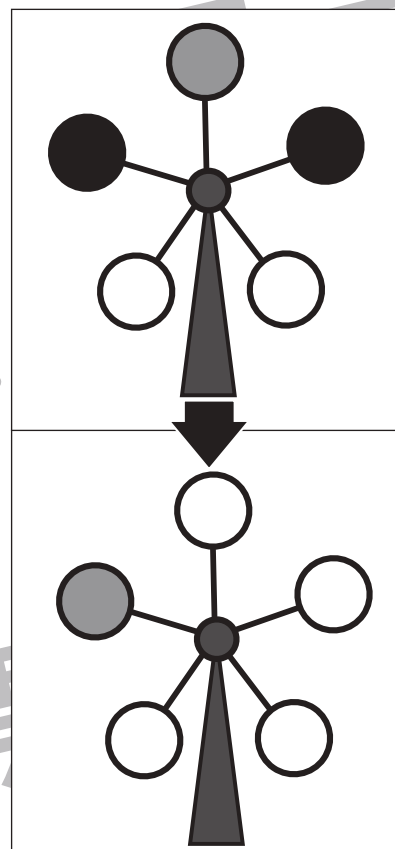
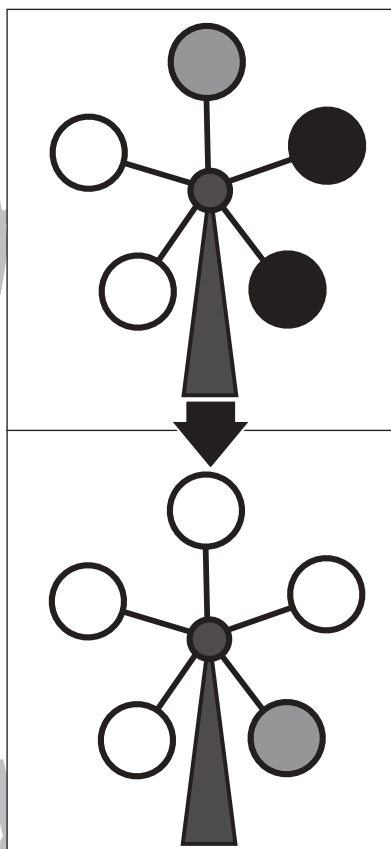
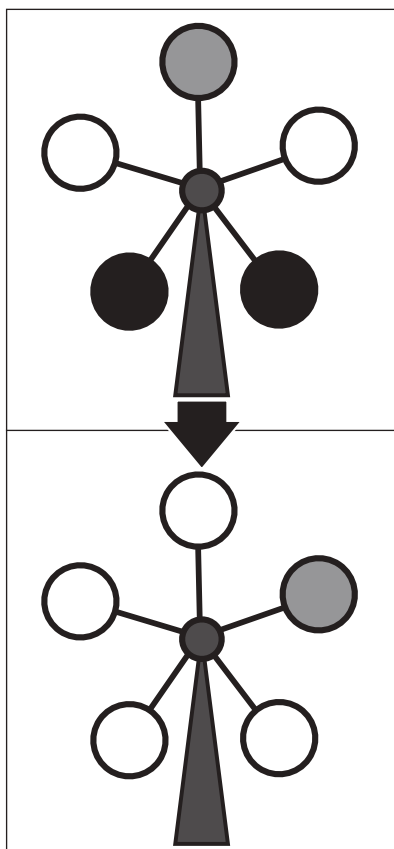


おうちで、やろう。

Study at home. 小学校受験の家庭学習教材

推理：回転9

上の観覧車が矢印の下のように回ったとき、灰色の場所はわかりますが、黒丸の場所がわかりません。
黒丸の場所を考えて塗ります。



※1. このプリントは、しながわ・目黒こどもスクールのウェブサイトでダウンロードができます。無断複写・引用はご遠慮ください。
 ※2. このプリントを活用したオンライン授業のスケジュールは、しながわ・目黒こどもスクールのウェブサイトでご確認ください。

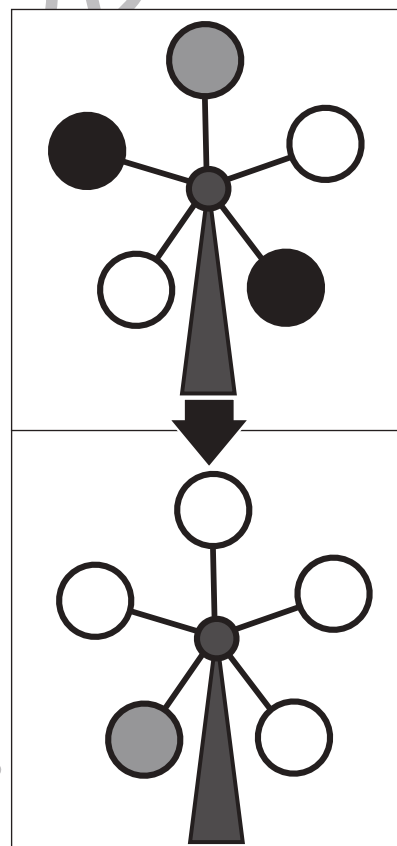
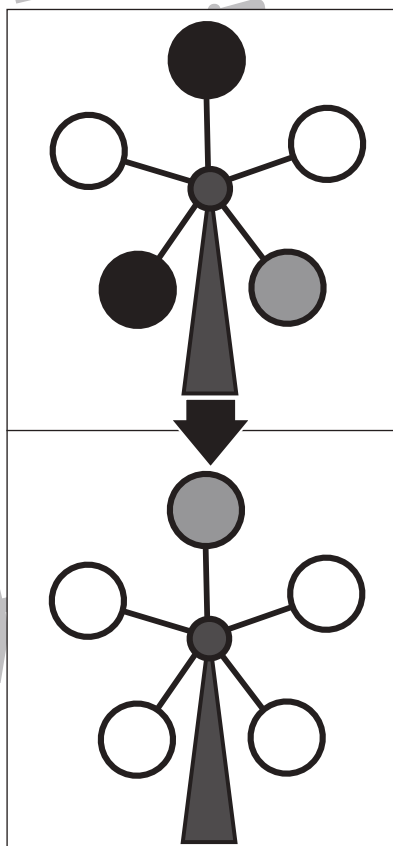
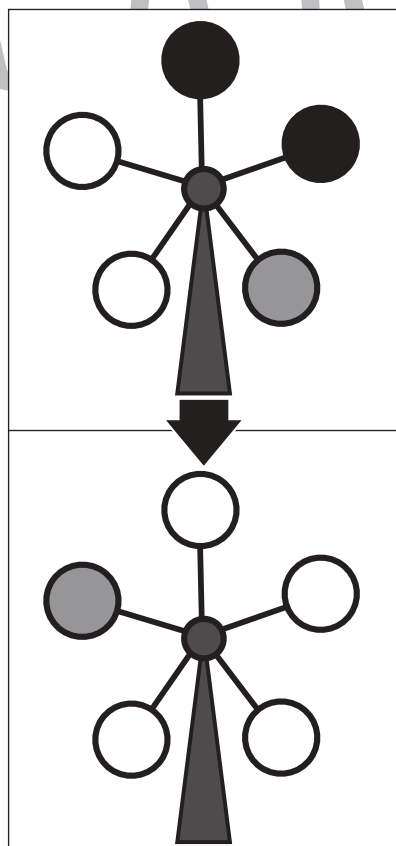
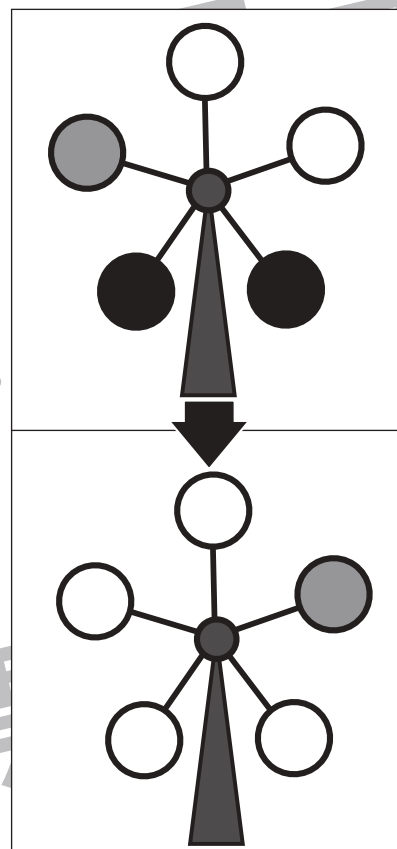
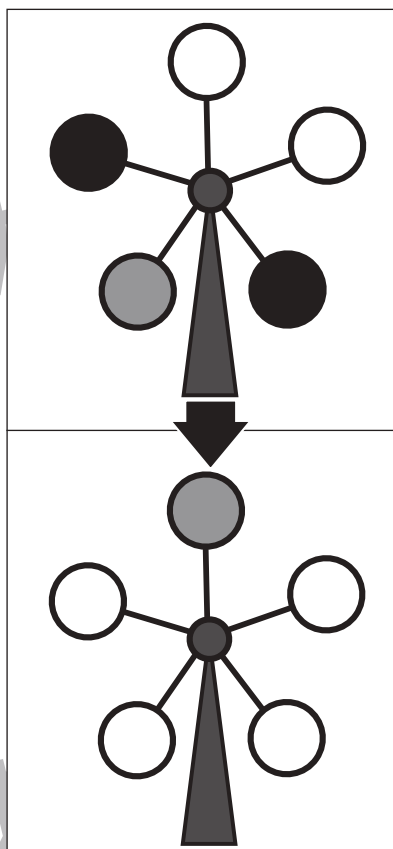
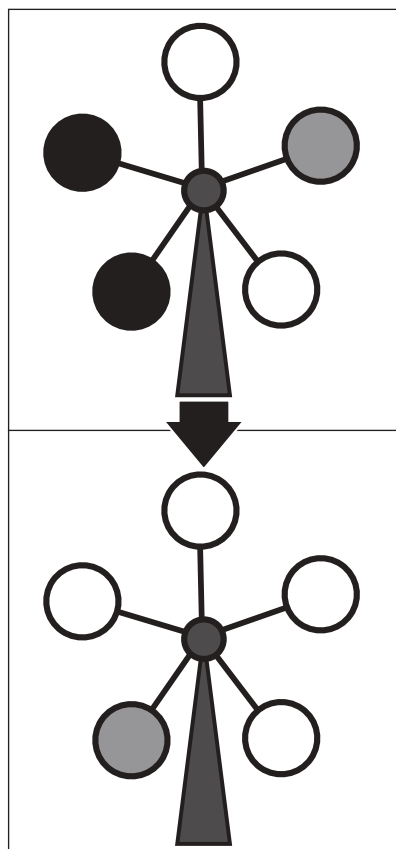


おうちで、やろう。

Study at home. 小学校受験の家庭学習教材

推理：回転 10

上の観覧車が矢印の下のように回ったとき、灰色の場所はわかりますが、黒丸の場所がわかりません。
黒丸の場所を考えて塗ります。



※1. このプリントは、しながわ・目黒こどもスクールのウェブサイトでダウンロードができます。無断複写・引用はご遠慮ください。
 ※2. このプリントを活用したオンライン授業のスケジュールは、しながわ・目黒こどもスクールのウェブサイトでご確認ください。





おうちで、やろう。

Study at home. 小学校受験の家庭学習教材

推理：条件推理 13

上の四角の中が約束です。動物は1回で○の数だけマスを進めます。この約束で星まで進むには何回進めがよいですか。その数だけ下の四角に○をかきます。

	○○
---	----


										
---	--	--	--	--	--	---	--	--	--	--






--

											
--	--	--	--	--	--	--	--	--	--	--	--



											
--	--	--	--	--	--	--	--	--	--	--	---

--

--

※1. このプリントは、しながわ・目黒こどもスクールのウェブサイトでダウンロードができます。無断複写・引用はご遠慮ください。
 ※2. このプリントを活用したオンライン授業のスケジュールは、しながわ・目黒こどもスクールのウェブサイトでご確認ください。



おうちで、やろう。

Study at home. 小学校受験の家庭学習教材

推理：条件推理 14

上の四角の中が約束です。動物は1回で○の数だけマスを進めます。この約束で星まで進むには何回進めがよいですか。その数だけ下の四角に○をかきます。

	○	○	○
--	---	---	---

	★											
--	---	--	--	--	--	--	--	--	--	--	--	--



--	--	--	--	--	--	--	--	--	--	--	--	--

--	--	--	--	--	--	--	--	--	--	--	--	--



★												
---	--	--	--	--	--	--	--	--	--	--	--	--

--	--	--	--	--	--	--	--	--	--	--	--	--

	★											



--	--	--	--	--	--	--	--	--	--	--	--	--

※1. このプリントは、しながわ・目黒こどもスクールのウェブサイトでダウンロードができます。無断複写・引用はご遠慮ください。
※2. このプリントを活用したオンライン授業のスケジュールは、しながわ・目黒こどもスクールのウェブサイトでご確認ください。























おうちで、やろう。

Study at home. 小学校受験の家庭学習教材






処理：置き換え9
















上の太い四角の中が約束です。この約束通りに下のマスに記号をかきます。
この問題はスピードを意識して取り組む練習をしてみましょう。(それぞれ1分30秒～2分)

 → ○	 → △	 → ⊙	 → ×	 → □
---	---	---	--	---



 → 1	 → 2	 → 3	 → 4	 → 5
---	---	---	--	---



※1. このプリントは、しながわ・目黒こどもスクールのウェブサイトでダウンロードができます。無断複写・引用はご遠慮ください。
※2. このプリントを活用したオンライン授業のスケジュールは、しながわ・目黒こどもスクールのウェブサイトでご確認ください。