



おうちで、やろう。

Study at home. 小学校受験の家庭学習教材

図形：折り重ね 37

左のマスは透明です。このマス我真ん中の太い線で矢印の方向へ折り重ねます。重ねた後の見え方を考えて、灰色のマスになる場所を考えて、下のマスを塗ります。

The image shows a 4x4 grid of 32 3x3 grids. Each grid has a horizontal fold line and an arrow pointing right. The grids show the result of folding the top half onto the bottom half. The top half is transparent, and the bottom half is shaded gray. The resulting pattern of gray squares varies across the grids.

※1. このプリントは、しながわ・目黒こどもスクールのウェブサイトでダウンロードができます。無断複写・引用はご遠慮ください。
 ※2. このプリントを活用したオンライン授業のスケジュールは、しながわ・目黒こどもスクールのウェブサイトでご確認ください。



おうちで、やろう。

Study at home. 小学校受験の家庭学習教材

図形：折り重ね 38

左のマスは透明です。このマス我真ん中の太い線で矢印の方向へ折り重ねます。重ねた後の見え方を考えて、灰色のマスになる場所を考えて、下のマスを塗ります。

※1. このプリントは、しながわ・目黒こどもスクールのウェブサイトでダウンロードができます。無断複写・引用はご遠慮ください。
 ※2. このプリントを活用したオンライン授業のスケジュールは、しながわ・目黒こどもスクールのウェブサイトでご確認ください。



おうちで、やろう。

Study at home. 小学校受験の家庭学習教材

図形：折り重ね 39

左のマスは透明です。このマス我真ん中の太い線で矢印の方向へ折り重ねます。重ねた後の見え方を考えて、灰色のマスになる場所を考えて、下のマスを塗ります。

※1. このプリントは、しながわ・目黒こどもスクールのウェブサイトでダウンロードができます。無断複写・引用はご遠慮ください。
 ※2. このプリントを活用したオンライン授業のスケジュールは、しながわ・目黒こどもスクールのウェブサイトでご確認ください。



おうちで、やろう。

Study at home. 小学校受験の家庭学習教材

推理：パネルあわせ1

左の2枚のパネルの白いマスは透けて見えていて、黒い模様が重なると黒く見えます。この約束のとき、2枚のパネルをぴったり重ねました。重なったパネルを「上から」覗くと、どのように見えますか。黒く見える箇所を考えて右のマスに正しい場所に○をつけましょう。

黒く見える箇所に○をつける

黒く見える箇所に○をつける

黒く見える箇所に○をつける

黒く見える箇所に○をつける

黒く見える箇所に○をつける

黒く見える箇所に○をつける

※1. このプリントは、しながわ・目黒こどもスクールのウェブサイトでダウンロードができます。無断複写・引用はご遠慮ください。

※2. このプリントを活用したオンライン授業のスケジュールは、しながわ・目黒こどもスクールのウェブサイトでご確認ください。



おうちで、やろう。

Study at home. 小学校受験の家庭学習教材

推理：パネルあわせ2

左の2枚のパネルの白いマスは透けて見えていて、黒い模様が重なると黒く見えます。この約束のとき、2枚のパネルをぴったり重ねました。重なったパネルを「下から」覗くと、どのように見えますか。黒く見える箇所を考えて右のマスに正しい場所に○をつけましょ

黒く見える箇所に○をつける

黒く見える箇所に○をつける

黒く見える箇所に○をつける

黒く見える箇所に○をつける

黒く見える箇所に○をつける

黒く見える箇所に○をつける

※1. このプリントは、しながわ・目黒こどもスクールのウェブサイトでダウンロードができます。無断複写・引用はご遠慮ください。

※2. このプリントを活用したオンライン授業のスケジュールは、しながわ・目黒こどもスクールのウェブサイトでご確認ください。

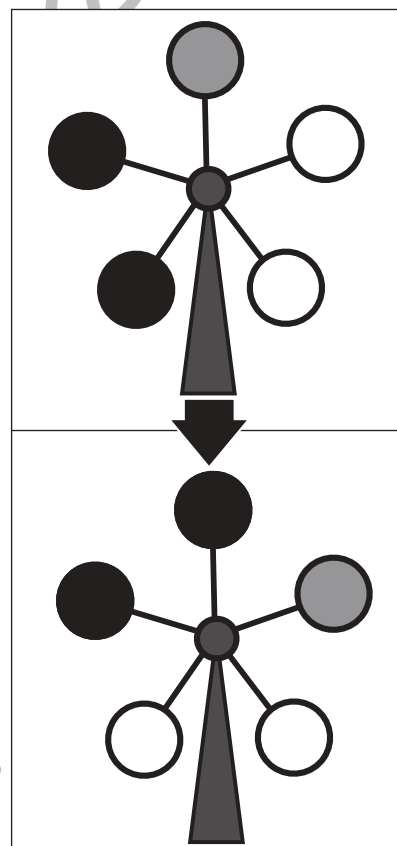
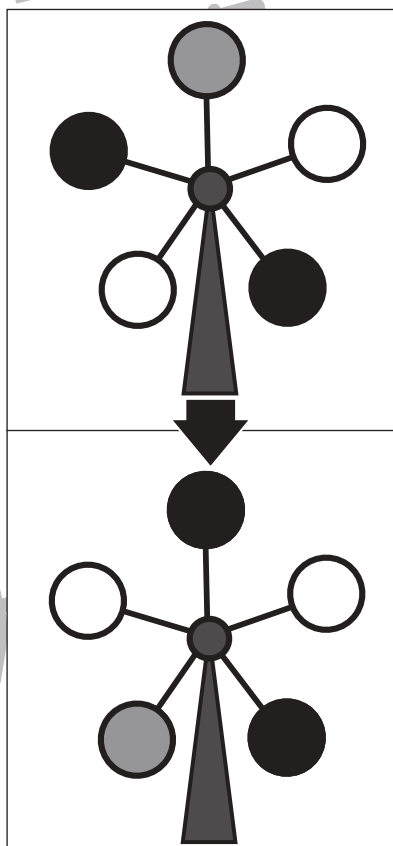
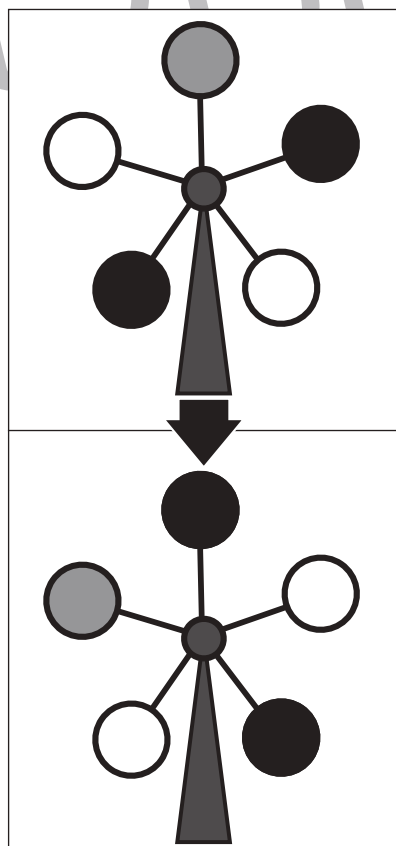
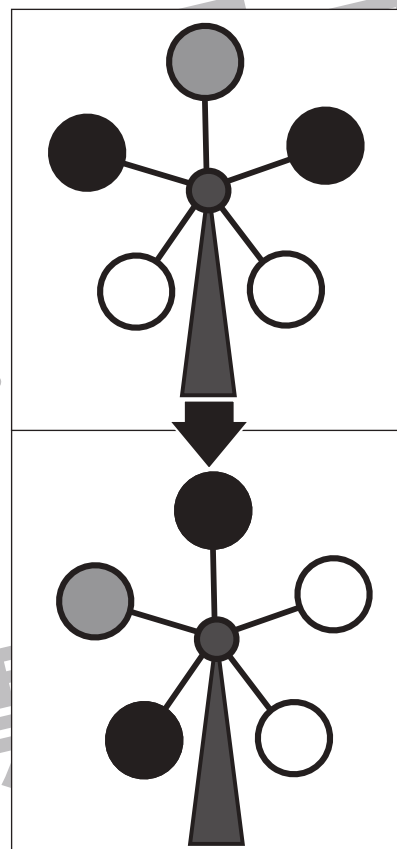
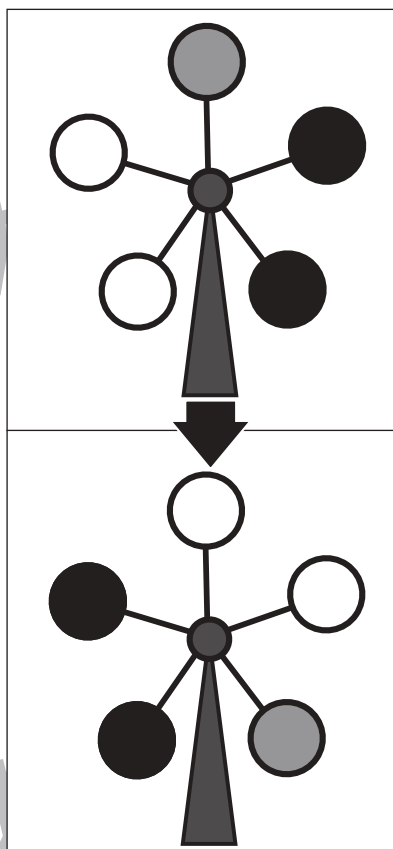
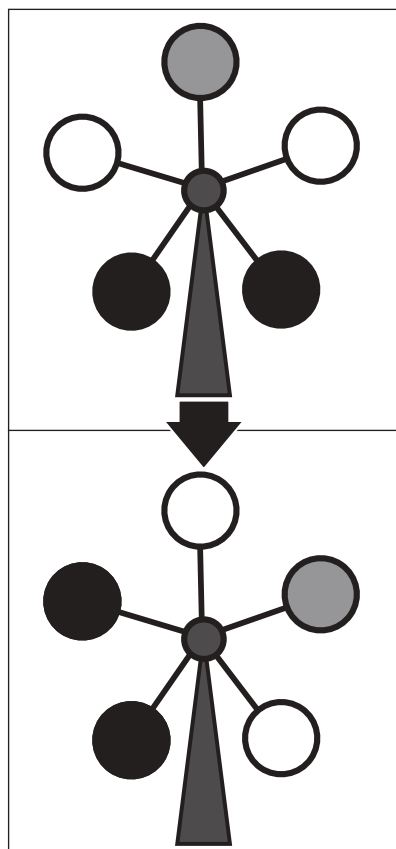


おうちで、やろう。

Study at home. 小学校受験の家庭学習教材

推理：回転9

上の観覧車が矢印の下のように回ったとき、灰色の場所はわかりますが、黒丸の場所がわかりません。
黒丸の場所を考えて塗ります。



※1. このプリントは、しながわ・目黒こどもスクールのウェブサイトでダウンロードができます。無断複写・引用はご遠慮ください。
 ※2. このプリントを活用したオンライン授業のスケジュールは、しながわ・目黒こどもスクールのウェブサイトでご確認ください。

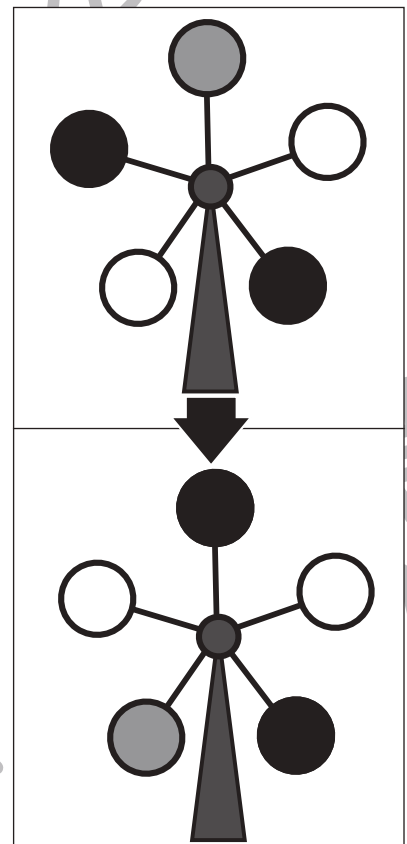
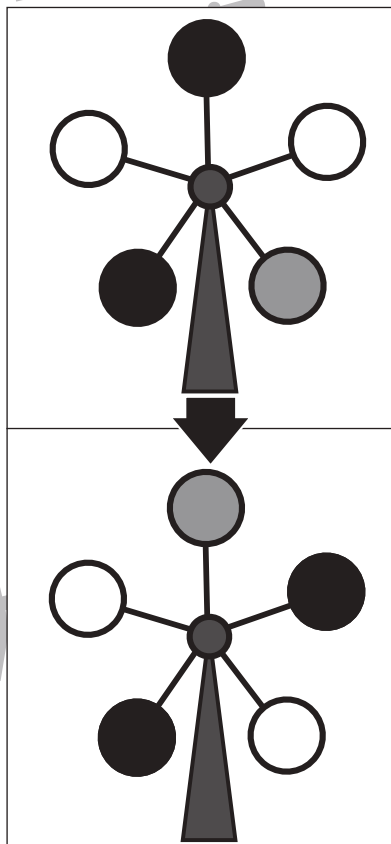
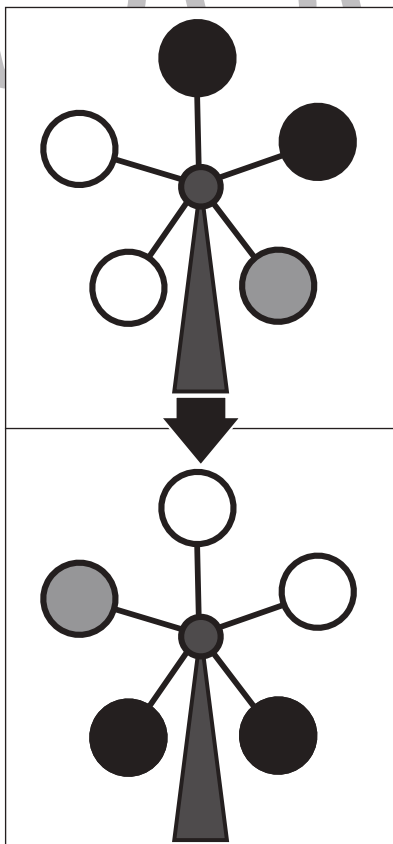
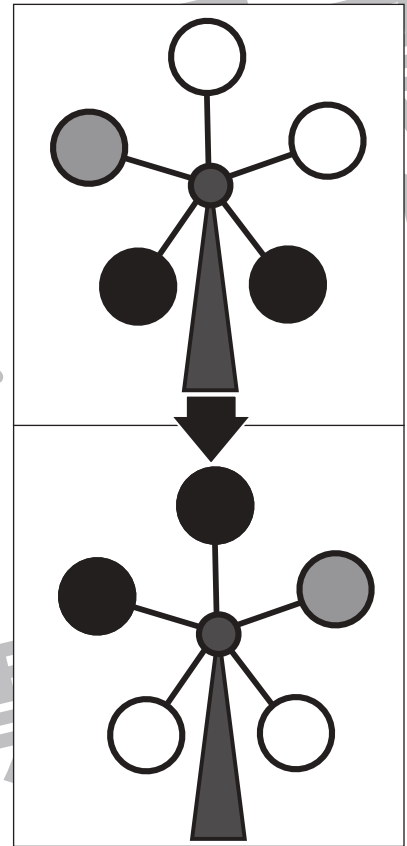
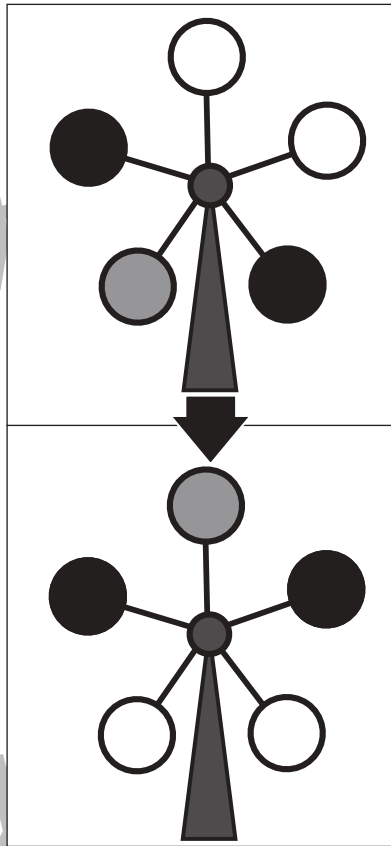
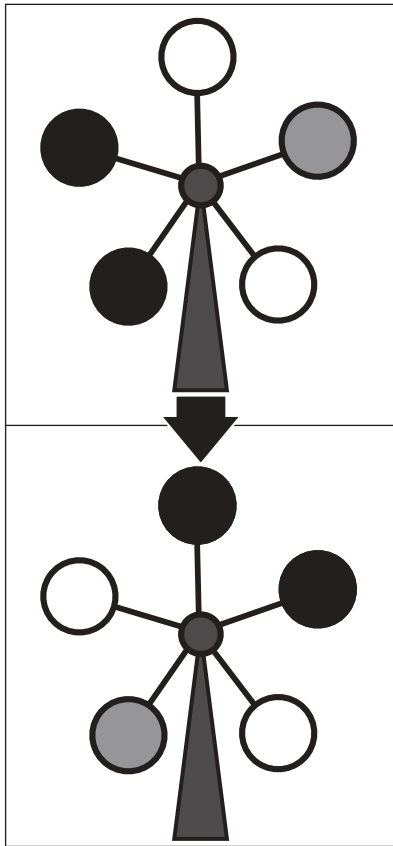


おうちで、やろう。

Study at home. 小学校受験の家庭学習教材

推理：回転 10

上の観覧車が矢印の下のように回ったとき、灰色の場所はわかりますが、黒丸の場所がわかりません。
黒丸の場所を考えて塗ります。



※1. このプリントは、しながわ・目黒こどもスクールのウェブサイトでダウンロードができます。無断複写・引用はご遠慮ください。
 ※2. このプリントを活用したオンライン授業のスケジュールは、しながわ・目黒こどもスクールのウェブサイトでご確認ください。





おうちで、やろう。

Study at home. 小学校受験の家庭学習教材

推理：条件推理 13


上の四角の中が約束です。動物は1回で○の数だけマスを進めます。この約束で星まで進むには何回進めがよいですか。その数だけ下の四角に○をかきます。

	○ ○
---	-----


										
---	--	--	--	--	--	---	--	--	--	--






○ × 3

										
--	--	--	--	--	--	--	--	--	--	--



										
--	--	--	--	--	--	--	--	--	--	---

○ × 7

○ × 9

※1. このプリントは、しながわ・目黒こどもスクールのウェブサイトでダウンロードができます。無断複写・引用はご遠慮ください。
※2. このプリントを活用したオンライン授業のスケジュールは、しながわ・目黒こどもスクールのウェブサイトでご確認ください。



おうちで、やろう。

Study at home. 小学校受験の家庭学習教材

推理：条件推理 14

上の四角の中が約束です。動物は1回で○の数だけマスを進めます。この約束で星まで進むには何回進めがよいですか。その数だけ下の四角に○をかきます。

	○	○	○
--	---	---	---

	★											
--	---	--	--	--	--	--	--	--	--	--	--	--

←

○	×	3
---	---	---

--	--	--	--	--	--	--	--	--	--	--	--	--

→

★												
---	--	--	--	--	--	--	--	--	--	--	--	--

○	×	8
---	---	---

	★											

↑

○	×	6
---	---	---

※1. このプリントは、しながわ・目黒こどもスクールのウェブサイトでダウンロードができます。無断複写・引用はご遠慮ください。
 ※2. このプリントを活用したオンライン授業のスケジュールは、しながわ・目黒こどもスクールのウェブサイトでご確認ください。























おうちで、やろう。

Study at home. 小学校受験の家庭学習教材

処理：置き換え9






上の太い四角の中が約束です。この約束通りに下のマスに記号をかきます。
この問題はスピードを意識して取り組む練習をしてみましょう。(それぞれ1分30秒～2分)
















 → ○	 → △	 → ⊙	 → ×	 → □
---	---	---	--	---



	○		□		△			○				△	
×					○		⊙		△		□		□ ⊙
		⊙		×							×		

 → 1	 → 2	 → 3	 → 4	 → 5
---	---	---	--	---



	1			3			5		5				2
			2		4			3		2		1	
3		5					1				4		4

※1. このプリントは、しながわ・目黒こどもスクールのウェブサイトでダウンロードができます。無断複写・引用はご遠慮ください。
※2. このプリントを活用したオンライン授業のスケジュールは、しながわ・目黒こどもスクールのウェブサイトでご確認ください。