



おうちで、やろう。

Study at home. 小学校受験の家庭学習教材

図形：回転鏡 1

左の四角のマスに矢印の方向へ 1 回倒した時の見え方を矢印の右のマスにかきます。その後、その四角を鏡で映したときの見え方を考えて一番右のマスにかきます。

--	--	--	--	--

--	--	--	--	--

--	--	--	--	--

--	--	--	--	--

--	--	--	--	--

※ 1. このプリントは、しながわ・目黒こどもスクールのウェブサイトからダウンロードができます。無断複写・引用はご遠慮ください。

※ 2. このプリントを活用したオンライン授業のスケジュールは、しながわ・目黒こどもスクールのウェブサイトでご確認ください。



おうちで、やろう。

Study at home. 小学校受験の家庭学習教材

図形：回転鏡2

左の四角のマスで矢印の方向へ1回倒した時の見え方を矢印の右のマスにかきます。その後、その四角を鏡で映したときの見え方を考えて一番右のマスにかきます。

<table border="1"> <tr><td></td><td></td></tr> <tr><td>△</td><td>○</td></tr> </table>			△	○	→	<table border="1"> <tr><td></td><td></td></tr> <tr><td></td><td></td></tr> </table>						<table border="1"> <tr><td></td><td></td></tr> <tr><td></td><td></td></tr> </table>				
△	○															

<table border="1"> <tr><td>○</td><td></td></tr> <tr><td>○</td><td>△</td></tr> </table>	○		○	△	→	<table border="1"> <tr><td></td><td></td></tr> <tr><td></td><td></td></tr> </table>						<table border="1"> <tr><td></td><td></td></tr> <tr><td></td><td></td></tr> </table>				
○																
○	△															

<table border="1"> <tr><td></td><td>○</td></tr> <tr><td>○</td><td>▽</td></tr> </table>		○	○	▽	→	<table border="1"> <tr><td></td><td></td></tr> <tr><td></td><td></td></tr> </table>						<table border="1"> <tr><td></td><td></td></tr> <tr><td></td><td></td></tr> </table>				
	○															
○	▽															

<table border="1"> <tr><td>●</td><td>○</td></tr> <tr><td>▷</td><td>◁</td></tr> </table>	●	○	▷	◁	→	<table border="1"> <tr><td></td><td></td></tr> <tr><td></td><td></td></tr> </table>						<table border="1"> <tr><td></td><td></td></tr> <tr><td></td><td></td></tr> </table>				
●	○															
▷	◁															

<table border="1"> <tr><td>○</td><td>▽</td></tr> <tr><td>●</td><td>▷</td></tr> </table>	○	▽	●	▷	→	<table border="1"> <tr><td></td><td></td></tr> <tr><td></td><td></td></tr> </table>						<table border="1"> <tr><td></td><td></td></tr> <tr><td></td><td></td></tr> </table>				
○	▽															
●	▷															

※1. このプリントは、しながわ・目黒こどもスクールのウェブサイトからダウンロードできます。無断複製・引用はご遠慮ください。

※2. このプリントを活用したオンライン授業のスケジュールは、しながわ・目黒こどもスクールのウェブサイトでご確認ください。

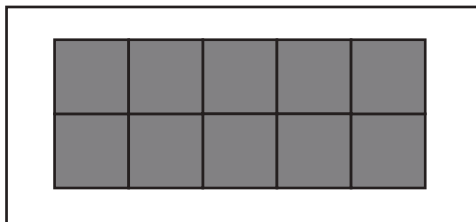


おうちで、やろう。


Study at home. 小学校受験の家庭学習教材

図形：構成 36

左上のお手本と同じ形を作るには、上と下のどの形を組み合わせたらいですか。点と点を線で結びます。それぞれの形は向きを変えてもいいですが、裏返してはいけません。



ばね・目黒



もスクール

※1. このプリントは、しながわ・目黒こどもスクールのウェブサイトでダウンロードができます。無断複写・引用はご遠慮ください。
 ※2. このプリントを活用したオンライン授業のスケジュールは、しながわ・目黒こどもスクールのウェブサイトでご確認ください。




おうちで、やろう。

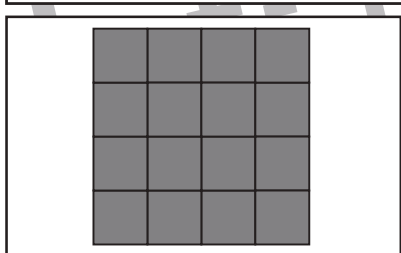
Study at home. 小学校受験の家庭学習教材

図形：構成 37

左上のお手本と同じ形を作るには、上と下のどの形を組み合わせたらいですか。点と点を線で結びます。それぞれの形は向きを変えてもいいですが、裏返してはいけません。



ばわ・目黒



もスクール

※1. このプリントは、しながわ・目黒こどもスクールのウェブサイトでダウンロードができます。無断複写・引用はご遠慮ください。
※2. このプリントを活用したオンライン授業のスケジュールは、しながわ・目黒こどもスクールのウェブサイトでご確認ください。




おうちで、やろう。

Study at home. 小学校受験の家庭学習教材

図形：構成 38

左上のお手本と同じ形を作るには、上と下のどの形を組み合わせたらいですか。点と点を線で結びます。それぞれの形は向きを変えてもいいですが、裏返してはいけません。




Row 1 of pieces:

- Shape 1: 3x3 top-left, 2x2 bottom-right.
- Shape 2: 2x3 top-left, 2x2 bottom-right.
- Shape 3: 2x3 top-left, 2x1 bottom-right.
- Shape 4: 2x2 top-left, 2x2 top-right, 2x1 bottom-right.

Row 2 of pieces:

- Shape 5: 2x1 top-left, 2x3 bottom-right.
- Shape 6: 2x2 top-left, 2x2 top-right, 2x1 bottom-right.
- Shape 7: 2x1 top-left, 2x2 top-right, 2x1 bottom-right.
- Shape 8: 2x2 top-left, 2x2 top-right, 2x1 bottom-right.



Row 1 of pieces:

- Shape 9: 2x2 top-left, 2x2 top-right, 2x1 bottom-right.
- Shape 10: 2x3 top-left, 2x2 top-right, 2x1 bottom-right.
- Shape 11: 2x1 top-left, 2x2 top-right, 2x1 bottom-right.
- Shape 12: 2x2 top-left, 2x2 top-right, 2x1 bottom-right.

Row 2 of pieces:

- Shape 13: 2x3 top-left, 2x1 bottom-right.
- Shape 14: 2x1 top-left, 2x2 top-right, 2x1 bottom-right.
- Shape 15: 2x2 top-left, 2x2 top-right, 2x1 bottom-right.
- Shape 16: 2x2 top-left, 2x2 top-right, 2x1 bottom-right.

※1. このプリントは、しながわ・目黒こどもスクールのウェブサイトでダウンロードができます。無断複写・引用はご遠慮ください。
※2. このプリントを活用したオンライン授業のスケジュールは、しながわ・目黒こどもスクールのウェブサイトでご確認ください。



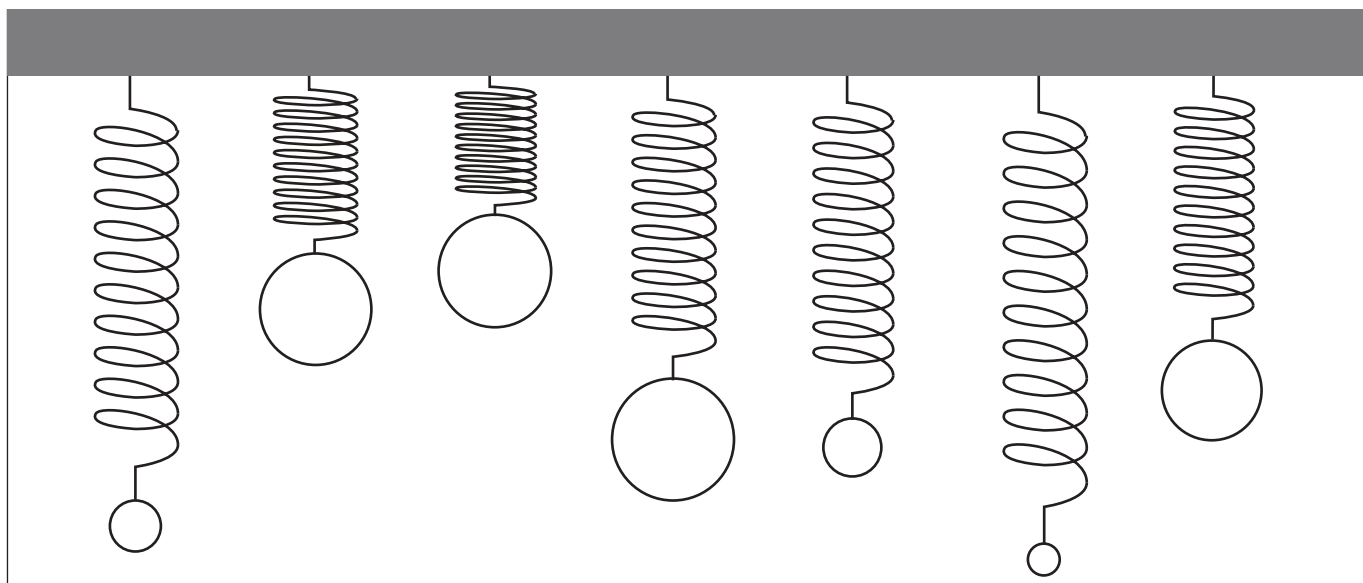
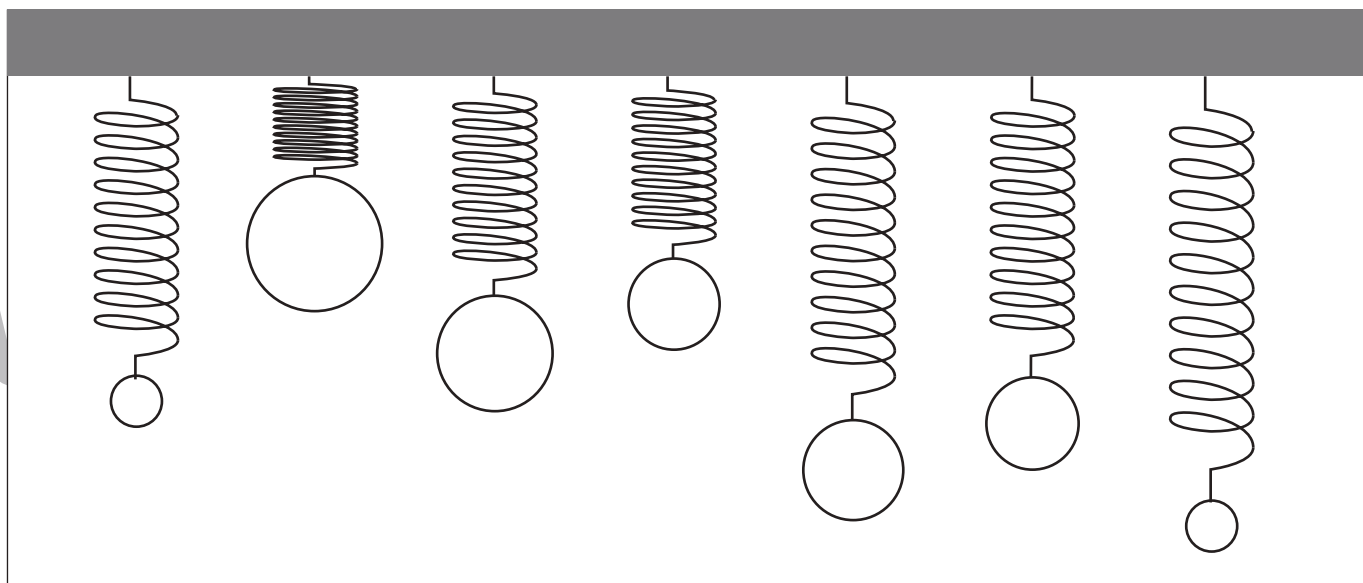
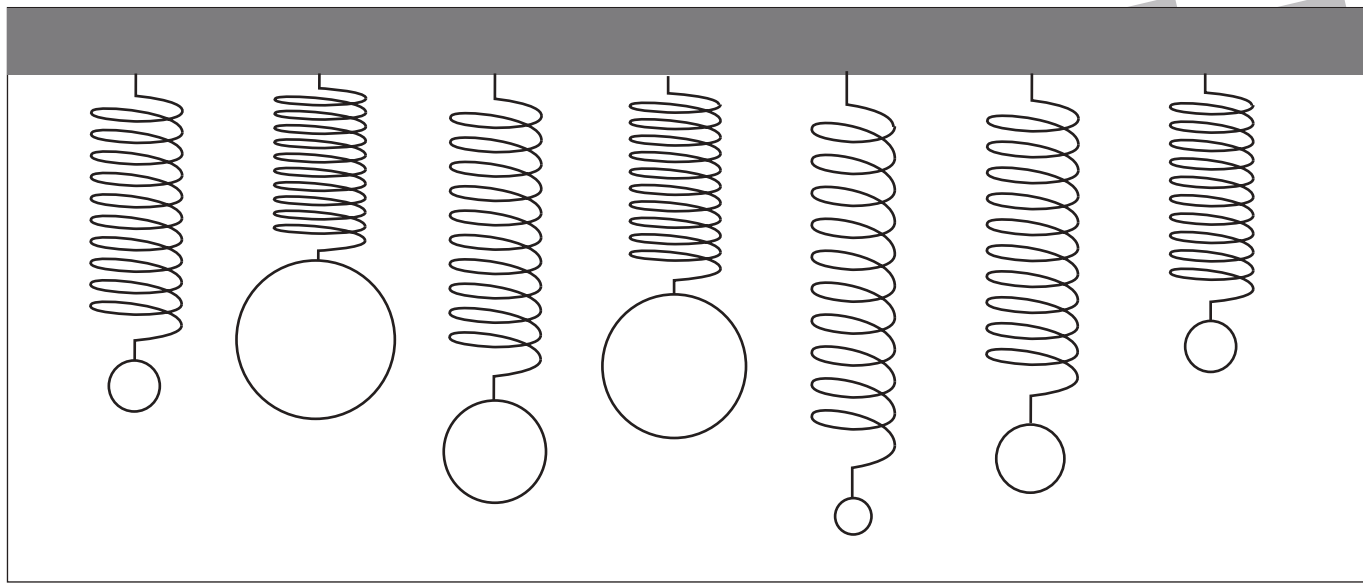


おうちで、やろう。

Study at home. 小学校受験の家庭学習教材

推理：重さ 15

バネにボールをつるして重さ比べをしました。2 番目に重いボールには青で、2 番目に軽いボールには緑でボールを塗ります。



※1. このプリントは、しながわ・目黒こどもスクールのウェブサイトでダウンロードができます。無断複写・引用はご遠慮ください。

※2. このプリントを活用したオンライン授業のスケジュールは、しながわ・目黒こどもスクールのウェブサイトでご確認ください。

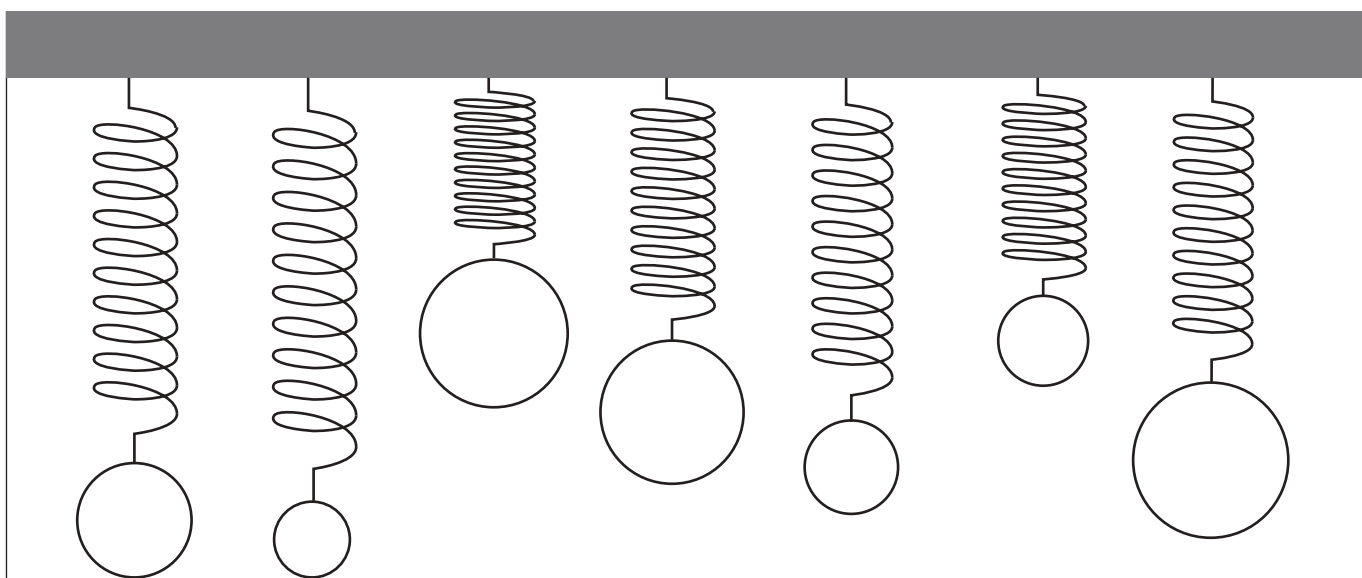
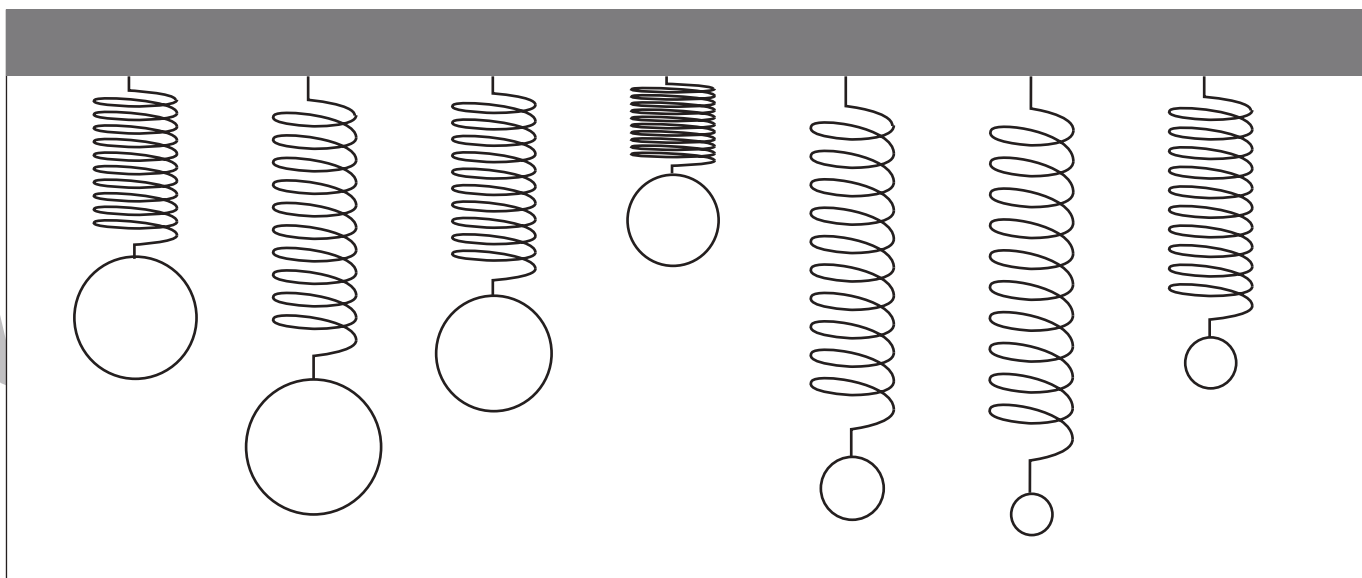
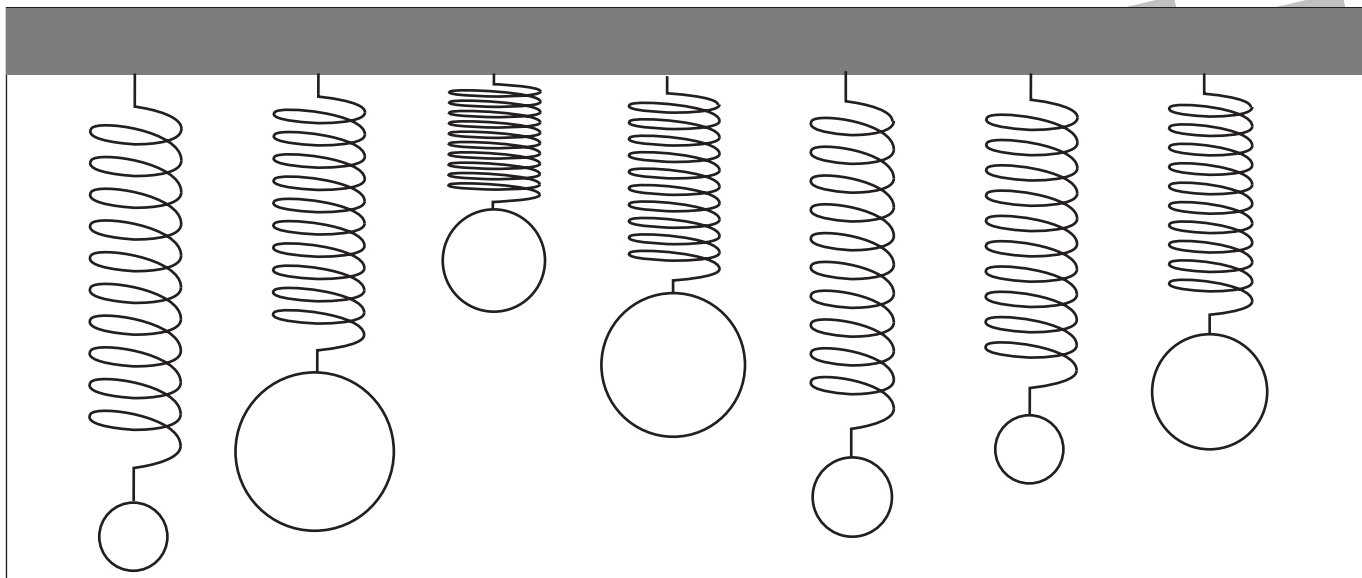


おうちで、やろう。

Study at home. 小学校受験の家庭学習教材

推理：重さ 16

バネにボールをつるして重さ比べをしました。3番目に重いボールには青で、3番目に軽いボールには緑でボールを塗ります。



※1. このプリントは、しながわ・目黒こどもスクールのウェブサイトでダウンロードができます。無断複写・引用はご遠慮ください。

※2. このプリントを活用したオンライン授業のスケジュールは、しながわ・目黒こどもスクールのウェブサイトでご確認ください。

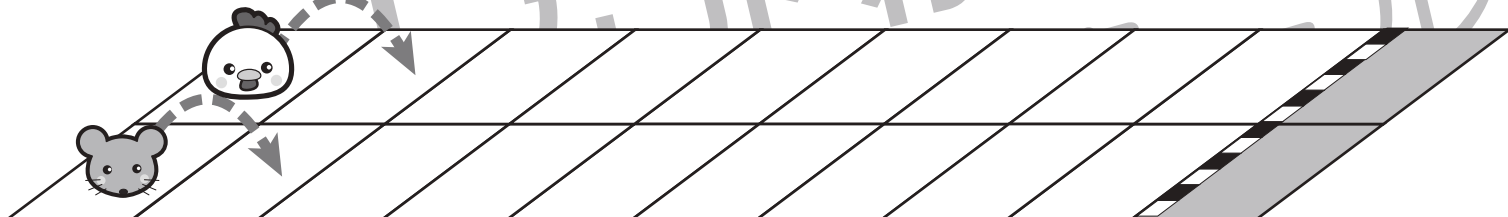



おうちで、やろう。

Study at home. 小学校受験の家庭学習教材

推理：条件推理 15

ニワトリとネズミが競争をします。2匹は箱からボールを取り、出たボールによって進めるマスが決まります。その約束が上の太い四角です。それぞれのボール右にある矢印の数だけマスを進めます。ニワトリとネズミがそれぞれ絵の右に並んでいるボールが出た時、最後に着いた場所を塗ります。また、たくさん進んだ方に○をつけます。○はスタートの絵につけましょう。



※1. このプリントは、しながわ・目黒こどもスクールのウェブサイトでダウンロードができます。無断複写・引用はご遠慮ください。
※2. このプリントを活用したオンライン授業のスケジュールは、しながわ・目黒こどもスクールのウェブサイトでご確認ください。

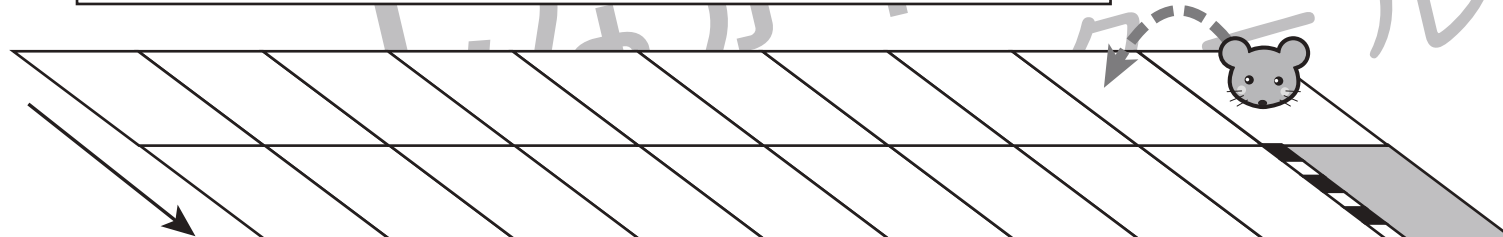
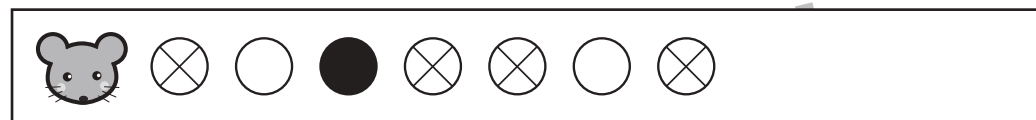
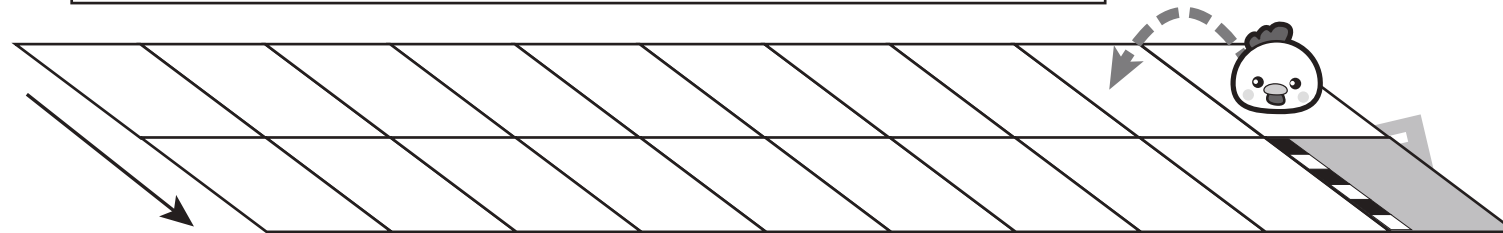
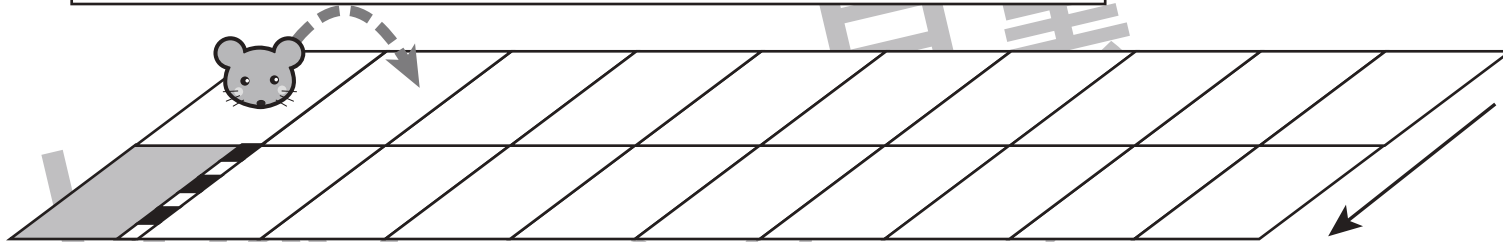
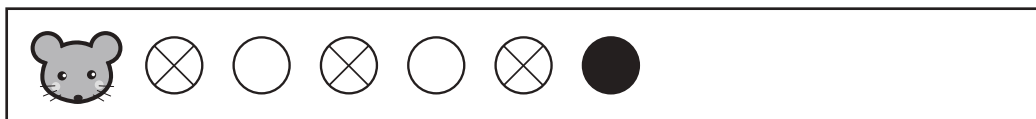
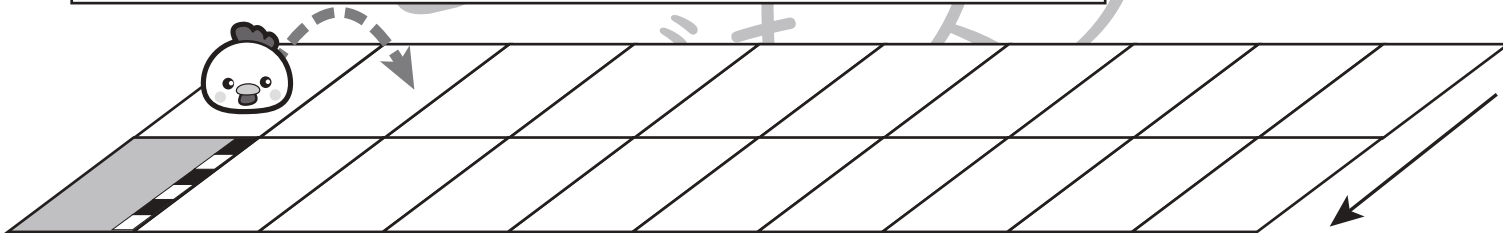


おうちで、やろう。

Study at home. 小学校受験の家庭学習教材

推理：条件推理 16

ニワトリとネズミが競争をします。2匹は箱からボールを取り、出たボールによって進めるマスが決まります。その約束が上の太い四角です。それぞれのボール右にある矢印の数だけマスを進めます。ニワトリとネズミがそれぞれ絵の右に並んでいるボールが出た時、最後に着いた場所を塗ります。また、たくさん進んだ方に○をつけます。○はスタートの絵につけましょう。



※1. このプリントは、しながわ・目黒こどもスクールのウェブサイトでダウンロードができます。無断複写・引用はご遠慮ください。
※2. このプリントを活用したオンライン授業のスケジュールは、しながわ・目黒こどもスクールのウェブサイトでご確認ください。

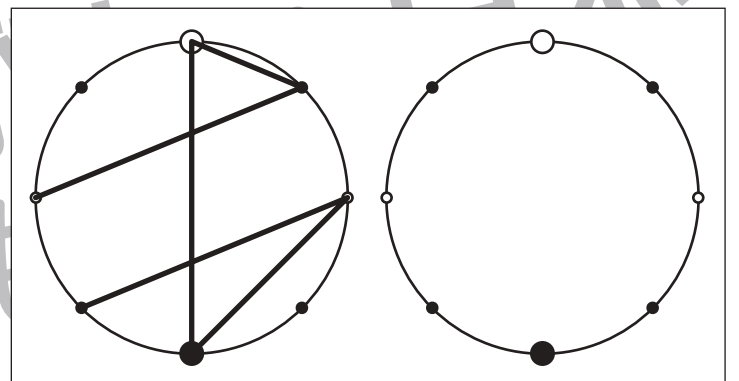
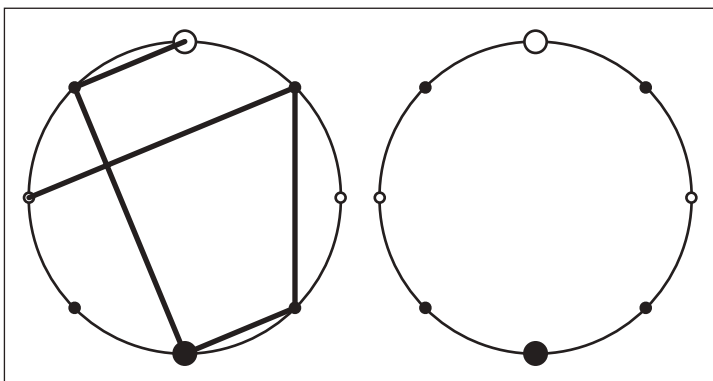
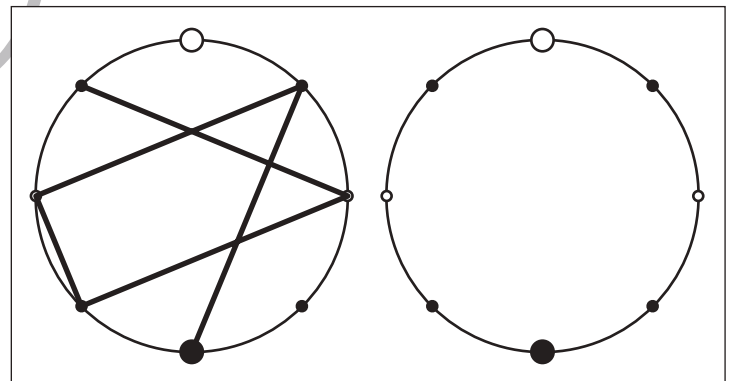
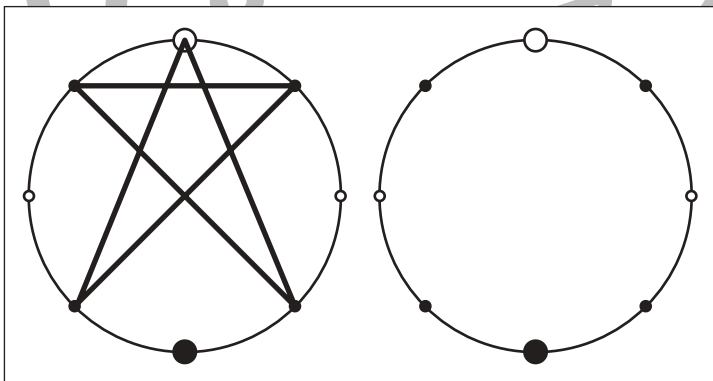
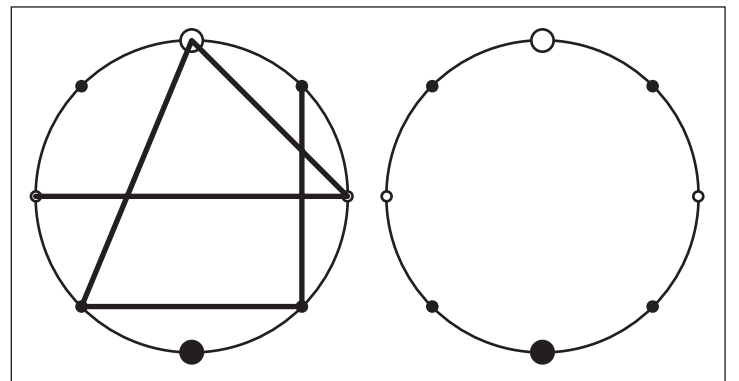
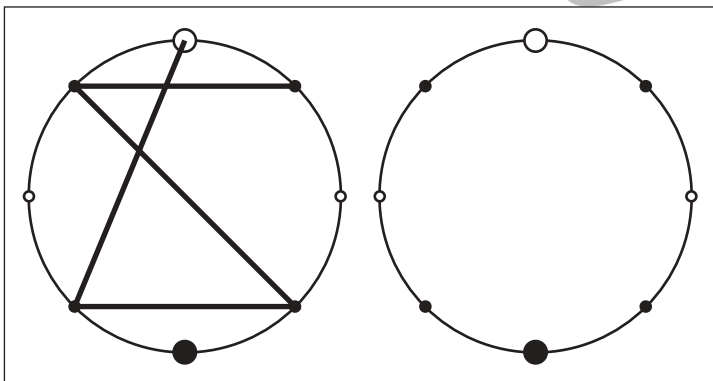
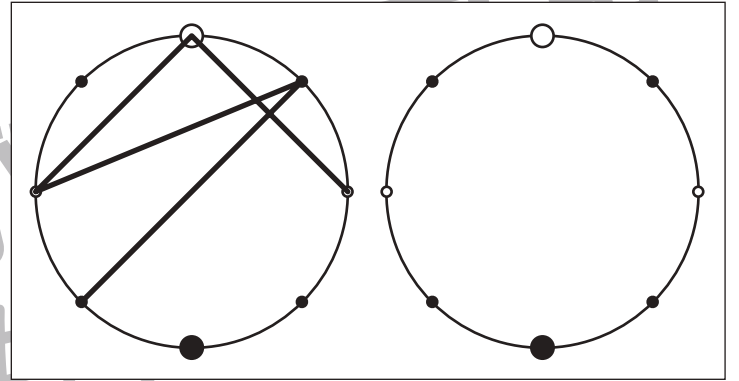
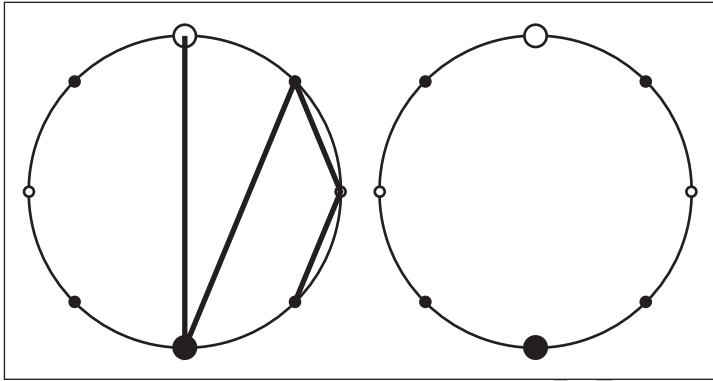


おうちで、やろう。

Study at home. 小学校受験の家庭学習教材

図形：点図形 56

左のお手本を見て、右にそっくり描き写しましょう。※このプリントに解答はありません。



※1. このプリントは、しながわ・目黒こどもスクールのウェブサイトからダウンロードできます。無断複写・引用はご遠慮ください。
※2. このプリントを活用したオンライン授業のスケジュールは、しながわ・目黒こどもスクールのウェブサイトでご確認ください。