



おうちで、やろう。

Study at home. 小学校受験の家庭学習教材

図形：回転鏡 1

左の四角のマスで矢印の方向へ 1 回倒した時の見え方を矢印の右のマスにかきます。その後、その四角を鏡で映したときの見え方を考えて一番右のマスにかきます。

--	--	--	--	--

--	--	--	--	--

--	--	--	--	--

--	--	--	--	--

--	--	--	--	--

※1. このプリントは、しながわ・目黒こどもスクールのウェブサイトからダウンロードできます。無断複写・引用はご遠慮ください。

※2. このプリントを活用したオンライン授業のスケジュールは、しながわ・目黒こどもスクールのウェブサイトでご確認ください。



おうちで、やろう。

Study at home. 小学校受験の家庭学習教材

図形：回転鏡2

左の四角のマスで矢印の方向へ1回倒した時の見え方を矢印の右のマスにかきます。その後、その四角を鏡で映したときの見え方を考えて一番右のマスにかきます。

--	--	--	--	--

--	--	--	--	--

--	--	--	--	--

--	--	--	--	--

--	--	--	--	--

※1. このプリントは、しながわ・目黒こどもスクールのウェブサイトからダウンロードできます。無断複写・引用はご遠慮ください。

※2. このプリントを活用したオンライン授業のスケジュールは、しながわ・目黒こどもスクールのウェブサイトでご確認ください。

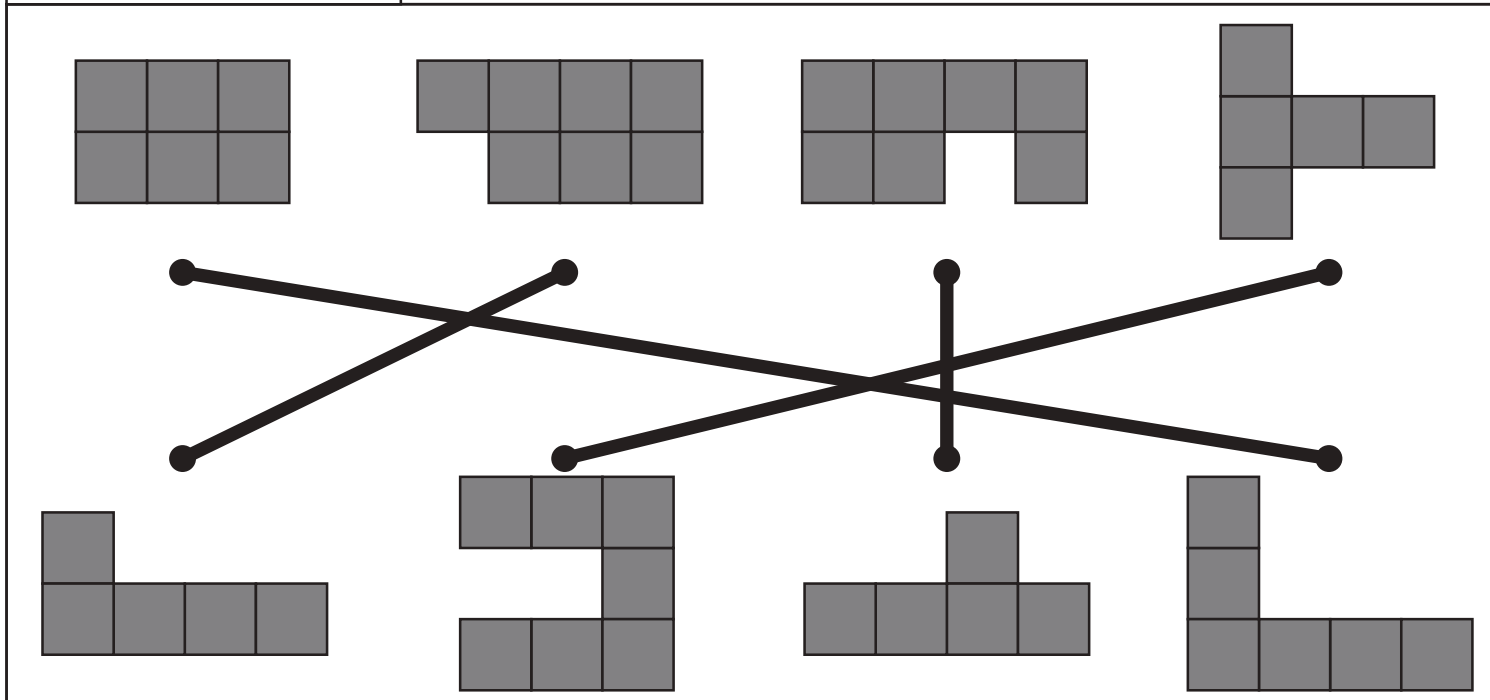

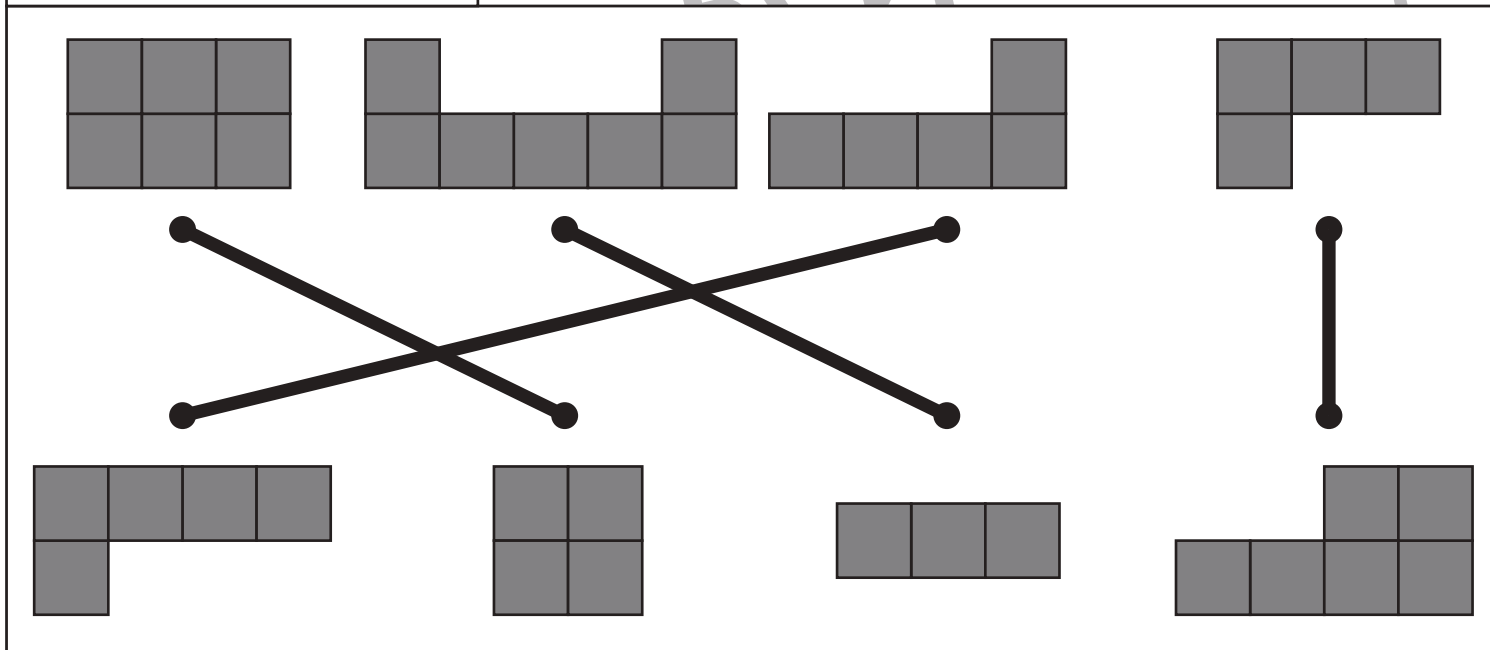


おうちで、やろう。

Study at home. 小学校受験の家庭学習教材

図形：構成 36

左上のお手本と同じ形を作るには、上と下のどの形を組み合わせたらいですか。点と点を線で結びます。それぞれの形は向きを変えてもいいですが、裏返してはいけません。



※1. このプリントは、しながわ・目黒こどもスクールのウェブサイトでダウンロードができます。無断複写・引用はご遠慮ください。
※2. このプリントを活用したオンライン授業のスケジュールは、しながわ・目黒こどもスクールのウェブサイトでご確認ください。






おうちで、やろう。

Study at home. 小学校受験の家庭学習教材


図形：構成 37

左上のお手本と同じ形を作るには、上と下のどの形を組み合わせたらいですか。点と点を線で結びます。それぞれの形は向きを変えてもいいですが、裏返してはいけません。



This section contains 12 shapes made of small squares, arranged in two rows. Lines connect the top row shapes to the bottom row shapes, forming a matching puzzle. The shapes are:

- Top row (left to right):
 - A 3x3 square.
 - A 3x4 rectangle with the bottom-left square missing.
 - A 3x3 square with the top-right square missing.
 - A 4x4 square with the top-right 2x2 corner missing.
- Bottom row (left to right):
 - A 4x4 square with the top-left 2x2 corner missing.
 - A 3x4 rectangle with the top-right 2x2 corner missing.
 - A 3x3 square with the bottom-left 2x2 corner missing.
 - A 3x4 rectangle with the top-right 2x2 corner missing.



This section contains 12 shapes made of small squares, arranged in two rows. Lines connect the top row shapes to the bottom row shapes, forming a matching puzzle. The shapes are:

- Top row (left to right):
 - A 3x4 rectangle with the top-right 2x2 corner missing.
 - A 3x4 rectangle with the top-right 2x2 corner missing.
 - A 3x4 rectangle with the top-right 2x2 corner missing.
 - A 3x4 rectangle with the top-right 2x2 corner missing.
- Bottom row (left to right):
 - A 4x4 square with the top-left 2x2 corner missing.
 - A 3x4 rectangle with the top-right 2x2 corner missing.
 - A 3x4 rectangle with the top-right 2x2 corner missing.
 - A 3x4 rectangle with the top-right 2x2 corner missing.

※1. このプリントは、しながわ・目黒こどもスクールのウェブサイトでダウンロードができます。無断複写・引用はご遠慮ください。
※2. このプリントを活用したオンライン授業のスケジュールは、しながわ・目黒こどもスクールのウェブサイトでご確認ください。


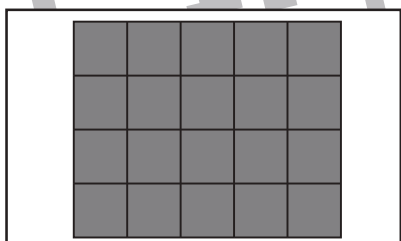


おうちで、やろう。

Study at home. 小学校受験の家庭学習教材

図形：構成 38

左上のお手本と同じ形を作るには、上と下のどの形を組み合わせたらよいですか。点と点を線で結びます。それぞれの形は向きを変えてもいいですが、裏返してはいけません。

※1. このプリントは、しながわ・目黒こどもスクールのウェブサイトでダウンロードができます。無断複写・引用はご遠慮ください。
 ※2. このプリントを活用したオンライン授業のスケジュールは、しながわ・目黒こどもスクールのウェブサイトでご確認ください。

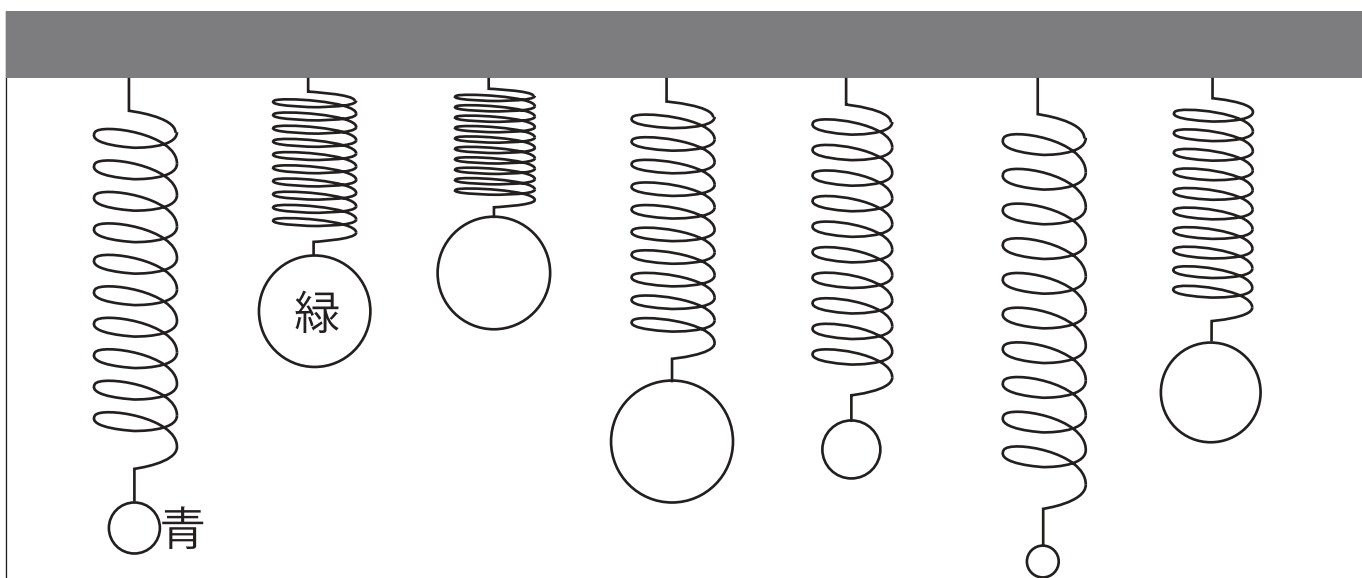
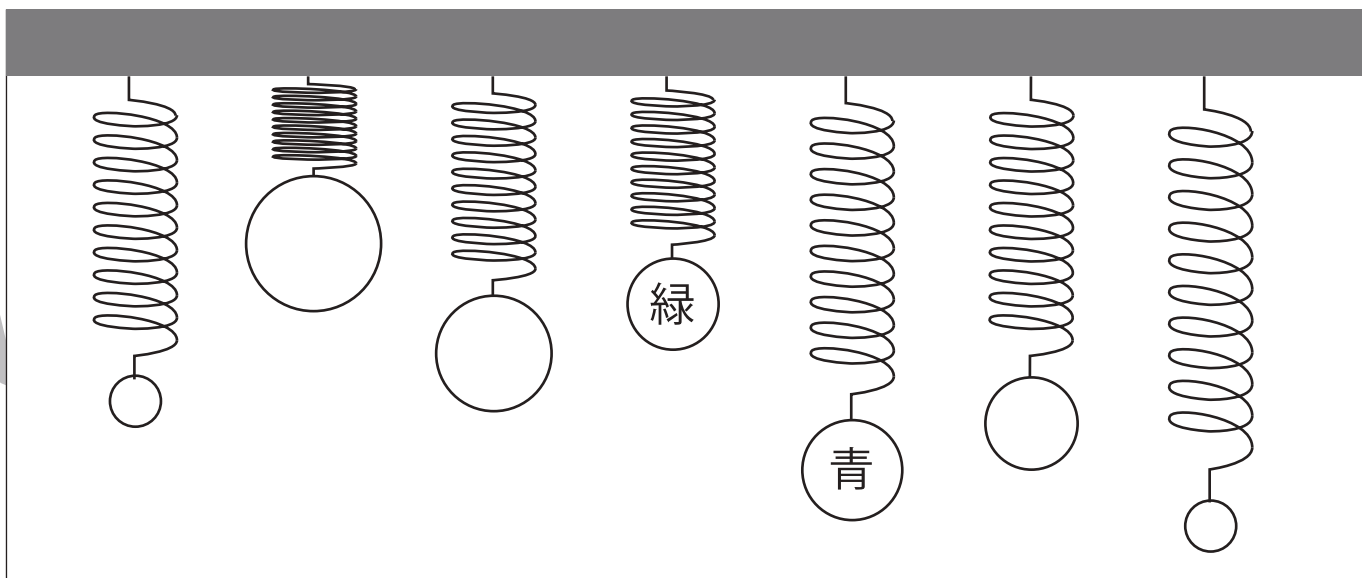
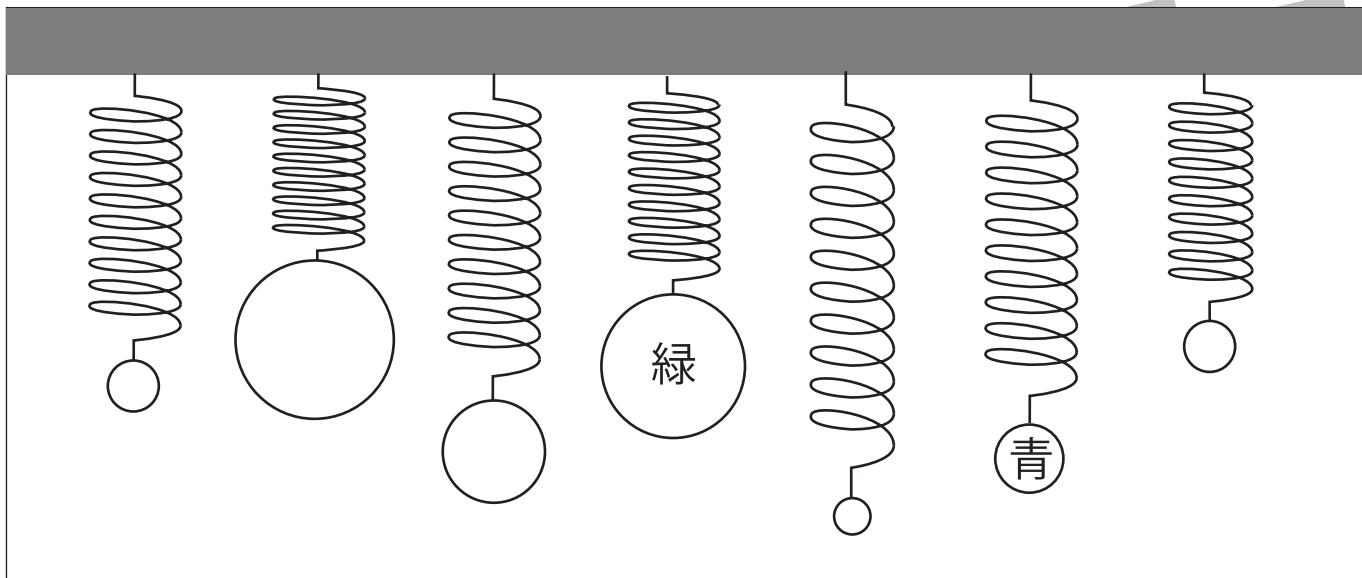


おうちで、やろう。

Study at home. 小学校受験の家庭学習教材

推理：重さ 15

バネにボールをつるして重さ比べをしました。2 番目に重いボールには青で、2 番目に軽いボールには緑でボールを塗ります。



※1. このプリントは、しながわ・目黒こどもスクールのウェブサイトでダウンロードができます。無断複写・引用はご遠慮ください。

※2. このプリントを活用したオンライン授業のスケジュールは、しながわ・目黒こどもスクールのウェブサイトでご確認ください。

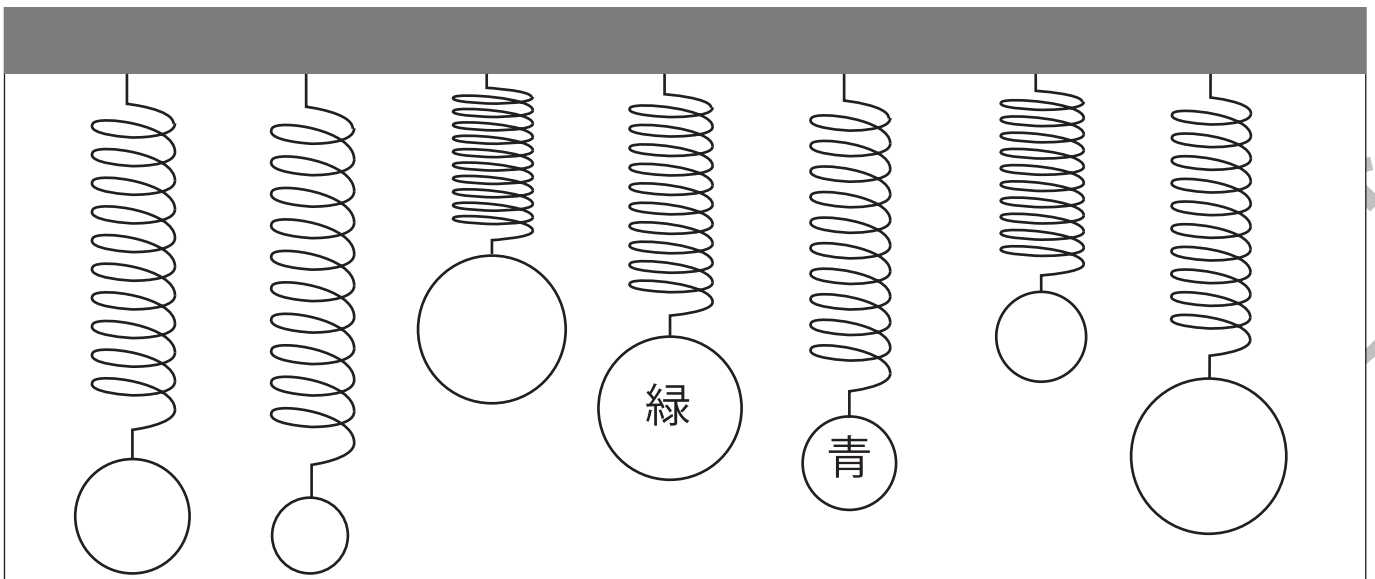
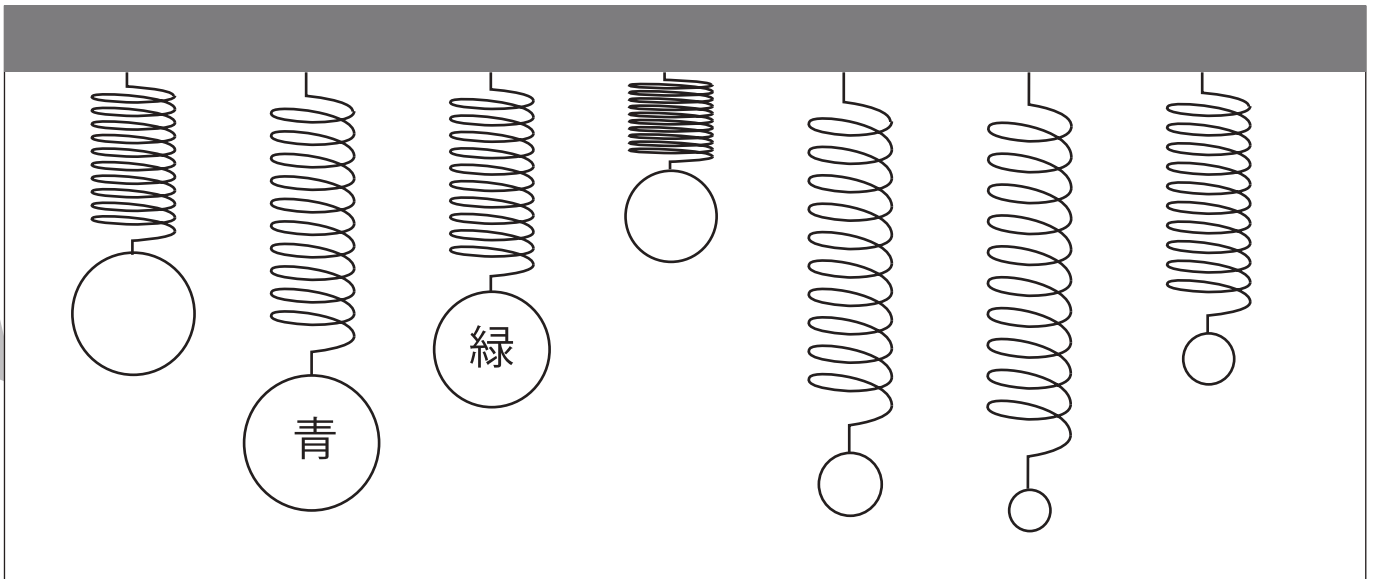
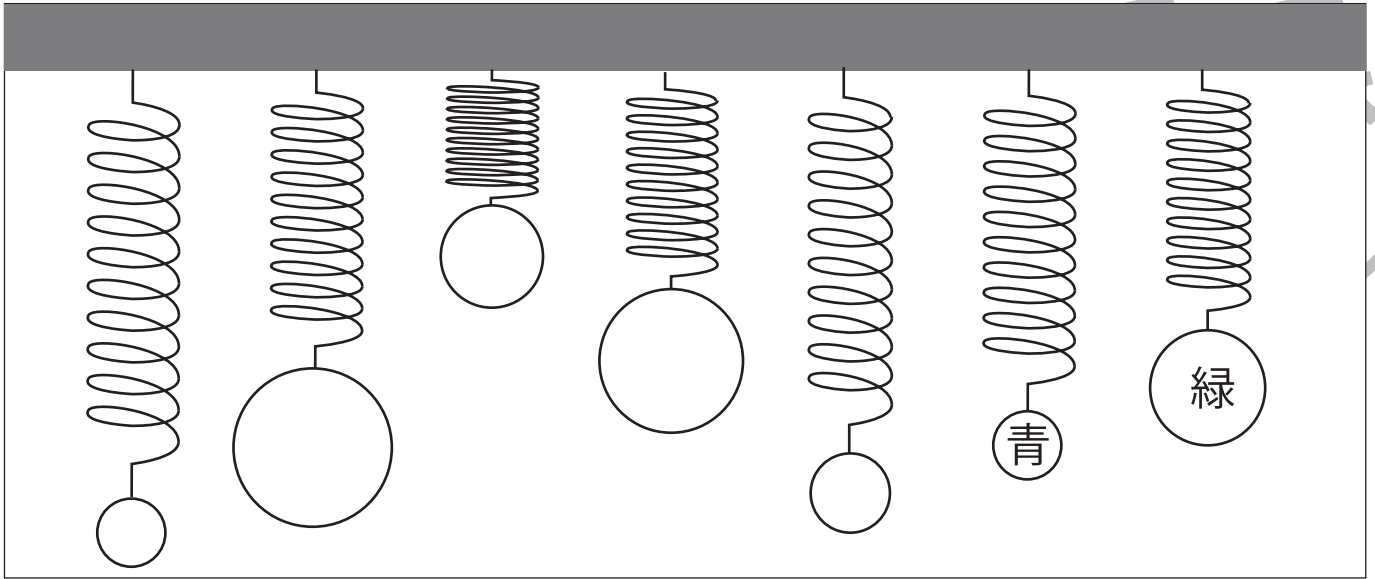


おうちで、やろう。

Study at home. 小学校受験の家庭学習教材

推理：重さ 16

バネにボールをつるして重さ比べをしました。3番目に重いボールには青で、3番目に軽いボールには緑でボールを塗ります。



※1. このプリントは、しながわ・目黒こどもスクールのウェブサイトでダウンロードができます。無断複写・引用はご遠慮ください。
 ※2. このプリントを活用したオンライン授業のスケジュールは、しながわ・目黒こどもスクールのウェブサイトでご確認ください。

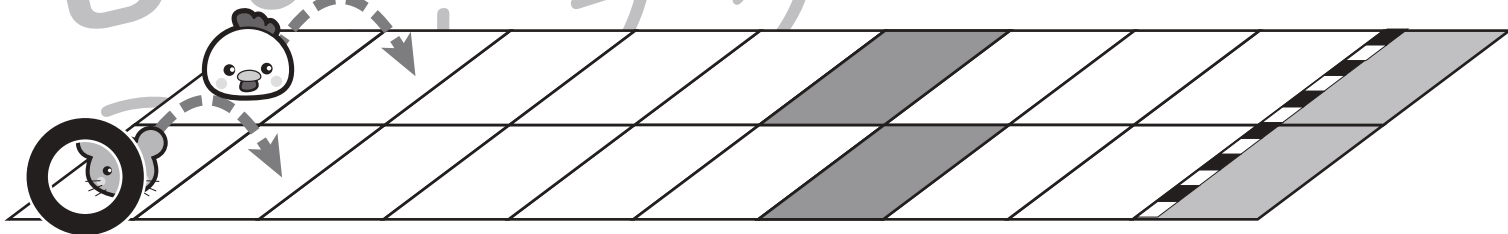
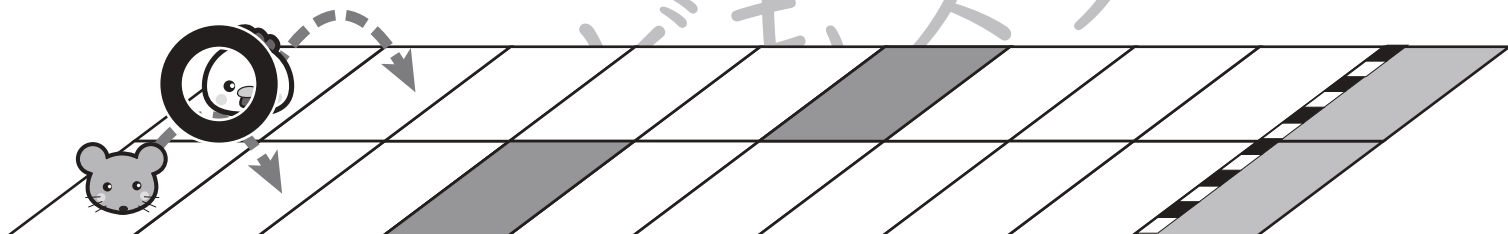


おうちで、やろう。

Study at home. 小学校受験の家庭学習教材

推理：条件推理 15

ニワトリとネズミが競争をします。2匹は箱からボールを取り、出たボールによって進めるマスが決まります。その約束が上の太い四角です。それぞれのボール右にある矢印の数だけマスを進めます。ニワトリとネズミがそれぞれ絵の右に並んでいるボールが出た時、最後に着いた場所を塗ります。また、たくさん進んだ方に○をつけます。○はスタートの絵につけましょう。



※1. このプリントは、しながわ・目黒こどもスクールのウェブサイトでダウンロードができます。無断複写・引用はご遠慮ください。
※2. このプリントを活用したオンライン授業のスケジュールは、しながわ・目黒こどもスクールのウェブサイトでご確認ください。

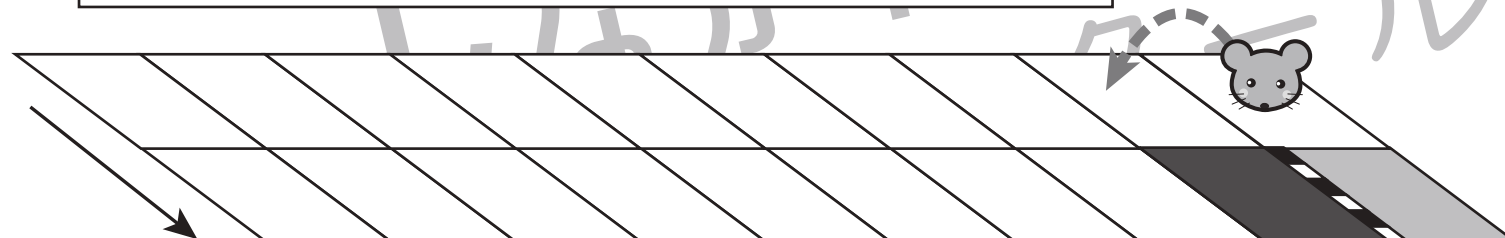
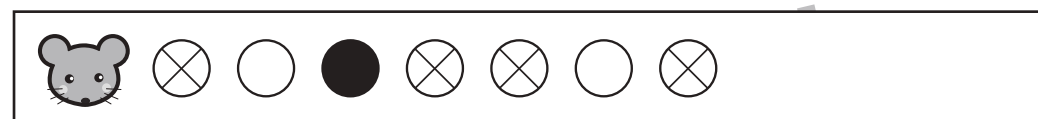
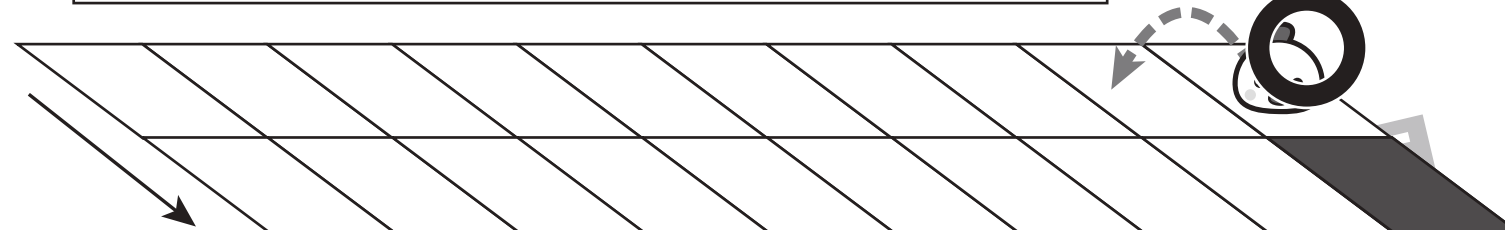
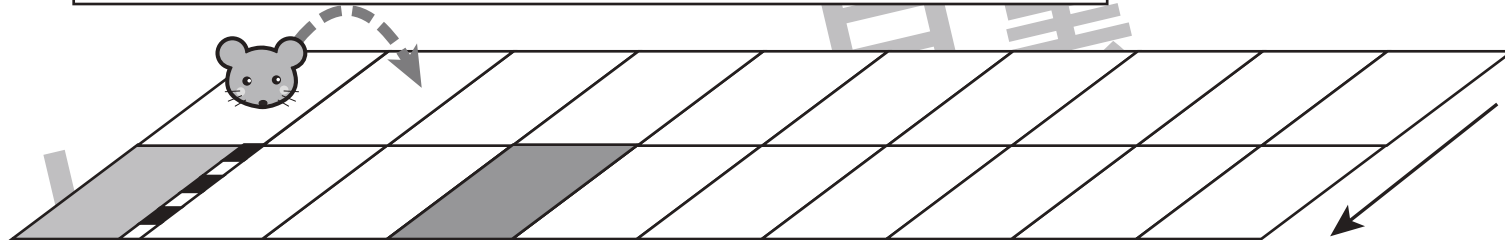
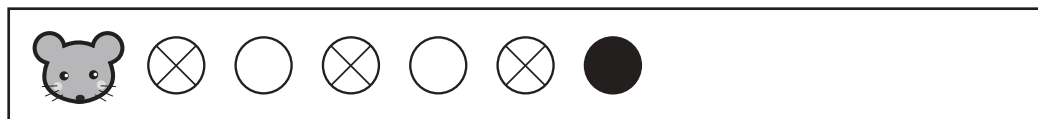
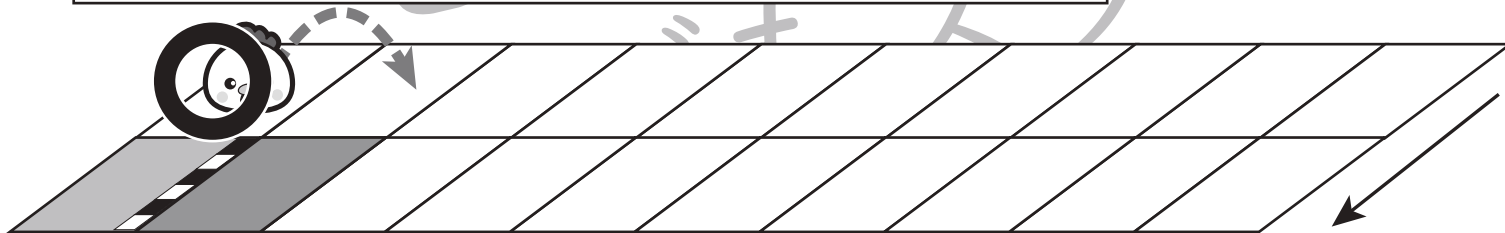


おうちで、やろう。

Study at home. 小学校受験の家庭学習教材

推理：条件推理 16

ニワトリとネズミが競争をします。2匹は箱からボールを取り、出たボールによって進めるマスが決まります。その約束が上の太い四角です。それぞれのボール右にある矢印の数だけマスを進めます。ニワトリとネズミがそれぞれ絵の右に並んでいるボールが出た時、最後に着いた場所を塗ります。また、たくさん進んだ方に○をつけます。○はスタートの絵につけましょう。



※1. このプリントは、しながわ・目黒こどもスクールのウェブサイトでダウンロードができます。無断複写・引用はご遠慮ください。
※2. このプリントを活用したオンライン授業のスケジュールは、しながわ・目黒こどもスクールのウェブサイトでご確認ください。