

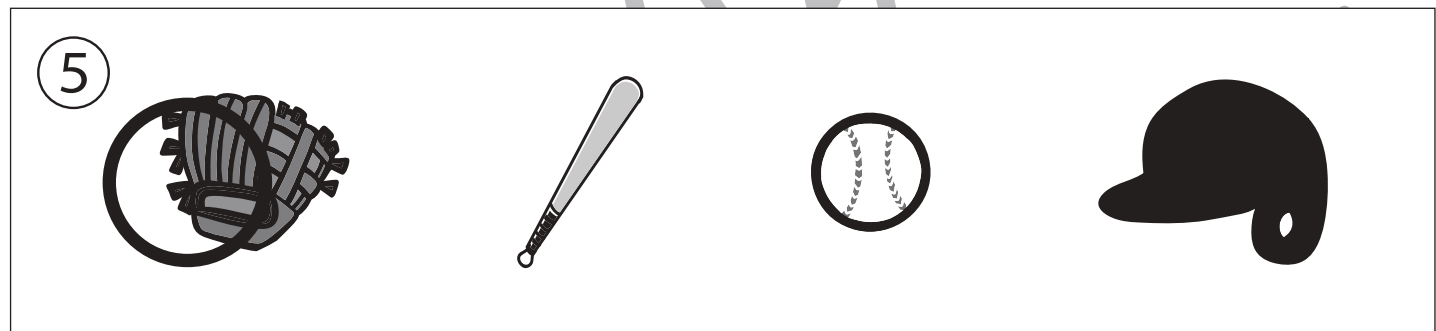

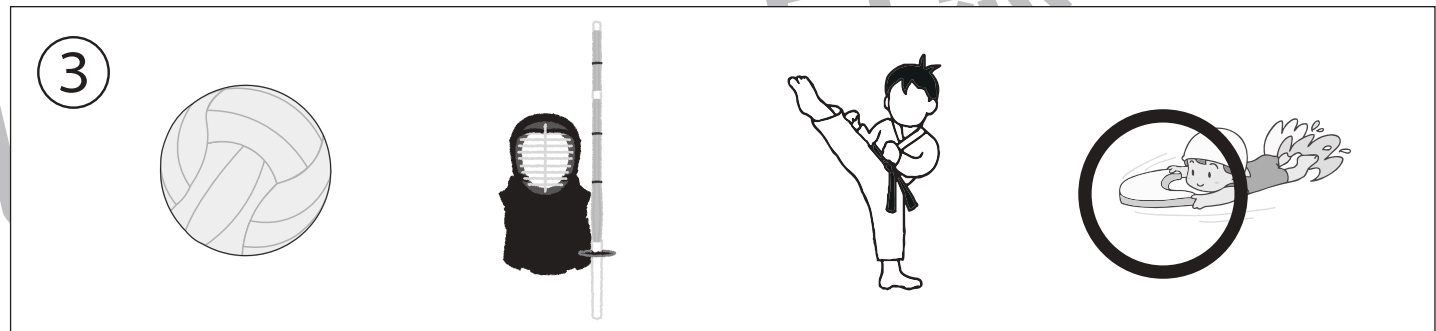
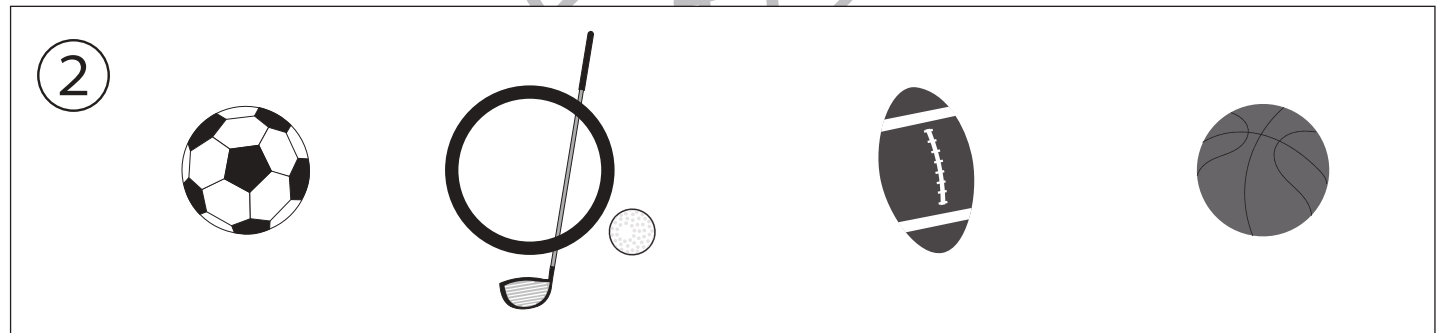
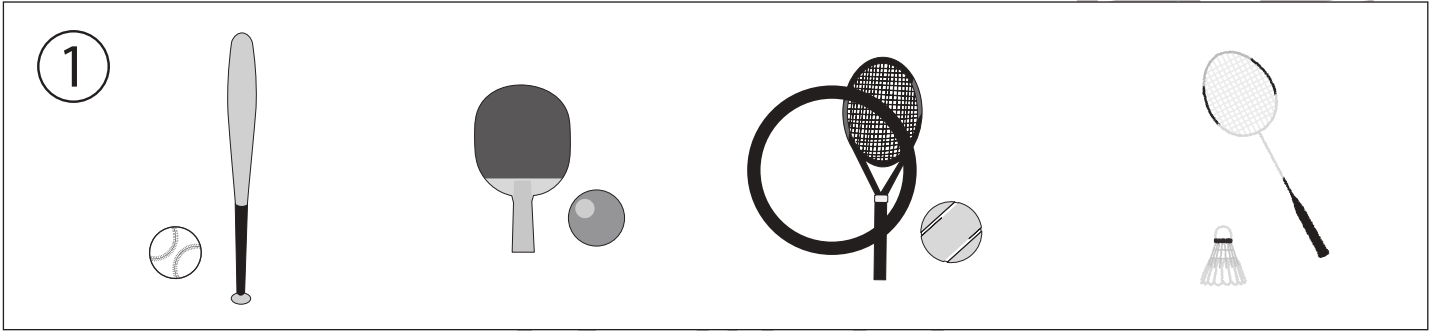


# おうちで、やろう。年中児版

Study at home. 小学校受験の家庭学習教材

言語：音の理解 9

- ①おわりの音が「す」のスポーツに○をつけます。    ②おわりの音が「ふ」のスポーツに○をつけます。  
 ③おわりの音が「い」のスポーツに○をつけます。    ④おわりの音が「く」のスポーツに○をつけます。  
 ⑤おわりの音が「ぶ」の道具に○をつけます。



※1. このプリントは、しながわ・目黒こどもスクールのウェブサイトでダウンロードができます。無断複写・引用をご遠慮ください。

※2. このプリントを活用したオンライン授業のスケジュールは、しながわ・目黒こどもスクールのウェブサイトでご確認ください。



# おうちで、よろう。 年中児版

Study at home. 小学校受験の家庭学習教材

## 図形：移動 6

白い○から出発して、上の四角の中に並んだ矢印の方向へ点をひとつずつ移動していきます。最後に着く点を考えて、その点を○で囲みます。通る点は線でつないでも構いません。矢印は左から順番に見ていきます。

↓ ↓ → ↑ ↑ ↑ ↑

↓ ← ↑ ↑ → → ↑

↓ ↓ ← ↑ ↑ ↑ ←

↑ ↑ ← ↓ ← ↓ →

※1. このプリントは、しながわ・目黒こどもスクールのウェブサイトでダウンロードができます。無断複写・引用はご遠慮ください。

※2. このプリントを活用したオンライン授業のスケジュールは、しながわ・目黒こどもスクールのウェブサイトでご確認ください。



# おうちで、よろう。 年中児版

Study at home. 小学校受験の家庭学習教材

## 図形：移動 7

白い○から出発して、上の四角の中に並んだ矢印の方向へ点をひとつずつ移動していきます。最後に着く点を考えて、その点を○で囲みます。通る点は線でつないでも構いません。矢印は左から順番に見ていきます。

↓ ↓ ↓ ↓ ← ↑ ↑

← ↑ → ↑ → ↓ ↓

→ ↓ ↓ ↓ → ↑ ↑

↓ ← ← ↓ ↓ → ↑

※1. このプリントは、しながわ・目黒こどもスクールのウェブサイトでダウンロードができます。無断複写・引用はご遠慮ください。

※2. このプリントを活用したオンライン授業のスケジュールは、しながわ・目黒こどもスクールのウェブサイトでご確認ください。




# おうちで、やろう。 年中児版


Study at home. 小学校受験の家庭学習教材

数量：差2

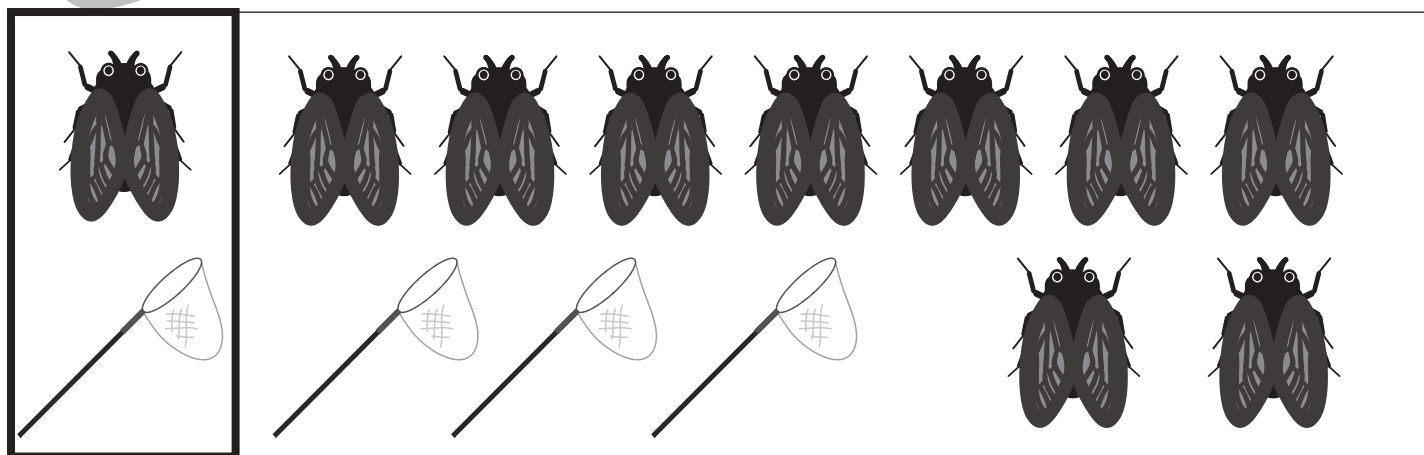
太い四角の中がお手本です。右の四角の中の絵をお手本のように組み合わせた時、下の四角の中の絵はいくつ足りないですか。その数だけ下の四角の絵の横に○をかきます。



$$\bigcirc \times 6$$



$$\bigcirc \times 2$$



$$\bigcirc \times 6$$

※1. このプリントは、しながわ・目黒こどもスクールのウェブサイトでダウンロードができます。無断複写・引用はご遠慮ください。

※2. このプリントを活用したオンライン授業のスケジュールは、しながわ・目黒こどもスクールのウェブサイトでご確認ください。



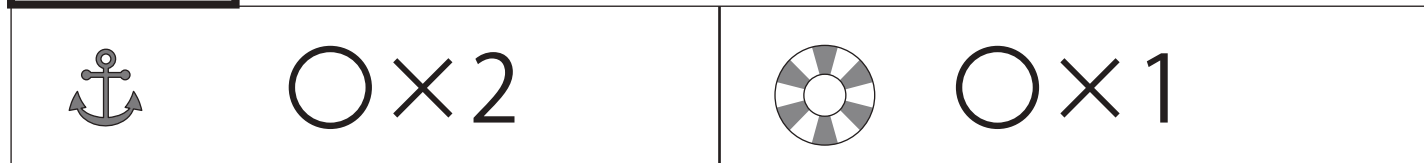
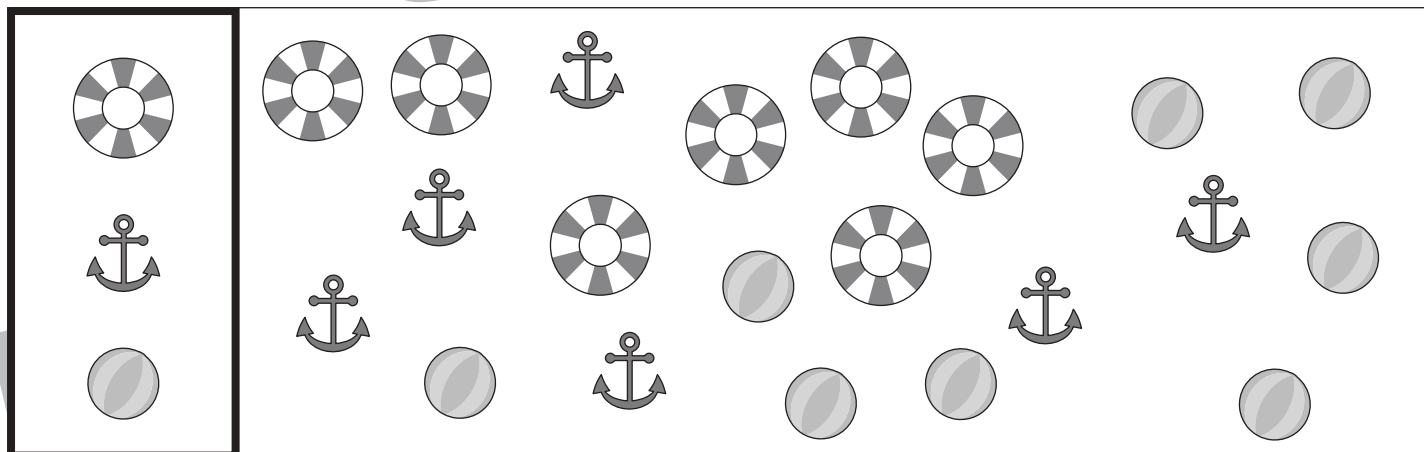
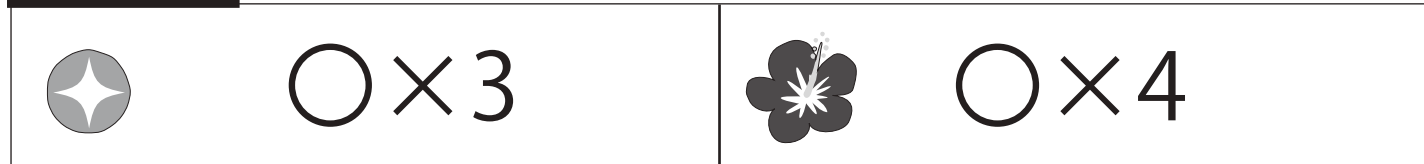



# おうちで、やろう。 年中児版

数量：差 3

Study at home. 小学校受験の家庭学習教材

太い四角の中がお手本です。右の四角の中の絵をお手本のように組み合わせた時、下の四角の中の絵はいくつ足りないですか。その数だけ下の四角の絵の横に○をかきます。



※ 1. このプリントは、しながわ・目黒こどもスクールのウェブサイトからダウンロードできます。無断複写・引用はご遠慮ください。

※ 2. このプリントを活用したオンライン授業のスケジュールは、しながわ・目黒こどもスクールのウェブサイトでご確認ください。