



おうちで、やろう。 年中児版

Study at home. 小学校受験の家庭学習教材

推理：なぜなぜ 14

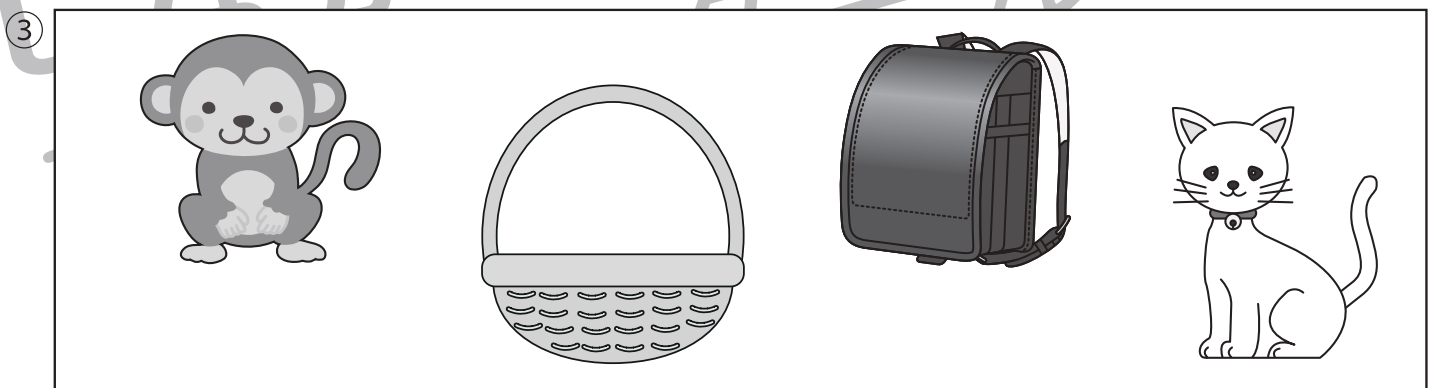


①～④のなぜなぜをといて、答えに○をつけましょう。

①いかの あたまに すをつけると できる くだものは なんでしょう。

②こいでもこいでも おなじ ところを いったりきたりする のりものは なんでしょう。

③あかちゃんでもないのに おんぶされるのが だいすきな ものは なんでしょう。

④わらっている ひとの おみせは どのおみせでしょう。



※1. このプリントは、しながわ・目黒こどもスクールのウェブサイトダウンロードができます。無断複写・引用はご遠慮ください。

※2. このプリントを活用したオンライン授業のスケジュールは、しながわ・目黒こどもスクールのウェブサイトでご確認ください。













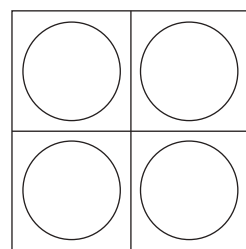
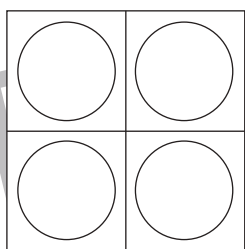
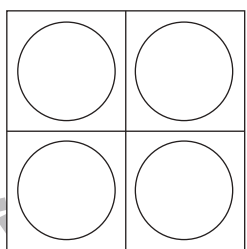
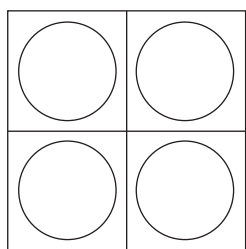



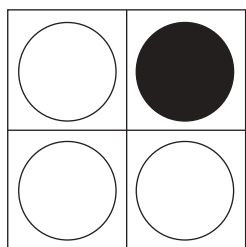
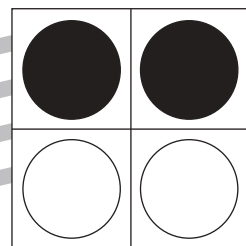
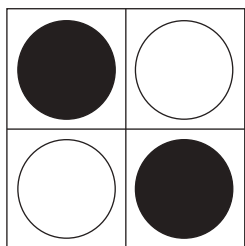
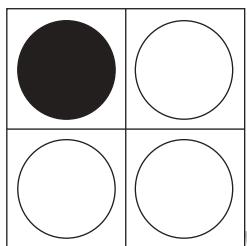
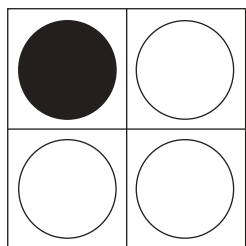


おうちで、やろう。 年中児版

Study at home. 小学校受験の家庭学習教材

図形：重ね 2

透明な板に、マスや丸がかいてあります。上と真ん中の二枚を重ねた時の見え方を考えて、下の四角の中の○を塗ります。



※1. このプリントは、しながわ・目黒こどもスクールのウェブサイトからダウンロードできます。無断複写・引用はご遠慮ください。
※2. このプリントを活用したオンライン授業のスケジュールは、しながわ・目黒こどもスクールのウェブサイトでご確認ください。

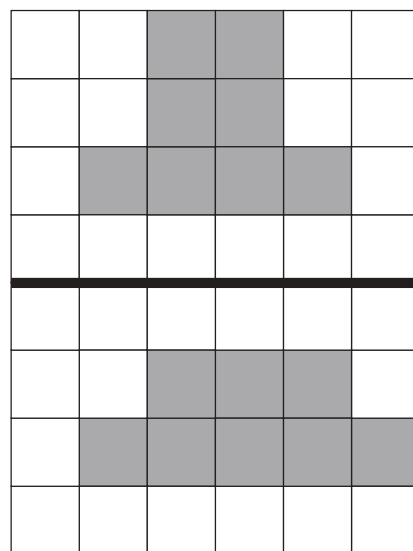
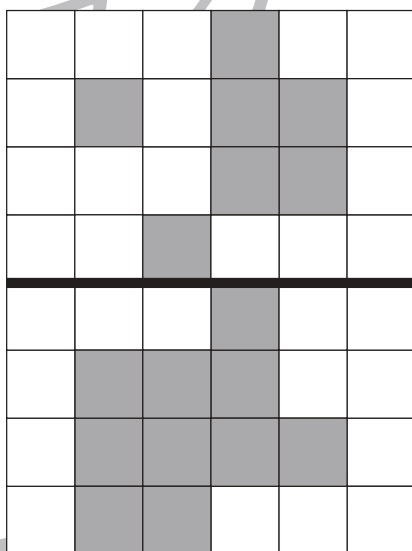


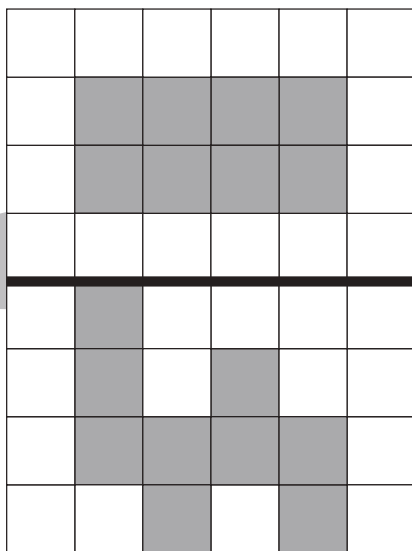



おうちで、よろう。 年中児版

Study at home. 小学校受験の家庭学習教材

図形：広さ5

上の四角と下の四角を比べて、色のついた部分と同じ広さのときは○を、違う広さのときは×を下の太い四角の中にかきます。



※1. このプリントは、しながわ・目黒こどもスクールのウェブサイトでダウンロードができます。無断複写・引用はご遠慮ください。
 ※2. このプリントを活用したオンライン授業のスケジュールは、しながわ・目黒こどもスクールのウェブサイトでご確認ください。



おうちで、やろう。年中児版 推理：まちがいさがし 14

Study at home. 小学校受験の家庭学習教材

上下の絵を見比べて、変わっているところを5つ探します。見つけたら、下の絵の変わっている部分に丸をつけます。








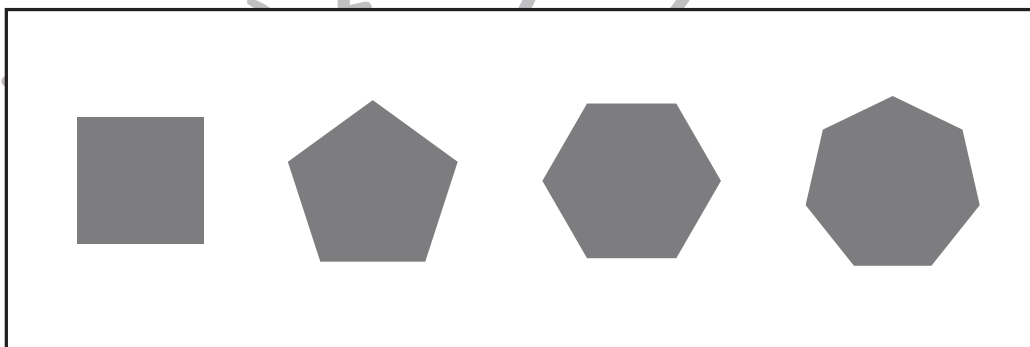


ICT教育の小学校受験

※1. このプリントは、しながわ・目黒こどもスクールのウェブサイトでダウンロードができます。無断複写・引用はご遠慮ください。
※2. このプリントを活用したオンライン授業のスケジュールは、しながわ・目黒こどもスクールのウェブサイトでご確認ください。





いろいろな形の空いた箱が左にかいてあります。箱の穴にぴったり合う形を右の四角の中から選び、○をつけます。



※1. このプリントは、しながわ・目黒こどもスクールのウェブサイトでダウンロードができます。無断複写・引用はご遠慮ください。
※2. このプリントを活用したオンライン授業のスケジュールは、しながわ・目黒こどもスクールのウェブサイトでご確認ください。




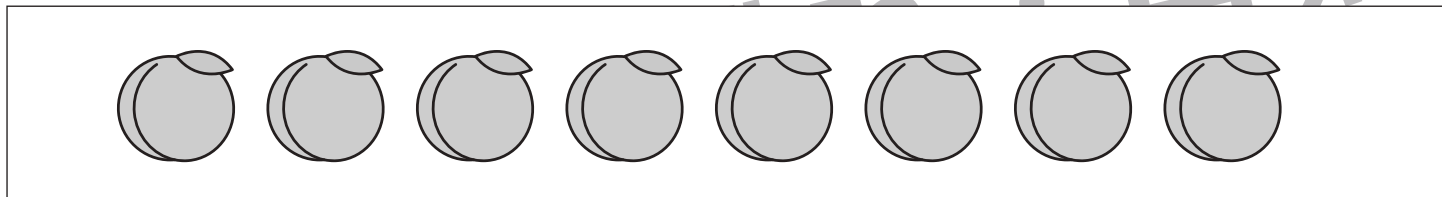



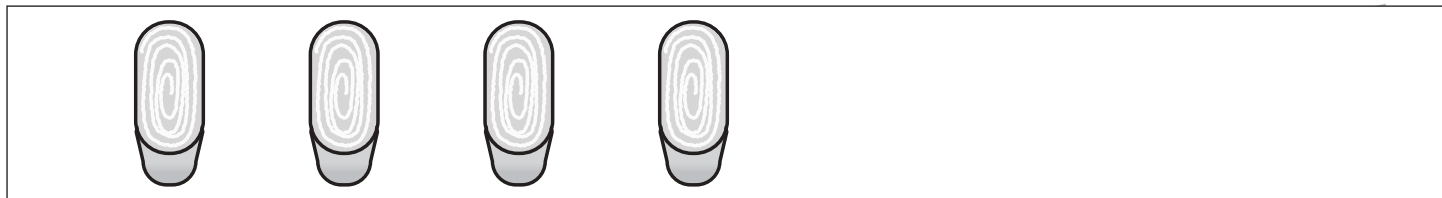


おうちで、やろう。 年中児版

Study at home. 小学校受験の家庭学習教材

数量：加減 6

四角の中にあるたべものを、2つお姉さんにあげると残りはいくつになりますか。その数だけ下の四角に○をかきます。



※1. このプリントは、しながわ・目黒こどもスクールのウェブサイトでダウンロードができます。無断複写・引用はご遠慮ください。
※2. このプリントを活用したオンライン授業のスケジュールは、しながわ・目黒こどもスクールのウェブサイトでご確認ください。





おうちで、やろう。 年中児版

Study at home. 小学校受験の家庭学習教材

図形：運筆 3

点線をきれいなぞります。(この問題に解答はありません)




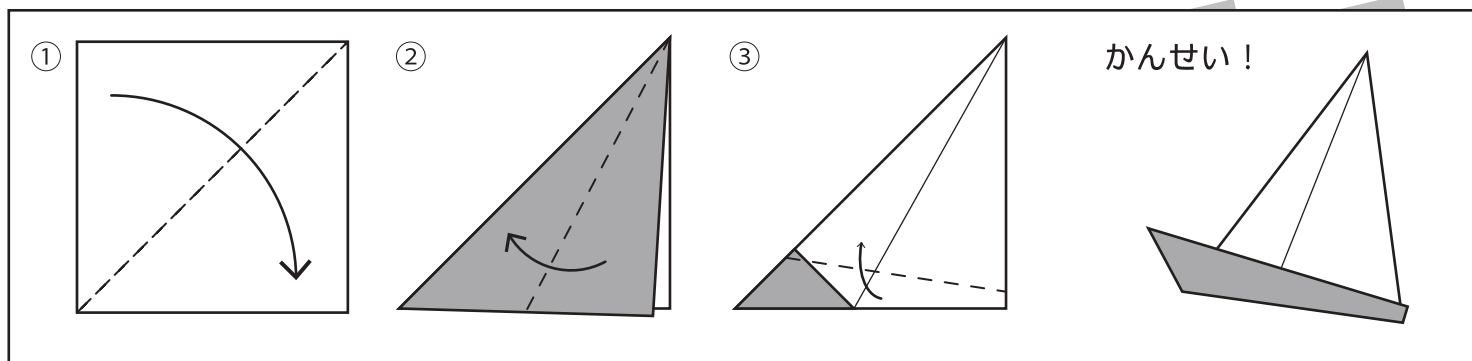
※1. このプリントは、しながわ・目黒こどもスクールのウェブサイトからダウンロードできます。無断複写・引用はご遠慮ください。
※2. このプリントを活用したオンライン授業のスケジュールは、しながわ・目黒こどもスクールのウェブサイトでご確認ください。



おうちで、やろう。年中児版 絵画：条件画 12(折り紙)

Study at home. 小学校受験の家庭学習教材

点線をはさみで切り、折り方をよく見てヨットを折ります。ヨットに色を塗り、別紙の台紙に貼り付けたら周りの景色も描きましょう。




※1. このプリントは、しながわ・目黒こどもスクールのウェブサイトからダウンロードできます。無断複写・引用はご遠慮ください。
※2. このプリントを活用したオンライン授業のスケジュールは、しながわ・目黒こどもスクールのウェブサイトでご確認ください。



おうちで、やろう。 年中児版 絵画：条件画 12(台紙)

Study at home. 小学校受験の家庭学習教材

別紙の点線をはさみで切り、折り方をよく見てヨットを折ります。ヨットに色を塗り、この台紙に貼り付けたら周りの景色も描きましょう。



※1. このプリントは、しながわ・目黒こどもスクールのウェブサイトからダウンロードできます。無断複写・引用はご遠慮ください。
※2. このプリントを活用したオンライン授業のスケジュールは、しながわ・目黒こどもスクールのウェブサイトでご確認ください。