



おうちで、やろう。 年中児版

Study at home. 小学校受験の家庭学習教材

推理：なぜなぜ 14

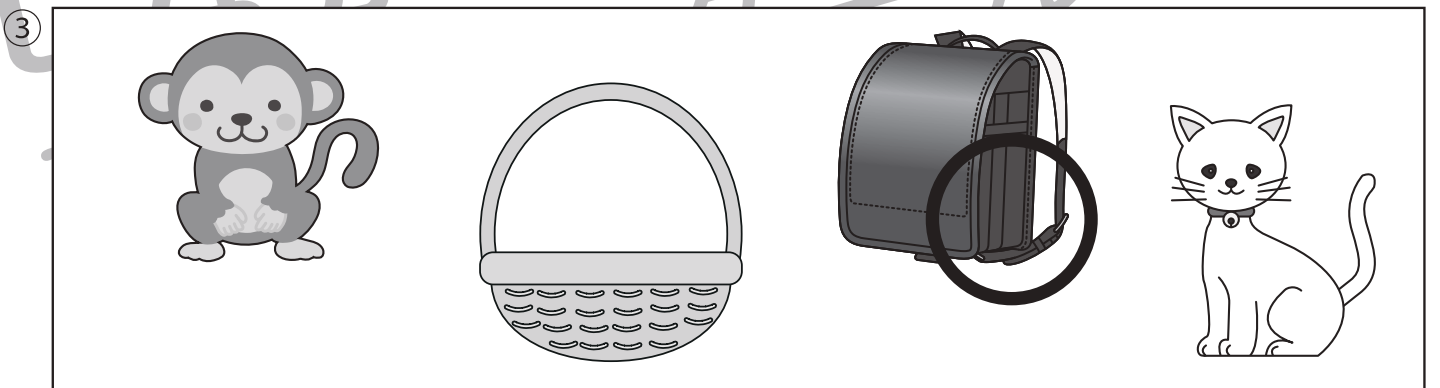


①～④のなぜなぜをといて、答えに○をつけましょう。

①いかの あたまに すをつけると できる くだものは なんでしょう。

②こいでもこいでも おなじ ところを いたりきたりする のりものは なんでしょう。

③あかちゃんでもないのに おんぶされるのが だいすきな ものは なんでしょう。

④わらっている ひとの おみせは どのおみせでしょう。



※1. このプリントは、しながわ・目黒こどもスクールのウェブサイトでダウンロードができます。無断複写・引用はご遠慮ください。

※2. このプリントを活用したオンライン授業のスケジュールは、しながわ・目黒こどもスクールのウェブサイトでご確認ください。















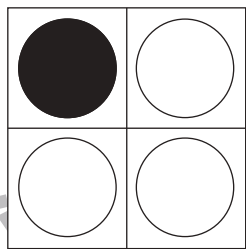
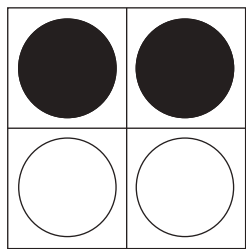
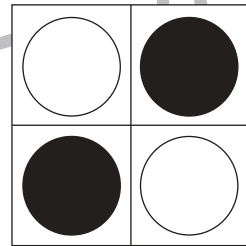
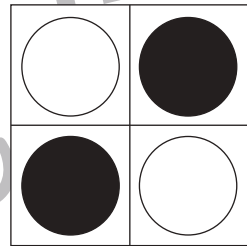
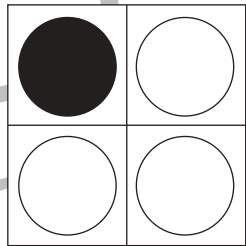
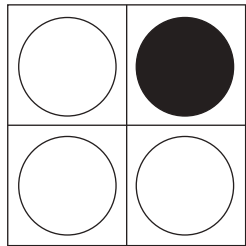
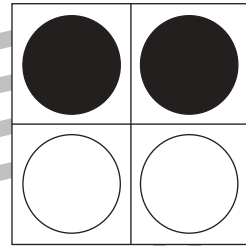
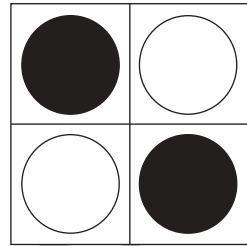

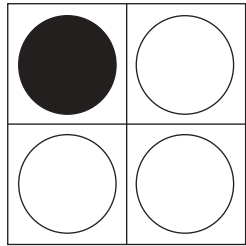


おうちで、やろう。 年中児版

Study at home. 小学校受験の家庭学習教材

図形：重ね 2

透明な板に、マスや丸がかいてあります。上と真ん中の二枚を重ねた時の見え方を考えて、下の四角の中の○を塗ります。



※1. このプリントは、しながわ・目黒こどもスクールのウェブサイトからダウンロードできます。無断複写・引用はご遠慮ください。
※2. このプリントを活用したオンライン授業のスケジュールは、しながわ・目黒こどもスクールのウェブサイトでご確認ください。




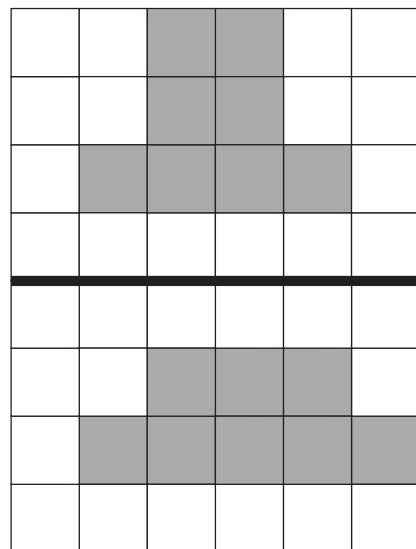
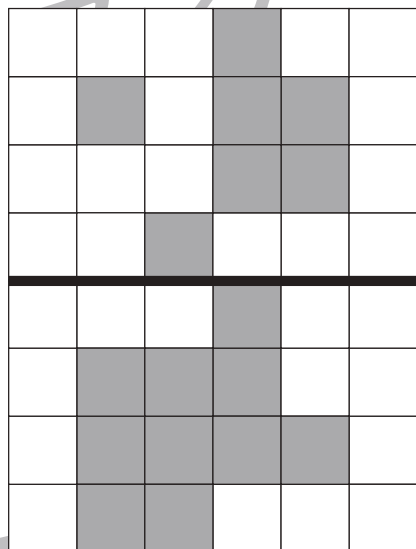




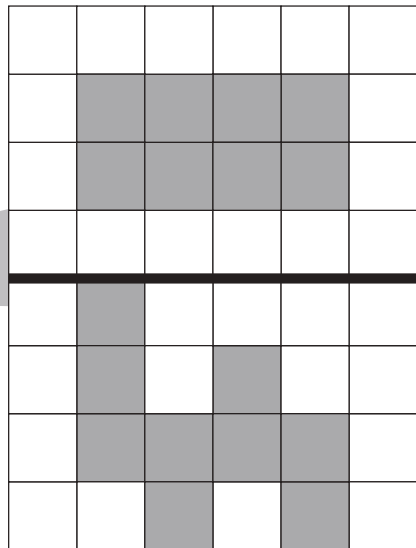



おうちで、やろう。 年中児版

Study at home. 小学校受験の家庭学習教材

図形：広さ5

上の四角と下の四角を比べて、色のついた部分が同じ広さのときは○を、違う広さのときは×を下の太い四角の中にかきます。



※1. このプリントは、しながわ・目黒こどもスクールのウェブサイトでダウンロードができます。無断複写・引用はご遠慮ください。
 ※2. このプリントを活用したオンライン授業のスケジュールは、しながわ・目黒こどもスクールのウェブサイトでご確認ください。



おうちで、やろう。 年中児版 推理：まちがいさがし 14

Study at home. 小学校受験の家庭学習教材

上下の絵を見比べて、変わっているところを5つ探します。見つけたら、下の絵の変わっている部分に丸をつけます。








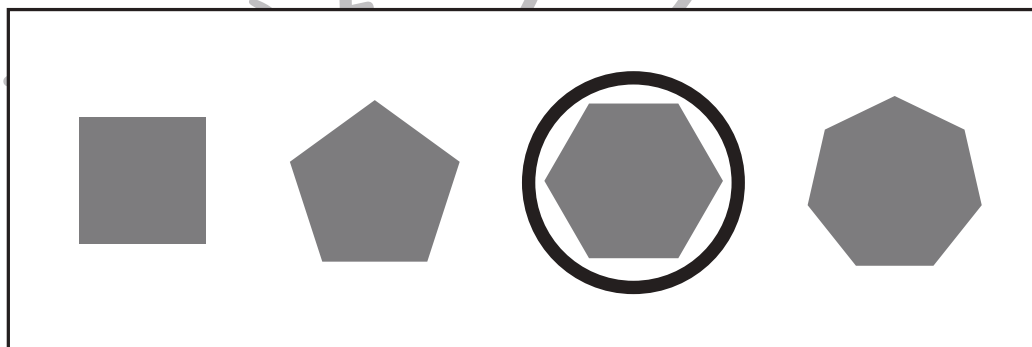


ICT教育の小学校受験

※1. このプリントは、しながわ・目黒こどもスクールのウェブサイトでダウンロードができます。無断複写・引用はご遠慮ください。
※2. このプリントを活用したオンライン授業のスケジュールは、しながわ・目黒こどもスクールのウェブサイトでご確認ください。





いろいろな形の空いた箱が左にかいてあります。箱の穴にぴったり合う形を右の四角の中から選び、○をつけます。



※1. このプリントは、しながわ・目黒こどもスクールのウェブサイトでダウンロードができます。無断複写・引用はご遠慮ください。
※2. このプリントを活用したオンライン授業のスケジュールは、しながわ・目黒こどもスクールのウェブサイトでご確認ください。



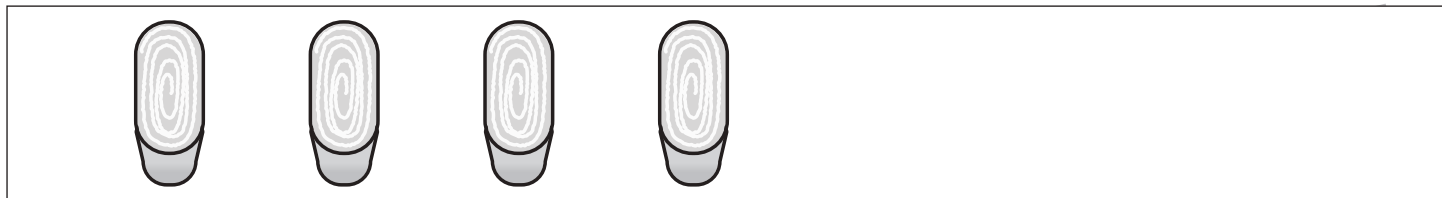


おうちで、やろう。年中児版


Study at home. 小学校受験の家庭学習教材

数量：加減 6


四角の中にあるたべものを、2つお姉さんにあげると残りはいくつになりますか。その数だけ下の四角に○をかきます。



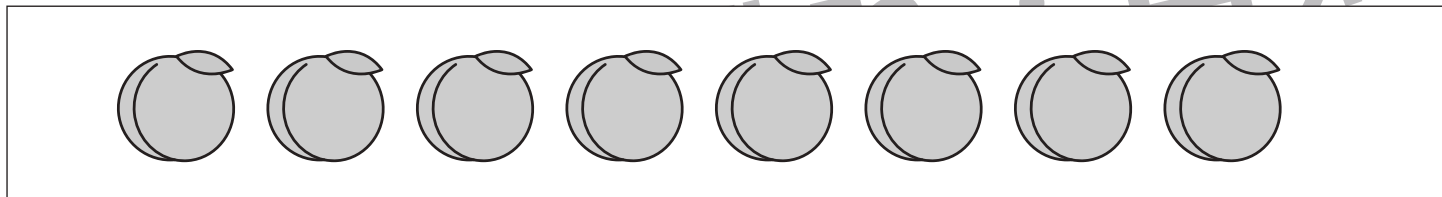
○×2



○×4



○×8



○×6

※1. このプリントは、しながわ・目黒こどもスクールのウェブサイトでダウンロードができます。無断複写・引用はご遠慮ください。
※2. このプリントを活用したオンライン授業のスケジュールは、しながわ・目黒こどもスクールのウェブサイトでご確認ください。