


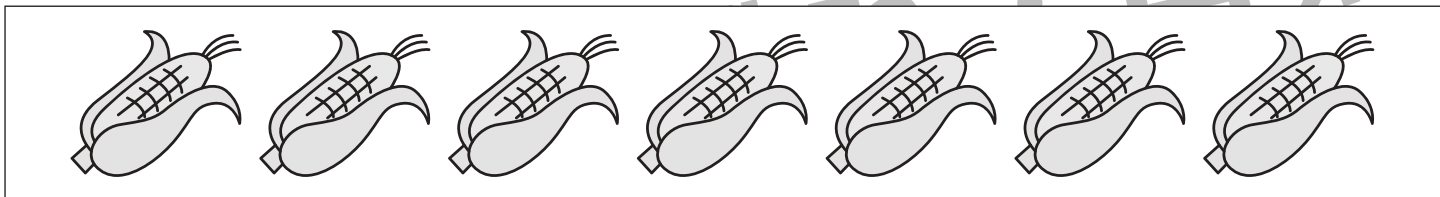


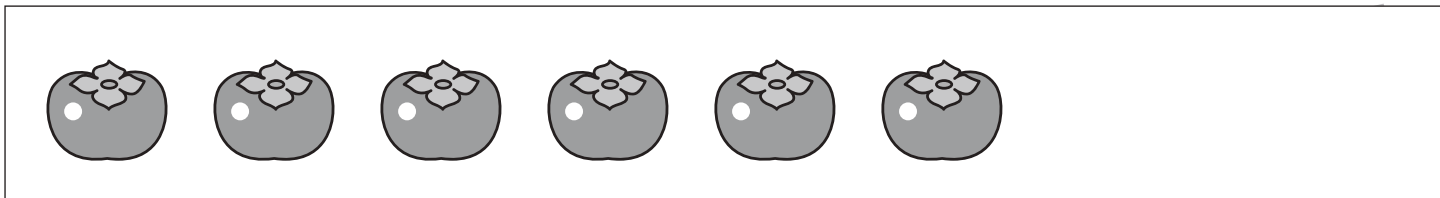


おうちで、やろう。 年中児版

Study at home. 小学校受験の家庭学習教材

数量：加減 7

四角の中にあるたべものを、3つお姉さんにあげると残りはいくつになりますか。その数だけ下の四角に○をかきます。



※1. このプリントは、しながわ・目黒こどもスクールのウェブサイトでダウンロードができます。無断複写・引用はご遠慮ください。
※2. このプリントを活用したオンライン授業のスケジュールは、しながわ・目黒こどもスクールのウェブサイトでご確認ください。







おうちで、やろう。年中児版

Study at home. 小学校受験の家庭学習教材

数量：加減 8

四角の中にあるたべものを、2つお姉さんにあげて、1つお兄さんからもらいと残りはいくつになりますか。その数だけ下の四角に○をかきます。





おうちで、よろう。 年中児版

Study at home. 小学校受験の家庭学習教材

図形：移動 8

○で囲まれた黒い点から出発して、上の四角の中に並んだ矢印の方向へ点をひとつずつ移動していきます。最後に着く点を考えて、その点を○で囲みます。通る点は線ですらないでも構いません。矢印は左から順番に見ていきます。

↓ ↓ ← ↓ ← ↓ →

↓ → ↑ ↑ → ↓ ↓

→ → ↓ ← ← ↓ →

↑ ← ↓ ← ↓ → ↓

※1. このプリントは、しながわ・目黒こどもスクールのウェブサイトでダウンロードができます。無断複写・引用はご遠慮ください。

※2. このプリントを活用したオンライン授業のスケジュールは、しながわ・目黒こどもスクールのウェブサイトでご確認ください。





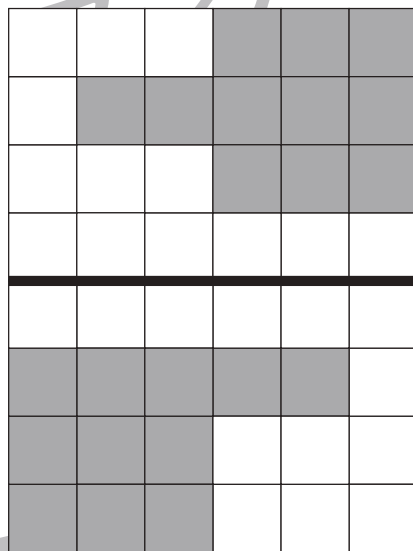






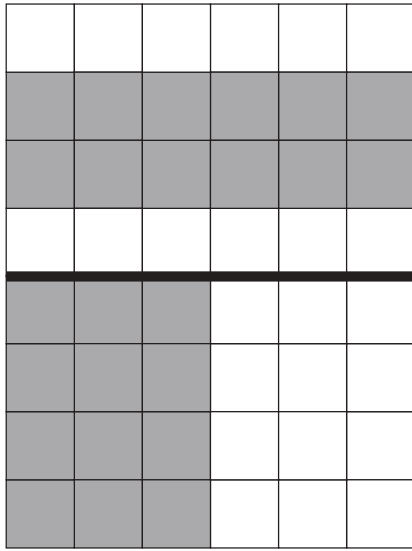


おうちで、やろう。 年中児版

Study at home. 小学校受験の家庭学習教材

図形：広さ6

上の四角と下の四角を比べて、色のついた部分と同じ広さのときは○を、違う広さのときは×を下の太い四角の中にかきます。



※1. このプリントは、しながわ・目黒こどもスクールのウェブサイトでダウンロードができます。無断複写・引用はご遠慮ください。
 ※2. このプリントを活用したオンライン授業のスケジュールは、しながわ・目黒こどもスクールのウェブサイトでご確認ください。















おうちで、やろう。 年中児版

Study at home. 小学校受験の家庭学習教材

図形：広さ7



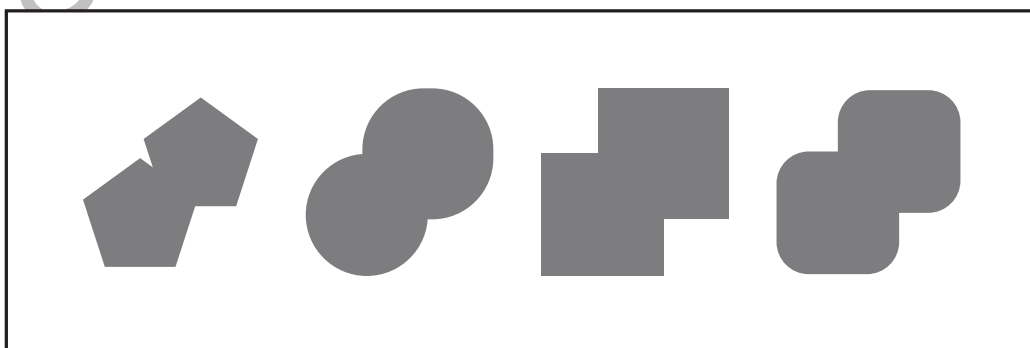







上の四角と下の四角を比べて、色のついた部分が同じ広さのときは○を、違う広さのときは×を下の太い四角の中にかきます。



※1. このプリントは、しながわ・目黒こどもスクールのウェブサイトでダウンロードができます。無断複写・引用はご遠慮ください。
※2. このプリントを活用したオンライン授業のスケジュールは、しながわ・目黒こどもスクールのウェブサイトでご確認ください。



いろいろな形の空いた箱が左にかいてあります。箱の穴にぴったり合う形を右の四角の中から選び、○をつけます。



※1. このプリントは、しながわ・目黒こどもスクールのウェブサイトからダウンロードできます。無断複写・引用はご遠慮ください。
※2. このプリントを活用したオンライン授業のスケジュールは、しながわ・目黒こどもスクールのウェブサイトでご確認ください。



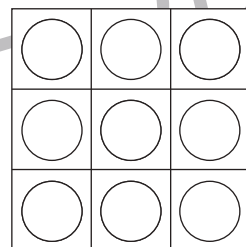







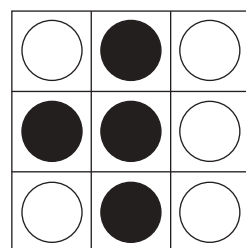



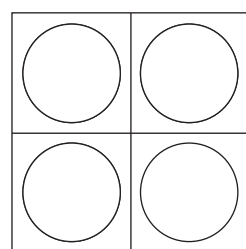
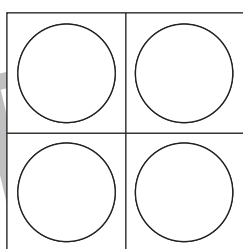
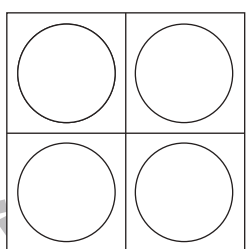
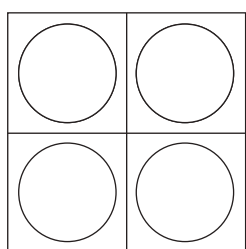
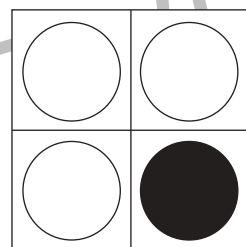


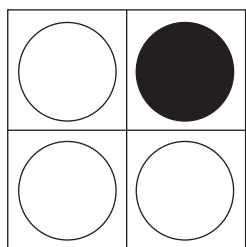
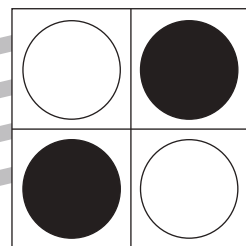
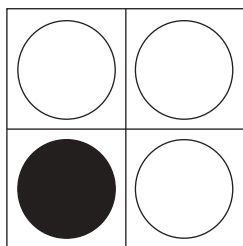
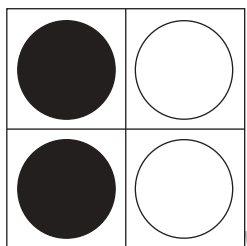
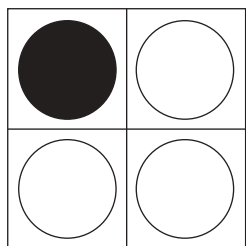


おうちで、よろう。 年中児版

Study at home. 小学校受験の家庭学習教材

図形：重ね 3

透明な板に、マスや丸がかいてあります。上と真ん中の二枚を重ねた時の見え方を考えて、下の四角の中の○を塗ります。



※1. このプリントは、しながわ・目黒こどもスクールのウェブサイトからダウンロードできます。無断複写・引用はご遠慮ください。
※2. このプリントを活用したオンライン授業のスケジュールは、しながわ・目黒こどもスクールのウェブサイトでご確認ください。





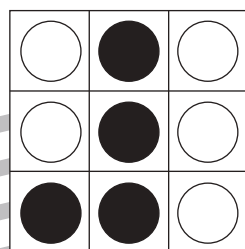







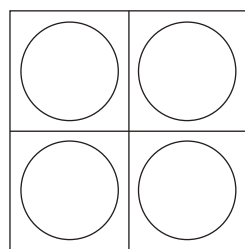
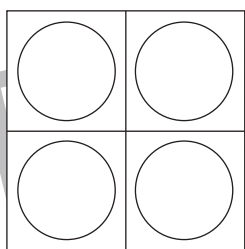
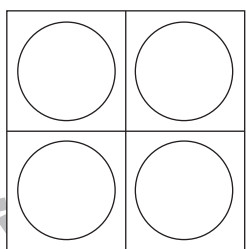
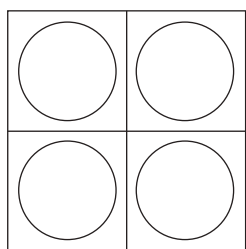
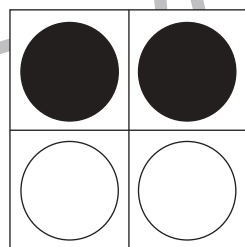


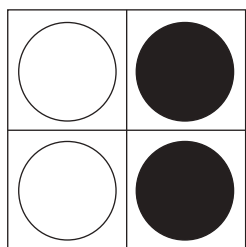
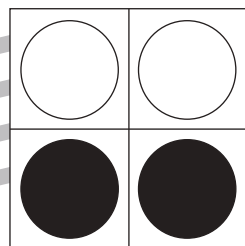
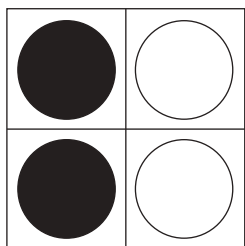

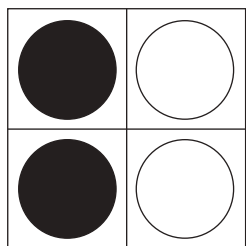


おうちで、よろう。 年中児版

Study at home. 小学校受験の家庭学習教材

図形：重ね 4

透明な板に、マスや丸がかいてあります。上と真ん中の二枚を重ねた時の見え方を考えて、下の四角の中の○を塗ります。



※1. このプリントは、しながわ・目黒こどもスクールのウェブサイトからダウンロードできます。無断複写・引用はご遠慮ください。
※2. このプリントを活用したオンライン授業のスケジュールは、しながわ・目黒こどもスクールのウェブサイトでご確認ください。