



おうちで、やろう。

Study at home. 小学校受験の家庭学習教材

記憶：お話の記憶1

別紙「お話の記憶1 本文」のお話を聞いて、問題に答えましょう。

※別紙問題プリントは伏せてお話を読みます。手を膝の上に置いて、静かに聞きましょう。

※7月13日(水)のオンライン授業では、実施中にこのお話の録音音声聞いて問題に取り組みます。

今日は家族4人で水族館に車できました。水族館の外の壁には大きな絵が描かれていました。それを見たゆうきくんが「お母さん、お父さん。見てみてあそこに大きなイルカと青い海の絵が描かれているよ。僕は今日イルカショーを見るのが凄く楽しみなんだ。」と言いました。ゆうきくんの家族は車から降りて水族館に入り、まずはじめに小さい魚から見ることにしました。水槽を見ると楽しそうに泳いでいたのはイカとタコでした。ゆうきくと妹のみよちゃんが水槽に顔を近づけると、イカがびっくりしてスミをはいてきました。次に見に行ったのはペンギンです。ペンギンご飯の時間だったのでエサを食べていました。ペンギンのコーナーではエサやり体験ができるそうです。ゆうきくんは「エサやり体験をしたい」と言い挑戦することになりました。ゆうきくんがエサを投げると3羽のペンギンがよってきてエサをとりあいました。それを見た妹のみよちゃんは「わあ、ケンカしないで。でもやっぱりペンギン可愛いね。私、ペンギンのぬいぐるみが欲しい。」と言うとお母さんは「あとでお土産コーナーを見に行きましょうね。」と言いました。そして次はいよいよイルカショーです。みんなでイルカものコーナーに行くと、そこには4頭のイルカが楽しそうに泳いでいました。イルカはとてもかしく、飼育員のお兄さんが投げたボールを上手にキャッチしました。イルカをはじめ生で見たゆうきくと妹のみよちゃんはすごく嬉しくなりました。イルカショーを見終わったあとにお土産コーナーに行きました。そこにはイルカやペンギンやタコなどのぬいぐるみがたくさん並んでいました。ゆうきくんはイルカ、みよちゃんはペンギンのぬいぐるみをお父さんとお母さんに買ってもらい大切に抱きしめていました。帰り道、ゆうきくんは車の中でお母さんとお父さんに「僕、大きくなったら水族館で働きたい」と目を輝かせて言っていました。お父さんとお母さんは「夏休みになったら家族みんなでまた水族館に行こうね」と言いました。

- ① 水族館の壁に描かれていた生き物は何ですか。正しいものに青のクーピーで○をつけましょう。
- ② びっくりしてスミをはいたのは何の生き物でしたか。正しいものに黒のクーピーで○をつけましょう。
- ③ ゆうきくんがエサやりをした時によってきたペンギンの数だけ鉛筆で○をかきましょう。
- ④ みよちゃんがおみやげコーナーで買ってもらったぬいぐるみに緑のクーピーで○をつけましょう。

※1. このプリントは、しながわ・目黒こどもスクールのウェブサイトからダウンロードができます。無断複写・引用はご遠慮ください。
※2. このプリントを活用したオンライン授業のスケジュールは、しながわ・目黒こどもスクールのウェブサイトでご確認ください。




おうちで、やろう。

Study at home. 小学校受験の家庭学習教材


記憶：お話の記憶1

別紙「お話の記憶1 本文」のお話を聞いて、問題に答えましょう。

①




②



③

④



※1. このプリントは、しながわ・目黒こどもスクールのウェブサイトでダウンロードができます。無断複写・引用はご遠慮ください。
※2. このプリントを活用したオンライン授業のスケジュールは、しながわ・目黒こどもスクールのウェブサイトでご確認ください。


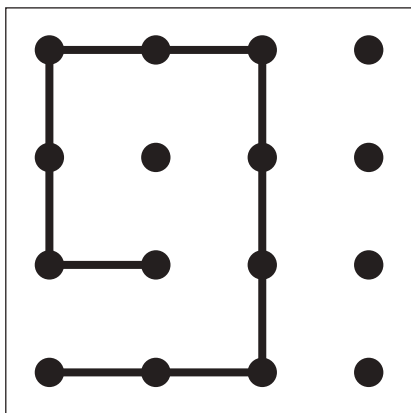
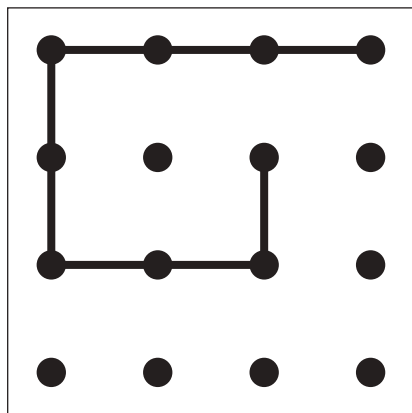

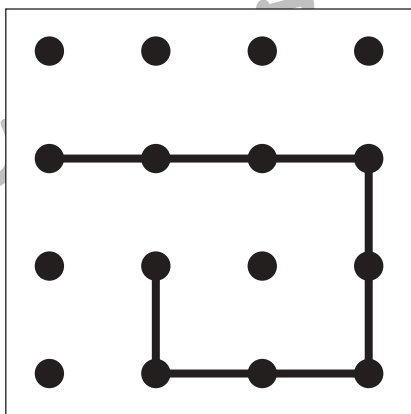
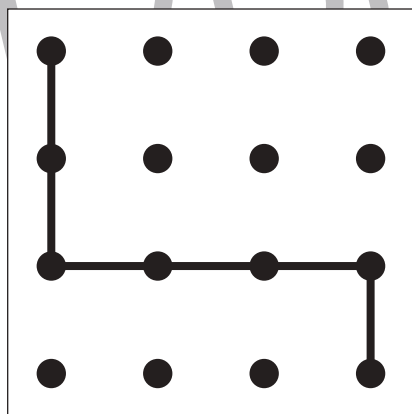

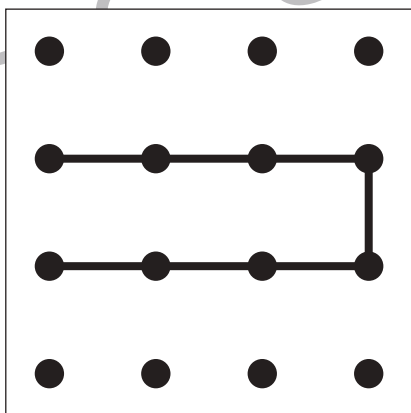
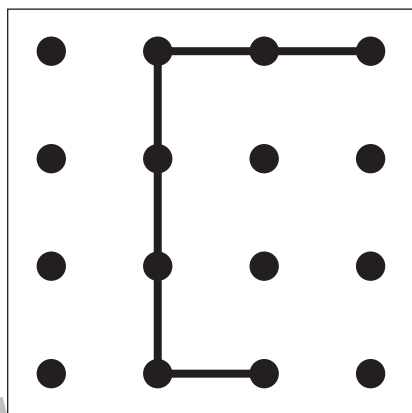

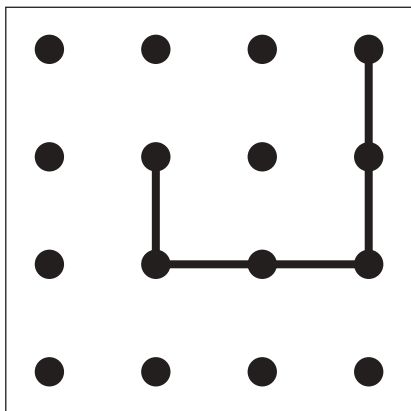
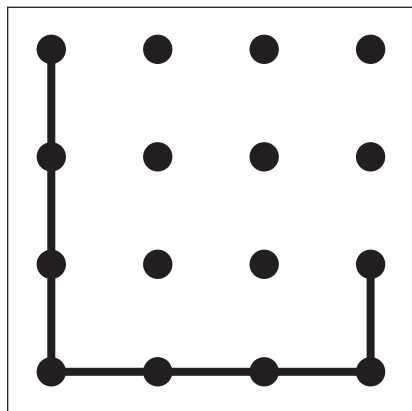


おうちで、やろう。 年中児版

Study at home. 小学校受験の家庭学習教材

図形：重ね点図形 7

左の2枚の点図形を重ねた形を考えて、矢印の右の四角にかきます。



※1. このプリントは、しながわ・目黒こどもスクールのウェブサイトでダウンロードができます。無断複写・引用はご遠慮ください。

※2. このプリントを活用したオンライン授業のスケジュールは、しながわ・目黒こどもスクールのウェブサイトでご確認ください。




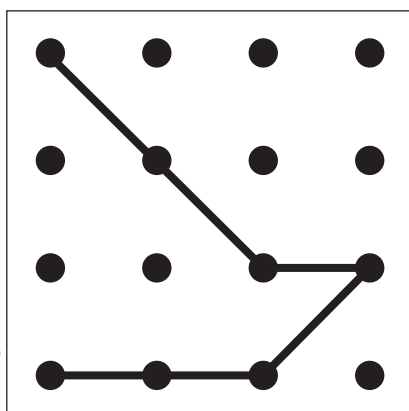
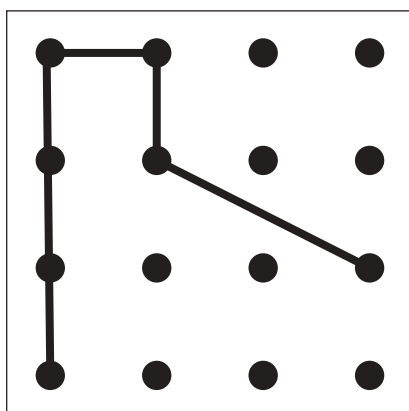

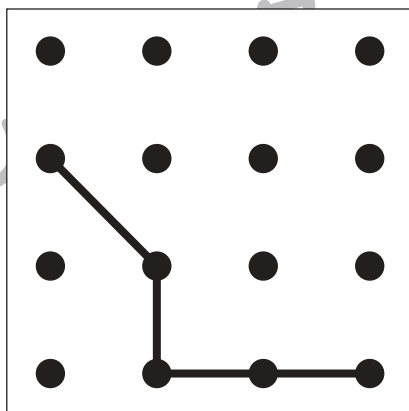
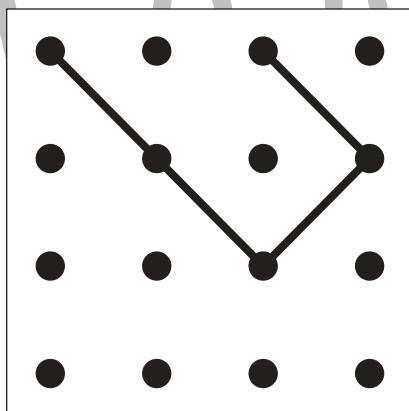

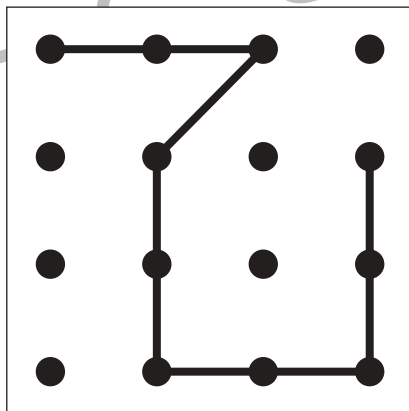
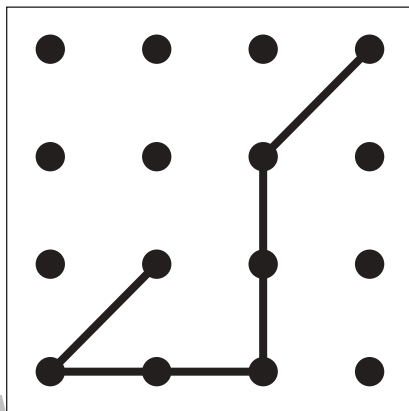

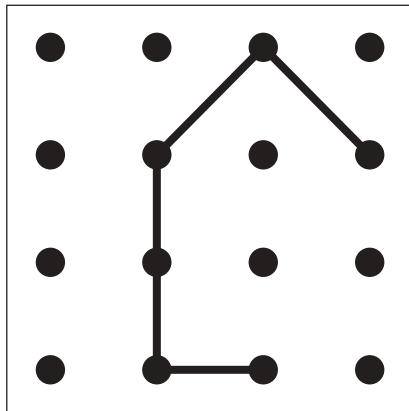
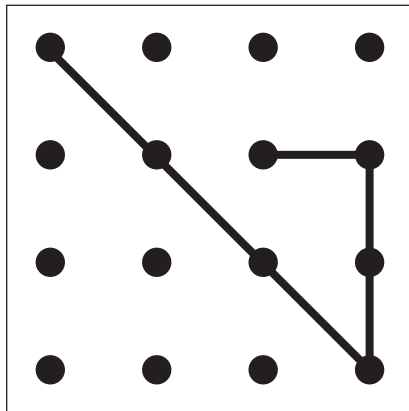


おうちで、やろう。 年中児版

Study at home. 小学校受験の家庭学習教材

図形：重ね点図形 8

左の2枚の点図形を重ねた形を考えて、矢印の右の四角にかきます。



※1. このプリントは、しながわ・目黒こどもスクールのウェブサイトでダウンロードができます。無断複写・引用はご遠慮ください。

※2. このプリントを活用したオンライン授業のスケジュールは、しながわ・目黒こどもスクールのウェブサイトでご確認ください。






おうちで、やろう。 年中児版

Study at home. 小学校受験の家庭学習教材

推理：条件迷路 7

左上の黒い矢印から右下の白い矢印まで、りんごだけを通って進みます。



こども

※1. このプリントは、しながわ・目黒こどもスクールのウェブサイトでダウンロードができます。無断複写・引用はご遠慮ください。
 ※2. このプリントを活用したオンライン授業のスケジュールは、しながわ・目黒こどもスクールのウェブサイトでご確認ください。




おうちで、やろう。 年中児版

Study at home. 小学校受験の家庭学習教材

推理：迷路 1

☆からはじめて★まで果物をすべて通って進みます。進んだ道を壁にぶつからないようにきれいな線がかきましょう。

しながわ・目黒



しながわ・目黒

※1. このプリントは、しながわ・目黒こどもスクールのウェブサイトからダウンロードできます。無断複写・引用はご遠慮ください。
※2. このプリントを活用したオンライン授業のスケジュールは、しながわ・目黒こどもスクールのウェブサイトでご確認ください。

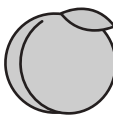



おうちで、やろう。 年中児版

Study at home. 小学校受験の家庭学習教材

数量：計数 10

四角の中にある絵の中で、下の四角の横に描いてある絵と同じ絵をかぞえてその数だけ四角の中に○をかきます。



※1. このプリントは、しながわ・目黒こどもスクールのウェブサイトでダウンロードができます。無断複写・引用はご遠慮ください。
※2. このプリントを活用したオンライン授業のスケジュールは、しながわ・目黒こどもスクールのウェブサイトでご確認ください。



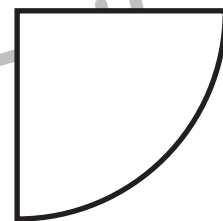
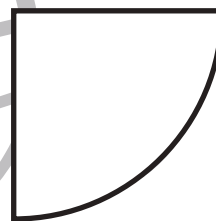
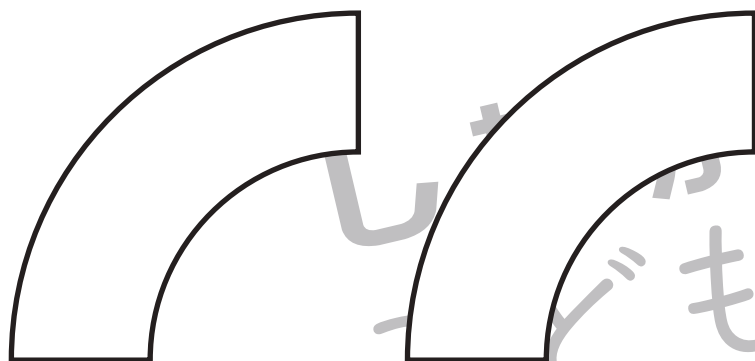

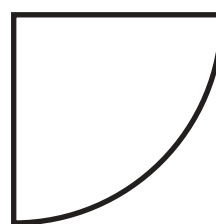
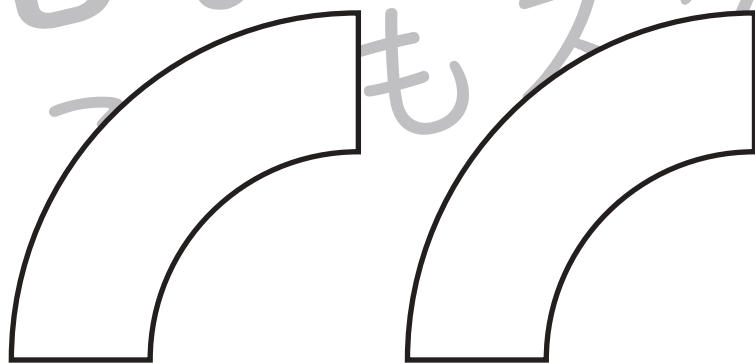

おうちで、やろう。年中児版

Study at home. 小学校受験の家庭学習教材

図形：構成7

【このプリントはハサミを使用します】

- ①プリントを点線で切ります。
- ②切り離れた下のプリントにかいてある形を、さらに線で切ります。
- ③上のかたちの中に、②でつくった形を隙間ができないように並べます。



※1. このプリントは、しながわ・目黒こどもスクールのウェブサイトでダウンロードができます。無断複写・引用はご遠慮ください。
※2. このプリントを活用したオンライン授業のスケジュールは、しながわ・目黒こどもスクールのウェブサイトでご確認ください。



おうちで、やろう。 年中児版

Study at home. 小学校受験の家庭学習教材

絵画：条件画 13

みなさんの夏休みに一番楽しみにしていることをかきます。

※1. このプリントは、しながわ・目黒こどもスクールのウェブサイトでダウンロードができます。無断複写・引用はご遠慮ください。
※2. このプリントを活用したオンライン授業のスケジュールは、しながわ・目黒こどもスクールのウェブサイトでご確認ください。