



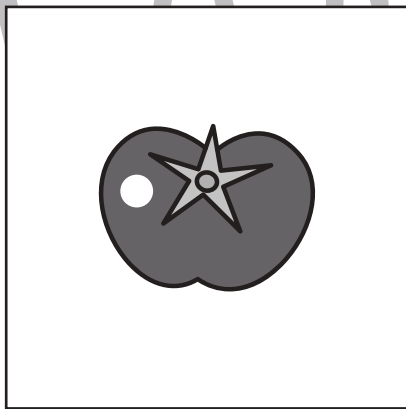

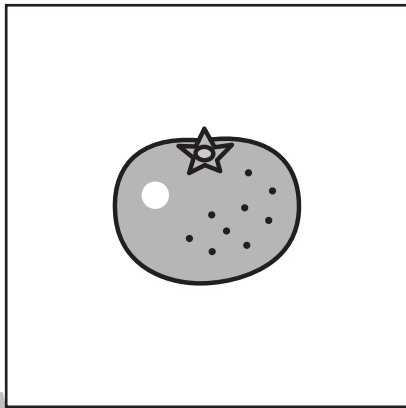




おうちで、やろう。年中児版

Study at home. 小学校受験の家庭学習教材

常識：季節 6

左と右の四角の中で同じ季節の絵同士を線で結びます。



※1. このプリントは、しながわ・目黒こどもスクールのウェブサイトでダウンロードができます。無断複写・引用はご遠慮ください。
※2. このプリントを活用したオンライン授業のスケジュールは、しながわ・目黒こどもスクールのウェブサイトでご確認ください。

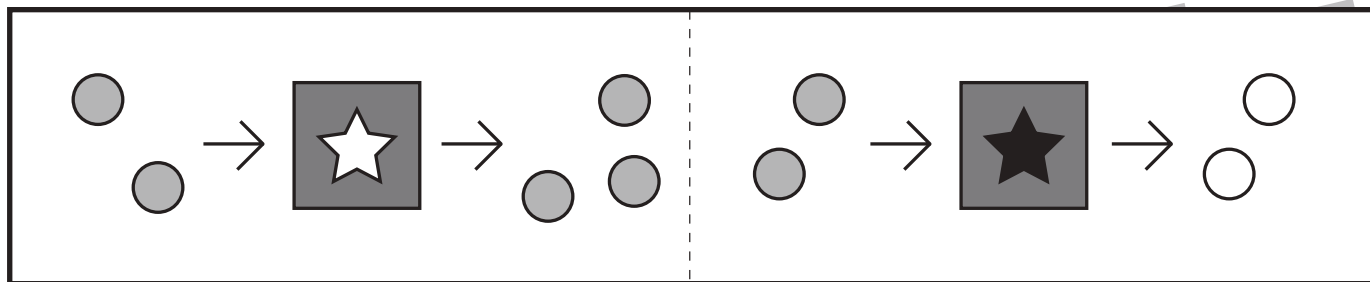




おうちで、やろう。 年中児版 推理：ブラックボックス6

Study at home. 小学校受験の家庭学習教材

一番上の四角の中が約束です。☆の箱に入ると1つ増え、★の箱に入ると色が変わります。この約束で下の問題を考えます。○が矢印の順番に箱の中を通ったとき、?の場所の○はどうなりますか。答えになるように右の四角に○をかきます。



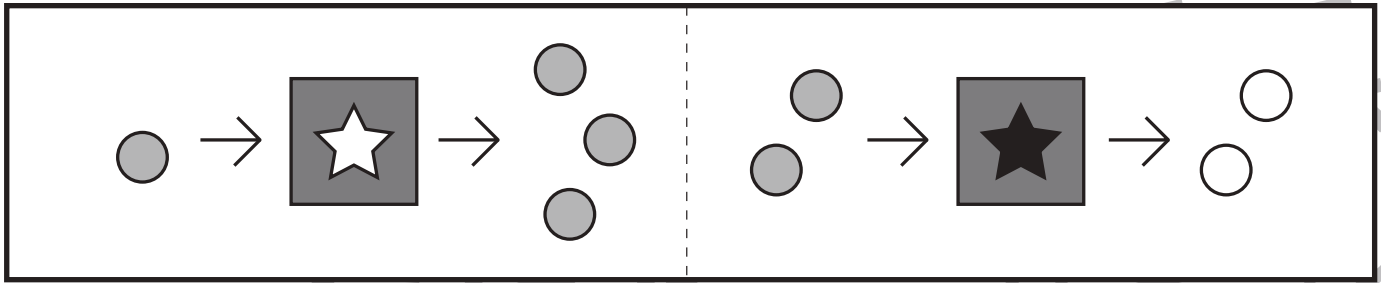
※1. このプリントは、しながわ・目黒こどもスクールのウェブサイトでダウンロードができます。無断複写・引用はご遠慮ください。
 ※2. このプリントを活用したオンライン授業のスケジュールは、しながわ・目黒こどもスクールのウェブサイトでご確認ください。



おうちで、やろう。 年中児版 推理：ブラックボックス7

Study at home. 小学校受験の家庭学習教材

一番上の四角の中が約束です。☆の箱に入ると2つ増え、★の箱に入ると色が変わります。この約束で下の問題を考えます。○が矢印の順番に箱の中を通ったとき、?の場所の○はどうなりますか。答えになるように右の四角に○をかきます。



※1. このプリントは、しながわ・目黒こどもスクールのウェブサイトでダウンロードができます。無断複写・引用はご遠慮ください。
 ※2. このプリントを活用したオンライン授業のスケジュールは、しながわ・目黒こどもスクールのウェブサイトでご確認ください。



おうちで、やろう。 年中児版

Study at home. 小学校受験の家庭学習教材

推理：運筆 5

四角の中で、点線より上に描いてある形を 8 個にするには、あといくつ足せばよいですか。その数だけ点線の下に同じ形をかきます。

✓ ✓ ✓ ✓ ✓

☑ ☑ ☑ ☑ ☑ ☑

⊙ ⊙ ⊙ ⊙ ⊙ ⊙

⊗ ⊗ ⊗ ⊗ ⊗ ⊗ ⊗

✳ ✳ ✳ ✳ ✳ ✳

※ 1. このプリントは、しながわ・目黒こどもスクールのウェブサイトでダウンロードができます。無断複写・引用はご遠慮ください。
 ※ 2. このプリントを活用したオンライン授業のスケジュールは、しながわ・目黒こどもスクールのウェブサイトでご確認ください。

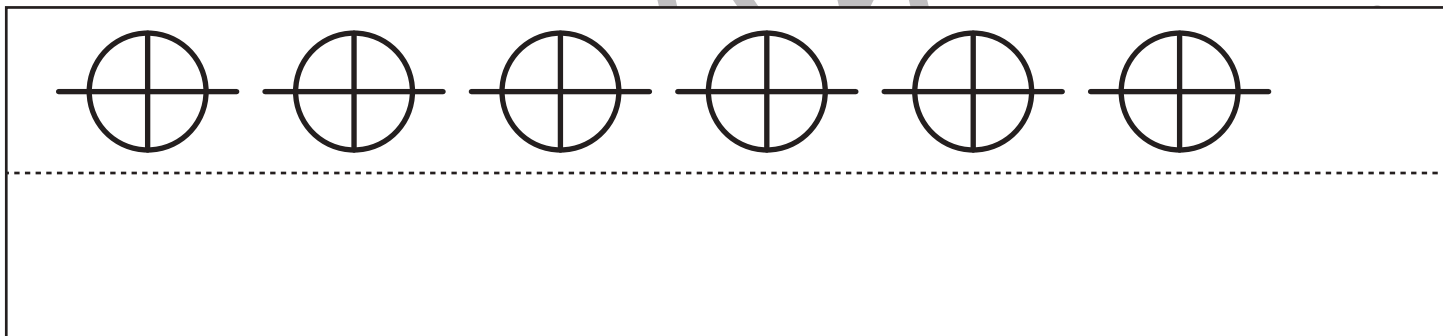
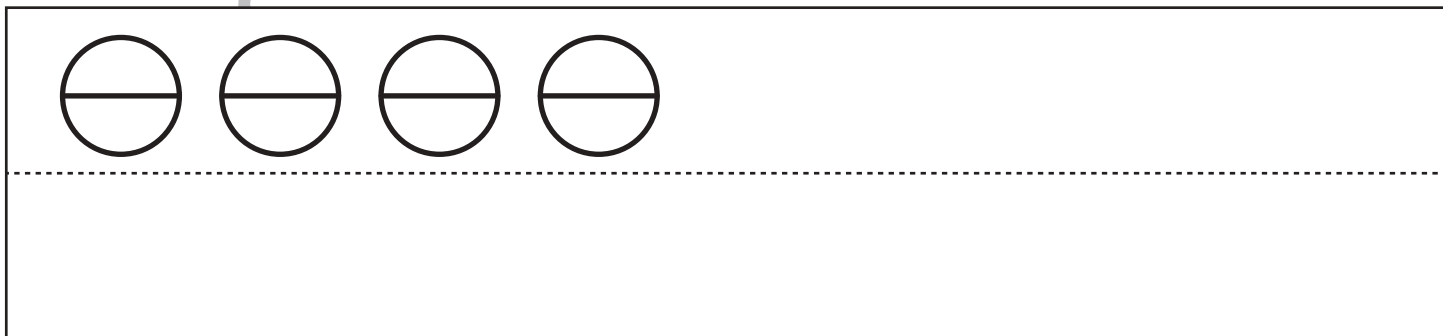
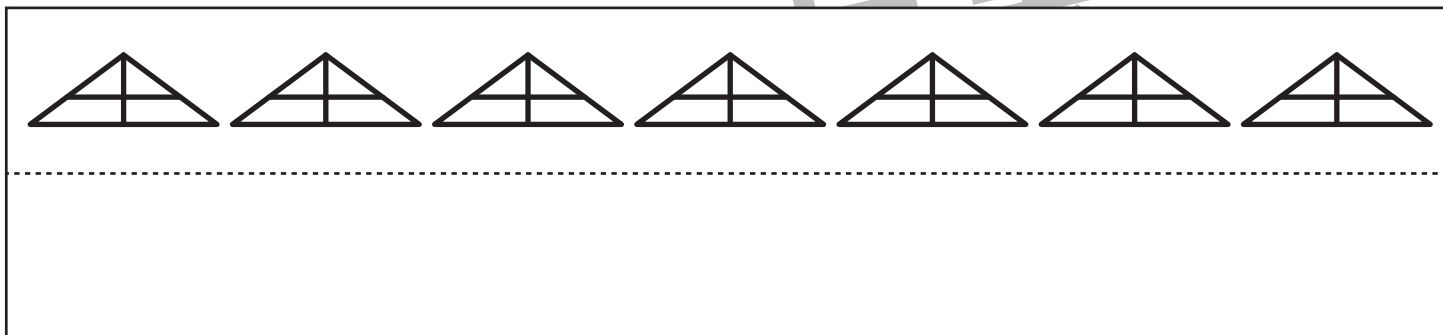
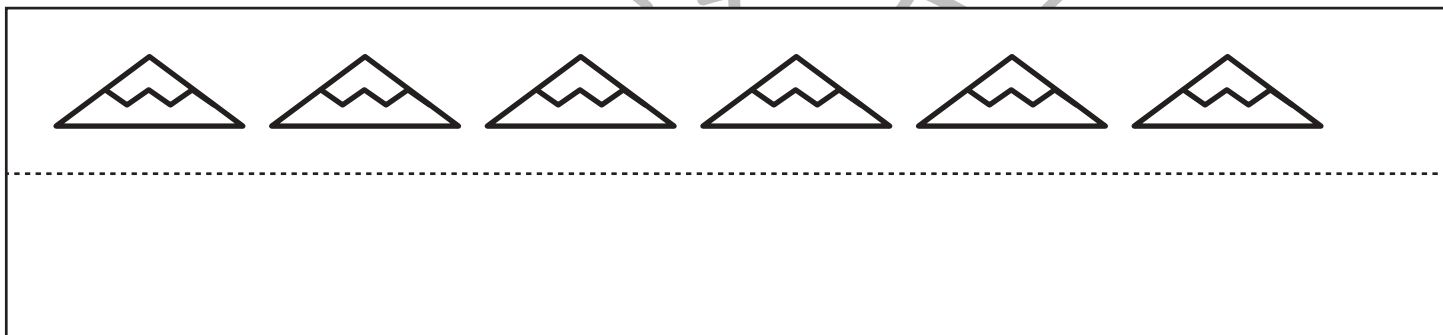
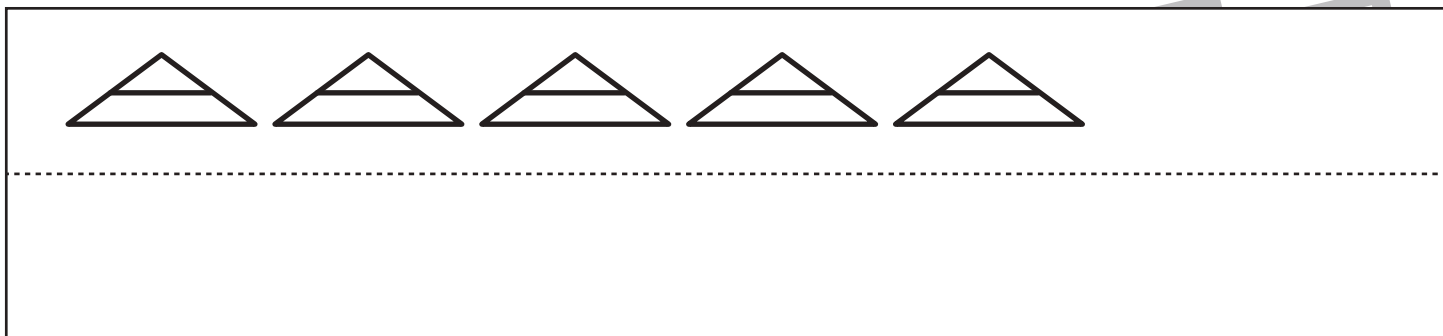


おうちで、やろう。 年中児版

Study at home. 小学校受験の家庭学習教材

推理：運筆 6

四角の中で、点線より上に描いてある形を 10 個にするには、あといくつ足せばよいですか。その数だけ点線の下に同じ形をかきます。



※1. このプリントは、しながわ・目黒こどもスクールのウェブサイトからダウンロードできます。無断複写・引用はご遠慮ください。
※2. このプリントを活用したオンライン授業のスケジュールは、しながわ・目黒こどもスクールのウェブサイトでご確認ください。



おうちで、やろう。

Study at home. 小学校受験の家庭学習教材

数量：合わせた数5

左の太い四角の中の果物や野菜の数を10個にします。右の4つの四角のうち左の四角の中の果物と合わせて10個になるものを1つ選んで○をつけます。

--	--	--	--	--

--	--	--	--	--

--	--	--	--	--

--	--	--	--	--

※1. このプリントは、しながわ・目黒こどもスクールのウェブサイトでダウンロードができます。無断複写・引用はご遠慮ください。
 ※2. このプリントを活用したオンライン授業のスケジュールは、しながわ・目黒こどもスクールのウェブサイトでご確認ください。

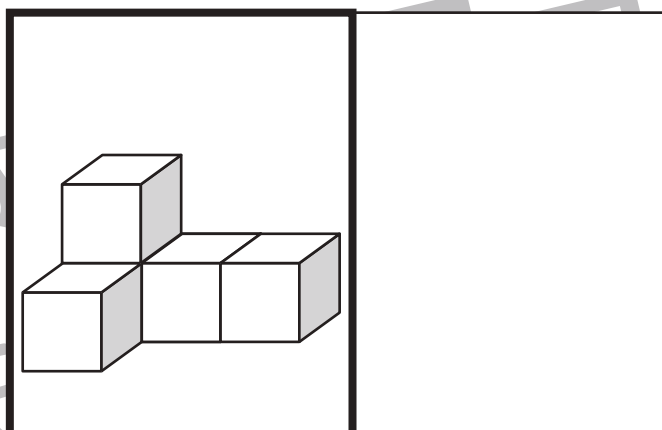
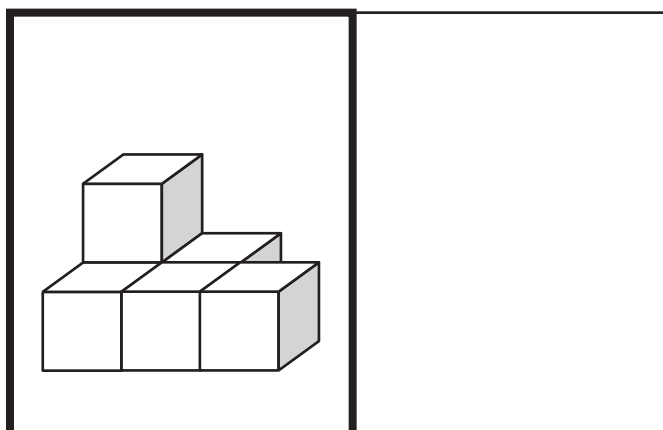
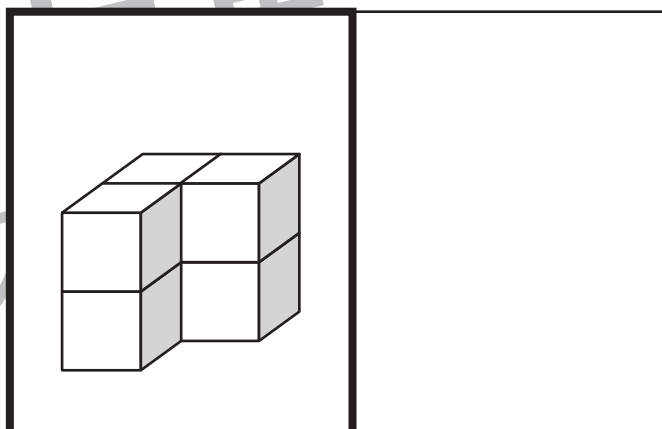
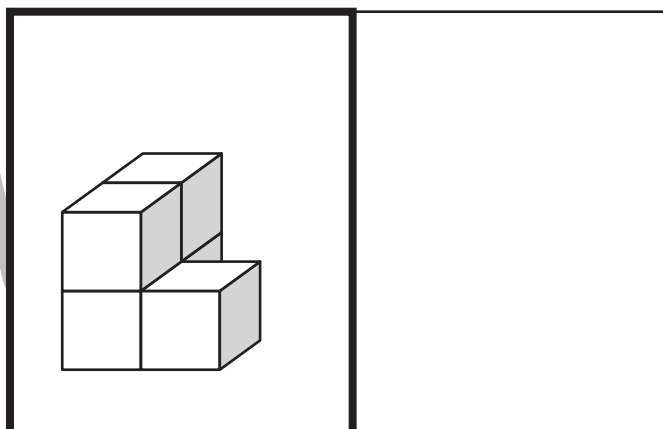
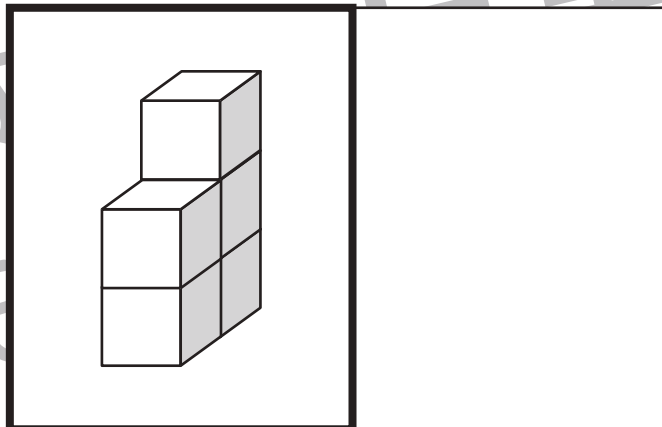
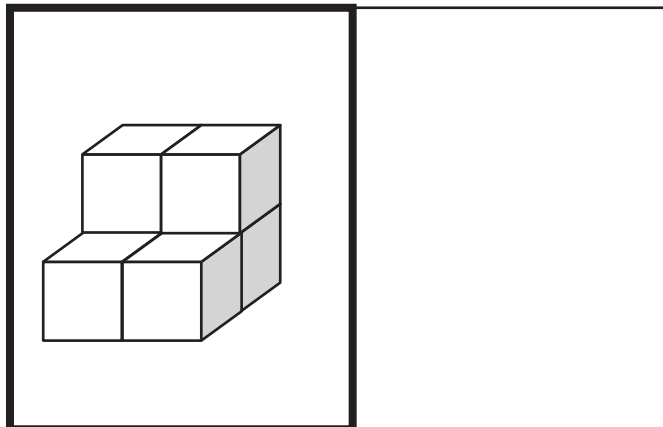


おうちで、やろう。 年中児版

Study at home. 小学校受験の家庭学習教材

数量：積み木 4

左の四角の中の積み木の数数を数えて、その数だけ右の四角に○をかきます。



※1. このプリントは、しながわ・目黒こどもスクールのウェブサイトからダウンロードできます。無断複写・引用はご遠慮ください。
※2. このプリントを活用したオンライン授業のスケジュールは、しながわ・目黒こどもスクールのウェブサイトでご確認ください。



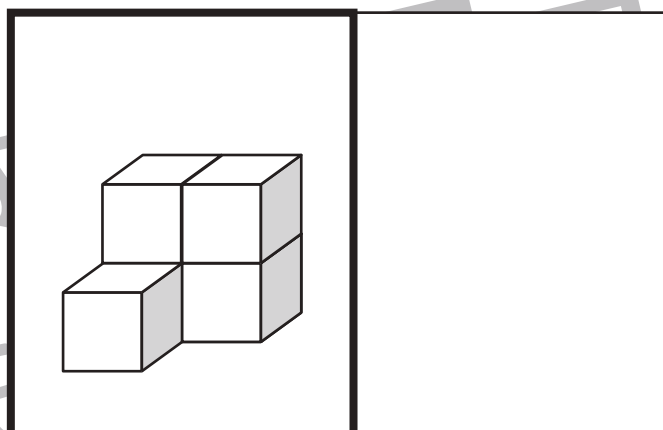
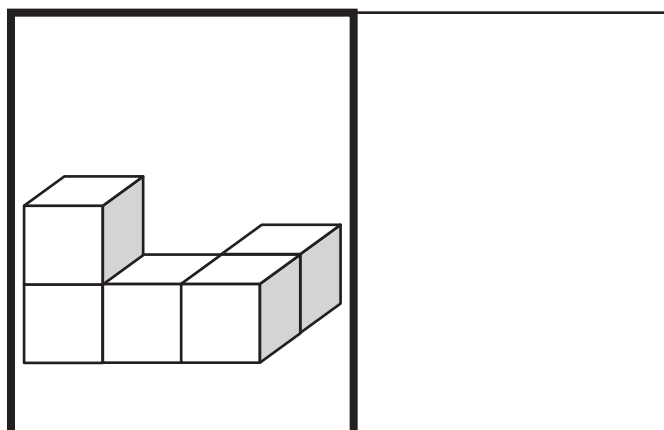
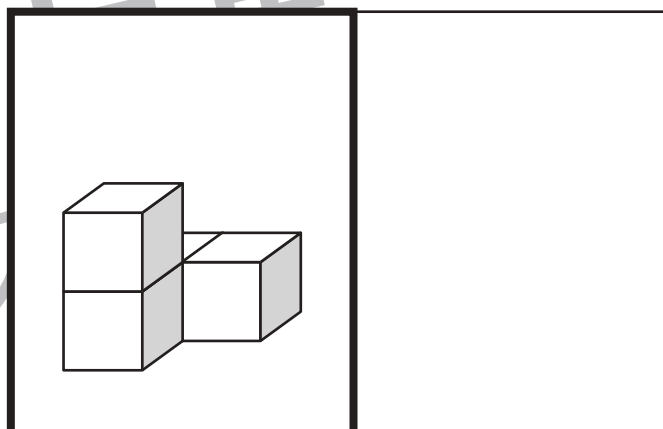
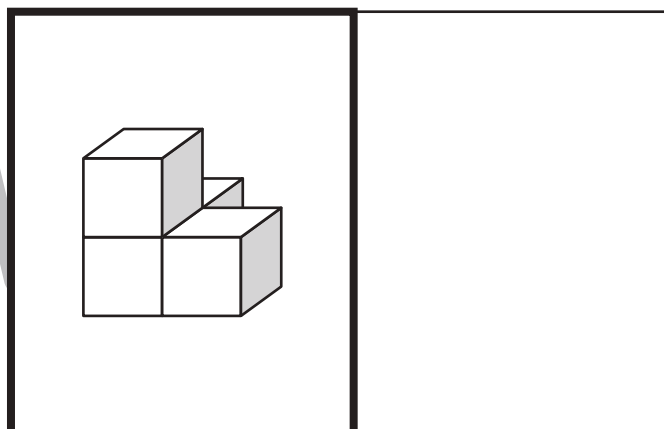
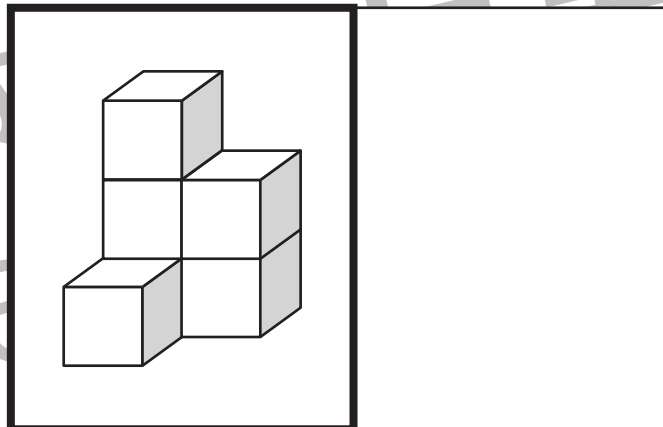
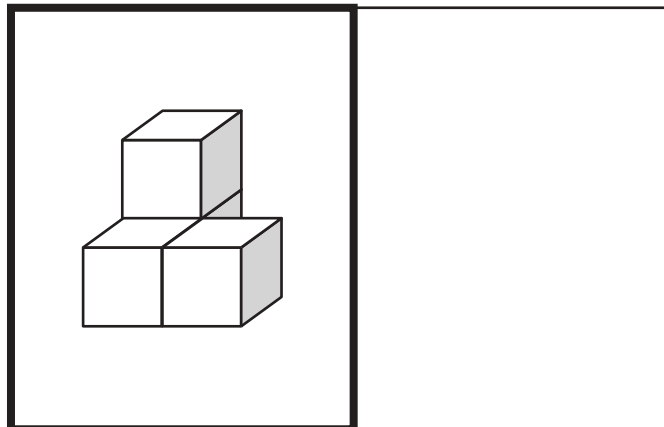


おうちで、やろう。 年中児版

Study at home. 小学校受験の家庭学習教材

数量：積み木 5

左の四角の中の積み木の数数を数えて、その数だけ右の四角に○をかきます。



※1. このプリントは、しながわ・目黒こどもスクールのウェブサイトでダウンロードができます。無断複写・引用はご遠慮ください。
※2. このプリントを活用したオンライン授業のスケジュールは、しながわ・目黒こどもスクールのウェブサイトでご確認ください。

