



# おうちで、よろう。

Study at home. 小学校受験の家庭学習教材

## 図形：回転鏡 3

左の四角のマスで矢印の方向へ 1 回倒した時の見え方を矢印の右のマスにかきます。その後、その四角を鏡で映したときの見え方を考えて一番右のマスにかきます。

<table border="1"> <tr><td></td><td>●</td></tr> <tr><td></td><td>○</td></tr> </table>		●		○	→	<table border="1"> <tr><td></td><td></td></tr> <tr><td></td><td></td></tr> </table>						<table border="1"> <tr><td></td><td></td></tr> <tr><td></td><td></td></tr> </table>				
	●															
	○															

<table border="1"> <tr><td>○</td><td></td></tr> <tr><td></td><td>●</td></tr> </table>	○			●	→	<table border="1"> <tr><td></td><td></td></tr> <tr><td></td><td></td></tr> </table>						<table border="1"> <tr><td></td><td></td></tr> <tr><td></td><td></td></tr> </table>				
○																
	●															

<table border="1"> <tr><td>○</td><td>●</td></tr> <tr><td>○</td><td></td></tr> </table>	○	●	○		→	<table border="1"> <tr><td></td><td></td></tr> <tr><td></td><td></td></tr> </table>						<table border="1"> <tr><td></td><td></td></tr> <tr><td></td><td></td></tr> </table>				
○	●															
○																

<table border="1"> <tr><td>●</td><td></td></tr> <tr><td>○</td><td>○</td></tr> </table>	●		○	○	→	<table border="1"> <tr><td></td><td></td></tr> <tr><td></td><td></td></tr> </table>						<table border="1"> <tr><td></td><td></td></tr> <tr><td></td><td></td></tr> </table>				
●																
○	○															

<table border="1"> <tr><td>○</td><td>●</td></tr> <tr><td>○</td><td>○</td></tr> </table>	○	●	○	○	→	<table border="1"> <tr><td></td><td></td></tr> <tr><td></td><td></td></tr> </table>						<table border="1"> <tr><td></td><td></td></tr> <tr><td></td><td></td></tr> </table>				
○	●															
○	○															

※1. このプリントは、しながわ・目黒こどもスクールのウェブサイトからダウンロードができます。無断複写・引用はご遠慮ください。  
 ※2. このプリントを活用したオンライン授業のスケジュールは、しながわ・目黒こどもスクールのウェブサイトでご確認ください。



# おうちで、よろう。

Study at home. 小学校受験の家庭学習教材

## 図形：回転鏡 4

左の四角のマスに矢印の方向へ 1 回倒した時の見え方を矢印の右のマスにかきます。その後、その四角を鏡で映したときの見え方を考えて一番右のマスにかきます。

<table border="1"> <tr><td></td><td>●</td></tr> <tr><td>○</td><td>○</td></tr> </table>		●	○	○	→	<table border="1"> <tr><td></td><td></td></tr> <tr><td></td><td></td></tr> </table>						<table border="1"> <tr><td></td><td></td></tr> <tr><td></td><td></td></tr> </table>				
	●															
○	○															

<table border="1"> <tr><td>○</td><td></td></tr> <tr><td>●</td><td>●</td></tr> </table>	○		●	●	→	<table border="1"> <tr><td></td><td></td></tr> <tr><td></td><td></td></tr> </table>						<table border="1"> <tr><td></td><td></td></tr> <tr><td></td><td></td></tr> </table>				
○																
●	●															

<table border="1"> <tr><td>●</td><td>○</td></tr> <tr><td>○</td><td></td></tr> </table>	●	○	○		→	<table border="1"> <tr><td></td><td></td></tr> <tr><td></td><td></td></tr> </table>						<table border="1"> <tr><td></td><td></td></tr> <tr><td></td><td></td></tr> </table>				
●	○															
○																

<table border="1"> <tr><td></td><td>●</td></tr> <tr><td>●</td><td>○</td></tr> </table>		●	●	○	→	<table border="1"> <tr><td></td><td></td></tr> <tr><td></td><td></td></tr> </table>						<table border="1"> <tr><td></td><td></td></tr> <tr><td></td><td></td></tr> </table>				
	●															
●	○															

<table border="1"> <tr><td>○</td><td>○</td></tr> <tr><td>●</td><td>○</td></tr> </table>	○	○	●	○	→	<table border="1"> <tr><td></td><td></td></tr> <tr><td></td><td></td></tr> </table>						<table border="1"> <tr><td></td><td></td></tr> <tr><td></td><td></td></tr> </table>				
○	○															
●	○															

※ 1. このプリントは、しながわ・目黒こどもスクールのウェブサイトでダウンロードができます。無断複写・引用はご遠慮ください。

※ 2. このプリントを活用したオンライン授業のスケジュールは、しながわ・目黒こどもスクールのウェブサイトでご確認ください。



# おうちで、やろう。

Study at home. 小学校受験の家庭学習教材

## 図形：回転鏡 5

左の四角のマスで矢印の方向へ 1 回倒した時の見え方を矢印の右のマスにかきます。その後、その四角を鏡で映したときの見え方を考えて一番右のマスにかきます。

<table border="1"> <tr><td>△</td><td></td></tr> <tr><td></td><td>○</td></tr> </table>	△			○	→	<table border="1"> <tr><td></td><td></td></tr> <tr><td></td><td></td></tr> </table>						<table border="1"> <tr><td></td><td></td></tr> <tr><td></td><td></td></tr> </table>				
△																
	○															

<table border="1"> <tr><td>○</td><td>○</td></tr> <tr><td>△</td><td></td></tr> </table>	○	○	△		→	<table border="1"> <tr><td></td><td></td></tr> <tr><td></td><td></td></tr> </table>						<table border="1"> <tr><td></td><td></td></tr> <tr><td></td><td></td></tr> </table>				
○	○															
△																

<table border="1"> <tr><td>△</td><td>○</td></tr> <tr><td>○</td><td></td></tr> </table>	△	○	○		→	<table border="1"> <tr><td></td><td></td></tr> <tr><td></td><td></td></tr> </table>						<table border="1"> <tr><td></td><td></td></tr> <tr><td></td><td></td></tr> </table>				
△	○															
○																

<table border="1"> <tr><td>▽</td><td>○</td></tr> <tr><td>△</td><td>○</td></tr> </table>	▽	○	△	○	→	<table border="1"> <tr><td></td><td></td></tr> <tr><td></td><td></td></tr> </table>						<table border="1"> <tr><td></td><td></td></tr> <tr><td></td><td></td></tr> </table>				
▽	○															
△	○															

<table border="1"> <tr><td>○</td><td>▽</td></tr> <tr><td>△</td><td>○</td></tr> </table>	○	▽	△	○	→	<table border="1"> <tr><td></td><td></td></tr> <tr><td></td><td></td></tr> </table>						<table border="1"> <tr><td></td><td></td></tr> <tr><td></td><td></td></tr> </table>				
○	▽															
△	○															

※ 1. このプリントは、しながわ・目黒こどもスクールのウェブサイトからダウンロードができます。無断複写・引用はご遠慮ください。

※ 2. このプリントを活用したオンライン授業のスケジュールは、しながわ・目黒こどもスクールのウェブサイトでご確認ください。



# おうちで、やろう。

Study at home. 小学校受験の家庭学習教材

## 図形：回転鏡 6

左の四角のマスに矢印の方向へ 1 回倒した時の見え方を矢印の右のマスにかきます。その後、その四角を鏡で映したときの見え方を考えて一番右のマスにかきます。

--	--	--	--	--

--	--	--	--	--

--	--	--	--	--

--	--	--	--	--

--	--	--	--	--

※1. このプリントは、しながわ・目黒こどもスクールのウェブサイトでダウンロードができます。無断複写・引用はご遠慮ください。

※2. このプリントを活用したオンライン授業のスケジュールは、しながわ・目黒こどもスクールのウェブサイトでご確認ください。

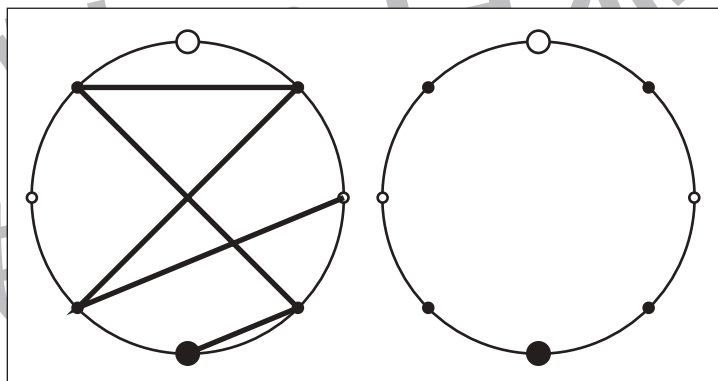
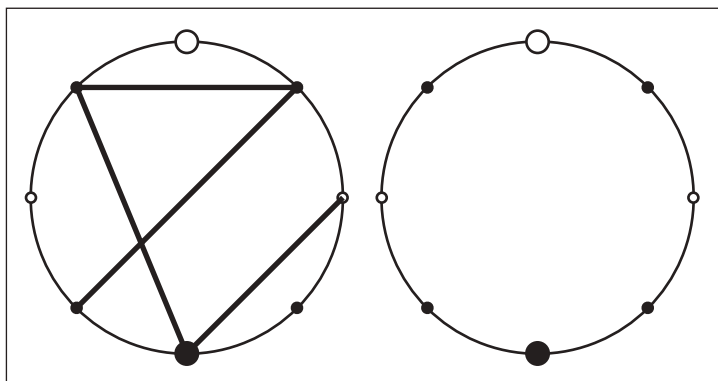
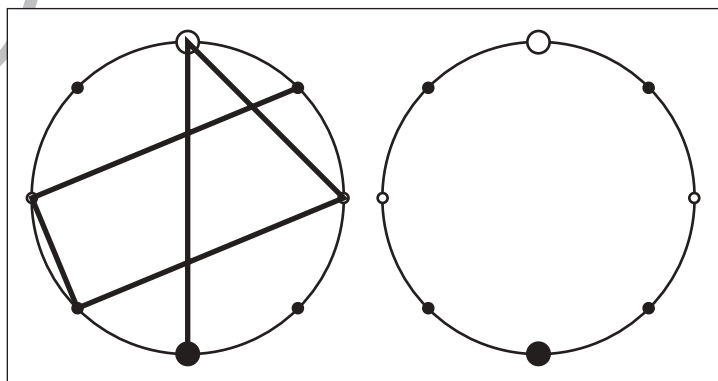
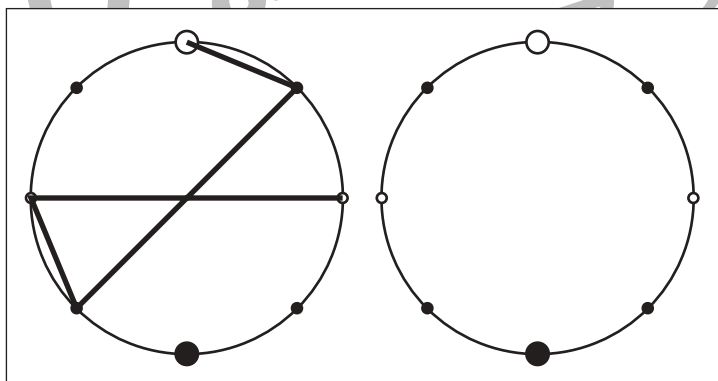
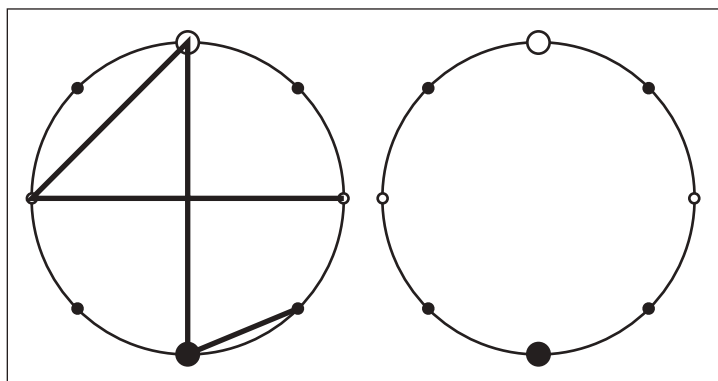
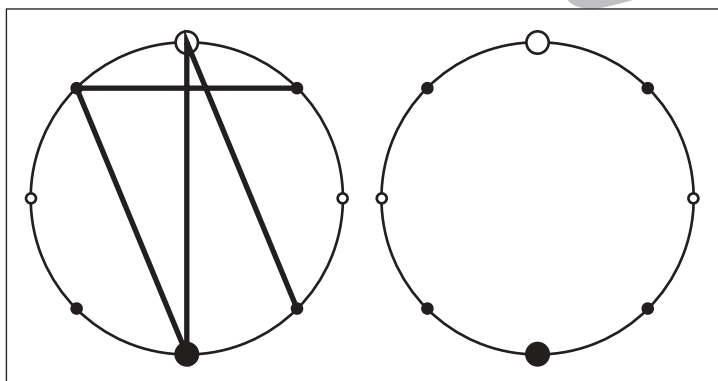
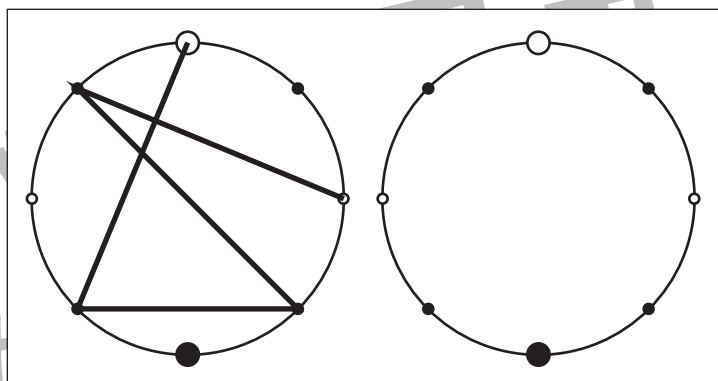
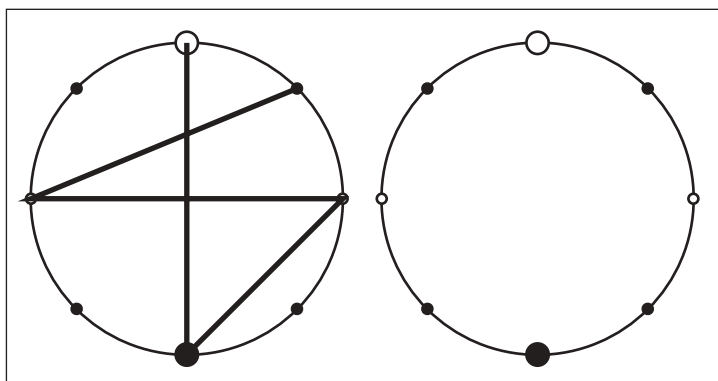


# おうちで、やろう。

Study at home. 小学校受験の家庭学習教材

## 図形：点図形 57

左のお手本を見て、右にそっくり描き写しましょう。※このプリントに解答はありません。



※1. このプリントは、しながわ・目黒こどもスクールのウェブサイトでダウンロードができます。無断複写・引用はご遠慮ください。  
※2. このプリントを活用したオンライン授業のスケジュールは、しながわ・目黒こどもスクールのウェブサイトでご確認ください。

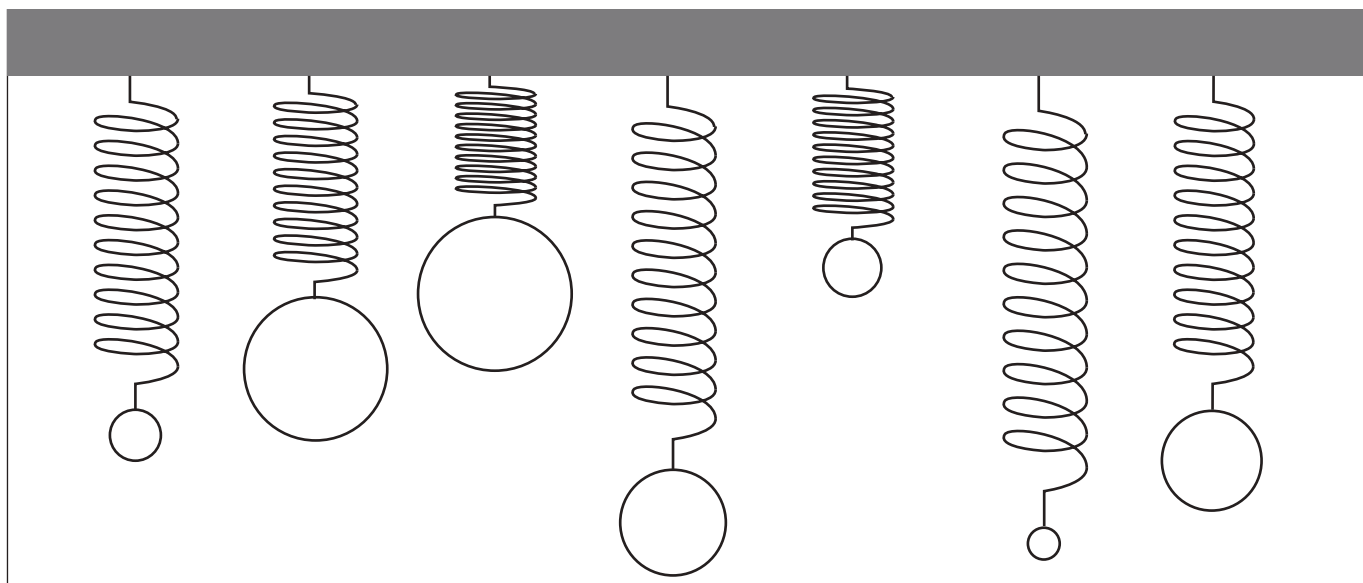
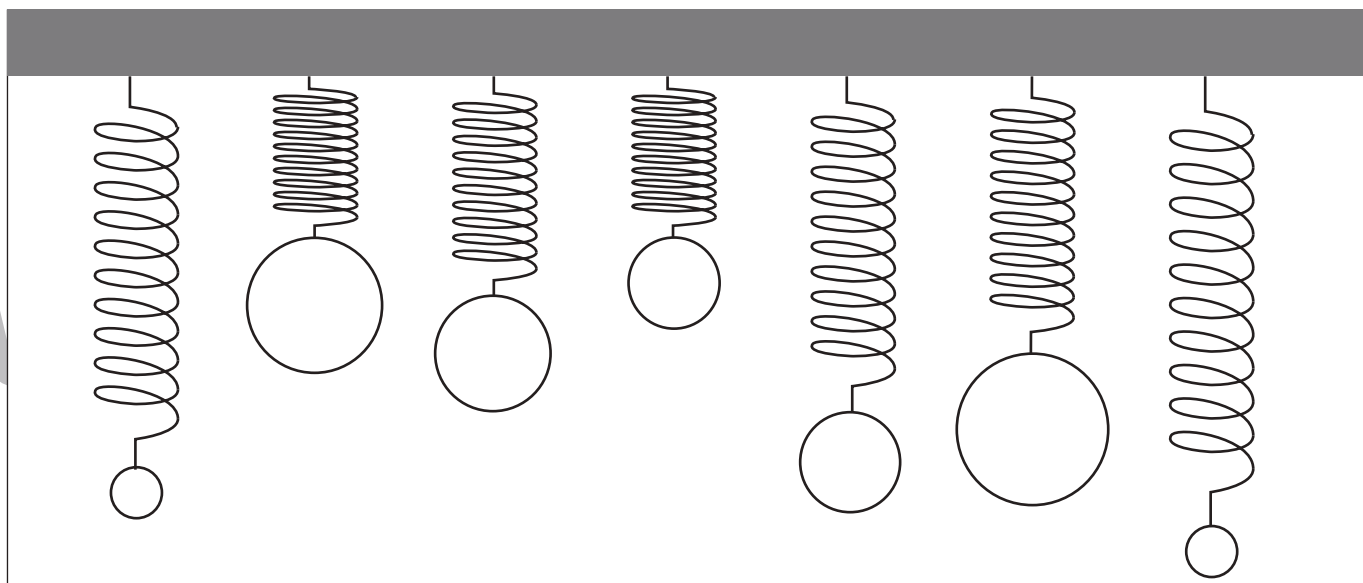
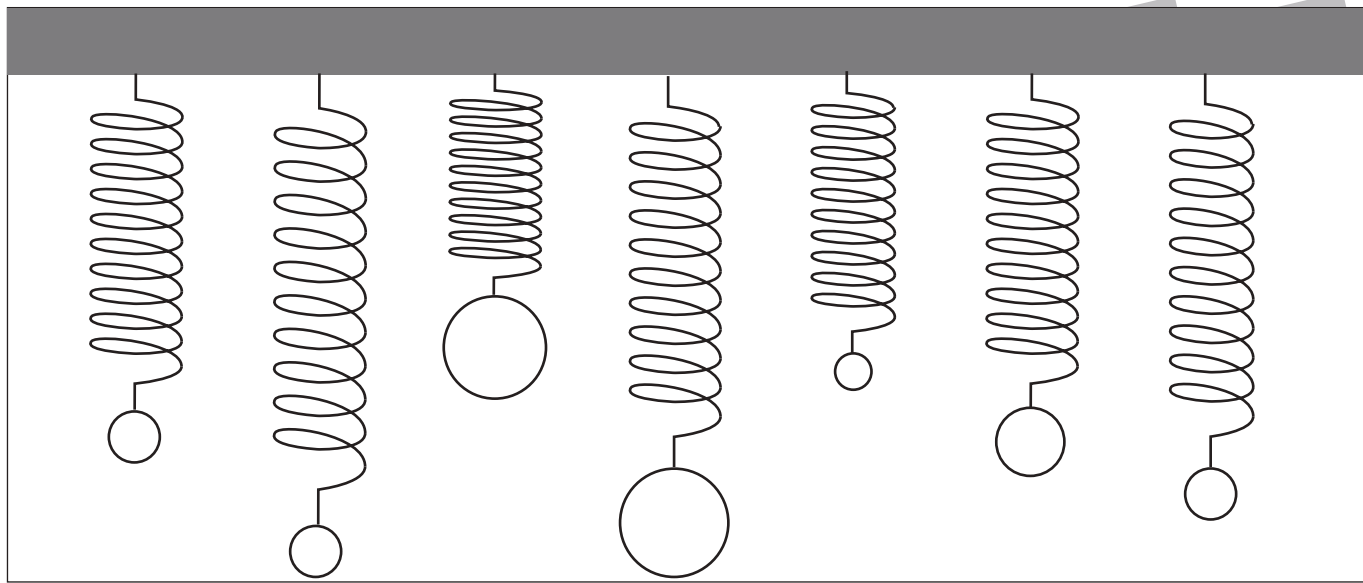


# おうちで、やろう。

Study at home. 小学校受験の家庭学習教材

推理：重さ 17

バネにボールをつるして重さ比べをしました。同じ重さのボールを塗ります。



※1. このプリントは、しながわ・目黒こどもスクールのウェブサイトでダウンロードができます。無断複写・引用はご遠慮ください。

※2. このプリントを活用したオンライン授業のスケジュールは、しながわ・目黒こどもスクールのウェブサイトでご確認ください。


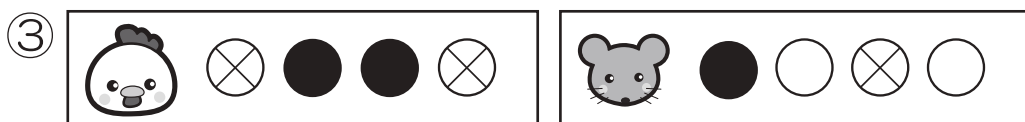
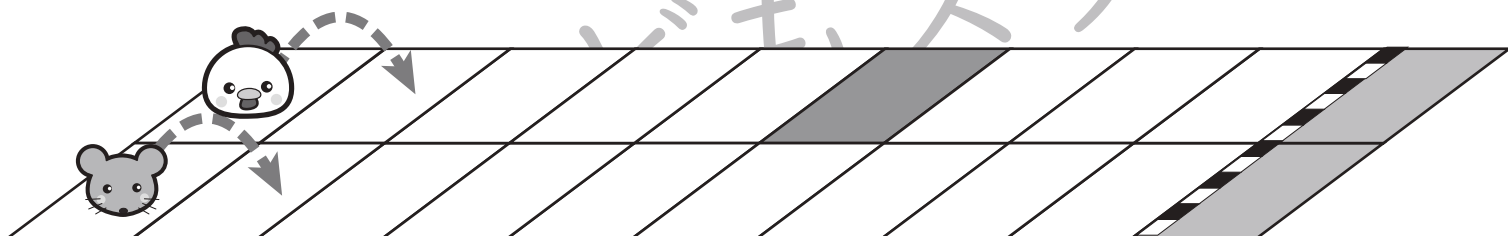


# おうちで、やろう。

Study at home. 小学校受験の家庭学習教材

## 推理：条件推理 17

ニワトリとネズミが競争をします。2匹は箱からボールを取り、出たボールによって進めるマスが決まります。上の太い四角が約束です。右向きはその数だけ進み、左向きはその数だけ戻ります。ニワトリとネズミがそれぞれ絵の右に並んでいるボールが出た時、最後に着いた場所を塗ります。また、たくさん進んだ方に○をつけます。○はスタートの絵につけましょう。



※1. このプリントは、しながわ・目黒こどもスクールのウェブサイトでダウンロードができます。無断複写・引用はご遠慮ください。

※2. このプリントを活用したオンライン授業のスケジュールは、しながわ・目黒こどもスクールのウェブサイトでご確認ください。


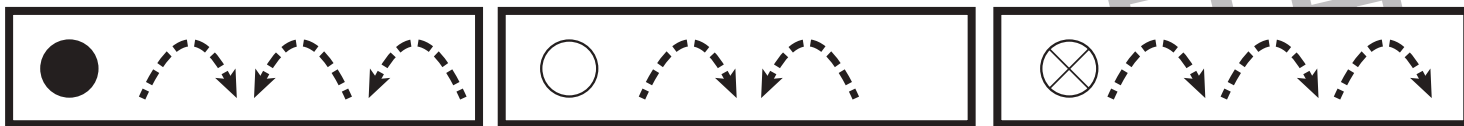


# おうちで、やろう。

Study at home. 小学校受験の家庭学習教材

推理：条件推理 18

ニワトリとネズミが競争をします。2匹は箱からボールを取り、出たボールによって進めるマスが決まります。上の太い四角が約束です。右向きはその数だけ進み、左向きはその数だけ戻ります。ニワトリとネズミがそれぞれ絵の右に並んでいるボールが出た時、最後に着いた場所を塗ります。また、たくさん進んだ方に○をつけます。○はスタートの絵につけましょう。



※1. このプリントは、しながわ・目黒こどもスクールのウェブサイトでダウンロードができます。無断複写・引用はご遠慮ください。

※2. このプリントを活用したオンライン授業のスケジュールは、しながわ・目黒こどもスクールのウェブサイトでご確認ください。





# おうちで、やろう。

Study at home. 小学校受験の家庭学習教材


言語：お話づくり7

2枚の絵でお話づくりをします。1枚目のお友だちが何か起きて2枚の表情にかわります。どんなことがあってお友だちの表情が変わったのか考えてお話を作ってみましょう。保護者の方がお子さまのお話した内容を下に記入してください。

<学習のアドバイス>お友だちの気持ちになって、何があったのかを考えてみましょう。



あなたの考えたお話



あなたの考えたお話

※1. このプリントは、しながわ・目黒こどもスクールのウェブサイトでダウンロードができます。無断複写・引用はご遠慮ください。  
 ※2. このプリントを活用したオンライン授業のスケジュールは、しながわ・目黒こどもスクールのウェブサイトでご確認ください。



# おうちで、やろう。

Study at home. 小学校受験の家庭学習教材



## 言語：お話づくり8

2枚の絵でお話づくりをします。1枚目のお友だちが何かが起きて2枚の表情にかわります。どんなことがあってお友だちの表情が変わったのか考えてお話を作ってみましょう。保護者の方がお子さまのお話した内容を下に記入してください。

<学習のアドバイス>お友だちの気持ちになって、何があったのかを考えてみましょう。



あなたの考えたお話



あなたの考えたお話

※1. このプリントは、しながわ・目黒こどもスクールのウェブサイトでダウンロードができます。無断複写・引用はご遠慮ください。  
 ※2. このプリントを活用したオンライン授業のスケジュールは、しながわ・目黒こどもスクールのウェブサイトでご確認ください。