



# おうちで、やろう。

Study at home. 小学校受験の家庭学習教材

## 図形：構成 39

左の四角の中のマスの灰色の部分をもとの四角の中の形を使ってつくります。星の数だけ、パズルを使って作る時、どのパズルを使えばよいか考えて○をつけます。

 ★ ★	
 ★ ★	
 ★ ★ ★	
 ★ ★ ★	
 ★ ★ ★	

※1. このプリントは、しながわ・目黒こどもスクールのウェブサイトでダウンロードができます。無断複写・引用はご遠慮ください。

※2. このプリントを活用したオンライン授業のスケジュールは、しながわ・目黒こどもスクールのウェブサイトでご確認ください。



# おうちで、やろう。

Study at home. 小学校受験の家庭学習教材

図形：構成 40

左の四角の中がお手本です。右の四角の中の2つを使ってお手本を作るとき正しいものを2つ見つけて○をつけます。右の形は回してもよいですが、裏返しにはいけません。


※1. このプリントは、しながわ・目黒こどもスクールのウェブサイトでダウンロードができます。無断複写・引用はご遠慮ください。

※2. このプリントを活用したオンライン授業のスケジュールは、しながわ・目黒こどもスクールのウェブサイトでご確認ください。

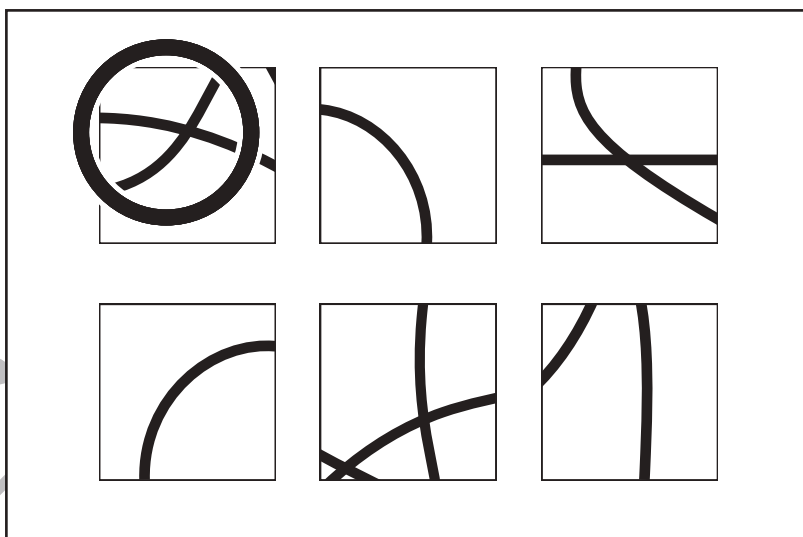


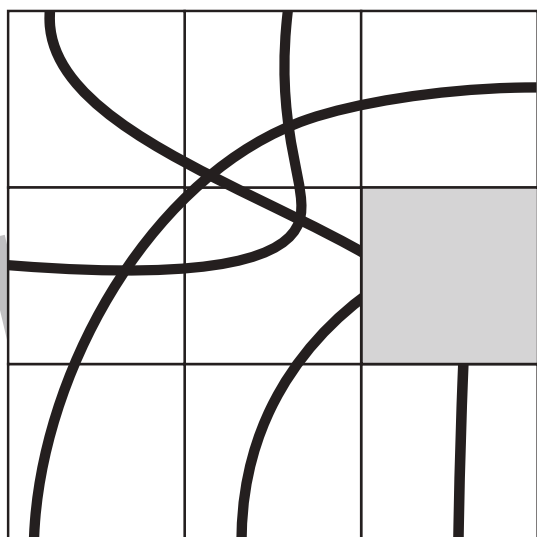

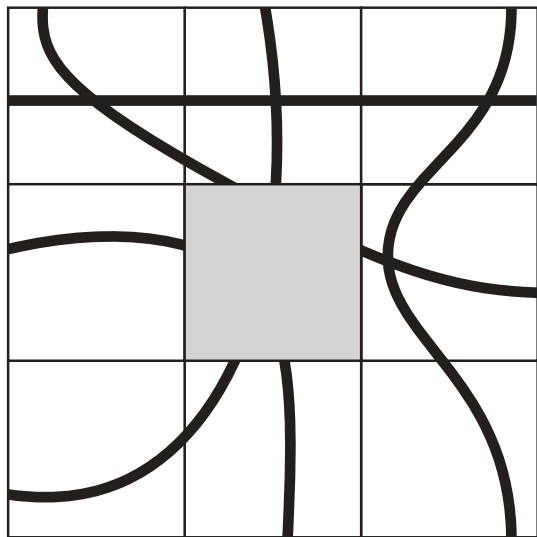


# おうちで、やろう。

Study at home. 小学校受験の家庭学習教材

## 図形：構成 41

左の形は9枚のパズルでできていて、何本か線があります。この線はそれぞれ1本の線でつながっています。このとき、空いている場所に入るパズルを右の中から見つけて○をつけます。



※1. このプリントは、しながわ・目黒こどもスクールのウェブサイトでダウンロードができます。無断複写・引用はご遠慮ください。  
※2. このプリントを活用したオンライン授業のスケジュールは、しながわ・目黒こどもスクールのウェブサイトでご確認ください。

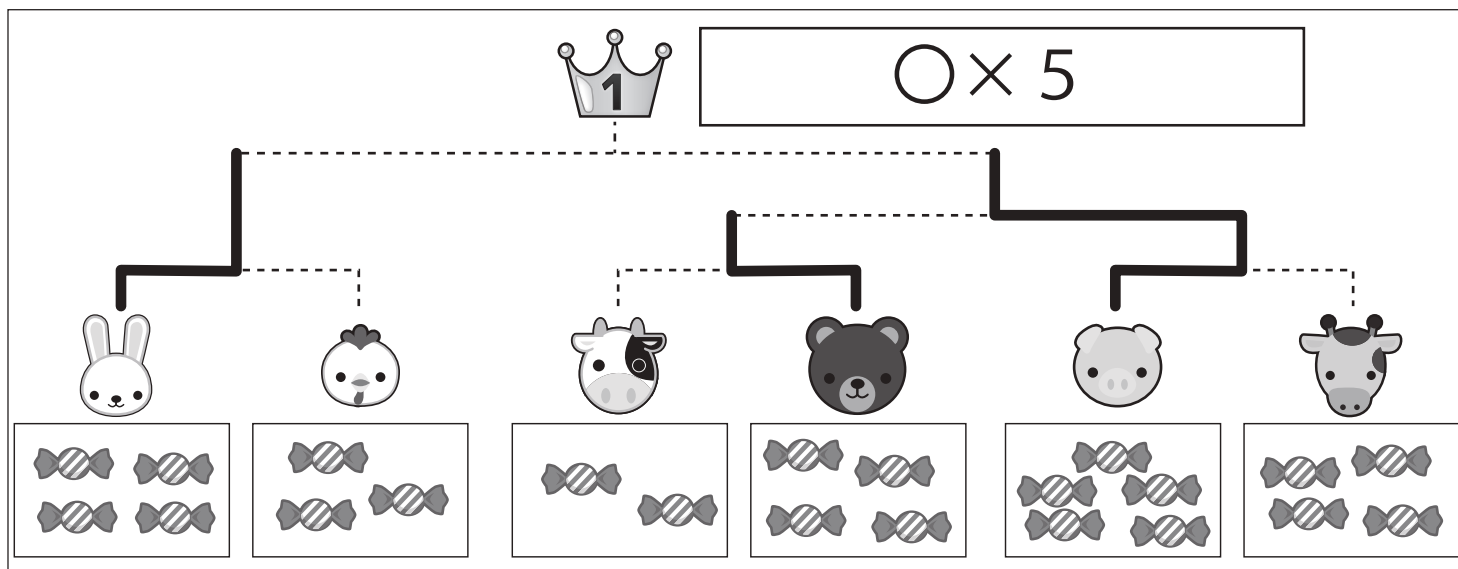
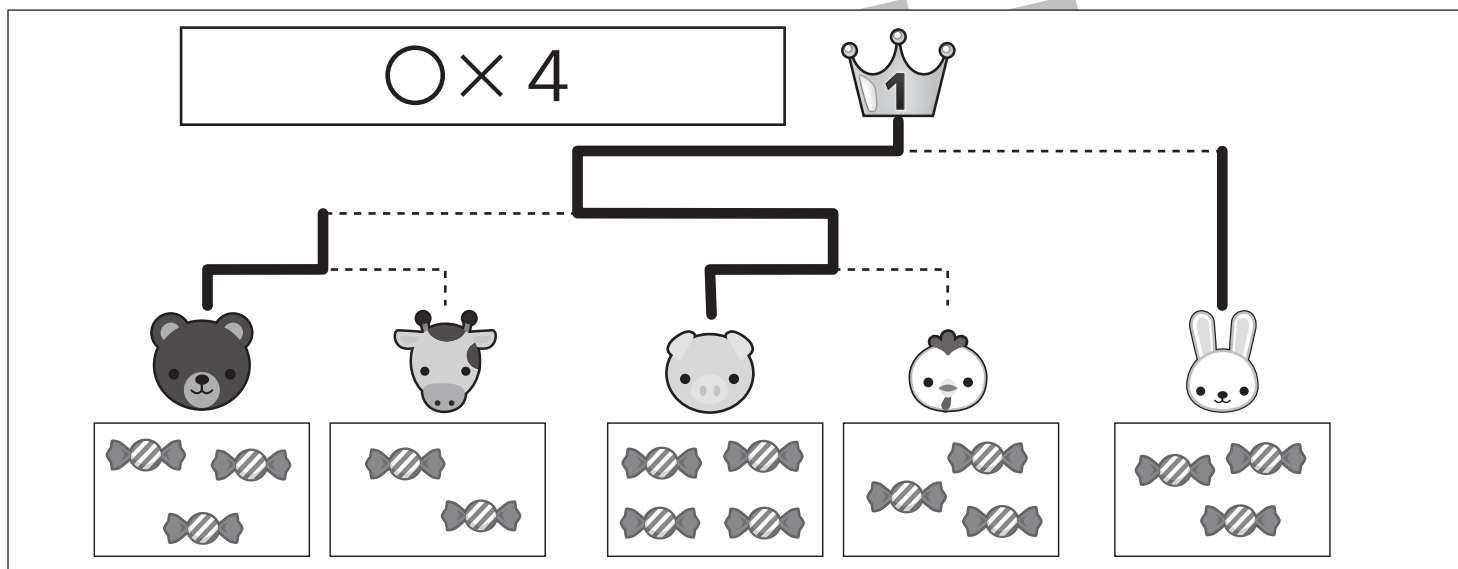
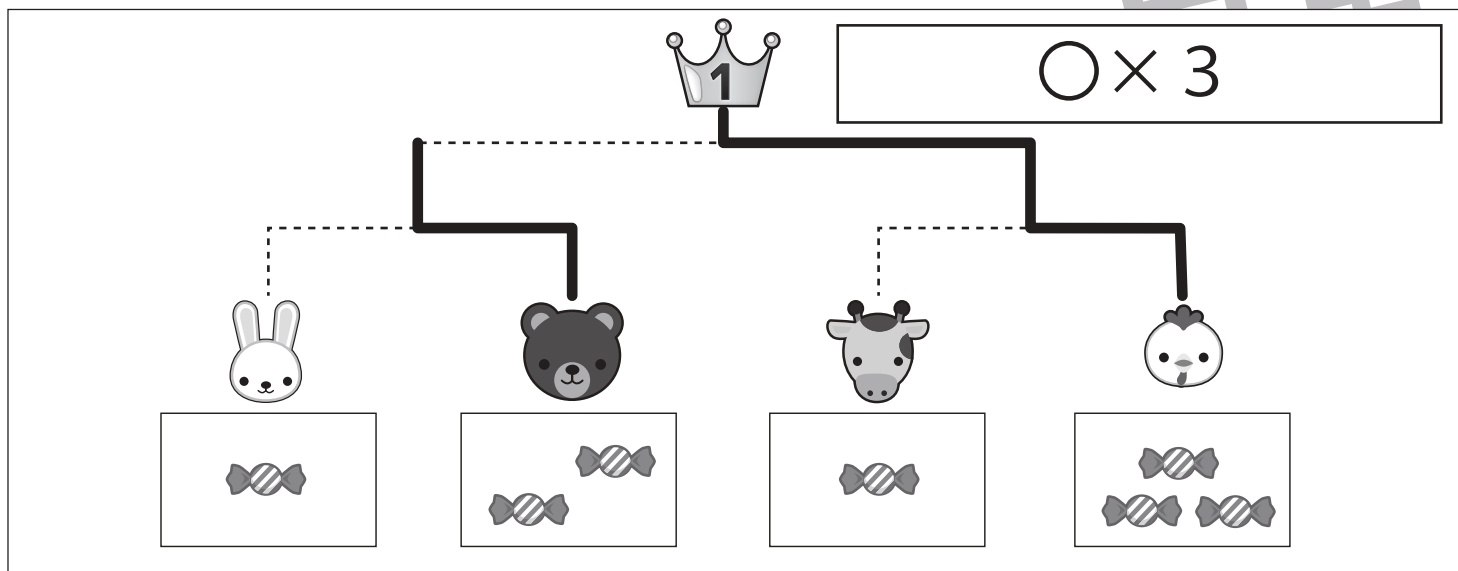


# おうちで、やろう。

Study at home. 小学校受験の家庭学習教材

## 推理：条件推理 19

動物たちがトーナメント勝負をします。トーナメントは点線で結んである2匹の勝負です。勝負はそれぞれの動物たちの持っている飴の数です。飴の数を比べて多い方が勝ちです。勝った動物は次の勝負に進み、点線で結んである動物と勝負します。この約束で順番に勝負をして一番になった動物に○をつけます。そして一番になった動物が持っている飴の数だけ王冠の隣の四角に○をかきます。また、それぞれの動物がどのようにトーナメントを進んだか点線をなぞってみましょう。



※1. このプリントは、しながわ・目黒こどもスクールのウェブサイトでダウンロードができます。無断複写・引用はご遠慮ください。

※2. このプリントを活用したオンライン授業のスケジュールは、しながわ・目黒こどもスクールのウェブサイトでご確認ください。

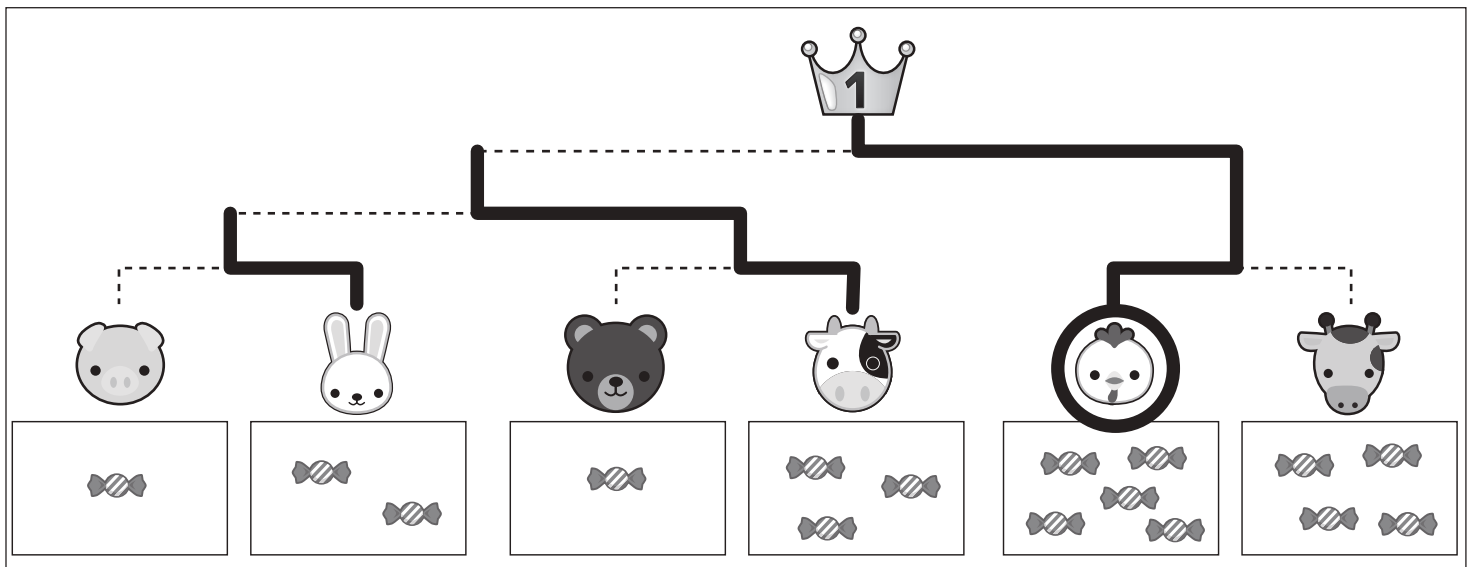
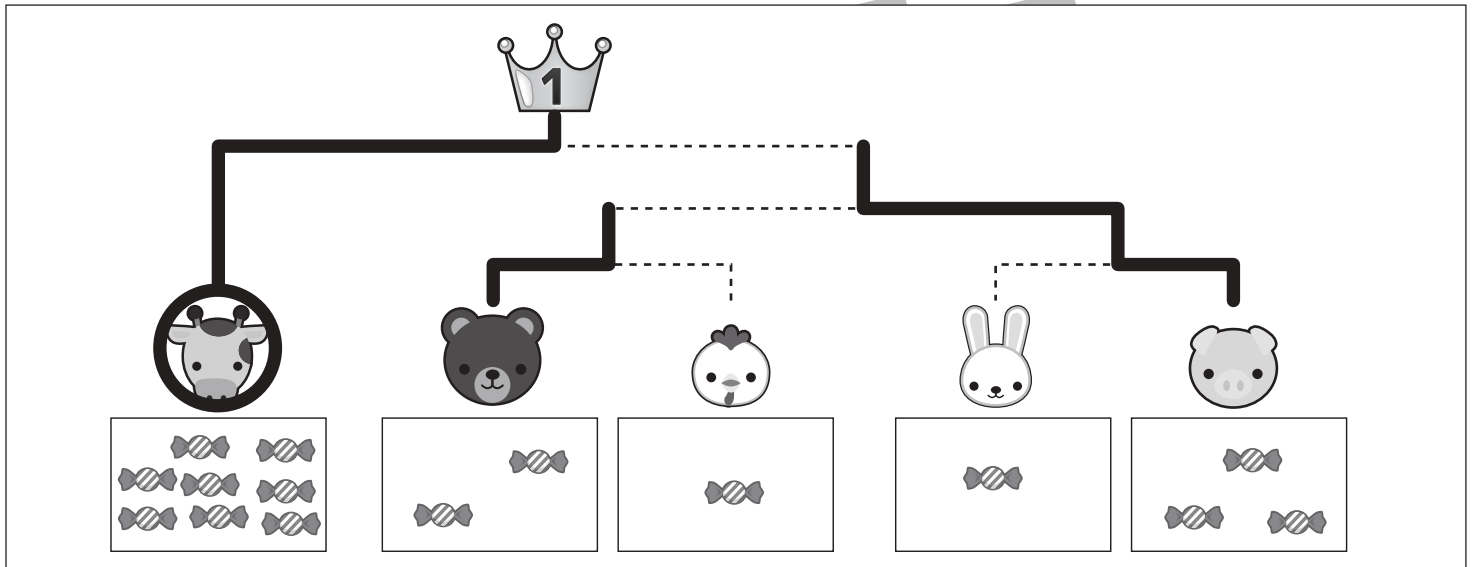
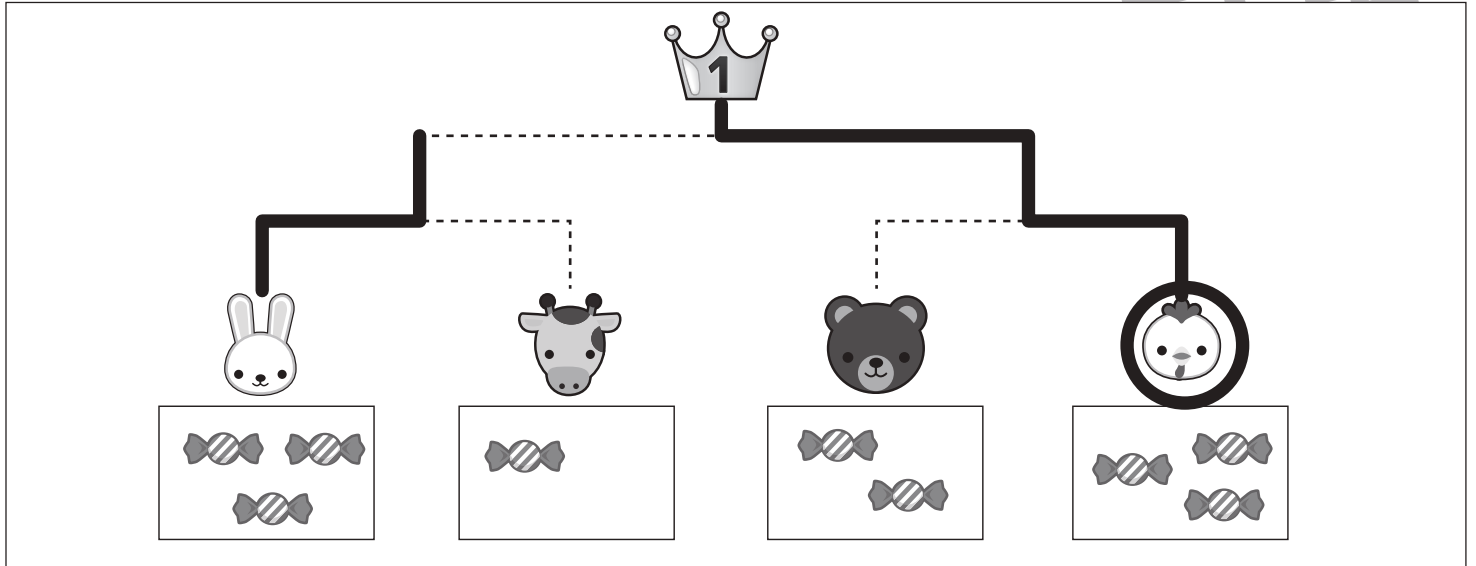


# おうちで、やろう。

Study at home. 小学校受験の家庭学習教材

推理：条件推理 20

動物たちがトーナメント勝負をします。トーナメントは点線で結んである2匹の勝負です。勝負はそれぞれの動物たちの持っている飴の数です。飴の数を比べて多い方が勝ちです。勝った動物は負けた動物の持っている飴をもらって次の勝負に進み、点線で結んである動物と勝負します。この約束で順番に勝負をして一番になった動物に○をつけます。また、それぞれの動物がどのようにトーナメントを進んだか点線をなぞってみましょう。



※1. このプリントは、しながわ・目黒こどもスクールのウェブサイトでダウンロードができます。無断複写・引用はご遠慮ください。

※2. このプリントを活用したオンライン授業のスケジュールは、しながわ・目黒こどもスクールのウェブサイトでご確認ください。

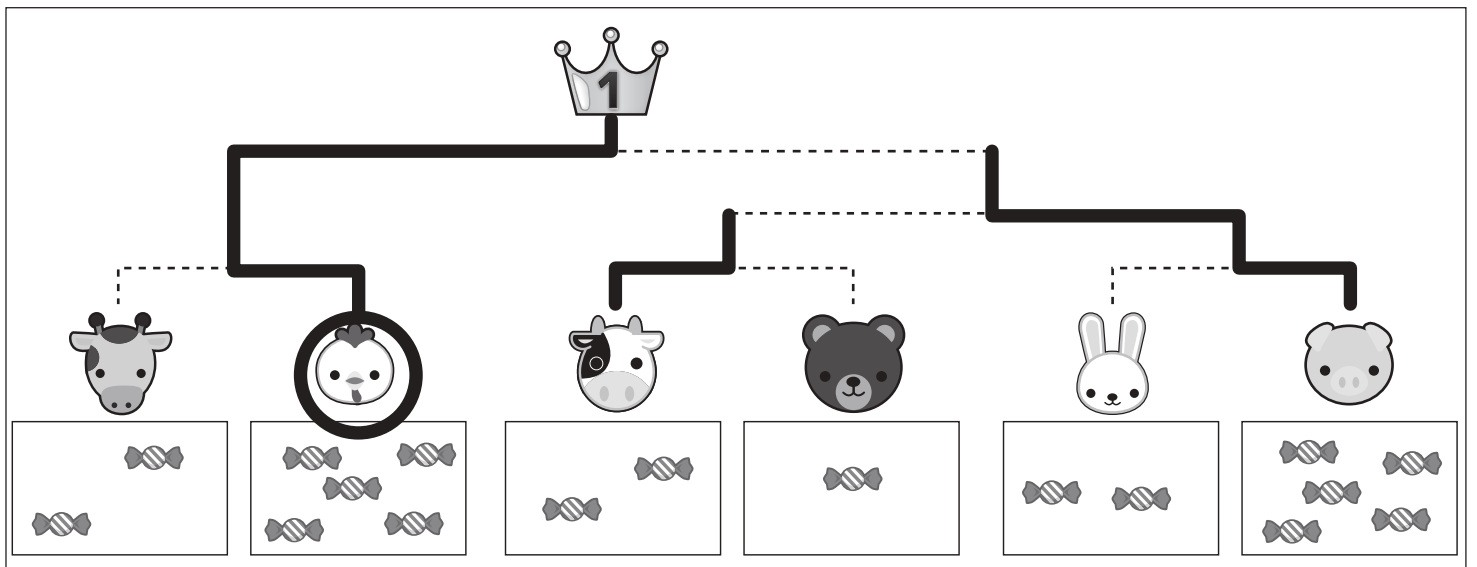
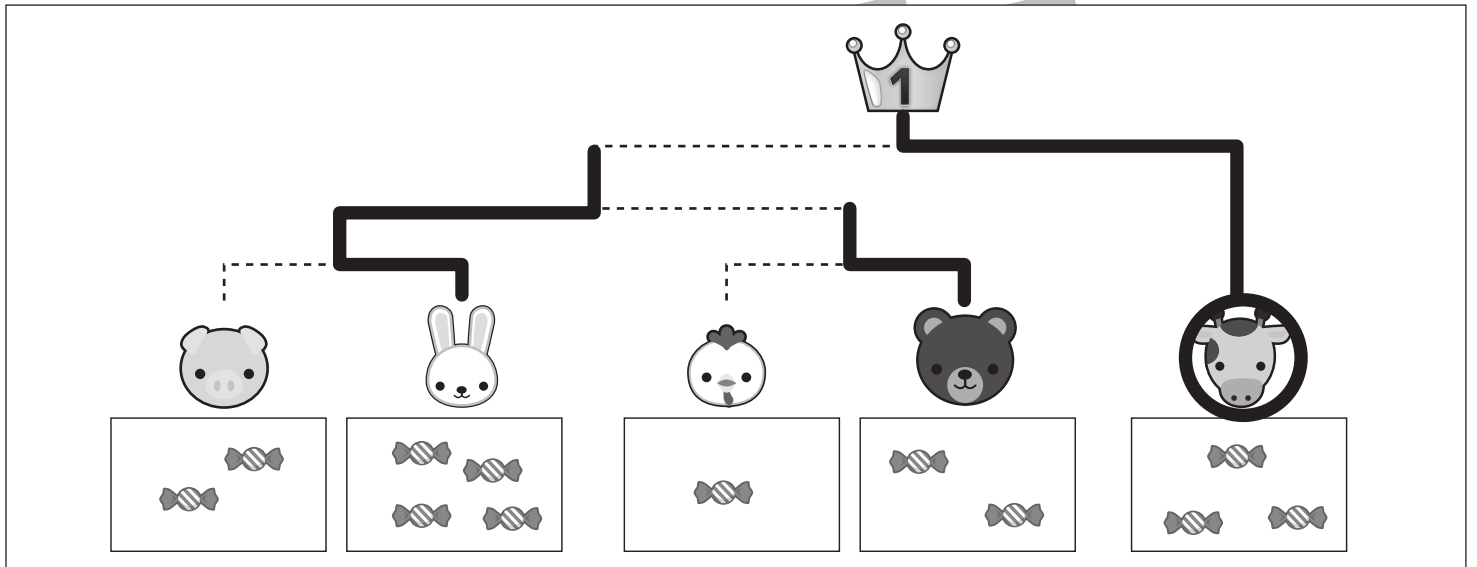
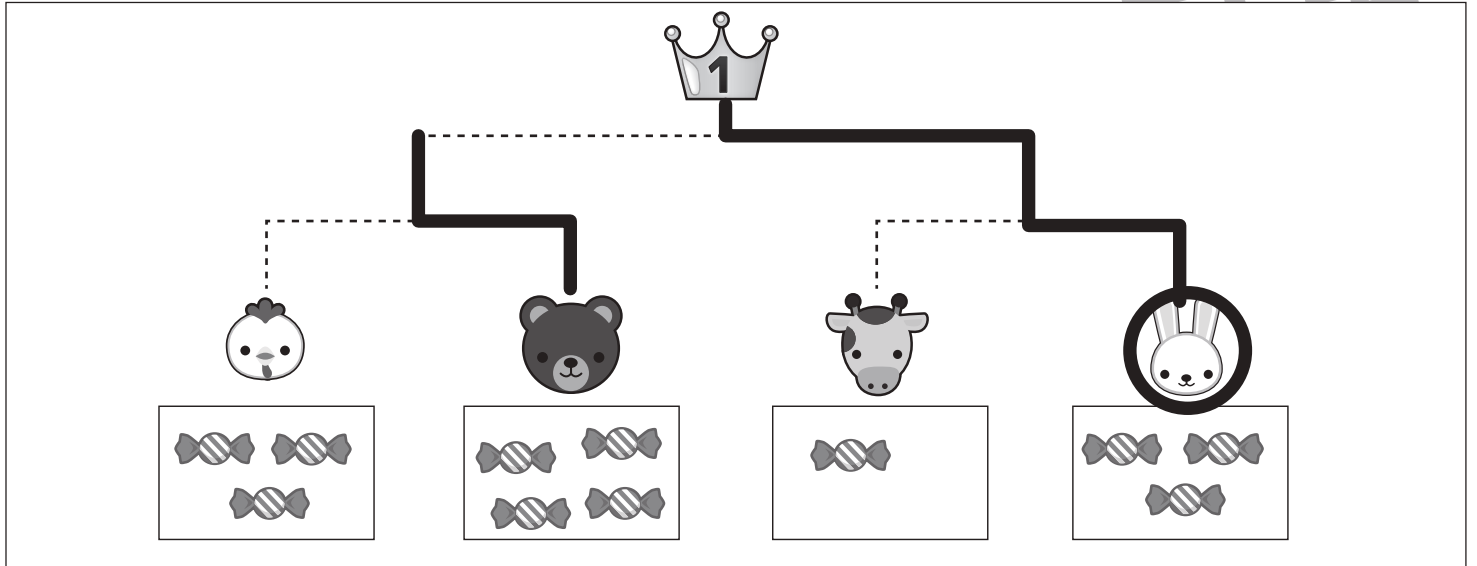


# おうちで、やろう。

Study at home. 小学校受験の家庭学習教材

## 推理：条件推理 21

動物たちがトーナメント勝負をします。トーナメントは点線で結んである2匹の勝負です。勝負はそれぞれの動物たちの持っている飴の数です。飴の数を比べて多い方が勝ちです。勝った動物は負けた動物の飴の数を比べて多い分だけ持って進み、次の点線で結んである動物と勝負します。この約束で順番に勝負をして一番になった動物に○をつけます。また、それぞれの動物がどのようにトーナメントを進んだか点線をなぞってみましょう。



※1. このプリントは、しながわ・目黒こどもスクールのウェブサイトからダウンロードできます。無断複写・引用はご遠慮ください。

※2. このプリントを活用したオンライン授業のスケジュールは、しながわ・目黒こどもスクールのウェブサイトでご確認ください。

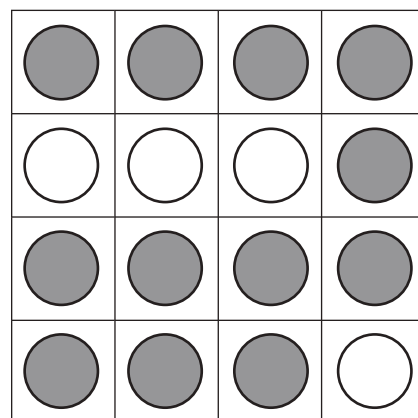

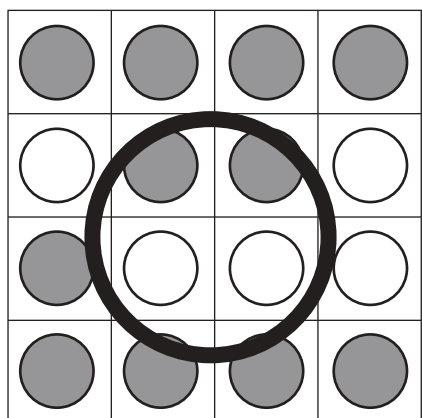
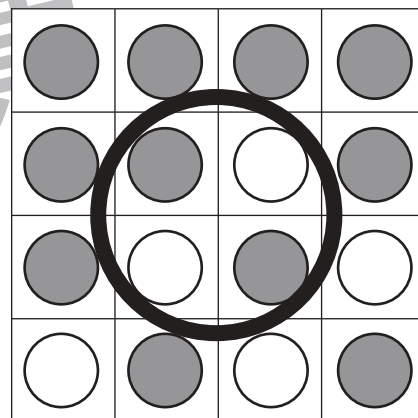
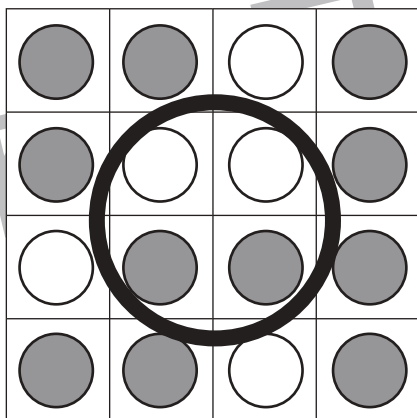


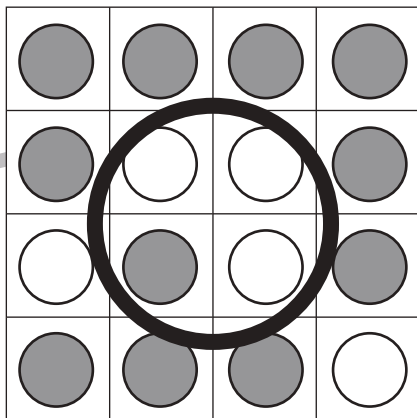
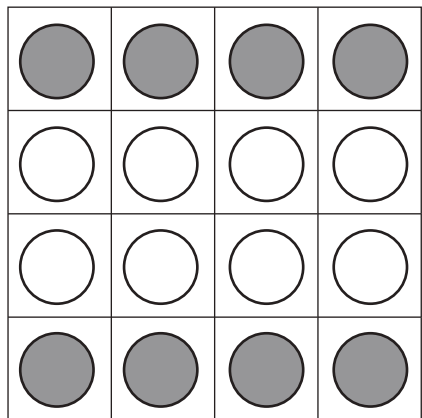


# おうちで、やろう。

Study at home. 小学校受験の家庭学習教材

数量：計数 28

それぞれの四角のマスには白丸と灰色の丸が並んでいます。  
白い丸の数が5つのものを探して○をつけます。



※1. このプリントは、しながわ・目黒こどもスクールのウェブサイトでダウンロードができます。無断複写・引用はご遠慮ください。  
 ※2. このプリントを活用したオンライン授業のスケジュールは、しながわ・目黒こどもスクールのウェブサイトでご確認ください。

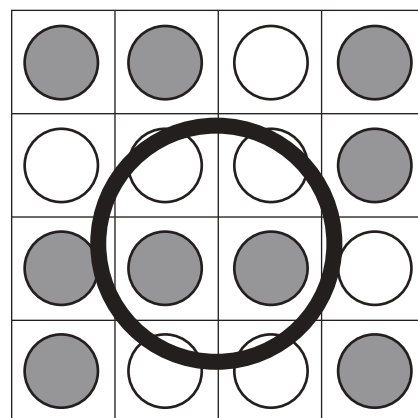

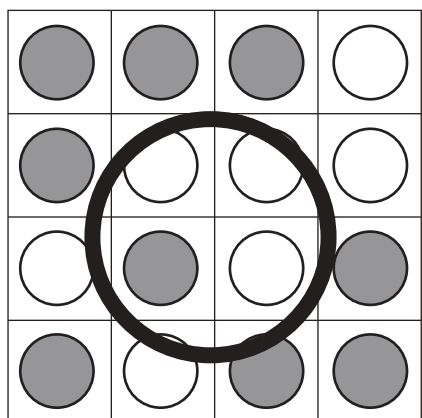
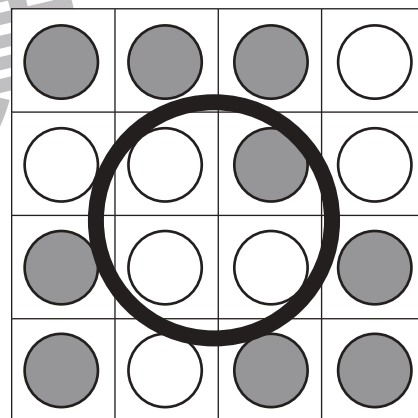


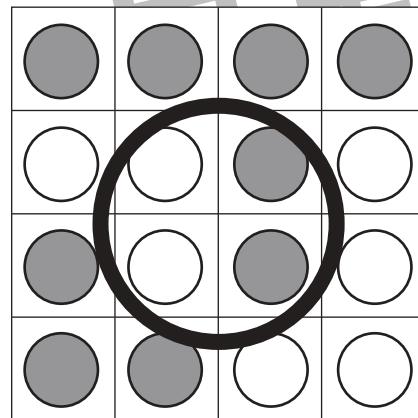




# おうちで、やろう。

Study at home. 小学校受験の家庭学習教材

数量：計数 29

それぞれの四角のマスには白丸と灰色の丸が並んでいます。  
白い丸の数が7つのもを探して○をつけます。



※1. このプリントは、しながわ・目黒こどもスクールのウェブサイトでダウンロードができます。無断複写・引用はご遠慮ください。  
 ※2. このプリントを活用したオンライン授業のスケジュールは、しながわ・目黒こどもスクールのウェブサイトでご確認ください。



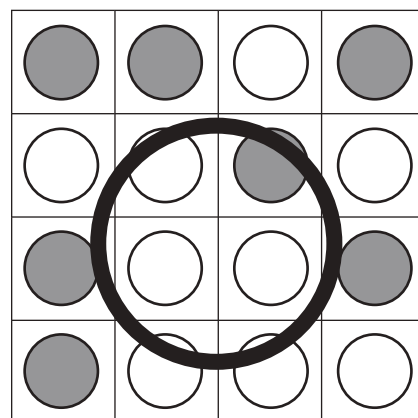
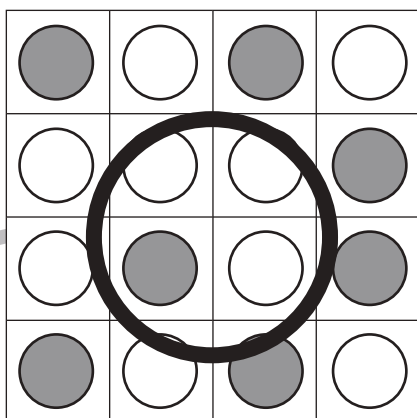



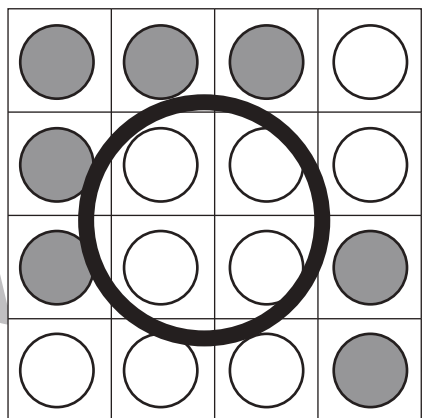

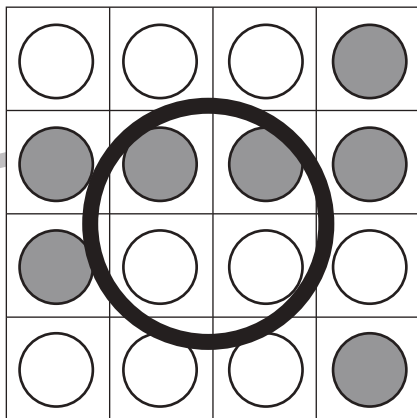



# おうちで、やろう。

Study at home. 小学校受験の家庭学習教材

数量：計数 30

それぞれの四角のマスには白丸と灰色の丸が並んでいます。  
白い丸の数が9つのものを探して○をつけます。



※1. このプリントは、しながわ・目黒こどもスクールのウェブサイトでダウンロードができます。無断複写・引用はご遠慮ください。  
 ※2. このプリントを活用したオンライン授業のスケジュールは、しながわ・目黒こどもスクールのウェブサイトでご確認ください。